

## 結びつく世界と日本

1 次の文章を読んで、あとの問いに答えなさい。

第二次世界大戦の末期に連合国の大蔵大臣がアメリカ北東部の小村に集まって戦後の国際経済における通貨体制について協議した。この体制は協議の行われた場所にちなんでブレトン＝ウッズ体制と呼ばれている。その柱になる二つの協定は IMF協定と国際復興開発銀行（IBRD）協定である。

ブレトン＝ウッズ体制はドルを中心とした（ 1 ）であった。1960年代アメリカ経済の地位の低下と、多くのドルの海外流失によって、ドルの価値が大きく下がった。1971年、アメリカの大統領がドル防衛緊急対策として、（ 2 ）を停止させ、世界に大きなショックを与えた。これは大統領の名前にちなんで（ 3 ）と呼ばれている。それまでの（ 1 ）は事実上崩壊した。同年12月（ 1 ）の維持をめざして主要先進国の蔵相たちがワシントンの博物館に集まって協議した。これがスミソニアン協議である。しかし外国為替市場の混乱は止まず、先進諸国は全面的に（ 4 ）に移行した。日本も1973年に（ 4 ）へ移行した。1980年代前半、レーガン大統領がドル高を維持させたため、その弊害が大きくなってきた。その対策として1985年、プラザ合意によって、ドル高是正に向けての協調介入が行われた。しかし、その後も「日本の貿易黒字、アメリカの貿易赤字」基調に大きな変化がなく、円高傾向が強まってきたのである。

また、1993年にはヨーロッパ連合（EU）が発足し、1999年、共通の通貨である（ 5 ）が導入され、2002年1月からは市中での流通が開始された。

第二次世界大戦後の国際経済における貿易の自由化にとって最も大きな役割を果たしたのが（ 6 ）である。1948年の発足以来、加盟国は相互に関税引き下げを行い、貿易自由化を推進してきた。特に1967年に合意されたケネディラウンドでは大幅な関税引き下げが図られた。しかし、まだ関税以外の制限措置（非関税障壁）が貿易を妨げる要因として残っていた。1973年の東京ラウンドでは関税の引き下げとともに非関税障壁の分野での協議も行われた。また1986年の（ 7 ）では従来の（ 6 ）に欠けていたサービス貿易に関する規定および知的所有権の保護に関する規定などが協議された。この協議は1993年12月にようやく決着した。1995年には（ 6 ）は大幅に変革され、新たに（ 8 ）が設立された。

問1 文中の（ 1 ）～（ 8 ）に適する言葉を次の語群ア～コから選び、記号で答えなさい。

- |                       |               |             |
|-----------------------|---------------|-------------|
| ア 変動為替相場制             | イ 世界貿易機関（WTO） | ウ ユーロ       |
| エ 固定為替相場制             | オ ニクソンショック    |             |
| カ 関税と貿易に関する一般協定（GATT） | キ オイルショック     |             |
| ク 金とドル交換              | ケ 東京ラウンド      | コ ウルグアイラウンド |

問2 下線部 に関連して、IMFの正式名称は何といいますか、漢字6字で答えなさい。

問3 下線部 に関連して、このとき日本の円は1ドルに対していくらと決められましたか、その金額を円で答えなさい。

問4 下線部 に関連して、このようなことになったのはどのようなことからですか、その理由としてあてはまらないものを次をア～オの中から2つ選び、記号で答えなさい。

- ア ヨーロッパ復興への資金を提供した
- イ 発展途上国への援助が増えた
- ウ ベトナム戦争に介入した

- エ 世界平和が実現し、軍事費が大幅に減少した
- オ 海外からの輸入が増えた

問5 下線部 に関連して、プラザ合意によって日本は内需拡大を諸外国から求められるようになり、そのために日本銀行は低金利政策をとりました。その結果、日本経済は空前の好景気となりました。この好景気を何と言いますか。名称を答えなさい。

問6 下線部 に関連して、日本の貿易黒字が大きくなるとなぜ円高になるのですか。理由として適当なものを、次のア～エから1つ選び、記号で答えなさい。

- ア 外国から多くのドルが入ってきて、人々がドルを欲しがるから
- イ 輸出代金のドルを日本国内で円に換える必要があるから
- ウ 多くの観光客が海外から日本を訪れ、ドルを使ったから
- エ 新しいデザインの日本の紙幣が発行され、外国の人々が収集を始めたから

問7 下線部 に関連して、いま日本の投資家が1億円のお金を日本の銀行に預けるか、アメリカの銀行に預けるかを考えているとします。次の問いに答えなさい。

- (1) いま為替レートが1ドル100円として、金利が6%のアメリカの銀行に預けたとすると1年後の元本と利子をあわせた金額は、ドルで換算していくらになりますか。金額を答えなさい。
- (2) 日本の銀行に預けたとき、その金利が年3%であるとして、1年後、元本と利子をあわせた金額はいくらになりますか。金額を答えなさい。
- (3) 1年後、ドルが90円になったとすれば、(1)のアメリカの銀行に預けた場合と、(2)の日本の銀行に預けた場合とを比較した場合、どちらがどれだけ多くお金を得られますか。次のア～エから適当なものを選び、記号で答えなさい。

- ア 日本の銀行に預けた場合に、300万円多く得られる。
- イ 日本の銀行に預けた場合に、760万円多く得られる。
- ウ アメリカの銀行に預けた場合に、300万円多く得られる。
- エ アメリカの銀行に預けた場合に、760万円多く得られる。

問8 下線部 に関連して、共通の通貨( 5 )が導入されたことによって、人々はどのような影響を受けましたか。次のア～エのうちその影響と思われるものをすべて選び、記号で答えなさい。

- ア EU加盟国を旅行するとき、各国の通貨に両替する必要がなくなり、手数料がかからなくなった。
- イ ものやサービスの値段が同じ単位で表示されるので、国による価格差がはっきりしてあらゆる商品は国境を越えた競争にさらされ、しだいに価格が統一された。
- ウ EU加盟国以外の国との貿易においては、関税を低くしてEU加盟国以外の国々も自由にEU内で貿易できるようになった。
- エ 為替<sup>かわせ</sup>の変動による損失を受けなくなった。

(サレジオ学院中学校)

2 次の問いに答えなさい。

問1 下の表は、日本が世界各国から輸入している品物を、量が多い国および地域の順にまとめたものです。ア～カにあてはまる品物を、1～7から選び、数字で答えなさい。

- 1 原油    2 石炭    3 鉄こう石    4 木材

5 肉類 6 衣類 7 乗用自動車

問2. 下にあげた5つの国の中に、日本への輸出額より日本からの輸入額のほうが多い国が1つだけあります。その国を選び、数字で答えなさい。

1 オーストラリア 2 中国 3 サウジアラビア 4 カナダ 5 大韓民国

	1位	2位	3位
ア	アメリカ合衆国	台湾	オーストラリア
イ	オーストラリア	ブラジル	インド
ウ	アラブ首長国	サウジアラビア	イラン
エ	中国	イタリア	大韓民国
オ	ドイツ	アメリカ合衆国	イギリス
カ	アメリカ合衆国	カナダ	マレーシア

(学習院女子中等科)

3 皆さんは買い物をするときにはお金を払いますよね。では、外国、たとえばアメリカで買い物をするときには払うお金は何でしょうか。

日本の<sup>つうか</sup>通貨は「円」、アメリカの通貨は「ドル」です。アメリカのたいていのお店では「ドル」で支払いをします。ですからアメリカへ行く時は、「円」を「ドル」に換えて持って行くことになります。また、1ドル=1円でないことも皆さん知っていますね。戦後、日本の「円」は連合国により、1ドル=360円と決められてしまいました。しかし、日本経済は戦後、を機に急速に発展し戦前の水準まで回復し、<sup>b</sup>1900年代後半にはアメリカに次ぐ第2位の<sup>c</sup>GNPを達成しました。そこで、「円」は1973年から1ドルは、<sup>d</sup>その日の相場によって変わるようになりました。

(1) 文中の空らんにあてはまる語句を答えなさい。

(2) 下線部aについて、次の問いに答えなさい。

2002年1月1日からヨーロッパ連合加盟国のうち12ヶ国で、共通通貨が一般に使用されました。その通貨を何といいますか。

この共通通貨の記号を例にならって書きなさい。 例：円 ￥ ドル \$

(3) 下線部bについて、この時期に経済が急速に発達しました。この時期を何といいますか。

(4) 下線部cについて、何の略称ですか。答えなさい。

(5) 下線部dについて、次の文の ~ の正しい方を選び、記号で答えなさい。

1ドル=120円が1ドル=100円のように、1ドルに対する円の値段が (ア 上がる イ 下がる)ということは円の価値が (ア 上がっている イ 下がっている)ということだから、(ア 円高 イ 円安)になったといえます。

逆に1ドル=100円が1ドル=120円のように1ドルに対する円の値段が (ア 上がる イ 下がる)ということは、円の価値が (ア 上がっている イ 下がっている)ということだから、(ア 円高 イ 円安)になっているということになります。

(国府台女子学院中学部 一部略)

4 日本とオーストラリアに関連するあとの問いに答えなさい。

問1 オーストラリアの面積(約770万km<sup>2</sup>)は日本の面積の約何倍ですか。最も近いものの中から選び、記号で答えなさい。

- ア 5倍    イ 10倍    ウ 15倍    エ 20倍    オ 25倍

問2 オーストラリアの人口(約1800万人)に最も近い人口を持つ地域を下から選び、記号で答えなさい。

- ア 東京50キロ圏    イ 大阪50キロ圏    ウ 名古屋50キロ圏

問3 日本は外国から多くのものを輸入しています。下の7つの輸出品目のうち、オーストラリアを第1の輸入相手国とするものを3つ選び、記号で答えなさい。

- ア 肉類    イ 小麦    ウ 木材    エ 羊毛    オ 原油    カ 鉄鉱石    キ 石炭

問4 オーストラリアの首都はどこですか。下から選び記号で答えなさい。

- ア ニューヨーク    イ ロンドン  
ウ キャンベラ    エ パリ    オ ベルリン

問5 右のオーストラリアの地図を見て、あとの問いに答えなさい。



東経140度に最も近い日本の都市はどこですか。下から選び記号で答えなさい。

- ア 札幌市    イ 仙台市  
ウ 東京23区    エ 名古屋市  
オ 大阪市

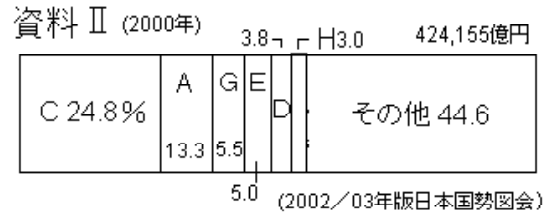
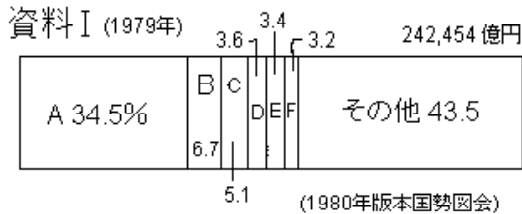
北緯35度に最も近い日本の都市はどこですか。下から選び、記号で答えなさい。

- ア 仙台市    イ 東京23区    ウ 京都市  
エ 広島市    オ 鹿児島市

問6 西暦2000年に夏期オリンピックが行われたのオーストラリア最大の都市はどこですか。

(鎌倉学園中学校)

5 次の資料 , は、それぞれ、1979年と2001年の日本のおもな輸入品の輸入額の割合を示したものです。資料 , 中のA~Hには、それぞれ、下のア~クのいずれかがあてはまります。資料 , 中の二つのAに共通してあてはまるものを、ア~クの中から一つ選び、その記号を書きなさい。



- ア 魚介類    イ 機械類    ウ 精密機械    エ 液化ガス    オ 石炭  
カ 石油    キ 衣類    ク 木材

(西武学園文理中学校)

6 外国から日本への主な輸出品目と輸出額（2000年）です。韓国にあたるものを選び、記号で答えなさい。他は、アメリカ合衆国、オーストラリア、中国です。

輸出額の単位は百万円

ケ	主な輸出品目	輸出額	%
	衣類	1,580,480	26.6
	機械類	1,311,150	22.1
	魚かい類	257,388	4.3
	はきもの	194,218	3.3
	精密機械	180,697	3.0
	野菜	163,062	2.7

輸出総額5,941,358

コ	主な輸出品目	輸出額	%
	機械類	856,710	38.9
	うち集積回路	287,778	13.1
	コンピュータ	263,523	12.0
	石油製品	353,412	16.0
	鉄鋼	137,625	6.2
	魚かい類	115,378	5.2

輸出総額2,204,703

サ	主な輸出品目	輸出額	%
	機械類	2,967,874	38.2
	うち集積回路	557,768	7.2
	コンピュータ	541,783	7.0
	肉類	373,007	4.8
	精密機械	369,691	4.8
	たばこ	273,780	3.5

輸出総額7,778,861

シ	主な輸出品目	輸出額	%
	石炭	343,920	21.6
	液化天然ガス	182,202	11.4
	鉄鉱石	165,256	10.4
	肉類	119,611	7.5
	アルミニウム	106,375	6.7
	原油	79,982	5.0

輸出総額1,595,908

(2002 / 2003 「日本国勢図会」 国勢社)

(筑波大学附属)

7 次の、生徒から先生への手紙を読んで、あとの問いに答えなさい。

先生ごきげんよう。私は先日、黒柳徹子さんが書いた、『トットちゃんとトットちゃんたち』という本を読みました。黒柳さんは、ユニセフの親善大使として、ボスニア＝ヘルツェゴビナ・インド・イラク・アンゴラなど、多くの国へ行ったそうです。私の知らない国もあったので、地図をみてみました。

先生は以前、「戦後は アメリカと ソ連が 対立していた」とおっしゃっていましたね。でもこの本からは、それは感じられませんでした。今は発展途上国の、貧しさからくる戦争と、食糧不足が、国際社会の大きな課題のようです。写真もいろいろのっていて、ショックを受けました。

これらの国々に対して、日本は 国として援助をしていますし、非政府組織と呼ばれる民間団体も、さまざまな活動をしています。私は 今の生活をふりかえって、自分は何をしたらいいのか、ちょっと悩んでしまいました。先生はどうですか？ では、お元気で。またお目にかかる日を楽しみにしております。

1 下線 にユニセフとありますが、これは、国連 基金のことです。 にあてはまる語句を漢字で書きなさい。

2 下線 のイラクをはじめとして、西アジアやアフリカ北部などで広く信仰されている宗教があり

ます。断食をするなどの特色をもつ、この宗教の名前を答えなさい。

3 下線 に地図とありますが、地図には、いくつかの「きまり」があります。これについて、次の説明の中でまちがっているものはどれですか。1つ選び、記号で答えなさい。

- ア 特に表示がないときは、上が北となる。
- イ 赤道の緯度は0度である。
- ウ 日付変更線は、太平洋を通っている。
- エ 日本の標準時子午線は東京を通っている。

4 下線 に戦後とありますが、この戦争とは第二次世界大戦のことです。この時、日本の2つの都市に原子爆弾が落とされました。それは、どこどこですか。落とされた順に答えなさい。

5 下線 のアメリカから、日本は多くのものを輸入しています。右のグラフは、ある品目の、日本の輸入相手国です。その品目は何ですか。次の中から正しいものを1つ選びなさい。


輸入相手国別割合 (2000年)

アメリカ 50.8%	カナダ 29.5	オーストラリア 19.7
---------------	-------------	-----------------

- ア 小麦
- イ 羊毛
- ウ 木材
- エ 原油

6 右は、アメリカの貿易についてのグラフです。次のア・イの文のうち、このグラフからみて、正しいといえるものには を、どちらともいえないものには を、明らかにまちがっているものには×をつけなさい。

アメリカの貿易相手国 (1998年)



ア アメリカはカナダに対して、輸入額より輸出額の方が大きい。

イ メキシコにとって、アメリカは最大の貿易相手国である。

7 下線 について、1985年から1991年にかけて、旧ソ連では大きな変化がありました。このことについて述べた次の文のうち、正しいものはどれですか。1つ選び、記号で答えなさい。

- ア この改革は、プーチン大統領を中心にするめられた。
- イ 旧ソ連から独立した国の多くは、独立国家共同体(CIS)をつくっている。
- ウ 改革に反対する人々が、改革をすすめるゴルバチョフ大統領を暗殺した。
- エ 経済のしくみが、資本主義から社会主義にかわった。

8 下線 に対立とあるように、かつては米ソ対立が原因で、さまざまな事件が起こりました。その例として、最もふさわしいものはどれですか。次の中から1つ選び、記号で答えなさい。

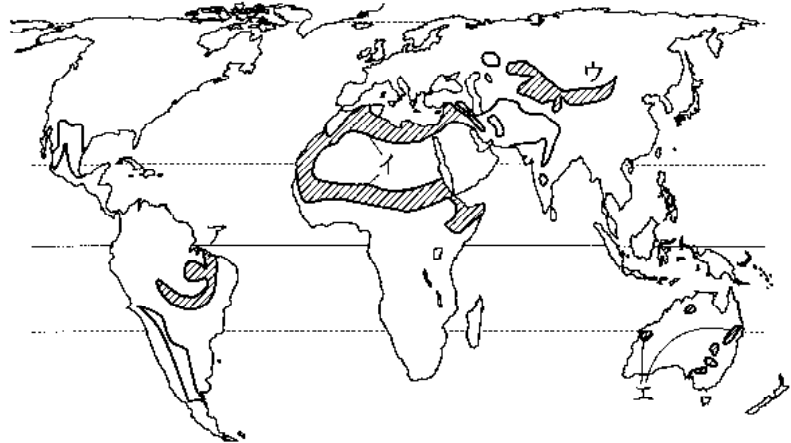
- ア 朝鮮半島の2か国が、同時に国連に加盟した。
- イ ベルリンに壁が築かれた。
- ウ アセアン(ASEAN)が結成された。
- エ アパルトヘイトが行われた。

9 下線 に、食糧不足とありますが、その理由の1つには、さばく化が進んでいることがあげられます。地図中ア～エのうち、さばく化がみられないところはどこですか。1つ選び、記号で答えなさい。

10 下線 について，日本でこのような仕事を担当している省の，大臣の氏名を，漢字で答えなさい。

11 下線 の，非政府組織の例として，正しいものはどれですか。1つ選び，記号で答えなさい。

- ア 世界保健機関
- イ 国際赤十字
- ウ 国際通貨基金
- エ 国際労働機関



12 下線 に，今の生活とありますが，2002年におこった日本のできごととして，正しいものはどれですか。次の中から1つ選び，記号で答えなさい。

- ア たばこへの増税がきまった。
- イ 急激なインフレーションがおこった。
- ウ 日本人が2名，ノーベル平和賞を受賞した。
- エ イラクに対する空爆に参加した。

(大妻中学校)

【解答】

1

問1 1エ 2ク 3オ 4ア 5ウ 6カ 7コ 8イ

問2 国際通貨基金 問3 360円 問4 ア・エ 問5 バブル景気

問6 イ 問7 (1)106万ドル (2)1億300万円 (3)イ 問8 ア・イ・エ

2

問1 ア5 イ3 ウ1 エ6 オ7 カ4

問2 5

3

(1) 朝鮮戦争 (2) ユーロ € (3) 高度経済成長 (4) 国民総生産

(5) イ ア ア ア イ イ

4

問1 エ 問2 ア 問3 エ・カ・キ 問4 ウ 問5 ウ ウ

問6 シドニー

5

答え カ

6

答え コ

7

1 児童 2 イスラム教 3 エ 4 広島・長崎 5 ア 6 ア× イ

7 イ 8 イ 9 ア 10 川口順子(外務省なので外務大臣の名を答える。)

11 イ 12 ア