

## 国際連合と平和

1 次の文を読み，A，Bの問いに答えなさい。

国際連合は，( )年に成立しました。初めに参加したのは，( )か国でしたが，今では190か国以上になりました。国際連合には，すべての加盟国が出席して開かれる a ( )のもとに，世界の平和と安全を保つための仕事をしている b ( )理事会，経済や社会の問題など，人類全体の生活を高める仕事をする ( )理事会などの重要な機関や， c ユニセフ・ d ユネスコなどの特別・専門機関があります。また，国際連合は，国と国との争いがはげしくなったときに， e 国連軍をおくることもあります。こうした機関を中心として，国際連合は， f 資源・環境・人口・核兵器などについての国際会議も開き，さまざまな国際社会の問題にとりくんできています。

日本も，( )年に加盟してから，そうした機関の活動や国際会議に参加したり，活動に必要な費用の一部を負担したりして，協力してきています。

A ( ) ~ ( )に，正しい数字やことばを入れなさい。

B \_\_\_ a ~ f について答えなさい。

a ここでの各国の投票権はどうなっていますか。正しいものを，ア～ウから1つ選びなさい。

ア 大国であるアメリカ <sup>がっしゅうこく</sup> 合衆国 とソビエト連邦 <sup>れんぽう</sup> (現ロシア連邦) は，二票の投票権をもち，その他の国は，一票の投票権がある。

イ 国際連合が成立したときに参加した国は，二票の投票権をもち，あとから加盟した国は，一票の投票権がある。

ウ すべての国が，平等に，一票ずつの投票権をもっている。

b 正しいものを，ア～ウから1つ選びなさい。

ア この理事会では，重要な問題などを投票できめる場合，五つの常任理事国のうち，1か国でも反対すれば，きめられないことになっている。

イ この理事会は，じっさいに戦争がおこったときだけ，その問題をとりあげることになっている。

ウ 日本は，国際連合に加盟してから，この理事会に入って活動したことは，まだ一度もない。

c・d それぞれの日本語の正式な名前を， ~ から1つずつ選びなさい。

<sup>ぐんしゅく</sup> 軍縮会議      国際司法裁判所      国連世界食料会議      国連児童基金      世界銀行  
国際労働機関      国連教育科学文化機関      世界保健機関      国連海洋法会議

e (1) 1956年におこったスエズ運河をめぐる戦争に，国連軍がおくられました。この戦争は，イギリス・フランス・イスラエルがどこの国と戦った戦争ですか。国名を書きなさい。

(2) 次の ~ のうち，国連軍がおくられなかった戦争はどれですか。1つ選びなさい。

ベトナム戦争      朝鮮戦争      コンゴの動乱      中東戦争

f (1) 次の文は，1972年に開かれたある会議で採たくされた宣言の一部を，やさしくしたものです。その会議名と開かれた都市名を， ~ からそれぞれ1つずつ選びなさい。

人は，<sup>そんげん</sup> 尊厳と <sup>ふくし</sup> 福祉を保つことのできる環境で，自由・平等のもとに，豊かな生活をいとなむ基

本的な権利をもつとともに、現在および将来の人々のために、環境を保護し、改善するきびしい責任をおっている。

国連世界人権会議      国連人間環境会議      国連自然保護会議

東京      スtockホルム      パリ      ロンドン      ニューヨーク

(2) 1978年2月に開かれたある会議で、わが国の被爆者<sup>ひばくしゃ</sup>が、「核兵器は、人間の尊さを破壊し、人間そのものを否定する兵器です」とうったえました。この会議とそのうったえに関連し、次のあ、いの問いに答えなさい。

あ この会議が開かれた都市は、永世中立国にあるので、平和についての話し合いがよく開かれます。国際赤十字の本部もおかれているこの都市はどこですか。 ~ から1つ選びなさい。

モスクワ      ローマ      ジュネーブ      ロサンゼルス

い 安全保障理事会の常任理事国の5ヶ国以外に核実験をしたことのある国（核保有国）を2つ挙げなさい。

(フェリス女学院中 改題)

2 次のまさお君とお父さんの会話を読んで、後の問に答えなさい。

まさお「お父さん、日本って平和でいいね。今でも戦争をしている国や地域が世界にはいくつもあるって、先生が言ってたよ。」

父 「第二次世界大戦が終ってから 今までに300回を超える紛争や戦争<sup>ふんそう</sup>が起きているんだよ。戦後になって、紛争や戦争がなかった年なんてないんだよ。その中で 国連が紛争の終結や国際平和のために活躍してきたことは、見逃せないね。」

まさお「日本も国連の加盟国でしょ。どんなことをしているの？」

父 「日本は安全保障理事会の理事国に選ばれたり、国連の活動に必要なお金を負担したり、国連の開くいろいろな会議に出席して意見を言ったりしているんだよ。」

まさお「日本も国連で活躍しているんだね。でも、1991年の 湾岸戦争<sup>わんがん</sup>のときは、お金は出すけど人は出さないなんて、批判されていたよね。」

父 「確かに日本は、130億ドルもの援助金<sup>えんじょ</sup>を出したけど、戦争中に人を派遣<sup>はけん</sup>することはなかったね。そこで1992年の6月に国会は  協力法を制定して、自衛隊が国連の平和のための活動に協力できるようにしたんだよ。」

まさお「そうそう、徹夜<sup>てつや</sup>の国会になったり、いろいろと長い時間をかけてつくった法律でしょ。でも、かなりもめていたような気がするなあ。」

父 「自衛隊を海外に派遣することが、平和主義を定めた憲法に違反するのではないかと、紛争に巻きこまれてしまうのではないかなど、いろいろと議論を重ねたんだ。でも、このことはまだまだ真剣<sup>しんけん</sup>に考えていかなければならない問題なんだよ。」

まさお「だから、もめていたのか、たいへんなんだなあ。ところで、国連って平和のための活動以外にも仕事をしているんだよね。」

父「もちろん、それ以外にも 発展途上国の各地に給水設備をつくったり、食料を援助したり、教育を広めたり、その土地の人々の健康を守るなどの活動にも取り組んでいるんだよ。」

まさお「先進国が発展途上国に対して、いろいろなことに資金や技術の援助をしているんだよね。」

父「そうだよ。それに今、世界が抱えている 環境問題にも積極的に取り組んでいて、1992年の6月に『地球サミット』といわれるような国際会議が開かれたんだよ。」

問1 会話文の中の□にあてはまる言葉の略称をアルファベット3文字で答えなさい。

問2 下線部の中で、1980年から8年間、西アジアで行われた国際戦争は、どの国とどの国の戦争ですか。その国名を答えなさい。

問3 下線部についての文章で、誤っているものを1つ選び、記号で答えなさい。

イ 国際連合(国連)は1945年51ヶ国が参加して、世界の平和と安全を守るためにつくられた国際機関で、今では190ヶ国以上の国々が加盟しています。

ロ 日本は、1956年に80番目の国連加盟国となり、それ以後経済大国の地位を生かして、現在に至るまで続けて安全保障理事会の非常任理事国をつとめています。

ハ 国連において、総会は最高機関で毎年1回、9月に開かれます。また、必要に応じて、特別総会なども開かれることがあります。

ニ 国連の安全保障理事会は、アメリカ・ロシア(旧ソ連)・イギリス・フランス・中国の常任理事国5ヶ国と非常任理事国10ヶ国の計15ヶ国で構成され、国連の他の機関に比べ、大きな権限が与えられています。

問4 下線部について、右のグラフは各国の国連分担金の割合を示したグラフです。日本はイ～二のどれですか、記号で答えなさい。

イ	ロ	ドイツ	ハ	ニ	その他の国
22%	19.5	9.8	6.5	5.5	36.7%

2003年

問5 下線部の戦争終了後、自衛隊が派遣されましたが、何の目的で派遣されたのです

か。正しいものをイ～二から1つ選び、記号で答えなさい。

イ 海に浮かぶ機雷を取り除くため

ロ 地中に埋められた地雷を取り除くため

ハ 戦争で捕虜となった人々を輸送するため

ニ 戦争で被害を受けた建物や道路などを修理するため

問6 下線部について、1992年の秋に国連の正式な要請を受けて、自衛隊が海外に本格的に派遣されました。どこへ派遣されましたか、イ～二から1つ選び、記号で答えなさい。

イ タイ ロ アフガニスタン ハ カンボジア ニ イスラエル

問7 下線部のようなことや、世界の子どもたちを飢えや病気などから守り、子どもたちの生活を

向上させるための活動をしている国連の中の専門機関は何ですか。カタカナ 4 文字で答えなさい。

問 8 下線部 について、日本は発展途上国へ青年海外協力隊員を派遣しています。右のグラフは、彼らが協力している仕事の分野別の割合です。グラフの A にあたるのは、どの分野ですか。イ～ニから 1 つ選び、記号で答えなさい。

A	B	保健衛生	C	スポーツ	D	その他
37%	18	15	8	8	4	

総計 2,141 人 1998 年

- イ 理科・数学・音楽・日本語などの先生やシステムエンジニアの教育・文化分野
- ロ 稲作・野菜作り，漁法，養殖などの農林・水産分野
- ハ 土木設計，建築，測量などの土木・建築分野
- ニ 電気工事，電話工事，建設機械，自動車整備などの保守・操作分野

問 9 下線部 について、1989年に環境庁が導入した制度で・再生紙でつくった本や環境に影響を与えないスプレーなどについている右のマークを何といいますか。



問 10 下線部 は「環境と開発に関する国連会議」のことです。その会議が開かれた国はどこですか。

(早稲田中学校 改題)

3 次の文章を読んで下の問いに答えなさい。

このまえ五郎くんたちは社会の授業で、「国際社会に生きる日本」という主題の勉強をしました。そこで、いろいろな面での日本と世界の国々との結びつきについて考えることになりました。そのとき先生は「現在日本のような先進国といわれている国々は、一足先に地球上の資源をたくさん使用して発展をとげてきたのだから、これからは、まだ生活のうえでさまざまな問題を<sup>かか</sup>抱えている発展途上国の生活向上に協力し、援助する義務があります。現在日本は多くの国々に資金や生活物資の援助をしていますが、こうした援助による結びつきには、そのほかにもとても大切なことがあります。それは例えば次の資料のなかに示されているような 2 つのことです。」とおっしゃって下のような資料のプリントを配られました。

資料 1 : 「ガーナでの記録」

(女子パウロ会編「ガーナに賭けた青春」からの要点の抜き書き)

今ぼくはアチュア村で、村の現金収入を増やすため・養鶏とパイナップル栽培の普及をめざす計画をすすめています。今月の初めから鶏が毎日 2～3 個ずつ卵を産むようになりました。村人たちも喜んでいますが、私もほっとしました。パイナップルも今年<sup>しゅうかく</sup>は収穫が始まります。村人も熱心にパイナップル畑で働いています。(中略)

先日ぼくは村の酋長<sup>しゅうちやう</sup>(村の最高責任者)に呼ばれて、「今年の収穫祭のとき、これから後、村のなかまをまとめていくナナ・シピ(長老のこと)という役にあんたが就く式をやりたいので承知してくれ。」といわれました。「ぼくは村の一員ではあるけれど、いつかは村を離れる人間だから、こんな責任のある仕事はとてもできないよ。」とってことわりしましたが、どうしてもといわれて、とうとうそ

ういうことになってしまいました。

資料2 : 「フィリピンからの報告」

(「風の学校」発行, “風のたより” 18号からの要点の抜き書き)

私は昨年(2009年)の2月の末から、ネグロス島の現地の人々を相手にした井戸掘りの研修会をはじめた。研修会場のツブラン農場へ集まってきた村の青年たち9名を相手に、いっしょに会宿し、寝起きをともにしながらの井戸掘りの研修だった。第1号の井戸はいろいろの苦勞の末、64メートル掘り進めたところで良質の水を豊富に得ることができた。(中略)

井戸の掘り方の研修を終えて、水不足の村へ帰った青年たちが、自力で井戸掘りを始めるかどうか、この研修会の成功・失敗をきめることになるだろうと思った。ところが今年の1月、バコロド南方のラカルロタで、村の青年たちによる井戸掘りが始まったという報告を受けた。「ヤッター」という喜びでいっぱいになった。

問1 資料1の記録を書いた人は、援助のために国の費用で日本から外国に派遣されている若い人ですが、このような人々は何と呼ばれますか。

問2 資料1, 2をよく読むと、「例えば次の資料のなかに示されているような2つのこと」と先生が言ったその大切な2つのことがわかってきます。」それは次の(A)と(B)の2つです。

(A)と(B)に入ることば(語句)を答えなさい。ただし答えは資料の文中にあるそのままのことば(語句)は使わないこと。また答えは2字以上10字以下とします。

1つは(A)を教え伝えること、もう1つは(B)をつくる(育てる)こと。

問3 次のきまりに従って、「大切な日本と発展途上国との結びつき」という題の文をつくりなさい。

<きまり>

(ア) 問1で答えたことばをかならず使用し、下線を引いておくこと。

(イ) 問2で答えた(A)と(B)に入れたことばもかならず使用し、下線を引いておくこと。

(ウ) 字数は120字以内、句読点も1字に数える。

(芝中学校)

4 次の文は、ある中学校の社会科の授業での発表学習のようすをまとめたものです。これを読み、各問いに答えなさい。

発表者：第二次世界大戦中に、日本・ドイツ・イタリアの3国と戦うために集まった連合国が、戦後、国際連盟のあとをうけて世界平和を守るために国際連合をつくりました。

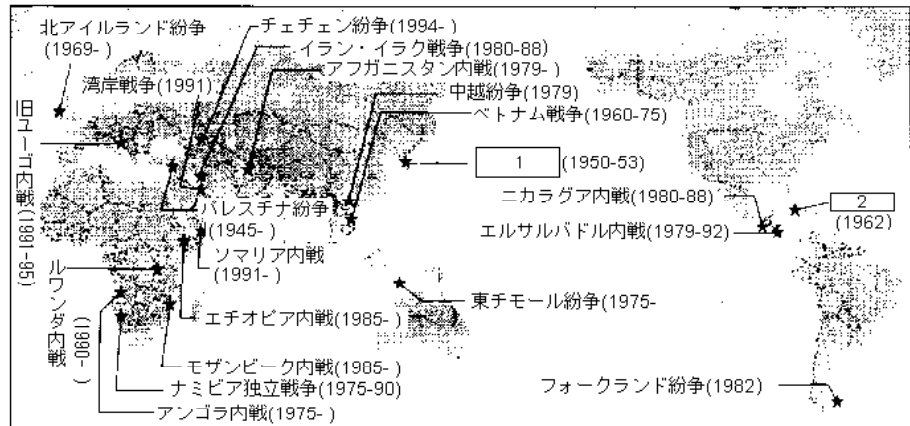
A 君：どうして、国際連盟は、第二次世界大戦を防げなかったのですか。

発表者：その理由は、いろいろと考えられます。——略——

国際連合は、1945年の4月から6月にかけて、アメリカ合衆国の都市( )に集まって調印された 国際連合憲章にもとづいて活動してきました。国際連合憲章には、国際平和を守り、国際協力を進めるという国際連合の目的や役割が示されています。

B 君：でも、実際の戦後の世界は、平和とはいえなかったんじゃないですか。

発表者：はい、大戦が終わってから、すぐにアメリカ合衆国とソ連の関係が悪くなり、世界はアメリカ合衆国を中心とする自由主義陣営と、ソ連を中心とする社会主義陣営に分かれることになりました。 次の地図を見てください。第二次世界大戦後から現在までのおもな地域紛争（戦争）が起きた場所を示しています。こういった世界各地で発生した紛争にはかならずといっていいほど米ソ二大国、二大陣営の対立が深く影響していました。



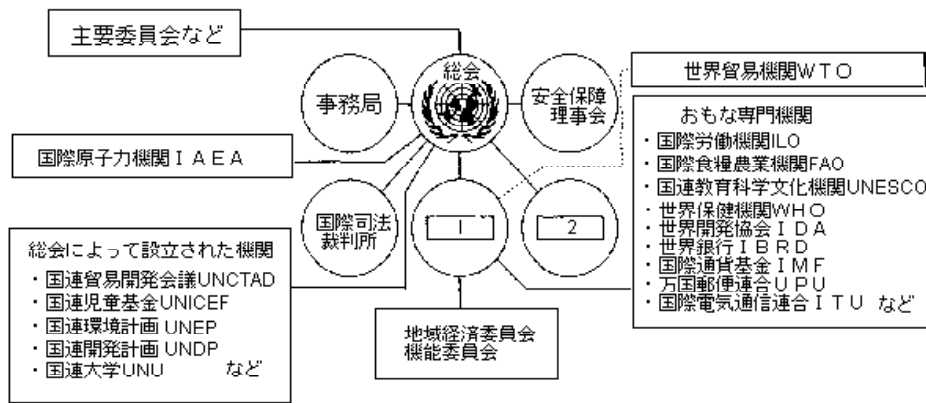
(『中学社会』 公民的分野より)

C 君：ずいぶん多くの地域で戦争が起きているんだなあ。

発表者：この米ソの対立に変化が現れるのが、1985年にソ連の最高指導者の地位に（ ）がついてからです。ペレストロイカといわれる国内の社会や経済の立て直しを進める政策と、こうした対立を解くような外交を強くおしすすめるようになりました。そうして、 米ソの間で核軍縮への歩み寄りが見られるようになり、また1989年ころから、長い間ソ連の影響を受けていた東ヨーロッパ諸国の民主化も進んだのです。こうした変化を目にして、世界の人々は、冷戦の終わりを感じ始めるようになりました。

Dさん：そういう変化のなかで、ソ連は崩壊していったんですね。

発表者：皮肉なことに、こうした動きを待っていたかのように、民族どうしの対立や紛争が世界各地でいっせいにふき出てきました。米ソの厳しい対立があった時代とは別の課題が深刻になっています。たとえば、 紛争にともなう生じる難民の保護と救済の問題です。 次の図は、国際連合の組織を示しています。じつにたくさんの国際機関が、国際連合のもとにおかれ、活動していることがわかります。21世紀となりましたが紛争・戦争は世界のどこかで、起こっています。 世界のほとんどの国が国際連合に加盟した今、 国際連合とその加盟国としての日本の役割について、私たちはしっかり学び、考えていかなければならないと思います。



問 1 下線部 について、国際連盟が無力化した原因を述べた文として正しいものを次のア～オのなかから一つ選び、記号で答えなさい。

- ア 議決方法に多数決制を採用していたため。
- イ 設立当初からソ連は参加せず、アメリカも途中まで参加しなかったため。
- ウ 勧告に従わない国に対して、武力制裁を行うことが出来なかったため。
- エ 理事国のソ連とアメリカが対立をくりかえしていたため。
- オ 日本や中国、ソ連などの大国が途中で脱退したため。

問 2 本文中( )に当てはまる都市名をカタカナで答えなさい。

問 3 下線部 の国際連合の活動について述べた次のア～オの文のなかから、正しくないものを1つ選び、記号で答えなさい。

- ア 1948年の国連総会で、世界的な人権を守る基準を示した国際人権規約を可決した。
- イ 1950年の国連総会で、総会の権限を強める「平和のための結集決議」を可決した。
- ウ 1964年の国連貿易開発決議では、南北問題への取り組みについて話し合われた。
- エ 1972年の国連人間環境会議では、地球環境の保護について話し合われた。
- オ 1978年には、軍縮だけに課題をしぼった第1回国連軍縮特別総会が開かれた。

問 4 下線部 について、前のページの地図を見て、米ソの代理戦争ともいわれたできごと  と、ミサイル基地建設をめくり国際的な緊張が高まったできごと  の名前をそれぞれ答えなさい。

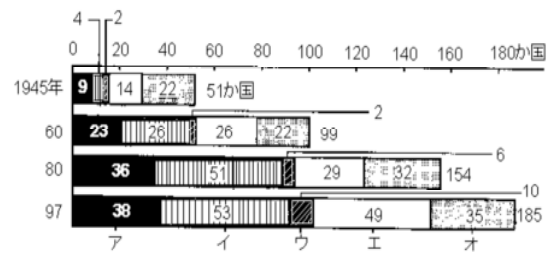
問 5 本文中( )に当てはまる人物名をカタカナで答えなさい。

問 6 下線部 について、1987年に米ソが史上初めて一部の核兵器をなくす条約として、( )全廃条約を結びました。( )に当てはまる言葉をアルファベットで答えなさい。

問 7 下線部 について、1999年もまた、世界各地で紛争が起こりました。ユーゴスラビアでは内戦状態のさなかに、国連決議のないままNATO(北大西洋条約機構)軍が空爆を行うなど、国際的に大変注目され、論議を呼びました。そのユーゴスラビアで、多くの難民を出した自治州はどこですか。カタカナで答えなさい。

問 8 下線部 について、上の図を見て、国際連合の主要機関で多くの専門機関を持つ  と、実際にはその役割を終えたといわれる  をそれぞれ漢字で答えなさい。

問9 下線部 について、次のグラフは、国際連合の加盟国数の移り変わりを示したものです。アジアを示すものを表のア～オから一つ選び、記号で答えなさい。ただし、他はアフリカ、ヨーロッパ、旧ソ連、オセアニア、南北アメリカを示します。



問10 下線部 について、次の表は加盟国が負担する国際連合の分担金の割合を示したものです。日本に当たるものを表のア～オから一つ選び、記号で答えなさい。

	1998年	1999年	2000年
ア	25.0	25.0	25.0
イ	17.9	19.9	20.5
ウ	9.6	9.8	9.8
エ	6.4	6.5	6.5
オ	5.3	5.4	5.4
イギリス	5.0	5.0	5.0
ロシア	2.8	1.4	1.0
中国	0.9	0.9	0.9

( 穎明館 )

5 次の各問いに答えなさい。

問9 第2次世界大戦後、アメリカ合衆国を中心とする資本主義国とソビエト連邦を中心とする社会主義国が対立した。この対立を何と言いますか。漢字2字で答えなさい。

問10 国際連合の本部はどこですか。次の1から4よりひとつ選び、番号で答えなさい。

- 1 ジュネーブ    2 パリ    3 ニューヨーク    4 ワシントン

問11 安全保障理事会では常任理事国5カ国が1カ国でも反対すると議案は否決されます。この常任理事国が持つ権利を何と言いますか。「～権」と続くように入れなさい。

問12 アメリカ軍が日本に駐留することを認めた条約は何と言いますか。次の1から4よりひとつ選び、番号で答えなさい。

- 1 サンフランシスコ平和条約    2 日米地位協定    3 日米安全保障条約  
4 日米和親条約

( 那須高原海城 一部略 )

6 次のA～Cの文中の( )～(㉔)にあてはまる適当なことばや数字を書きなさい。なお、( )



と( )には国名を,( )には人名を書きなさい。ことばは漢字で書かなくてもかまいません。

A.( )社は、現在では世界で約150か国におかれている。( )の活動は,( )の( )が,( )世紀のなかばごろ,( )統一のための戦争のとき、敵・味方の区別なしにけがや病気などで苦しむ人々を看護したことに始まり、人類の平和と福祉(ふくし)のための奉仕(ほうし)活動を続けている。

B.第二次世界大戦後の昭和( )年、世界の平和と安全を守り、国際問題を解決するために、国際連合がつくられた。最初に参加した国は( )か国であったが、現在では190か国をこえている。日本は昭和( )年に( )番目の加盟国としてみとめられた。国連の最高機関である( )は、毎年1回,( )月に開かれる。国連の安全( )理事会は、現在,( )か国の常任理事国と( )か国の非常任理事国で構成されている。国連の旗は,( )色の地の中央に,( )の枝に囲まれた,( )を中心とした世界地図が( )色でぬられている。これは、国連が世界的なしくみであり、平和の推進をめざしていることをあらわしている。

C.すべての人間は、生まれながらにして( )であり、かつ、尊厳(そんげん)と( )について(㉑)である。

すべて人は,(㉒),(㉓)の色,性,言語(げんご),(㉔),政治上その他の意見,民族的又(または)社会的出身,(㉕),門地その他の地位又はこれに類するいかなる事由(じゆう)による(㉖)をも受けることなく、この宣言に掲(かか)げるすべての( )と( )とを享有(きょうゆう)することができる。〔世界人権宣言の一部〕

(学習院中等科)

【解答】

1

A 1945 51 総会 安全保障 経済社会 1956  
B aウ bア c d e (1) エジプト (2)  
f (1) 会議名... 都市名... (2) あ いインド・パキスタン

2

問1 P K O 問2 イラン・イラク 問3 ロ 問4 ロ 問5 イ  
問6 ハ 問7 ユニセフ 問8 イ 問9 エコマーク 問10 ブラジル

3

問1 青年海外協力隊 問2 A技術 B人と人の結びつき  
問3 日本と発展途上国の関係は、物や資金を援助するだけでなく、青年海外協力隊のように、  
開発途上国の人々が、自分たちの力で物を作り、環境を改善できるような技術や知識を伝え、  
信頼関係に基づいた人と人の結びつきを上げることが大切だ。

4

問1 ウ 問2 サンフランシスコ 問3 ア  
問4 1朝鮮戦争 2キューバ危機 問5 ゴルバチョフ 問6 I N F  
問7 コソボ 問8 1 経済社会理事会 2 信託統治理事会  
問9 ア 問10 イ

5

問9 冷戦 問10 3 問11 拒否(権) 問12 3

6

赤十字 スイス アンリ＝デュナン 19 イタリア 20 51 31  
80 総会 9 保障 5 10 青 オリーブ 北極 白  
自由 権利 ⑳平等 ㉑人種 ㉒皮膚 ㉓宗教 ㉔財産 ㉕差別