

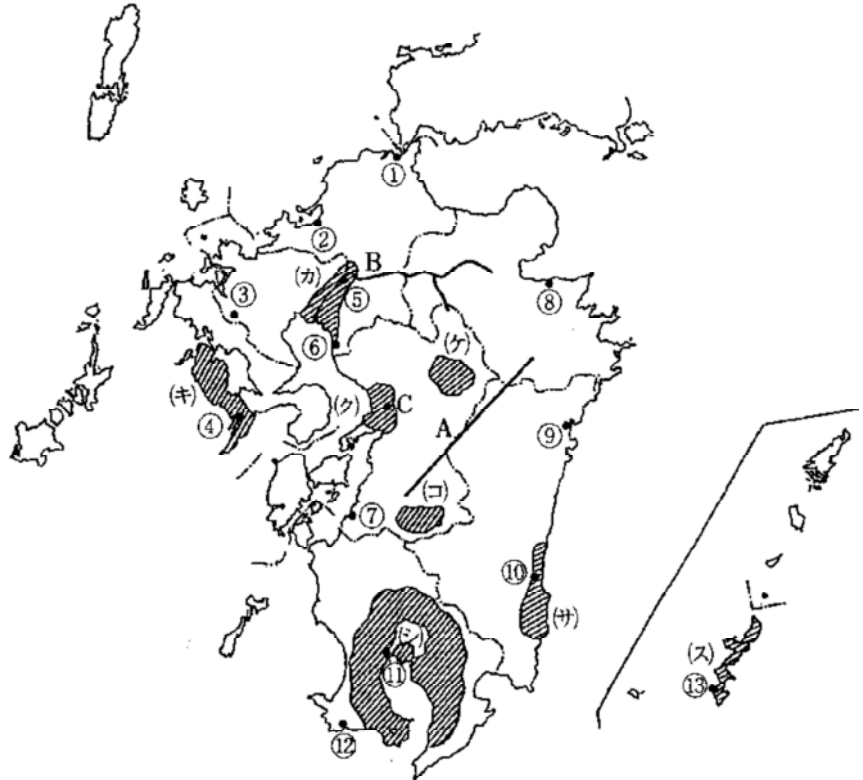
入試問題演習 九州地方

1. 次の九州地方の地図を見て、次の問いに答えなさい。

問1 Aの山地名と、Bの河川名を書きなさい。

問2 Cの都市の雨温図を、下のア～エの中から選んで記号で答えなさい。

問3 次のa～eの各文は、地図の中の(カ)～(ス)のどの地域のことを説明していますか。記号で答えなさい。また、文の中の(あ)～(お)にあてはまることばをそれぞれ記入しなさい。



a この地域は、農業用の水路が整備され機械化も進み、九州一の米作地帯になっている。ほかに野菜・果樹の栽培も行われている。遠浅の海は古くから(あ)によって土地造成が行われてきた。

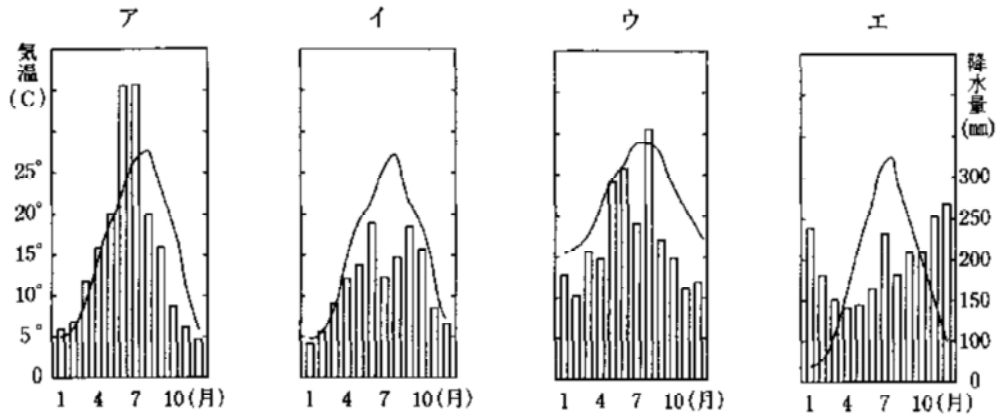
b この地域は、大淀川の下流に

あり、温暖な気候を利用してピーマン・キュウリなど野菜の(い)が行われている。

c この地域は、シラスとよばれる火山灰が堆積している。シラス台地は水をふくむと、もろく崩れやすく、台風のために自然災害が起こっている。畑では昔からタバコや(う)などが栽培され、黒豚やブロイラー(にわとり)などの家畜の飼育も盛んになっている。

d この地域は、一年を通して暖かい気候で台地や丘陵地の畑ではパイナップルや(え)が栽培されてきた。最近では現金収入の多い野菜や花を栽培して、冬から春先に東京や大阪に出荷する農家も多くなってきた。

e この地域では、カルデラの外輪山の斜面を利用して(お)の放牧が行われている。火口原(平地)では稲や野菜も栽培されている。最近では高原野菜の白菜やキャベツなどの栽培も盛んになってきた。



問4 次のf～mの各文は、地図の中の～のどの都市について説明していますか。また、f～mの都市を、語群の(か)～(つ)の中から選んで、記号で答えなさい。

- f この都市では、化学工場から排出された有機水銀によって脳や中枢神経がおかされている公害患者を多く出した。化学工業のほかに電気機械工業も発達している。
- g この都市は、かつお・まぐろの遠洋漁業基地で、かつおぶしや缶詰などの水産加工が発達している。台風の進路にあたり大きな被害を受けるときもある。
- h この都市では、三池炭田の開発により化学肥料などの石炭化学工業が発達した。三池炭鉱は最近閉山した。
- i この都市では、戦後鶴崎地区の埋め立てが行われ、鉄鋼・石油化学・電気・プラスチックなどの臨海工業地域が形成された。キリシタン大名で有名な城下町でもある。
- j この都市は、天然の良港にめぐまれ、鎖国していた時代には唯一の開港場として栄えた。1945年8月9日原子爆弾の被害を受けたが、戦後は造船・電気機械を中心に工業が復興した。市内には観光名所も多い。
- k この都市は、旧城下町と商人の町が合併してできた九州を代表する都市である。電気・食品などの工業や織物・人形などの伝統産業も発達している。また、元寇の遺跡も近くにある。
- l この都市は、陶土にめぐまれ、朝鮮から連れてきた陶工に技術を学び、陶磁器が発達した。酒井田柿右衛門によって工夫された赤絵付けの技術はよく知られている。
- m この都市は、古くからの港町として栄えたが、第二次世界大戦で大きな被害を受けた。独特の紅型や織物・楽器などの伝統産業も発達している。

[語群]

- (か) 宮崎 (き) 長崎 (く) 鹿児島 (け) 延岡 (こ) 熊本
(さ) 枕崎 (し) 水俣 (す) 大牟田 (せ) 有田 (そ) 福岡
(た) 大分 (ち) 北九州 (つ) 那覇

問5 九州は1970年ごろからIC(集積回路)などの電子産業が発達したので、シリコンアイランドともよばれています。九州に電子産業が発達した理由として、適当でないものを1つ選んで、記号で答えなさい。

- (な) 製品が小さくて、空港にも近いので輸送費が安い。
(に) 安くて広い工場用地が得やすかった。
(ぬ) 石油備蓄基地があり、火力発電による電力費が安い。
(ね) きれいな空気や地下水などの水資源にめぐまれている。
(の) 農村の女性を労働者としてやといやすかった。

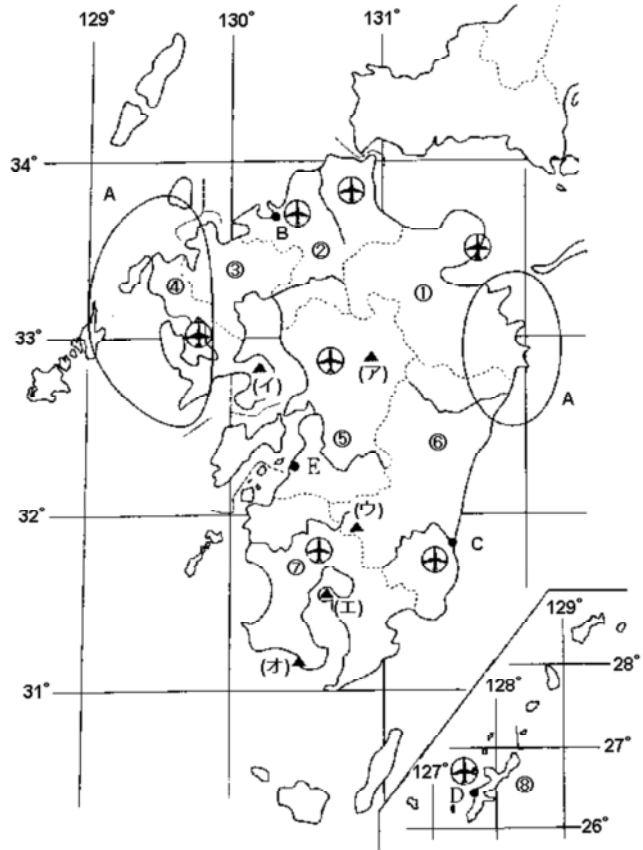
(女子学院)

2. つぎの九州地方の文章と地図について、あとの問1～問15に答えなさい。

九州地方は、a 2つの暖流が流れ、温暖ですが、梅雨の際の集中豪雨や(1)の被害を受けやすい地域です。また、火山も多く、世界最大級のカルデラを持つb阿蘇山があります。

九州地方は、ほぼ中央を走るけわしい(2)山地によって、北部と南部に分けることができます。筑紫・熊本・八代の平野は、農業の中心になっています。地図のAの地域には、海岸線が複雑な(3)海岸が見られます。南部は全体に山がちですが、宮崎平野もあり、c 2つの県にわたって火山灰などからなる(4)が広がっています。

d九州各地の空港の周辺に、工場が多つくられました。空港は、ソウルやペキンなどへの国際空港としての働きをもつものが多いです。九州地方は、大陸と近く、古くから東アジアを中心とする。海外の国々との結びつきがとくに強いです。



問1 文章中の(1)にあてはまる言葉をつぎから1つ選び、ア～オの記号で答えなさい。

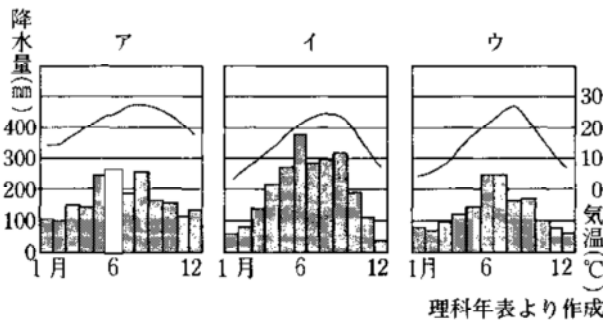
- ア 霜害 イ 干害 ウ 冷害 エ 台風 オ 津波

問2 文章中の(2)～(4)にあてはまる言葉をそれぞれ書きなさい。

問3 地図中の①～⑧の県のうち、県の名と県庁所在都市の名がちがう県が1つあります。その番号を書きなさい。

問4 下線部aの2つの暖流とは、日本海流ともう1つ何ですか。

問5 つぎのグラフは地図中のB～Dのいずれかの都市のもので、都市Bのグラフを1つ選び、ア～ウの記号で答えなさい。



問6 地図のE付近では、ある問題が起こりました。その問題について説明した文をつぎのア～オから1つ選び、記号で答えなさい。

- ア 鉱山からのけむりにより、まわりの樹木が多く枯れてしまいました。
 イ 工場から排出される亜硫酸ガスありゅうさんが主な原因で、周辺の住民に深刻な気管支の病気が多く発生しました。
 ウ 鉱山が流した水の中にふくまれていた金属により、骨が折れやすくなったり、身体が痛くな

ったりする病気が出ました。

エ 上流の森林を無計画にばっさいし、集中豪雨により下流のこの付近で大水害がおこりました。
オ 化学工場の排水に汚染された魚介類が原因で、神経をおかされ、重い障害を受ける人が多数出ました。

問7 下線部bの阿蘇山にあたるものを地図の(ア)～(オ)から選び、記号で答えなさい。

問8 つぎのア～オの文章は九州地方および日本の林業のようすについてのべたものです。下線部が誤っているものを1つ選び、ア～オの記号で答えなさい。

ア 宮崎、秋田、大分の順に生産されている木材は、国内でもっとも消費されている木の種類です。したがって、九州で生産されている木材はすぎが多いです。

イ 国内の木材生産地は過疎化の進んでいるところで、生産も年々減少しています。

ウ 必要な木材の半分以上は、外国からの輸入にたよっています。

エ 炭やたきぎに使われてきたならやくぬぎなどの針葉樹にかわって広葉樹の人工林が急速に増えました。

オ 林業はたいへん手間がかかり、危険な仕事です。しかし、林業をささえるのは高齢者が多くなり、いろいろな作業が十分におこなえていないところが増えています。

問9 つぎの文章は筑紫平野の農業について書かれたものです。下線部(ア)～(オ)には、誤りが1つあります。その記号を書きなさい。

筑紫平野は、(ア)九州一の長流である筑後川が流れる平野で、(イ)日本の代表的な米作地の一つです。遠浅で干満の差の大きい(ウ)有明海に面し、干拓によって耕地を広げてきました。低湿地には、クリークと呼ばれる水路が見られます。(エ)田植えをするコンバインなど早くから機械化や農作業の共同化が進みました。近ごろは、野菜、果樹など経営が多角化しています。(オ)米と大麦などを組み合わせた二毛作はかつてほど見られなくなりました。

問10 熊本平野や宮崎平野ではビニルハウスなどをもちいた施設栽培がさかんです。この地域の農業のようすとして誤っているものをつぎのア～オから1つ選び、記号で答えなさい。

ア 宮崎から大阪へ高速フェリーを利用し、熊本から東京へ航空機を利用して、新鮮な農産物を市場へ出荷しています。

イ 温暖な気候を利用しているため、他の地域が施設を利用する場合にくらべて、生産費が、あまりかかりません。

ウ 端境期とよばれる農産物の品薄の時期や出始めのころに出荷されるので、取引価格が有利です。

エ 大規模な生産・出荷組合が組織されています。

オ 熊本平野ではキャベツやレタスを、宮崎平野ではキュウリなどをおもに栽培しています。

問11 つぎのア～オの地方のうち、熊本平野や宮崎平野と同様に施設栽培がさかんな地方を1つ選び、記号で答えなさい。

ア 長野盆地 イ 庄内平野 ウ 十勝平野 エ 能登半島 オ 渥美半島

問13 下線部cの2つの県では、それぞれ特色のある農業が行われています。つぎの表は2つの県で生産が多い農産物の割合を示しています。2つの県はA・Bであらわされています。農産物(1)～(5)はあとのア～オの農産物のいずれかです。農産物(1)、(3)は何ですか。ア～オからそれぞれ1つ選び、記号で答えなさい。

農産物生産割合(%) 1998年 *のみ1997年

(1)	A 40	茨城 15	千葉 12	B 6	熊本 3
(2)	静岡 44	A 21	三重 8	京都 4	B 3
(3) *	B 24	茨城 15	高知 13	A 6	岩手 6
(4)	A 14	B 8	茨城 6	群馬 6	北海道 5
(5)	沖縄 62	A 38			

ア ピーマン イ 茶 ウ さつまいも エ さとうきび オ 豚(頭数)

問14 下線部dの工場は、ある特定の種類のものがめだって進出しています。そのためその原料の名前をとって九州地方は何と呼ばれていますか。

問15 下線部eについて、つぎのア～オの文章は日本との結びつきが強い国についてのべたものであり、A～Eのグラフは、その日本との結びつきが強い国の日本への輸出品を示したものです。このうち、大韓民国をあらわすものを文章とグラフからそれぞれ1つ選び、記号で答えなさい。

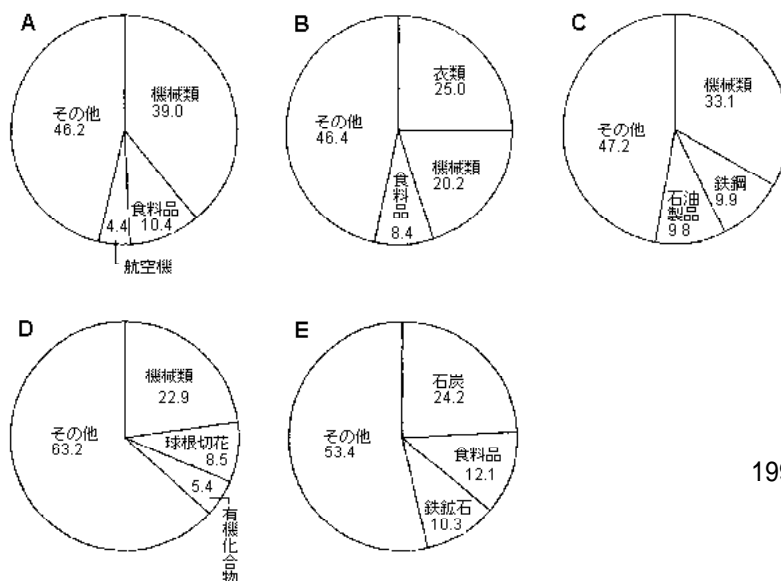
ア 輸出相手国としては日本が1位です。大自然や珍しい動物が人気で日本人観光客も急増しています。2000年、オリンピックが開催されました。

イ かつて九州の港を経てこの国へ遣隋使や遣唐使が派遣されました。西大和学園はこの国の学校と交流があります。

ウ 対日貿易が大幅な赤字となり、摩擦が起きています。日本の貿易相手国輸出入ともに第1位。沖縄には今もこの国の基地が多く残ります。

エ 1992年に長崎県にこの国の町並みを再現したテーマパーク「ハウステンボス」がオープンしました。

オ 2002年に日本とサッカーの世界カップを共催しました。はしなど文化を共有するところが多く、有田焼などはこの国の出身者が伝えました。



機械類に精密機械を含む
1999 / 2000日本国勢図会より作成

(西大和 一部略)

3. 信三君は夏休みを利用して、九州の9ヶ所の都市や地域を、9日間で1日1ヶ所ずつ訪れました。次のア～ケの各文の「この地」は、その都市や地域をさすものです。これを読んで以下の問に答えなさい。なお、ア～ケは信三君が訪れた順には並んでいません。

ア この地は、鎖国政策の行われていた江戸時代、ただ1ヶ所外国の質易船の来航が許されていた地であり、また世界で2番目に原子爆弾が投下された地でもある。

イ この地は、大和朝廷が設けた役所のあった地で、九州の防衛と政治をつかさどっていた。また、平安時代に都での政争に敗れた菅原道真が、その生涯を終えた地でもある。明日訪れる地は、ここから見て北西方向に位置し、電車に乗れば、30分とかからない。

ウ この地は、新幹線で(あ)県から続く長いトンネルを抜けてようやくたどり着いた。九州の玄関口とでもいうべき都市である。もともとは5つの都市であったのが、合併により九州で最初の100万都市となった。明日は市の中心駅である小倉から、日豊本線で南下し、となりの(い)県の都市を訪れる予定だ。

エ この地は、九州第3の都市であり、(う)の建てた天下の名城の所在地としても知られている。天守閣からは、(え)海をへだてて真西に、明日訪れる都市をかすかにうかがうことができる。

オ この地には、1989年に発見された、古代の大規模な集落の遺跡がある。周囲にめぐらされた濠や高床式倉庫、物見やぐらの跡などが見つかり、(お)が九州にあったと考える人々を大いに勇気づけたものである。なお、昨日訪れていた地は、ここから見て南西の方角に位置する。

カ この地は、大分県で最も北にある市だ。(か)円札でおなじみの福沢諭吉が幼少時代を過ごした町としてよく知られている。

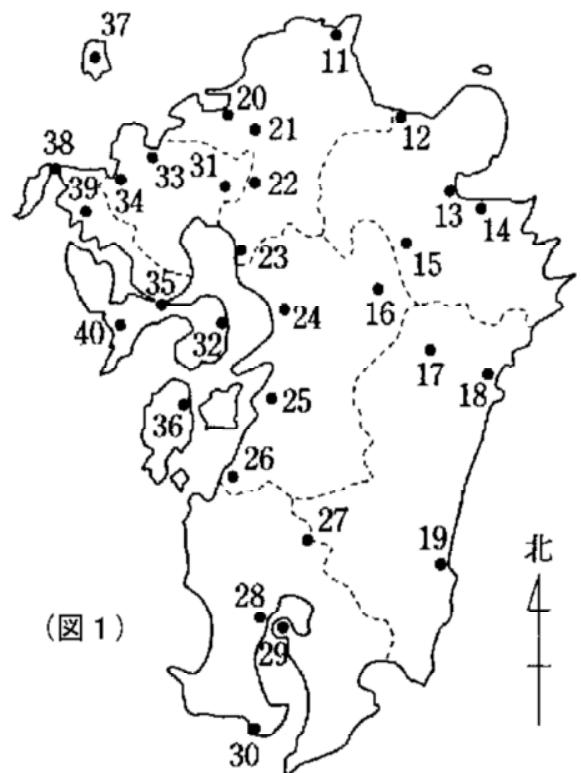
キ この地と隣の深江町は、その西にそびえる(き)の平成2年から始まった大噴火の際に、大きな被害を受けた。現在ではようやく活動終息宣言が出され、この噴火の際に形成された溶岩ドームは(く)と名づけられた。

ク この地は、九州最大の都市である。長かった旅もここで終わり、明日は東京へ帰る。

ケ この地は、何ととっても世界最大のカルデラがみられることで知られている。はてしなく続くかに見えるカルデラの中央には、現在も活動中の(け)が雄大にそびえる。車で登って行くと、広々とした斜面一帯では牛の放牧が行われていた。そういえば九州には、ここ(こ)県をはじめ、(さ)県、宮崎県など、(し)の生産高の上位を占める県が多いことを思い出した。なお、昨日訪れた地はこのほぼ真北に位置し、また明日は、このカルデラに流れを發する、白川の下流に位置する都市を訪れる。

問1 文中の(あ)～(し)にあてはまる語句を、それぞれ次の中から選びなさい。

- 11 山口 12 福岡 13 大分
- 14 佐賀 15 熊本 16 鹿児島
- 17 沖縄 18 加藤清正 19 小西行長
- 20 細川忠興 21 鹿児島湾



(図1)

- 22 瀬戸内 23 八代 24 有明 25 周防灘 26 阿蘇山 27 くじゅう山
28 普賢岳 29 昭和新山 30 平成新山 31 霧島山 32 桜島 33 開聞岳
34 邪馬台国 35 大和朝廷 36 乳牛 37 肉牛 38 1万 39 5千
40 千

問2 下線 について

(1) 次の1～4のうち、鎖国が完成するまでに行われた政策が、正しく年代順に並んでいるものを1つ選びなさい。

- 1 { 幕府がキリスト教を禁止する
貿易港を平戸と長崎に限る
スペイン船の来航を禁止する
日本人の海外への渡航や海外からの帰国を禁止する
ポルトガル船の来航を禁止し、鎖国が完成する
- 2 { スペイン船の来航を禁止する
ポルトガル船の来航を禁止し、鎖国が完成する
幕府がキリスト教を禁止する
日本人の海外への渡航や海外からの帰国を禁止する
貿易港を平戸と長崎に限る
- 3 { 幕府がキリスト教を禁止する
貿易港を平戸と長崎に限る
スペイン船の来航を禁止する
ポルトガル船の来航を禁止し、鎖国が完成する
日本人の海外への渡航や海外からの帰国を禁止する
- 4 { 日本人の海外への渡航や海外からの帰国を禁止する
幕府がキリスト教を禁止する
貿易港を平戸と長崎に限る
スペイン船の来航を禁止する
ポルトガル船の来航を禁止し、鎖国が完成する

(2) 鎖国期間中も、幕府によって貿易船の来航が許されていた国を、次の中から2つ選びなさい。

- 1 中国 2 朝鮮 3 オランダ 4 フランス
5 ポルトガル 6 スペイン 7 アメリカ

(3) (2)の国の貿易船の来航が幕府によって許されたのはなぜですか。その理由として正しいものを次の中から1つ選びなさい。

- 1 キリスト教を禁じた国であったから
2 キリスト教を布教する心配のない国であったから
3 当時の日本の植民地であったから
4 幕府が軍事上絶対に対抗できないと考えた国であったから

問3 1998年5月、下線 と同じような兵器の実験を、2つの国があいついで行いました。

その国はどこどこですか。次の中から選びなさい。

- 1 中国 2 カンボジア 3 マレーシア 4 インドネシア
5 インド 6 ネパール 7 パキスタン

問4 下線 の人物は、現在神様としてまつられています。

(1) この神様は一般に何と呼ばれていますか。

- 1 阿弥陀^{あみだ}さま 2 お稲荷^{いなり}さま 3 お地蔵^{じぞう}さま 4 大黒^{だいこく}さま 5 天神^{てんじん}さま

(2) この神様は一般に何の神様とされていますか。

- 1 お金 2 健康 3 学問 4 結婚 5 戦争

問5 下線 のトンネルと同じ性格のものを、次の中から1つ選びなさい。

- 1 日本坂トンネル 2 青函トンネル 3 関越トンネル
4 六甲トンネル 5 大清水トンネル

問6 下線 の城が実際に使われた戦いを、次の中から1つ選びなさい。

- 1 九州征伐^{せいばつ} 2 関ヶ原の戦い 3 戊辰戦争^{ぼしん}
4 佐賀の乱 5 西南戦争

問7 下線 の人物が著した書物を、次の中から2つ選びなさい。

- 1 学問のすすめ 2 民撰^{せん}議院設立建白書 3 我輩^{わがはい}は猫である
4 山椒^{さんしょうたゆう}太夫 5 福翁^{ふくおう}自伝

問8 下線 について。

(1) これはどのようにしてできた地形ですか。次の中から1つ選びなさい。

- 1 火山が噴火した際に、地中の溶岩やガスが抜けたため、地表がかんぼつしてできた地形
2 火山が噴火した際に吹き出した、溶岩や火山灰が積もってできた地形
3 河川が上流から運んできた土砂が、河口付近にたまってできた地形
4 かつて流れていた氷河によって、地表がえぐりとられてできた地形
5 地表をおおっていた石灰岩が、雨によって少しずつ溶かされてできた地形

(2) 次の中から、カルデラのみられる地を2つ選びなさい。

- 1 富士山 2 武蔵野台地 3 箱根
4 秋芳洞 5 阿寒湖 6 九十九里浜

問9 本文クの「この地」は、(ア)「プロ野球の球団の本拠地」であり、(イ)「プロサッカーリーグ(Ｊリーグ)の球団の本拠地」でもあり、さらに(ウ)「大相撲の本場所も開催される」都市です。これと同じく、上記(ア)～(ウ)の3つの要素をすべて満たしている都市を、次の中から1つ選びなさい。ただし、プロ野球およびＪリーグの球団は、1998年11月現在のものとします。

- 1 札幌 2 仙台 3 東京 4 名古屋 5 京都 6 広島

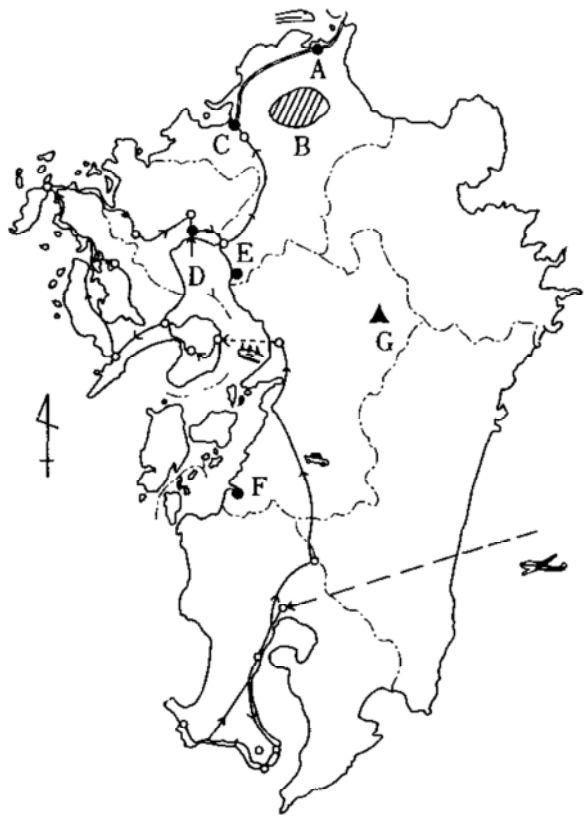
問10 (図1)から、信三君が訪れた地を選び、訪れた順に左から番号で記入しなさい。

(慶應義塾中等部)

4. 次の九州地方についての文章と地図をみて、あとの問題に答えなさい。

毅君の家では冬休みに家族で九州旅行に出かけました。以下の文章は、この地方や旅の様子を記したものです。よく読んで、問1～15の設問に答えなさい。

九州地方は日本の西南部に位置し、日本の主要部を構成する四大島のうち3番目に大きい九州と対馬、い岐、あまみ屋久島、奄美大島、あまみ沖縄島など多くの島々からなっています。面積は国土のおよそ11.8%を占め、その南端は北緯約24度の先島諸島の波照間島、北端は北緯約35度の対馬韓崎です。東端は東経約132度の豊後水道の水ノ子島、西端は東経約123度のわが国最西端でもある先島諸島の(1)です。したがって九州地方は日本の中心地より大陸のほうに近いといえます。このような位置にあったために、日本への大陸文化や西洋文化の流入の玄関口となり、周辺の国々とも歴史的にさまざまなかかわりを持つことになりました。



問1 文中の(1)に入る島名を次から1つ選び記号で答えなさい。

- ア 宮古島 イ 石垣島 ウ 沖ノ島島 エ 与那国島

問2 文中の下線部 ~ について、それぞれ答えなさい。

下の表は九州地方各県の統計を示したものです。表中のA～Dにあたる県の正しい組み合わせを次から1つ選び記号で答えなさい。

- ア A - 熊本 B - 福岡 C - 沖縄 D - 佐賀
- イ A - 福岡 B - 熊本 C - 佐賀 D - 沖縄
- ウ A - 熊本 B - 佐賀 C - 沖縄 D - 福岡
- エ A - 福岡 B - 沖縄 C - 佐賀 D - 熊本

江戸時代、幕府は対馬藩を通じてある国と交流していました。当時、将軍が代わるごとにその国から使節がやってきましたが、それは何と呼ばれていましたか、漢字5字で答えなさい。

1992年に屋久島は世界遺産条約の自然遺産として登録されました。この条約と密接に関連する国際連合の機関を次から1つ選び記号で答えなさい。

- ア ユネスコ イ 国連環境計画 ウ ユニセフ エ 国連開発計画

沖縄は太平洋戦争後アメリカ合衆国に統治されていましたが、日本に復帰したのは西暦何年ですか。

a 次の中で九州地方の面積が一番近い国はどこですか、1つ選び記号で答えなさい。

- ア スウェーデン イ ギリシャ ウ イタリア エ オランダ

b 次の中で日本の面積とほぼ同じ大きさの湖はどれですか、1つ選び記号で答えなさい。

- ア カスピ海 イ アラル海 ウ ミシガン湖 エ ビクトリア湖

日本は中国からさまざまな文化を学んできました。15世紀に明に渡った雪舟がわが国に広めた

芸術は何ですか。次から1つ選び記号で答えなさい。

ア 茶の湯 イ 能 ウ 水墨画 エ 歌舞伎

- - 羽田から鹿児島へ - -

午前8時30分羽田を出発、約1時間半のフライトで鹿児島空港に到着しました。鹿児島に近づく機内からは噴煙を上げるあの有名な桜島が見えました。

父 「ほら、あそこに桜島が見えてるよ。」

毅 「島といっても、火山の噴火で(2)と陸続きになったんだね。桜島は今も活動している代表的な火山だよ。」

父 「さあ、九州縦断の旅の始まりだ。」

空港でレンタカーを借りて鹿児島市内へ向かいました。途中で磯庭園いそと尚古集成館しょうこしゅうせいかんを見学しました。ここは島津氏の別邸べつていと幕末にそこにつくられた反射炉る(溶鉱炉ようこうろ)などの工場群だったところです。ここからは真正面に雄大な桜島が望めます。城跡や黎明館れいめいかんと呼ばれる資料館などを見学して、砂風呂で有名な指宿いぶすきへ向かいました。

毅 「ねえ、鹿児島からここまで海岸沿いの道を走ってきたけど、右手の崖がけはどこも白っぽくて雨でも降ればすぐに崩れそうだったよね。どうしてなの。」

父 「うん、このあたりの土はね、(3)といって火山灰などが降り積もった土なんだよ。」

問3 文中の(2)に入る半島名を次から1つ選び記号で答えなさい。

ア 大隅半島おおすみ イ 国東半島くにさき ウ 薩摩半島 エ 糸島半島

問4 文中の(3)に入る適切な語を答えなさい。

問5 文中の下線部 について、島津氏の薩摩藩は明治維新で大きな役割を果たしました。

この藩出身の人物を次から一人選び記号で答えなさい。

ア 大久保利通としみち イ 木戸孝允きとたかよし ウ 高杉晋作たかすぎしんさく エ 岩倉具視いわくらともみ

- - 指宿から霧島へ - -

半島最南端の長崎鼻ながさきばなは(4)に突き出した岬で、ここからは晴れていれば富士山のような美しい姿をした開聞岳かいもんが間近に見えます。また、ここには亜熱帯植物園や動物園などもあります。枕崎まくらさきを経て景色の良い坊津ぼうつに着きました。ここは754年に(5)の上陸した地で、当時の中国への渡航地でもあったところです。そして知覧ちらんを経て霧島へ向かいました。霧島山からくには韓国岳を最高峰とする火山群の総称です。山頂部には、ミヤマキリシマの群落があり、山腹にはたくさんの温泉もあります。

問6 文中の(4)に入る海名を次から1つ選び記号で答えなさい。

ア 黄海こう イ 南シナ海 ウ 東シナ海 エ 日本海

問7 文中の(5)に入る人物を次から一人選び記号で答えなさい。

ア 小野妹子 イ 鑑真 ウ 行基 エ 阿倍仲麻呂

- - 霧島から雲仙へ - -

霧島山を下って高速道路で熊本県へ向かいました。人吉盆地ひとよしでは急流で有名な球磨川くまがんかを眼下に見て渡り、長い間、山間部を走ってようやく八代平野やつしろに出ました。急に視界が広がった感じです。しばらく北上して熊本インターチェンジであり、市内へ向かいました。

毅 「ねえ、インターチェンジや空港の周辺にあった工場ではいったい何を作っているの。」

父 「うん、あのあたりは輸送に便利だから、おもに(6)などの生産をしているんだよ。」

毅 「そう言えば九州のことをよくシリコンアイランドって呼ぶよね。」

熊本市内に入ると今ではめずらしくなった路面電車が走っていたり、地元のデパートや銀行、新聞

社などが見られます。現在、熊本市の人口は65万人余りで、九州地方では3番目の大都市です。熊本城などを見学して、熊本港からフェリーで 島原へ向かいました。島原港に近づくと間近に普賢岳が見えました。1991年の大噴火の時には火砕流や大量の噴出物のために大きな被害が出たことはまだ記憶に新しいことです。その被災地を通り抜けて「雲仙地獄めぐり」へ向かいました。

問8 文中の(6)に入る適切な語を答えなさい。

問9 文中の下線部 について、このあたりでは戦国時代から江戸時代の初めにかけて、たくさんのキリスト教信者がいました。それについて、正しい文を次から1つ選び記号で答えなさい。

- ア フランシスコ＝ザビエルは現在の山口県に初めて上陸し、各地へキリスト教を伝えました。
- イ 九州の三人の戦国大名はローマ法王のもとに少年使節をつかわしました。
- ウ 徳川家康は朱印船貿易とキリスト教を禁止し、鎖国を完成させました。
- エ 徳川秀忠の時代に起こった島原・天草の一揆で、多くのキリスト教信者や農民が幕府軍に殺されました。

- - 雲仙から長崎へ - -

雲仙を下って橘湾沿いをしばらく走り、諫早に出ました。

父 「ほら、向こうに諫早湾が見えるよ。」

毅 「去年、干拓のために湾をしめ切り、ムツゴロウが干あがりたりして問題になってた よね。」

父 「そうだったね。これは 開発か環境かの難しい問題なんだ。じゃあ、ちょっと寄って自分の目でしっかり見ておこう。」

ここから高速道路で長崎市へ向かいました。1945年8月9日、午前11時2分に 原爆の投下された町です。爆心地に近い平和公園には、いつでもたくさんの観光客が訪れます。また、この町はキリシタン文化や 蘭学などの外国文化の影響がみられる観光都市です。浦上天主堂、原爆資料館、出島跡、オランダ坂、グラバー園などを見ることができます。この町は平地が少ないので、傾斜地にたくさんのビルや住宅が立ち並んでいます。坂が多く道も狭いので、バイクやスクーターが活躍するといえます。

問10 文中の下線部 ~ について、それぞれ答えなさい。

このような問題は近年数多くみられます。環境を守るために一人一人が出し合った寄付金で土地を買い取り、自然を守ろうとする運動は何ですか、カタカナで答えなさい。

a 次のA～Dの出来事が起こった順序として正しい組み合わせを下のア～エから1つ選び記号で答えなさい。

- A 長崎への原爆投下 B ソビエト連邦による日本への宣戦布告
- C 広島への原爆投下 D 連合国によるポツダム宣言発表
- ア { D - C - A - B } イ { D - C - B - A }
- ウ { C - A - B - D } エ { C - B - A - D }

b 戦後、核兵器をなくしていこうという動きが高まりました。1982年には国連で開かれた特別総会に被爆者の代表も参加して核廃絶を訴えました。この総会は何ですか、漢字で答えなさい。

国連 特別総会

江戸時代には長崎から入ってきた蘭学がさかんになりました。杉田玄白とともに右の解剖書を著わした蘭学者を次から一人選び記号で答えなさい。

- ア 緒方洪庵 イ 伊能忠敬



ウ 吉田松陰 オ 前野良沢

- - 長崎から平戸へ - -

海岸線に沿って、途中ハウステンボスに寄って平戸に向かいました。

毅 「このあたりの海岸線って、ずいぶんと入り組んでいるね。」

父 「ああ、このあたりの海岸は陸が海に沈みこんでできた（ 7 ）式海岸っていうんだよ。」

毅 「九十九島なんかもそうやってできたのかな。」

西海橋を渡って佐世保の南の大村湾に面したハウステンボスに着きました。ここはオランダの町なみを再現した大きなテーマパークで、とても1日では回り切れない大きさです。1時間半ほど走って平戸に着きました。ここは古くは遣唐使船の寄港地で、^{なんばん}南蛮貿易でも^{はんえい}繁栄した町です。17世紀のはじめには外国の商館が置かれ、小さな町ですが史跡も多いところです。

問11 文中の（ 7 ）に入る適切な語を答えなさい。

問12 文中の下線部の「南蛮」とはどこの国ですか。次から2つ選び記号で答えなさい。

ア イギリス イ スペイン ウ オランダ エ フランス オ ポルトガル

- - 平戸から福岡へ - -

海岸線に沿って、しばらく走り伊万里^{いまり}を経て有田に着きました。このあたりは日本でも有数の（ 8 ）の生産地です。さらに岩岳から高速道路で吉野ヶ里^{よしの}へ向かいました。ここは工業団地の開発中に大きな集落跡が発見された場所です。いまは小高い丘の上に物見やぐらや^{たてあな}竪穴住居、^{じょうさく}城柵などが復元されています。佐賀市から筑紫平野を通り抜けて柳川へ行きました。ここには、以前あちらこちらに小川のような（ 9 ）と呼ばれる水路が網の目のように広がっていましたが、今は土地改良工事で埋め立てられたり、大きな水田にまとめられたりして区画整理が進みました。^{やめ}八女インターチェンジで高速道路に乗り太宰府に立ち寄って、学問の神様にお参りしてようやく福岡市に着きました。とうとう九州の旅も終わりです。博多駅から新幹線で東京へ戻りました。

問13 文中の（ 8 ）に入る最も適切な語を次から1つ選び記号で答えなさい。

ア 織物 イ 和紙 ウ ^{しっき}漆器 エ 陶磁器

問14 文中の（ 9 ）に入る適切な語を答えなさい。

問15 文中の下線部について、吉野ヶ里遺跡はある時代を代表するものです。その時代の発掘品として最も適切なものを次から1つ選び記号で答えなさい。

ア ^{どくう}土偶 イ ^{もっかん}木簡 ウ ^{はにわ}埴輪 エ ^{どうたく}銅鐸

（早稲田中学校）

【解答】

1.

- 問1 A九州(山地) B筑後(川) 問2 ア
問3 aカ bサ cシ dス eケ
(あ)干拓 (い)促成栽培 (う)さつまいも (え)さとうきび (お)牛
問4 (地図) f g h i j k l m
(語群) fし gさ hす iた jき kそ lせ mつ
問5 ぬ

2.

- 問1 エ 問2 2九州 3リアス 4シラス 問3
問4 対馬海流 問5 ウ 問6 オ 問7 ア 問8 エ
問9 エ 問10 オ 問11 オ 問12 略 問13 (1)ウ (3)ア
問14 シリコンアイランド 問15 オ、C

3.

- 問1 あ11 い13 う18 え24 お34 か38 き28 く30 け26 こ15
さ16 し37
問2 (1) 1 (2) 1・3 (3) 2 問3 5・7 問4 (1) 5 (2) 3
問5 2 問6 5 問7 1・5
問8 (1) 1 (2) 3・5 問9 4
問10 11 12 16 24 32 40 31 21 20

4.

- 問1 エ 問2 イ 朝鮮通信士 ア 1972年 aエ bア 問3 ア
問4 シラス 問5 ア 問6 ウ 問7 イ 問8 IC(集積回路) 問9 イ
問10 ナショナルトラスト aイ b軍縮 エ 問11 リアス 問12 イ・オ
問13 エ 問14 クリーク 問15 エ