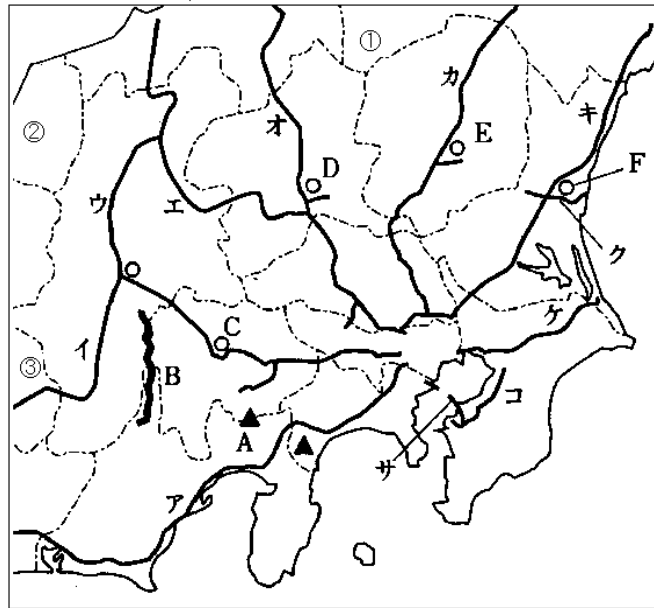


## 入試問題演習 関東地方

1. 次の地図を見て、また、文を読んで、あとの問いに答えなさい。



主な幹線の高速道路は、主な都市と都市、都市と港などを最短経路で結んでいます。しかし、例外もあります。例えば地図中のアの高速道路は、箱根の山々や（ A ）山をさけるため、イの高速道路は、（ B ）山脈をさけるため、大きく曲げて作られています。

- (1) 文中の（ A ）（ B ）は、地図中の A B と一致します。（ ）に適する語を漢字で書きなさい。
- (2) 地図中の C ～ F は、県庁所在地を示しています。それぞれの都市名を漢字で書きなさい。
- (3) 関東甲信越に接する県の一部だけが見えている所に①～③の番号を付けました。それぞれの県名を漢字で答えなさい。
- (4) 次の高速道路の名称に当てはまるものを、ア～サから選び、記号で答えなさい。  
a 関越自動車道    b 常磐自動車道    c 中央自動車道
- (5) 次の文は、東京から出発して地図中のア～サの高速道路のどれかを、進んでいる時の様子です。どの高速道路か。ア～サから選び、記号で答えなさい。

「笹子トンネルを抜けると、広い果樹園が見えてくる。この付近では、全国の三分の一のももが、また、全国の四分の一のぶどうが生産されているそうだ。」

（昭和学院秀英）

2. ジンくんとカナちゃんは、夏休みを利用して関東地方各県の学習をしました。次の文を読んで、後の各問いに答えなさい。

ジンくん 「関東地方の地図って、いつもお天気予報などで見ているのに、どうして県名とその位置が覚えきれないのだろうね」

カナちゃん 「せっかくだから、確認しておかない？ 先生が紹介してくれた地理用語集があるから、それで 1 都 6 県の特徴も学習しなしましょうよ」

ジンくん 「この5つの県が区別しにくいよね」

そういつて、地理用語集の説明をノートに書き写しました。

— [あ] —  
丘陵の多い半島部と台地の広がる北部に分けられる。太平洋側の気候で、南部は冬でも暖かい。東京に近いことから、野菜などの近郊農業がさかんである。第二次世界大戦後、東京湾ぞいの臨海部に（ a ）工業地域がつけられ、重化学工業を中心に大工場が進出した。

— [い] —  
東部の台地は関東ロームにおおわれているが、利根川流域は平野が広がる。気候は温和であるが、一部でやませの影響を受けるなど東北地方の太平洋岸に似ている。  
稲作がさかんであるが、野菜・果実の生産も多い。電気機器の日立市や（ b ）工業地域などがあり、工業もさかんである。

— [う] —  
西部は山地と盆地、東部に平野が広がっている。太平洋側の気候。「（ u ）都民」とよばれるように、東京の会社や学校に通勤・通学している人が多い。農業は平野部で野菜栽培、山地では畜産がさかんである。近年は、機械・金属・化学工業が発展している。

— [え] —  
南東部に台地と平野が広がるが、それ以外はほとんど山地がしめる。冬には北西部の山地は雪が多いが、低地は晴天が多く、山地から吹きおろす季節風はからっ風とよばれる。野菜の栽培や畜産がさかんである。近年は、自動車・電気機器などの工業が発達している。

— [お] —  
中央部は低地であるが、北西部は火山をふくむ山地がしめる。平野部は寒暖の差が大きい。畑作が中心で、乳牛の飼育もさかんである。輸送機器・電気機器・食料品などの工業も発達している。

参考文献：吉野教育図書『地理基本用語集』より

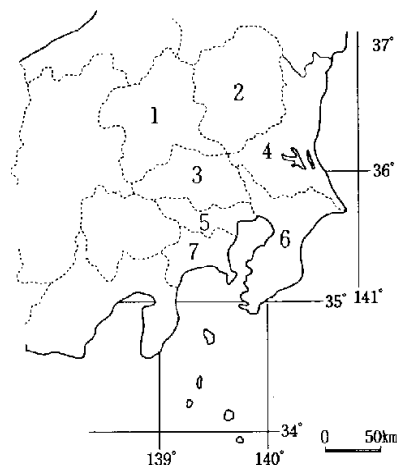
カナちゃん「5つの県では、それぞれ特色のある農業が行われていることがわかったわ」

ジンくん「それに、私たちが住んでいる東京や神奈川と地形的な特色や気候も少しずつちがうことがわかるよね」

カナちゃん「これで関東地方はばっちりね」

問1 文中 [あ] - [お] の各県の位置を、右の白地図から選び、その番号を答えるときに、県名を漢字で答えなさい。

問2 下の表は、日本の主な工業地域の工業製品出荷額内訳を示しています。文中の（ a ）工業地域に該当するものを選び、その番号を



答えるとともに、表のXにあてはまる工業名を漢字で答えなさい。

	金属工業	機械工業	X	食料品工業	繊維工業	その他の工業
1	11, 5	49, 8	7	10, 7	1, 9	19, 1
2	21, 8	23, 5	26, 8	13, 6	0, 8	14, 1
3	8, 8	49, 2	9, 2	11, 2	1, 3	20, 3
4	15, 9	34, 7	18, 9	9, 9	4	16, 6

単位は % 『1999/2000日本国勢図会』より作成

問3 文中の ( b ) 工業地域は、県内に大工業地帯をつくるという県の強い要望が国を動かして建設されたものです。この工業地域の建設の要因を下から選び番号を答えなさい。

- 1 鉄鉱石や石炭の生産地が近くにあった
- 2 明治時代のはじめに外国製の機械を購入した近代的なモデル工場があった
- 3 近くに高速道路のインターチェンジがあり、トラック輸送の拠点となっていた
- 4 港も鉄道もなかったが、松林と砂浜の連なる農村に掘り込み式の人工港をつくった
- 5 首都東京と隣接し、印刷や出版の工場が集まっていた

問4 次の表は、関東各県の県別の主な特産品をあげたものです。文中の下線部に注目して、①～④にあてはまる県を文中の (あ) ～ (お) の県から選び、記号を答えなさい。

①	特産品	統計年	全国の生産に占める割合 (%)	47都道府県の順位
	落花生	1998	75	1
	かぶ	1998	26	1
	サトイモ	1998	17	1
②	ねぎ	1998	16	1
	特産品	統計年	全国の生産に占める割合 (%)	47都道府県の順位
	こんにゃくいも	1998	91	1
	キャベツ	1998	14	1
	生しいたけ	1997	10	1
③	きゅうり	1998	9	1
	特産品	統計年	全国の生産に占める割合 (%)	47都道府県の順位
	れんこん	1998	33	1
	露地メロン	1998	22	1
④	はくさい	1998	21	1
	くり	1997	20	1
	特産品	統計年	全国の生産に占める割合 (%)	47都道府県の順位
	かんぴょう	1996	95	1
	大麦	1998	27	1
	いちご	1998	12	1
	にら	1996	21	2

『データで見る県勢2000』より作成

問5 次の表は、10万人以上の人口（1999年3月の住民基本台帳による）を持つ市を、県別に上位5位までを示したものです。①～③に当てはまる県を文中の (あ) ～ (え) の4つの県から選び、記号で答え

なさい。

単位(人)	①	②	③
1位	282,861	473,519	858,638
2位	240,150	453,414	541,763
3位	140,757	444,276	458,035
4位	119,888	323,335	433,545
5位	117,304	302,673	321,721
人口が10万人以上の市の総数	5	18	15

『データで見る県勢2000』より作成  
(神奈川大附属)

3. 次のA～Cの文章を読み、あとの問いに答えなさい。

A 日本の国の範囲は、東西にも南北にもとても広くひろがっています。最も東に位置する島は(1)に属する南鳥島で、最も南に位置する島は(2)に属する沖ノ鳥島です。東京を中心に半径1500kmの円を描くと、これらの2つの島はどちらも円の外側になってしまいます。いっぽう、北や西の方へ目を向けると、隣りの4つの国の国土がこの円の内側に入ってきます。①日本はこれら4つの国ぐにといくつかの海を境にして向き合っています。

B 第二次世界大戦後の日本の工業発展について見ると、経済の高度成長期に急速に重化学工業化が進み、それとともに工業地帯(地域)が拡大していきました。鉄鋼業や石油化学工業は大量の原料を必要とするため、輸入原材料の陸あげに便利で大消費地に近い工業地帯やその周辺の臨海部に大工場群が建設されていきました。(3)年代の2度の石油危機をきっかけに工業発展の重点が②大規模装置産業から高度組立型産業へ移っていき、いっぽうで高速道路や空港が整備されたことによって消費地や③貿易港への製品輸送が容易になり、④内陸部や地方にも工場進出がさかんに行われるようになりました。

C 東京都と埼玉県にまたがる(4)丘陵の森は⑤40年くらい前まで農家の人たちの生活の一部となっていた森で、樹齢20年くらいの木は切り倒して薪に、落ち葉は肥料などに利用していました。近年では農業をする人も減り、放置されたままの森は荒れ果ててしまうか、住宅地に転用されてしまうので、⑥地域の人びとが森の一部を買い取り、未来に残す森として草刈りやごみ拾いをして森の自然を保護しながらほど良く利用する活動が進められています。いっぽう、このような地域の活動とは別に、国際的な条約に大切な自然や歴史的な遺産を登録して保護し、未来に残していこうという動きもあります。その例として関東地方では、世界遺産条約に登録された(5)の社寺やラムサール条約に登録された東京湾の(6)がよく知られています。このような条約への登録は保護活動のゴールではなくスタートであるということをお忘れずに、いろいろな活動を続けていくことが大切です。

問1 空らん(1)と(2)にあてはまる都道府県の正しい組み合わせを、次のア～エから1つ選び、記号で答えなさい。

ア (1) 北海道 (2) 沖縄県      イ (1) 東京都 (2) 沖縄県

ウ (1) 東京都 (2) 東京都 エ (1) 北海道 (2) 鹿児島県

問2 空らん ( 3 ) にあてはまる4けたの数字を答えなさい。

問3 空らん ( 4 ) と ( 5 ) にあてはまる地名を、それぞれひらがなで答えなさい。

問4 空らん ( 6 ) にあてはまる干潟ひがたの正しい位置を、あとの図中のア～オから1つ選び、記号で答えなさい。

問5 下線部①にあてはまる海で(1)最も北にある海、(2)最も西にある海の名前を、それぞれ答えなさい。

問6 下線部②の大規模装置産業とは鉄鋼や石油化学のような種類の工業ですが、高度組立型産業とはどのような種類の工業ですか。高度組立型産業にあたる工業を、次のア～キから1つ選び、記号で答えなさい。

- ア 化学せんい工業      イ 紙・パルプ工業      ウ アルミニウム工業  
 エ 木材・木製品工業      オ 家具工業      カ 情報通信機械工業  
 キ 金属工業

問7 下線部③に関連して、次の表は東京都または千葉県を代表する3つの貿易港X～Zの、主な輸入品(上位5品目)とその取り扱い額(2004年)を示したものです。

(日本国勢図会による)

X		Y		Z	
集積回路	1兆3410億円	石油	1兆4153億円	魚介類 <small>ぎよかいりい</small>	4706億円
コンピュータ	1兆0327億円	液化ガス	3169億円	コンピュータ	4088億円
精密機械	9709億円	自動車	2527億円	肉類	3847億円
医薬品	3671億円	鉄鋼	761億円	衣類	3413億円
電機計測機器	3612億円	たばこ	490億円	家具	1363億円

(1) 表について述べた次の文ア～エのうち、誤っているものを1つ選び、記号で答えなさい。

- ア Xは高価な品目が多く、その取り扱い額も極めて大きく、輸送費が他と比べて割高でも大きな利益をあげている港である。  
 イ Yの主な取り扱い品目は原料や燃料であり、Yは近くに化学工業を中心とした工業が発達している臨海部の港である。  
 ウ XとYの取り扱い品目は、ともに高価であるが重量の重いものが多く、航空機での輸送には適さないため、XとYは臨海部の港である。  
 エ Zの取り扱い品目は、人びとの日常の暮らしに直接結びつくものが多く、Zは大都市を背にした港の特徴とくちょうを有している。

(2) X～Zの貿易港の名前をそれぞれ答えなさい。

問8 下線部④に関連して、次の表は関東地方の主な工業地帯または工業地域の産業別生産額の割合(単位%)を、それぞれ上段から下段へ、1972年、1982年、1992年、2002年の順に示したものです。ア～ウは、京浜工業地帯、京葉工業地域、関東内陸(北関東)工業地域のいずれかです。関東内陸(北関東)工業地域を示すものを、ア～ウから1つ選び、記号で答えたいうで、そのように判断した理由を、15字以内で書きなさい。ただし、機械工業以外のことについて書きなさい。

(日本国勢図会による)

	金属	機械	化学	食料品	せんい	その他
ア	34.1	13.8	25.5	12.2	1.4	13.0
	24.8	13.1	40.3	10.8	0.8	10.2
	25.4	19.9	27.7	12.6	0.9	13.5
	18.0	19.0	33.5	13.6	0.4	15.5
イ	17.6	39.7	5.7	9.6	6.1	21.3
	15.8	43.8	7.8	10.2	3.3	19.1
	12.1	51.2	6.2	9.6	2.3	18.6
	10.9	48.1	8.3	12.7	1.3	18.7
ウ	13.2	44.9	10.5	9.2	2.1	20.1
	10.4	45.6	15.5	7.4	1.3	19.8
	8.5	52.2	10.2	6.5	1.0	21.6
	7.3	50.5	14.6	9.4	0.7	17.5

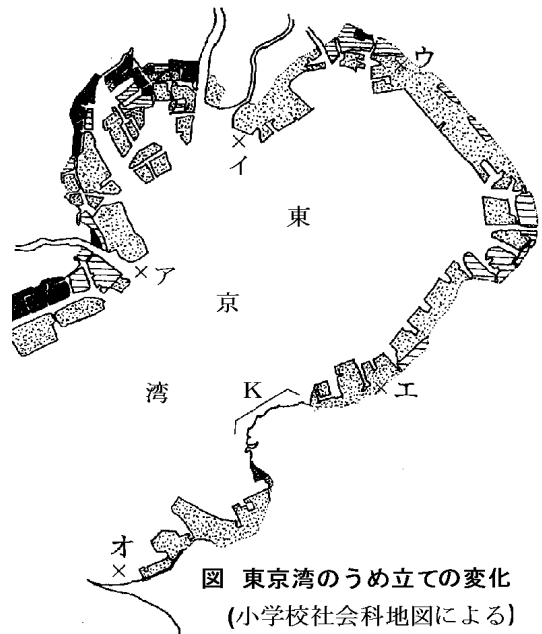
問9 東京湾沿岸のうめ立てに関連した次の文ア～エのうち、誤っているものを1つ選び、記号で答えなさい。ただし、必要があれば右の図を参考にしなさい。この図は、1996年までにつくられたうめ立て地について、うめ立ての時期を3つに区切って、略図に示したものです。

ア 東京湾のうめ立ては全体としてみると、京浜工業地帯でいち早く始まり、その後、京浜工業地帯の沖合いや京葉工業地帯へと拡大した。

イ 経済の高度成長期の後半には、一部の地域を除いて、東京湾沿岸のほぼ全域にうめ立て地が拡大した。

ウ 図中のKで示した地域でうめ立てが行われていないのは、東京湾アクアラインの建設に支障がないようにするためであった。

エ うめ立て地の拡大で東京湾沿岸の自然の海岸線はほとんど失われたが、今日でも、漁業のための港は湾内にいくつか残されている。



問10 下線部⑤のような森をふつう何といいますか。正しいものを、次のア～エから1つ選び、記号で答えなさい。

- ア 里山    イ 水源林    ウ 屋敷森    エ 人工林

問11 下線部⑥のように、人びとが協力して大切な自然や歴史的な遺産を買い取ったり、寄贈されたりして所有し、保護する運動を何といいますか、「～運動」と続くように答えなさい。

(開成中学校)

【解答】

1.

- (1) A 富士      B 赤石
- (2) C 甲府市    D 前橋市      E 宇都宮市    F 水戸市
- (3) ① 福島県    ② 富山県    ③ 岐阜県
- (4) a オ      b キ      c イ
- (5) イ

2.

問1 (地図・県名の順に)

あ：6・千葉県      い：4・茨城県      う：3・埼玉県

え：1・群馬県      お：2・栃木県

問2 a 2      X 化学工業

問3 4

問4 ①あ    ②え    ③い    ④お

問5 ①え    ②う    ③あ

3.

問1 ウ      問2 1970

問3 4 さやま    5 にっこう    問4 ウ

問5 (1) オホーツク (海)    (2) 東シナ (海)

問6 カ

問7 (1) ウ    (2) X 成田空港    Y 千葉港    Z 東京港

問8 イ (理由) 化学工業の割合が小さいから。[せんい工業の割合が高いから。]

問9 ウ      問10 ア

問11 ナショナルトラスト (運動)

\* 知らないことばが出てきておどろいていけません。その場で、文字から考えましょう。