

## 入試問題演習 北海道地方

1 次の文を読んで、以下の問いに答えなさい。

北海道の面積は、7.8万㎡もあり、日本で一番大きな都道府県です。さらに、択捉島や歯舞諸島などのいわゆる（A）もあります。この千葉県とほぼ同じ面積の地域は、現在、（B）に占領せんりょうされていて、返還交渉こうしょうが続けられています。

札幌市は、石狩平野の南部にあります。この平野は、たいへん水はけが悪いため広大な湿地しつちや原野になっていました。また気温も低いので、湿地の植物は、枯れたあとも水の中でなかなかくさらないでいます。このような湿地を（ア）といいます。

第二次世界大戦後、排水路を整備したり、石灰をまいたり、レールをしいてトラックで大量の新しい土を運んだりして、この不毛の湿地や原野を農地に変えていきました。この土地改良のために運び込まれた土を（イ）といいます。こうして、広大な水田が生まれました。

しかし、1960年代の後半から、日本では米があまるようになってきました。そのため、水田では稲の栽培から、麦やマメや野菜など、米以外のものを作る（ウ）が進められました。

これを（エ）、または減反政策げんはんせいさくといいます。他の地域と同様に、この減反政策は、必ずしもうまくいっていません。農家のなやみの一つとなっています。

問1 文中の（A）（B）に、最も適する語を答えなさい。

問2 文中の（ア）～（エ）に最も適する語を、それぞれ一つ選び、番号で答えなさい。

- |             |        |                            |                          |
|-------------|--------|----------------------------|--------------------------|
| (ア) 1 シラス   | 2 ローム  | 3 泥炭地 <small>でいたんち</small> | 4 準平原                    |
| (イ) 1 ツンドラ土 | 2 黄土   | 3 粘土 <small>ねんど</small>    | 4 客土 <small>きやくど</small> |
| (ウ) 1 二期作   | 2 連作   | 3 転作                       | 4 輪作 <small>りんさく</small> |
| (エ) 1 計画経済  | 2 生産調整 | 3 農地改革                     | 4 新食糧法政策                 |

(昭和学院)

2 次の文を読み、問いに答えなさい。

北海道は、江戸時代まで（A）と呼ばれ、①独自の文化を持つ人々が住む土地でしたが、本州などからの移住者により開拓が進むにつれて、彼らの伝統的な生活や文化はだんだん圧迫あつぱくされてきました。

北海道の本格的な開発は、アメリカ合衆国から招かれた学者や技術者によって始まりました。「少年たishiよ大志を抱け」という言葉は、②札幌農学校教師であった（B）博士が、開拓の精神を示したものです。明治政府は屯田兵制度とんでんへいを実施じっししたり、移住をすすめる政策をとりました。③基盤目状ごばんめに区切られた道路を持つ町や村が各地に見られますが、それは、その土地が計画的に開拓されたからです。

明治時代のなかばごろから移住者が急増し、開拓地が石狩平野などから、さらに北や東へ急速に拡大しました。それとともに、農業や漁業だけではなく、地元の資源を利用した鉱工業も発達しました。特に石炭は、北海道の開拓に大きな役割を果たしました。石狩炭田は、かつて、九州の筑豊炭田と並んで、日本を代表する石炭の産地でしたが、④1960年ごろから石油の使用が増え、また、⑤良質で安い石炭が外国から輸入されるようになったため、炭鉱は次々と閉山されました。

北海道の農業は、中央部の石狩平野や⑥旭川あさひかわのある上川盆地かみかわでは、稲作が盛んですが、東部や北部を中心とした地域では、畑作や酪農らくのうが盛んです。中でも十勝平野は北海道を代表する畑作地帯で、⑦寒さが厳し

い地域でも栽培が可能な作物や牧草を作っています。一方、<sup>こんせん</sup>根釧台地は、火山灰土で土地がやせているうえ、夏でも気温があまりあがらない地域です。この地域では、第2次世界大戦後、酪農の村づくりが試みられました。現在では、作業の大部分は機械化されていますが、動物相手なので1日も休むことができません。

問1 文中の（ A ）にあてはまる適切な言葉を答えなさい。

問2 文中の（ B ）にあてはまる人名を答えなさい。

問3 下線部①について、この北海道の先住民族を何といいますか。

問4 下線部②について、その位置はどれですか。下の図のア～カの中から選び、記号で答えなさい。

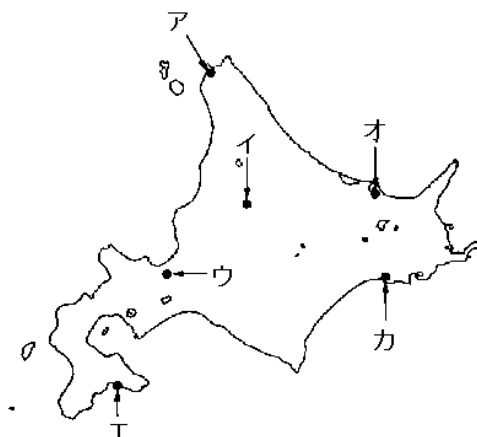
問5 下線部③について、このような道路の作り方は、どこの国をまねたものですか。

問6 下線部④について、エネルギー資源の中心が石炭から石油に移ったことを何といいますか。

問7 下線部⑤について、現在、わが国の最大の石炭輸入相手国はどこですか。

問8 下線部⑥について、その位置はどれですか。右の図のア～カの中から選び、記号で答えなさい。

問9 下線部⑦について、砂糖の原料であり、しばりかすは<sup>かちく</sup>家畜の飼料としても使われる作物で、わが国では北海道でしか栽培されていない作物は何ですか。



(明大中野中学校)

### 3 次の文を読み、下の地図を参照して後の各問に答えなさい。

正男君は昨年の夏休みに、家族と一緒に、上野駅を午後7時3分発の「<sup>ほくと</sup>北斗星5号」の寝台車を利用して、北海道へ旅行しました。初めて寝台車を利用しましたが、本州と北海道を結ぶ（ A ）トンネルを通過するころは、もう明るくなっている時刻でした。列車は定刻通り朝6時34分に、トンネルができるまでは連絡船が発着していた（ B ）駅に着きました。

午前中は（ B ）市内を見学し、午後の列車で札幌へ行き、ホテルで十分に休みました。翌日からは、お父さんが運転するレンタカーで、北海道の中央部の富良野盆地や（ C ）平野をまわり、東部の（ D ）半島では①北方領土の一部も眺めることができました。その後、東北地方や樺太（サハリン）南部にも住んでいて、独自の文化をきずいていた先住民の（ E ）の人々の伝統文化が残っている弟子屈（てしかが）町などをまわって、一週間の北海道旅行を終え②釧路から羽田まで飛行機で帰ってきました。

正男君たちが旅行した北海道は、南部の（ B ）や松前町を除き、明治時代以後に開発・開拓されました。北海道の道庁のある（ F ）市は京都を、旭川はニューヨークをモデルにして計画的につくられたそうです。明治維新後に開拓にあたった（ G ）兵が開いた当時の村は、直線状の幅広い道路の両側に整然と家が並んでいたそうです。

1960年ころまでは九州の<sup>ちくほう</sup>筑豊炭田などとともに、北海道は石狩炭田など、石炭を多く産出していました。しかし、その後、③炭鉱はつぎつぎに閉山されました。

問1 Aのトンネルの呼び名を書きなさい。

問2 B（地図のB）・C（地図のC）・D（地図のD）・F（地図のF）にあてはまる地名等を書きなさい。

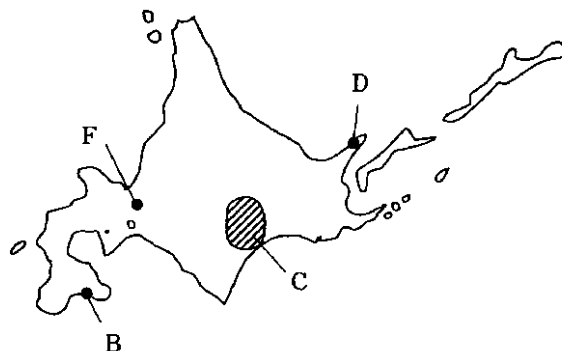
問3 E・Gに適語を書きなさい。

問4 正男君は、寝台車で東京都・北海道を除き、いくつの県を通過しましたか。

問5 文中の下線①の4つの諸島で、歯舞諸島・色丹島以外の二つの島名を書きなさい。

問6 文中の下線②の漁港は水産物の水揚げ高が、日本で第・位を続けていましたが現在は第5位です。(2001年)第・位でなくなった理由を簡潔に書きなさい。

問7 文中の下線③の理由を書きなさい。



(法政大学第二中学校 改題)

4 次の文章を読んで、あとの問いに答えなさい。

北海道は①日本の最北端に位置し、②冷涼な気候、③恵まれた自然など本州にはない特徴があります。また、その自然を生かした農業や④漁業、⑤工業もたいへんさかんにおこなわれています。道庁所在地の⑥札幌は人口100万人をこす大都市で、政令指定都市になっています。

2005年7月には⑦知床が世界遺産に登録されました。世界遺産には文化遺産、自然遺産、複合遺産の3種類がありますが、知床は自然遺産にあたり、国内では3件が自然遺産に登録されています。しかし、世界遺産に登録されると観光客が増えて、環境が破壊されてしまうという問題も考えていかななくてはなりません。

(1) 下線部①について、日本の最北端とほぼ同じ緯度、経度に位置している国の組み合わせとして正しいものを次のア～エから1つ選び、記号で答えなさい。

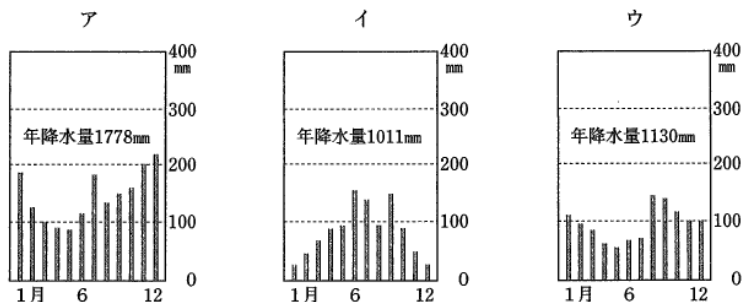
ア 緯度 イギリス 経度 ニュージーランド

イ 緯度 フランス 経度 ニュージーランド

ウ 緯度 イギリス 経度 オーストラリア

エ 緯度 フランス 経度 オーストラリア

(2) 下線部②について、下のグラフは札幌、新潟、松本の月別降水量を表しています。ア～ウから札幌のグラフを1つ選び、記号で答えなさい。また、そのグラフを選んだ理由を書きなさい。



(3) 下線部③について、下の地図上のA-Bに沿って見られる地形を次のア～キから3つ選び、A-Bの

順番になるように並べかえなさい。

- |                              |                             |
|------------------------------|-----------------------------|
| ア <small>ゆうばり</small> 夕張山地   | イ <small>と かつ</small> 十勝平野  |
| ウ <small>ひ だか</small> 日高山脈   | エ <small>きた み</small> 北見山地  |
| オ <small>て し お</small> 天塩山地  | カ <small>こん せん</small> 根釧台地 |
| キ <small>い し かり</small> 石狩平野 |                             |

(4) 下線部④について、以下の3つの問いに答えなさい。

問1 北海道で一番水揚げ高の多い漁港を答えなさい。

問2 問1の漁港で最も多く水揚げされているものを次のア～オから1つ選び、記号で答えなさい。

- |       |        |       |
|-------|--------|-------|
| ア たら類 | イ かつお類 |       |
| ウ あじ類 | エ まぐろ類 | オ さば類 |

問3 日本が多く輸入している水産物の1つにエビがあげられますが、そのエビを日本へ多く輸出している国について説明したものを次のア～エから1つ選び、記号で答えなさい。

ア 国の中央をアマゾン川が流れ、その周辺は熱帯雨林におおわれている。日本からは遠く離れているが、日系人が多く、つながりがたいへん深い国である。

イ 北海の西に面したこの国は、漁業もさかんだが北海海底では油田が発見され、自給できるまでになっている。

ウ らくのう 酪農やチューリップの栽培がさかんな国である。昔から海を干拓して国土を<sup>かんたく</sup>広げてきており、現在の国土の4分の1は海面以下である。

エ 人口では世界で4番目に多い国である。2004年12月26日に大規模な地震が発生し、その際の津波で大きな被害を受けた。

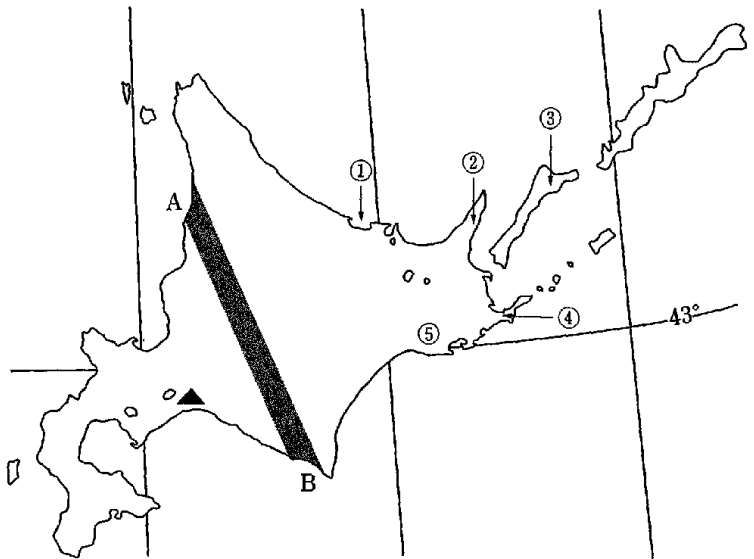
(5) 下線部⑤について、上の地図上の▲の都市でさかんに生産されている製品を次のア～オから1つ選び、記号で答えなさい。

- |          |       |         |        |      |
|----------|-------|---------|--------|------|
| ア 製紙・パルプ | イ ビール | ウ 水産加工品 | エ 精密機械 | オ 砂糖 |
|----------|-------|---------|--------|------|

(6) 省略

(7) 下線部⑦について、知床の位置を前の地図上の①～⑤から1つ選び、番号で答えなさい。

(実践女子学園中学校)



【解答】

1

A 北方領土 B ロシア連邦  
ア 3 イ 4 ウ 3 エ 2

2

問1 蝦夷地 問2 クラーク 問3 アイヌ 問4 ウ  
問5 アメリカ 問6 エネルギー革命 問7 オーストラリア  
問8 イ 問9 てんさい

3

問1 <sup>せいかん</sup>青函トンネル 問2 B 函館駅 C 十勝平野 D 知床半島 F 札幌  
問3 E アイヌ G <sup>とんでんへい</sup>屯田兵 問4 7つ 問5 択捉島・国後島  
問6 北洋漁業が漁業水域の制定などでふるわなくなったから。  
問7 外国産の方が安いから。

4

- (1) エ
- (2) (記号) ウ (理由) 年降水量が少なく、梅雨の影響も見られないから。
- (3) オ→ア→ウ
- (4) 問1 釧路港 問2 ア 問3 エ
- (5) ア
- (7) ②