

## 国際紛争

1 次の文章をよく読んで、問いに答えなさい。

『ユーゴスラビア連邦セルビア共和国のコソボ自治州紛争で、北大西洋条約機構（NATO）は24日夜（日本時間25日早朝）、ユーゴに対する空爆を始めた。爆撃はベオグラード近郊の軍事施設などユーゴ全域におよび、ユーゴ政府は「戦争状態」を宣言、徹底抗戦の態勢にはいった。空爆に反対してきたロシアの要請で国連安全保障理事会がただちに開かれ、ロシアと中国は安保理の許可を得ていない武力行使を「国連憲章に違反する」と非難し、攻撃の即時停止を求めた。二千人の犠牲者と三十万人以上の難民を生んだコソボ紛争は、NATOとユーゴ連邦軍の全面対決という事態にいたった。』（1999.3.25朝日新聞）

この記事は1999年3月に起きた、NATO軍のユーゴスラビア連邦への空爆の様子をあらわしたものです。もともとユーゴスラビア連邦は第1次世界大戦後に成立した国で、4つの宗教、5つの言語、6つの共和国7つの民族をもつといわれた多民族国家でした。しかし、1989年以降民族と宗教の対立が激しくなり、1991年にはスロベニアやクロアチア、マケドニアが独立し、また翌1992年に独立を宣言した国では内戦が激しくなり、民族浄化の名のもとに大量の難民を生んだ事件もありました。

今回の空爆の中心となったアメリカ合衆国のクリントン大統領は、地上戦を行わないとしながら三カ月にわたって空爆を続け、その結果ついに和平が実現しましたが、まだまだ問題は残されています。

問1 下線部 について、次の問いに答えなさい。

- (1) 北大西洋条約機構は、第2次世界大戦後の東西対立の中であつたものであるが、この対立のことを何というか、答えなさい。
- (2) 北大西洋条約機構があつた1949年当時、日本の占領政策を行つていた中心人物は誰か、その人物名を答えなさい。

問2 下線部 について、次の問いに答えなさい。

ユーゴスラビア連邦と日本の時間が違ふのは、時差があるためである。では、イギリスのロンドンが午前11時の時、日本は何時になるのか次のア～オの中から選び、記号で答えなさい。ただし、サマータイム等は考えないこととする。

ア 午後2時    イ 午後4時    ウ 午後6時    エ 午後8時    オ 午後10時

問3 下線部 について、次の問いに答えなさい。

ユーゴスラビア連邦の首都ベオグラードは北緯約45度に位置するが、同緯度にある日本の北方領土最大の島は何というか、カタカナで答えなさい。

問4 下線部 について、次の問いに答えなさい。

- (1) 国連の本部が置かれてゐる都市名を答えなさい。
- (2) 国連に1999年12月現在までに加盟してゐる国はいくつか、最も適する数字を次のア～オの中から選び、記号で答えなさい。

ア 98    イ 128    ウ 158    エ 188    オ 218

問5 下線部 について、次の問いに答えなさい。

- (1) 第1次世界大戦以前に、日本の領土（植民地）になつてゐた地域に関する下の表の（    ）～（    ）に当てはまる語句を答えなさい。

(2) 第一次世界大戦の終わった年に日本では、初めて本格的な政党内閣が生まれたが、その時の首相は誰か、その人物名を答えなさい。

領土(植民地)	出来事	条約名
台湾	日清戦争	( 条約 )
南樺太	日露戦争	( 条約 )
( )	( )暗殺事件	日韓併合条約

問6 下線部 について、次の問いに答えなさい。

ユーゴスラビアは多民族国家であるために国内紛争がおこっているが、これとは逆に一つの民族が二つの国家に分かれて対立している場合もある。アジアの場合、朝鮮半島で対立しているのは大韓民国とどこか、正式な国名で答えなさい。

問7 下線部 について、次の問いに答えなさい。

この国はどこか、適するものを次のア～エの中から選び、記号で答えなさい。

ア ボスニア・ヘルツェゴビナ イ アルバニア ウ チェチェン エ セルビア

( 渋谷教育学園渋谷 一部略 )

2 次の問1, 問2に答えなさい。

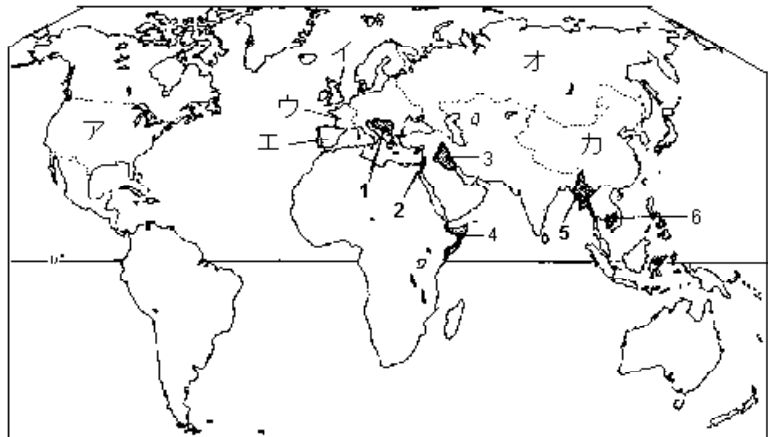
問1 下の地図をみて、次の(1), (2)に答えなさい。

(1) 次に述べたア, イの文は、地図中の  1～6のどの地域(または国)のことですか。それぞれ一つずつ選び、その番号を書きなさい。

ア ここには、キリスト・ユダヤ・イスラムの三つの宗教の共通の聖地があるため、紛争が続いているが、パレスチナ暫定自治の共同宣言が調印されたが、なお紛争は続いている。

イ ここでは、内戦が続いていたが、1993年、国際連合のUNTAQなどの活躍により、総選挙がおこなわれ、新政府が誕生した。日本からも自衛隊や警察官などが参加した。

(2) (1)のアやイで述べたような紛争を解決する最も重要な国際連合の機関は、安全保障理事会です。この機関は、常任理事国と非常任理事国から構成されています。常任理事国にあてはまらない国を、地図中のア～カの中から一つ選び、その記号を書きなさい。

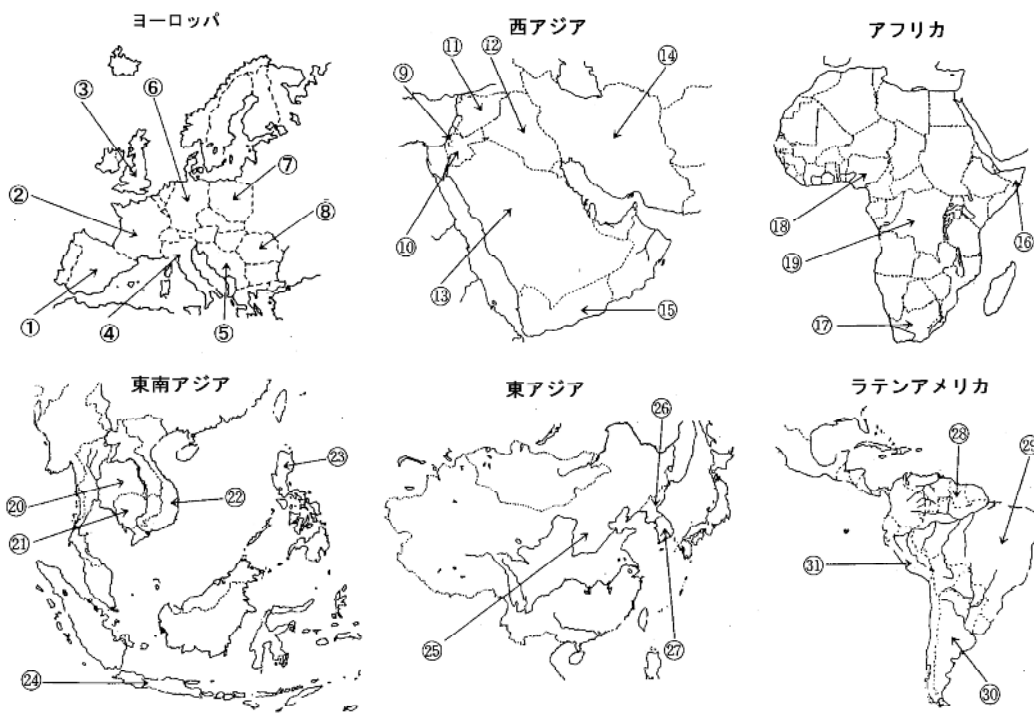


問2 20世紀に起きた二度の世界大戦の反省からつくられた国際連合の目的は、第一に戦争を防ぎ平和を守ること、第二は民主主義の精神を守り育てることです。1948年の第3回総会で、世界に自由と正義と平和を打ち立てるためには、基本的人権の保障が必要である、ということから採択された宣言を何といいますか。その宣言名を書きなさい。

( 西武文理 改題 )

3 以下の短文は最近の世界的に話題になった国の説明です。短文がさす国を以下の地図から選び記号で答えなさい。

- 1) アパルトヘイト（人種隔離政策）が公然と行われていた国で、1949年から人種間通婚禁止法・人口登録法・共産主義弾圧法などで、人口の80%以上の非白人を全土の13%の土地に隔離しようとしたが、現在この差別は解消された。
- 2) 日本がP K O部隊を初めて出動させた国で、長い間内戦が続いたが、国連監視下のもとでの総選挙の結果シアヌーク殿下のもとに平和的解決がなされつつある、
- 3) 日本への外国人労働者の数としては、この国は西アジアで一番多く、日曜日に上野や代々木公園にたくさん集まったことが話題になったりした。
- 4) 湾岸戦争でアメリカ合衆国を中心とする多国籍軍と戦い、敗れた。2003年、アメリカ合衆国などが、フセイン政権を倒すために、戦争をしかけ占領した。現在、戦後処理・民主化のため活動が続けられているが、治安悪化のため困難をきわめている。
- 5) 日系人として初めて大統領がでた国として、話題をよんだが、経済的には苦しい。その後、元大統領は犯罪者として訴えられ、日本に滞在している。
- 6) アフリカの角といわれている国で、内戦が激しく、飢餓のため国際的な募金活動が行われた。国連のP K O部隊が出動した。
- 7) 天安門事件で多くの市民の血が流された国。民主化運動は政府によって弾圧されたが、社会主義国にあって例外的に経済的繁栄をみせている。2008年にオリンピックが開催される。
- 8) パレスティナ人を追放して国を建てたため、4次にわたる中東戦争を引き起こした。1993年に両者は歴史的な和解をしたが、その後また紛争が続いている。
- 9) ベルリンの壁が崩壊し、二つに分かれていたこの国は1989年に統一された。
- 10) ボスニア・ヘルツェゴビナの内戦で多くの市民の血が流された。最近になって和平への動きがあるが、まだ解決されたわけではない。



(サレジオ学院 改題)

4 近年，世界では戦争や紛争が絶えない。また，自然災害や自然環境の破壊など，さまざまな問題が起きている。下の地図を見て，各問いに答えなさい。

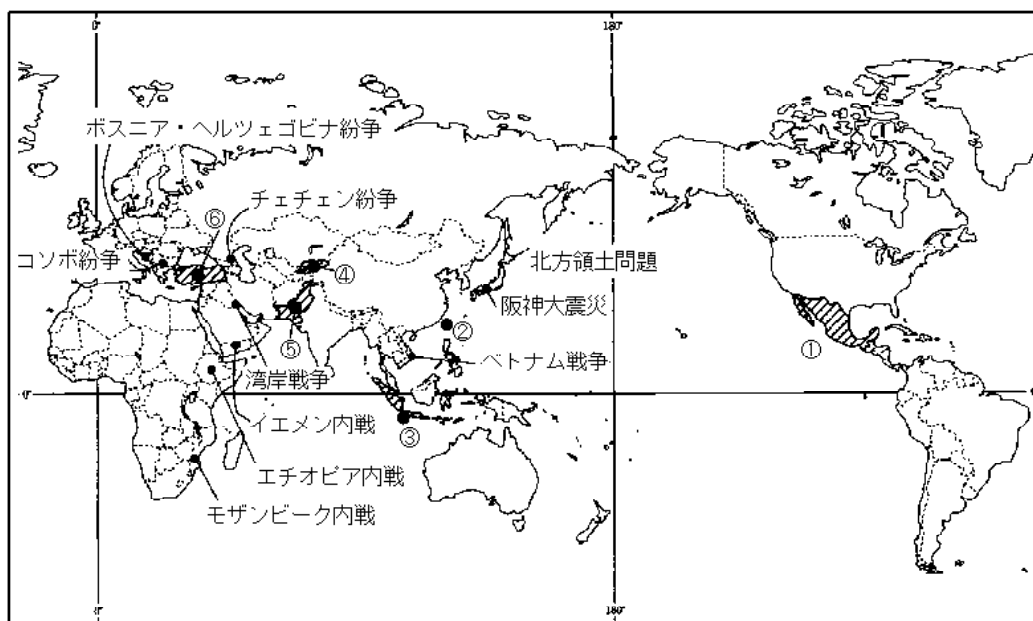
問1 次の文ア～エは，どこの国のことが国名を記し，また，その位置を地図上の番号で答えなさい。

ア 黒海に面し，イラク・シリアと国境を接する国。地震が多く1999年8月にマグニチュード7.4という大地震が起こり，さらに11月にも引き続き起こり，大きな被害をもたらした。

イ カシミール地方は，昔から国境問題で中国・インドと争いが絶えない。国内では，軍の政権に変わった。世界で核兵器を持っている国の1つである。

ウ 1万以上の島々からなり，大統領選挙が行われた。とくに東ティモールの分離独立運動で争いが絶えなかったが，東ティモールは，独立し2002年に国連に加盟した。

エ 中央アジアの国でテンシャン山脈の北に位置し，ソ連邦の解体で独立した。東は中国，西はウズベキスタン，北はカザフスタン，南はタジキスタンに接している。



問2 世界では国どうしの戦争や国の中での紛争が絶えない。それらの争いのおもな原因は何か，記しなさい。

問3 世界の平和と安全を守る目的で1945年につくられた国際的組織は何か，記しなさい。

問4 問3の組織の中で，国と国との争いを平和的に解決するため，中心になって活動をする機関は何か，記しなさい。

問5 地球上の自然環境の破壊について，とくに問題になっている例を4つあげなさい。

(学習院女子 改題)

5 次の1～13は第二次世界大戦後のおもな争いです。

- 1 アラブ諸国とイスラエルの戦争
- 2 アルジェリアの( )からの独立
- 3 イランとイラクの戦争
- 4 インドとパキスタンの戦争

- 5 キューバをめぐるアメリカとソ連の対立
- 6 コンゴの内戦
- 7 スエズ運河をめぐる、( )と( )が( )に<sup>しんこう</sup>侵攻しておこった戦争
- 8 ソ連のアフガニスタン侵攻
- 9 ( )と( )・中国という大国の対立がもとでおこった<sup>ちようせん</sup>朝鮮戦争
- 10 バングラデシュの( )からの独立戦争
- 11 フォークランド(マルビナス)諸島をめぐる( )と( )の戦争
- 12 フランスがしりぞいたあと、( )がベトナムの内政にかんしょうしておこったベトナム戦争
- 13 ( )が( )に侵攻したために、( )を中心とした国々と( )が戦った<sup>わんがん</sup>湾岸戦争

問1 1～13にあてはまる年を下のア～スから選び、その記号を書きなさい。

- |               |                           |              |              |
|---------------|---------------------------|--------------|--------------|
| ア 1947年と1965年 | イ 1948年と1956年と1967年と1973年 |              |              |
| ウ 1950～1953年  | エ 1954～1962年              | オ 1956年      | カ 1960年      |
| キ 1960～1975年  | ク 1962年                   | ケ 1971年      | コ 1979～1988年 |
| サ 1980～1988年  | シ 1982年                   | ス 1990～1991年 |              |

問2 1～13の文中の～にあてはまる国名を下の(あ)～(た)から選び、その記号を書きなさい。同じ記号を何度使ってもかまいません。

- |           |             |           |          |
|-----------|-------------|-----------|----------|
| (あ) アメリカ  | (い) アルゼンチン  | (う) イギリス  | (え) イタリア |
| (お) イラク   | (か) イラン     | (き) インド   | (く) エジプト |
| (け) クウェート | (こ) サウジアラビア | (さ) スリランカ |          |
| (し) ソ連    | (す) ドイツ     | (せ) パキスタン | (そ) ブラジル |
| (た) フランス  |             |           |          |

(学習院中等科)

6 次の文は、開智中学校のある社会科の先生が授業で生徒に話した内容の一部です。これを読んで、あとの問いに答えなさい。

君たちは世界や日本についていろいろ勉強しています。世紀末の10年間はさまざまな事件が世界中でおこりました。1989年には、11月に「ベルリンの壁」が崩壊し、さらに12月には マルタ会議によりアメリカとソ連の長年にわたる冷戦に終止符が打たれました。1990年には東西ドイツが統合し、東ヨーロッパでは民主化運動が急速に進展して社会主義体制が崩壊しました。ソ連も1991年に解体して、独立した各共和国は 独立国家共同体を結成しました。

そしてソ連とアメリカという超大国によって皮肉にも保たれていた国際的な力のバランスが崩れ、力の空白をぬうようにして各地で、民族問題がおこりました。この問題は、宗教や領土など多くの原因がからんでいるので、解決は非常に困難だと思います。

世界的な大変動という、日本も無縁ではありません。1991年には バブル経済が崩壊し長い不況におちいりました。同じ年に 牛肉とオレンジが輸入自由化されたことに象徴されるように、いろいろなる場面で国際化の動きが日本に押しよせていることがわかります。」

問1 下線 について答えなさい。

(1) この会談に出席したソ連の最高指導者は誰か、答えなさい。

(2) (1)の人物が行った政治に関係ないものを次のア～エから一つ選び、記号で答えなさい。

ア 共産党独裁を放棄して、複数政党制を採用した。

イ アメリカのレーガン大統領と中距離核戦力(I N F)全廃条約を結んだ。

ウ ペレストロイカやグラスノスチを実行した。

エ アフガニスタンに侵攻した。

問2 下線 について、この略称をアルファベット3文字で答えなさい。

問3 下線 について答えなさい。

(1) 長年の紛争に決着をつけるため、1999年独立のための住民投票を行った地域はどこですか。右の地図中のア～エから一つ選び、記号で答えなさい。

(2) また、その地域はかつてヨーロッパのある国の植民地であったが、その国名を答えなさい。



問4 下線 について、この原因はあるもの

の異常な値上がりがありました。「～と～」という形で2つ答えなさい。

(開智 一部略)

7 次の文章を読んで、下の問いに答えなさい。

1999年6月、第25回主要国首脳会議が(1)のライン川ぞいの都市ケルンで開催され、コソボ紛争<sup>ぶんそう</sup>や日本の経済問題について話し合われました。

冷戦後の世界秩序を回復するために、フランスのランブイエでスタートした主要国首脳会議は、はじめは西側先進国の経済問題を中心に扱うことを目的としていました。1990年代に入ると、ソビエト連邦が崩壊して、東西冷戦構造が終わり、環境汚染といった新たな問題が出てきたことで、地球規模での問題が主要テーマとして扱われるようになりました。

問1 (1)にあてはまる国名を答えなさい。

問2 次のア～エは、下線部の解体されたソビエト連邦のうちのロシア連邦に関する説明です。ア～エのうち、まちがいを含むものを1つ選んで、記号で答えなさい。

ア タイガとよばれる針葉樹林帯がある。

イ 世界最深の湖、バイカル湖がある。

ウ わが国とは平和条約が結ばれているが、北方領土問題は残っている。

エ チェチェン共和国の独立問題が未解決になっている。

(頌栄女子学院 一部)

【解答】

1

- 問1 (1) 冷たい戦争 (2) マッカーサー 問2 エ 問3 エトロフ(島)  
問4 (1) ニューヨーク (2) エ  
問5 (1) ポーツマス 下関 韓国 伊藤博文 (2) 原敬  
問6 朝鮮民主主義人民共和国 問7 ア

2

- 問1 (1) ア2 イ6 (2) エ 問2 世界人権宣言

3

- 1) 2) ㉑ 3) 4) 5) ㉑ 6) 7) ㉑  
8) 9) 10)

1は南アフリカ共和国、2はカンボジア、3はイラン、4はイラク、5はペルー、6はソマリア、7は中国、8はイスラエル、9はドイツ、10は旧ユーゴスラビア。

4

- 問1 ア - トルコ、 イ - パキスタン、 ウ - インドネシア、  
エ - キルギス、  
問2 少数民族が民族自決を目指したり、宗教的対立をおこしたりすること。  
問3 国際連合 問4 安全保障  
問5 ・フロンガスなどによるオゾン層の破壊  
・大気中の二酸化炭素の増加による地球温暖化  
・硫酸<sup>いおう</sup>化物や窒素<sup>ちっそ</sup>酸化物による酸性雨で森林<sup>か</sup>が枯れる  
・熱帯雨林の伐採<sup>ばっさい</sup>による砂漠化の進行 など

5

- 問1 1イ 2エ 3サ 4ケ 5ク 6カ 7オ 8コ 9ウ 10ケ 11シ  
12キ 13ス  
問2 た う た く あ し せ う い あ お け  
あ

〔解説〕

小学生にとっては非常に難度の高い問題です。正解率の低いものと予想されます。このような問題に入試で出会った場合は、慌てずに『合格点をとる』という基本を思い出してください。他の問題で、ミスをしないようにして、これは半分できればよいと、割り切ることです。中学生用の教科書に掲載されてはいるようです。

第二次世界大戦後におきた国際紛争についての問題。

1 アラブ諸国とイスラエルの紛争

1948年、イスラエルの建国をきっかけに周辺のアラブ諸国との間で第一次中東戦争がおきた。

以後、3回にわたって武力衝突がおこっており、なかでも1973年の第四次中東戦争のさいには、アラブ諸国の原油価格引き上げのため、欧米諸国や日本の経済が大きく混乱した（石油危機）。

## 2 アルジェリアのフランスからの独立

フランスの植民地であったアルジェリアで、1954年に民族解放戦線が結成され、独立を求める戦いが始まった。7年半にわたる戦いのすえ、フランスはアルジェリアの独立を承認した。

## 3 イランとイラクの戦争

1980年、イラクによるイラン攻撃によって始まった両国間の戦争。1988年、国連による停戦決議を両国が受け入れたことで、ようやく終結した。

## 4 インドとパキスタンの戦争

1947年と1965年の二度にわたっておきた、カシミール地方の帰属をめぐるインドとパキスタンの戦争。その後も両国間で交渉が続けられているが、帰属問題は決着がついていない。

## 5 キューバをめぐるアメリカとソ連の対立（キューバ危機）

1959年の革命により社会主義国となっていたキューバに、ソ連がミサイル基地を建設しようとして、アメリカ合衆国との間に緊張が高まった事件。米ソ全面戦争の危機であったが、ソ連がミサイルを撤去し、衝突は避けられた。

## 6 コンゴの内戦（コンゴ動乱）

1960年、コンゴはベルギーから独立したが、その直後に反白人暴動が全土にわたって発生し、これをしずめるためにベルギー軍が介入した。さらにコンゴ政府の要請により国連軍が派遣され、5年におよぶ内乱となった。

## 7 スエズ運河のエジプト国有化

1956年、エジプトがスエズ運河の国有化を宣言したことに對し、イスラエルがエジプトを攻撃し、イギリスとフランスもエジプトに出兵した。しかし、国連の即時停戦決議とソ連のエジプト支持声明が出され、侵入軍は撤退した。なお、第二次中東戦争とはこのスエズ戦争をさしている。

## 8 ソ連のアフガニスタン侵攻

1979年、ソ連がアフガニスタンに軍事介入し、社会主義政権をたてたが、イスラム教徒などの勢力の激しい抵抗で内戦となった。1988年にソ連軍が撤退したあとも、イスラム勢力内での対立から内戦が続いている。

## 9 朝鮮戦争

第二次世界大戦の終結により、朝鮮は日本の植民地支配から解放されたが、北緯38度線より南はアメリカ合衆国、北はソ連に占領され、1948年には大韓民国と朝鮮民主主義人民共和国（北朝鮮）とに分かれて独立した。そして、1950年に両国の間で朝鮮戦争がおこると、アメリカ軍を中心とする国連軍は大韓民国を支援し、1949年に成立していた中華人民共和国は、北朝鮮に義勇軍を送った。

## 10 バングラデシュの独立戦争

南アジアは第二次世界大戦までイギリスの植民地となっていたが、戦後、ヒンズー教徒の多いインドとイスラム教徒の多いパキスタンとに分かれて独立した。しかし、東パキスタンと西パキスタンとの間で対立が深まり、1971年3月、東パキスタンはバングラデシュとして独立を宣言した。これをおさえようとするパキスタンと、バングラデシュを支援するインドとの間で戦争がおきた（第三次インド・パキスタン戦争）が、インドが勝ってバングラデシュは独立を達



成した。

#### 11 フォークランド紛争

アルゼンチンの沖合いにあるフォークランド諸島（アルゼンチン名はマルビナス諸島）はイギリス領となっているが、1982年にアルゼンチンが領有権を主張してこれを占領した。これに対してイギリスが軍隊を派遣し、激しい戦いのすえに、イギリスが勝利をおさめた。

#### 12 ベトナム戦争

第二次世界大戦中までフランスの植民地であったベトナムは、戦後、独立を宣言し、フランスとの戦いのすえ、1954年のジュネーブ協定により南北に分割する形で独立が承認された。その後、南ベトナムではアメリカの支持する政府と、北ベトナムの支援を受けた南ベトナム解放民族戦線との間で内戦がおこったが、1965年にアメリカがこれに本格的に介入し、ベトナム戦争となった。1975年にアメリカ軍が撤退し、南ベトナム政権も崩壊。翌年、南北ベトナムが統一された。

#### 13 湾岸戦争

1990年8月、イラクがクウェートに侵攻し、これを占領した。翌年1月、アメリカ軍を中心とする多国籍軍が、国連の安全保障理事会の武力制裁決議にもとづいてイラクを攻撃し、2月末にはイラク軍をクウェートから撤退させた。これを湾岸戦争という。

### 6

問1 (1)ゴルバチョフ (2)エ 問2 C I S

問3 (1)ア (2)ポルトガル インドネシアから独立した東ティモールを指す。インドネシアはオランダの植民地だったが、ティモール島はポルトガルの植民地だった。

問4 株と土地

### 7

問1 ドイツ 問2 ウ