

入試問題演習 中国・四国地方

1. 次の文を読んで、問いに答えなさい。

中国・四国地方は(A)県からなり、さらに山陰・瀬戸内・南四国の地域に分けられます。これら3つの地域の気候には、それぞれはっきりした特色があります。

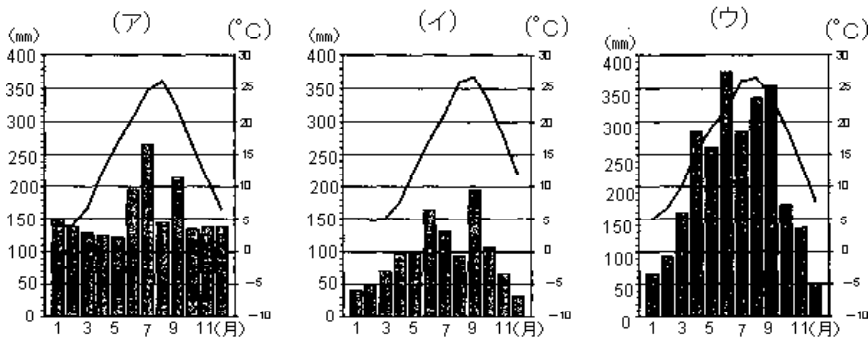
瀬戸内には、この地方の人口の大部分が集中していて、なかでも(B)市は人口が100万人を超えています。また、戦後の開発によって工業は大きく生産をのばし、鉄道や道路などの交通網の整備も進んでいます。しかし、人口の集中や産業の発達により、瀬戸内海では環境の汚染が問題になっています。

山陰や南四国では、人口の減少が止まらず、商店、学校、病院なども少なくなり、生活を維持していくことが困難な状態もみられますが、自然条件にあわせた農業や観光などによって、地域の発展をめざしています。

問1 (A)にあてはまる数字を答えなさい。

問2 (B)にあてはまる都市名を漢字で答えなさい。

問3 下線部 について、下のグラフは、中国・四国地方にある高知・高松・松江のいずれかの都市の気温と降水量を示したものです。このうち、高松にあてはまるものはどれですか。(ア)~(ウ)の中から選び、記号で答えなさい。

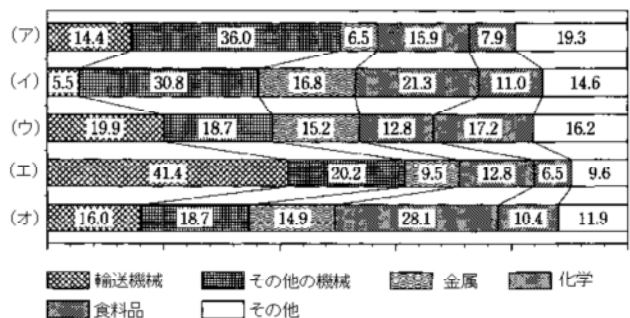


問4 下線部 について、下のグラフは、瀬戸内工業地域、京浜工業地帯・中京工業地帯・阪神工業地帯・北九州工業地帯の工業生産のうちわけを示したものです。このうち、瀬戸内工業地域にあてはまるものはどれですか。(ア)~(オ)の中から選び、記号で答えなさい。(グラフの数値は1999年のものです)

問5 下線部 について、プランクトンが大量に発生して海水が変色する現象を何といいますか。

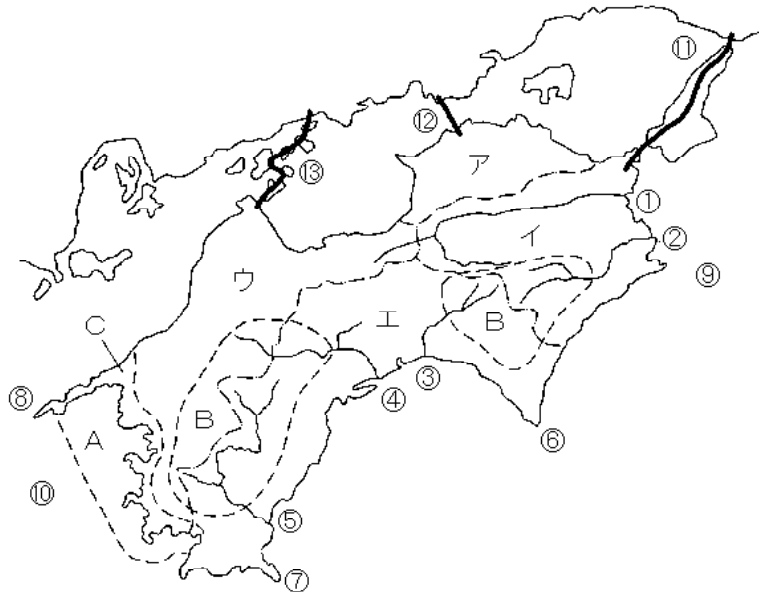
問6 下線部 について、このような状態を何といいますか。

問7 下線部 について、鳥取平野の砂丘地域は、水はけがよすぎたり、砂が移動したりするので、農業には向いていません。このことに対して、どのような工夫がされているか説明しなさい。



(明大中野中学校)

2. 下図をみて、四国地方について、あとの各問いに答えなさい。



問1 図中のア～エにあたる県名を答えなさい。また4つの県の県庁所在都市の中で、県名とはちがう都市名だけを答えなさい。

問2 次のオ～ケにあたる地名を、図中の ①～⑩ から選び、番号で答えなさい。

- オ 四万十(しまんと)川 カ 吉野(よしの)川 キ 足摺岬(あしずりみさき)
 ク 室戸(むろと)岬 ケ 紀伊(きい)水道

問3 本州と四国を結ぶ本州四国連絡(れんらく)橋がすべて完成しました。次のコ～シにあたるものを図中の ①～⑩ から選び、番号で答えなさい。

- コ 児島(こじま) - 坂出(さかいで) サ 尾道(おのみち) - 今治(いまばり)
 シ 神戸(こうべ) - 鳴門(なると)

問4 次の表は、日本でも四国各県で生産のさかんな農水産物と生産割合(平成9(1997)年)を示したものです。ス～ソにあたる農水産物名を次の1～6から選び、番号で答えなさい。

	第1位	第2位	第3位	第4位	第5位
ス	高知県 11%	福岡県 7%	熊本県 6%	群馬県 6%	茨城県 5%
セ	愛媛県 36%	長崎県 27%	三重県 18%	熊本県 9%	鹿児島県 4%
ソ	宮崎県 24%	茨城県 15%	高知県 13%	鹿児島県 6%	岩手県 6%
	1 レタス	2 ピーマン	3 養しょく真珠(しんじゅ)	4 みかん	
	5 なす	6 養しょくぶり			

問5 次の各問いに答えなさい。

- 1 図中Aでは、育てる漁業がさかんです。「養しょく漁業」と「さいばい漁業」のちがいを説明しなさい。
- 2 図中Bでは、林業がさかんです。林業の仕事の内容にはどのようなことがありますか。説明しなさい。
- 3 図中Cでは、みかんのさいばいがさかんです。みかんのさいばいにとって大切な条件を説明しなさい。

(学習院中等科)

3. わか子さんは冬休みに愛媛に住むおじいさんの家に遊びに行きました。以下はわか子さんとおじいさんの会話です。文中の下線部についてあとの問に答えなさい

わか子さん 1999年の5月に開通したばかりの「しまなみ海道」を通ってきたわ。

(1) 本州四国連絡橋の中で一番西のルートになるのよね。

いままでは海が大きなみぞのように感じられたけれど、橋が通ったことでおじいさんの家も近くなった気がするわ。

おじいさん それはうれしいね。でも、瀬戸内海はみぞどころか、九州と近畿を結ぶ「海の廊下」として古くから利用されていたんだよ。江戸時代には北海道の水産物が(2)日本海沿岸から瀬戸内海を通じて大阪へ運ばれていたくらいだ。また(3)海岸線が複雑だったから良港も多く発達したんだね。

わか子さん (4)神戸港は今でも日本を代表する貿易港なのよね。

そういえば(5)瀬戸内工業地域が発達した理由のひとつに海上交通が便利だったからって授業で習ったわ。

おじいさん 工業地域が広がることで多くの問題もでてきたんだ。

たとえば工場廃水で海の汚れがひどくなり(6)プランクトンが大量に発生して、(7)漁業に大きな被害を与えているんだよ。

瀬戸内海はこのままでは「死の海」になると言われているんだ。

わか子さん (8)養殖や栽培漁業がさかんになったのも、これらの背景があるからなのね。

おじいさん 瀬戸内海の大部分は(9)国立公園に指定されているんだ。

この美しい風景をいつまでも守っていききたいものだね。

問1 下線部(1)の本州四国連絡橋について答えなさい。

文中の「しまなみ海道」とは、本州のどの都市と四国のどの都市を結ぶルートですか。

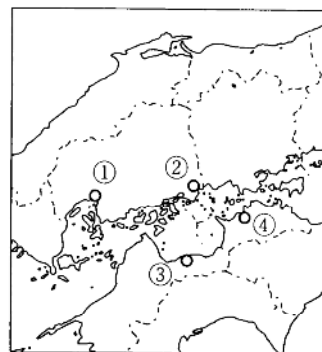
1988年に開通したのは本州のどの都市と四国のどの都市を結ぶルートですか。また、この橋をなんといいますか。

問2 下線部(2)についてこの航路をなんといいますか。

問3 下線部(3)について瀬戸内海の海岸の種類としてもっともふさわしいものを次のア～オからひとつ選んで記号で答えなさい。

- ア 砂丘海岸 イ 砂浜海岸 ウ 海岸段丘
エ 多島式海岸 オ リアス式海岸

問4 下線部(4)の神戸港は日本一のコンテナ基地として知られています。コンテナ輸送がふえたのは安全で大量に輸送ができるからですが、ほかにどのような理由があるでしょうか。15字以内で答えなさい。



問5 下線部(5)について、次の地図は瀬戸内工業地域の代表的な都市を示しています。地図中の ~ の都市名を答えなさい。

またその地でさかんな工業としてもっともふさわしいものを、下のア～エからそれぞれひとつ選んで記号で答えなさい。

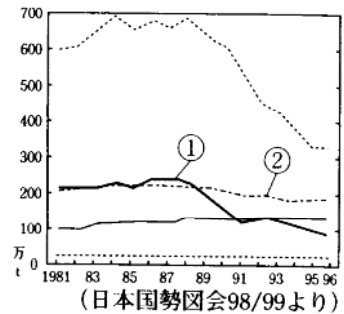
- ア 造船 イ 自動車 ウ 石油化学 エ 製鉄

問6 下線部(6)についてこの現象をなんといいますか。

問7 下線部(7)の漁業について、右のグラフは1970年から1996年までの漁業別の漁獲高の変化を示したものです。

グラフ中の ① の漁業はなんですか。

それぞれ答えなさい。



問8 下線部(8)について瀬戸内海ではどのような水産物の 養殖と 栽培漁業がおこなわれていますか。もっともふさわしいものを下のア～クからそれぞれひとつ選び記号で答えなさい。

- ア くるまえび イ ひめます ウ うなぎ エ わかめ
オ あゆ カ はまち キ のり ク ほたて

問9 下線部(9)の国立公園はどの法律により指定されますか。下のア～オからひとつ選び記号で答えなさい。

- ア 文化財保護法 イ 自然公園法 ウ 自然環境保全法
エ 森林法 オ 都市計画法

(白百合)

4. Aさんは、1998年の夏休みを利用して、家族で瀬戸内海を旅行しました。そのときの日記を読んで問いに答えなさい。

〔1日目〕

今日は、東京から新幹線に乗って神戸に行きました。そして地下鉄に乗り換えて、駅で降りたあと、バスに乗り換えました。そのバスは高速道路を走っていき、今年4月に開通したばかりの橋を渡りました。とても 大きな橋です。そのあとしばらく海が見えるところや山の中を走って、もうひとつ大きな橋を渡りました。この橋の下の水の流れはとても複雑だそうで、私が渡ったときも渦を巻いているのが見えました。橋の上からの景色はとても良かったです。

〔2日目〕

今日は、山の上にある「こんぴらさん(金刀比羅宮)」という神社に行きました。上から見ると平野が広がっていて、いくつもの池が見え、加えて富士山みたいな形をした山があるのが見えました。そのあと、高松というところに行って、そこからフェリーに乗りました。

たどり着いた島は、『二十四の瞳』という本の舞台になったところだそうです。私はまだ読んだことがないので、家に帰ったら図書館で借りて読んでみようと思いました。

〔3日目〕

今日は、電車に乗って瀬戸内海を渡りました。瀬戸内海は、昔から船の交通がさかんだところで、現在の岡山県である 備前国には、多くの港町があったそうです。次に向かった 倉敷というところは、そんな港町のひとつだそうで、昔ながらの白い壁の土蔵が立ち並んでいました。散策しながら食べたアイスクリームがおいしかったです。

〔4日目〕

今日は尾道からバスと船を乗り継いで、今治というところにきました。途中の島々をながめながら、本当にたくさんの みかん畑があるなと思いました。今夜は松山の道後温泉というところに泊まっています、以前読んだことのある本の舞台となったところに来られて、とても感激しました。

お風呂もとても広かったです。

〔5日日〕

松山からフェリーに乗りました。とてもきれいな海だなあと思っていたけど、今年は赤潮の発生で、このあたりで養殖しているものがかなり死んでしまったそうです。漁師の人たちは大変だっただろうなと思いました。

広島では原爆ドームに行きました。つくづくこのようなことを二度と繰り返してはならないと思いました。そのあと電車と船を乗り継いで、宮島に行きました。大きな神社があったり、たくさんの鹿がいたりしておもしろかったです。

〔6日日〕

今日は東京に帰る日です。岩国で錦帯橋という橋を渡ったあと、新幹線で下関に行きました。ここは、平家の人たちが滅亡したところだと、習った覚えがあります。ここまで来るともう瀬戸内海のはっこです。最後はトンネルを通過して海峡の下を歩くことができました。本当に海の下を歩いているのかなあという気がしましたが、九州側から本州側をながめて、ようやく実感しました。

最後は小倉駅から新幹線に乗って東京に帰りました。家に着いたのはかなり遅い時間になりました。

問1 瀬戸内海の多くの地域は「瀬戸内海国立公園」に指定されています。1998年末現在、日本で最も新しく指定された国立公園として、ふさわしいものを選び、記号で答えなさい。

- ア 釧路湿原国立公園 イ 日光国立公園 ウ 南アルプス国立公園
エ 雲仙天草国立公園

問2 下線部 の「大きな橋」として、ふさわしいものを選び、記号で答えなさい。

- ア 明石海峡大橋 イ 大鳴門橋 ウ 下津井瀬戸大橋 エ 因島大橋

問3 下線部 に関連して、「大きな橋」の近くにある五色塚古墳は、大阪府の仁徳天皇陵（大山古墳）のように、かぎあなの形をしています。このような形の古墳を何といいますか。

問4 ...（省略）...

問5 下線部 について、「たどり着いた島」のある県の県庁所在地の説明として、ふさわしいものを選び、記号で答えなさい。

- ア 日本三名園のひとつといわれる後楽園がある。
イ 市の東部には「那須与一^{なすのよいち}」で知られる屋島がある。
ウ 吉野川の河口に位置し、八月の「阿波踊り^{あわおど}」で全国的に知られている。
エ 日本有数の貿易港で、沖合には「ポートアイランド」などの人工島がある。

問6 次の図は、鎌倉時代の僧、一遍が下線部 の「備前国のある市を訪れたときのようすをえがいたものです。一遍の説明としてふさわしい、ものを選び、記号で答えなさい。



- ア 阿弥陀仏^{あみだ}の救いを信じれば往生^{おうじょう}できるとし、自分の罪を自覚した悪人こそが救われると説いた。
イ 法華経^{ほけ}を信じ、「南無妙法蓮華経^{なむみょうほうれんげきょう}」と題目^{だいもく}を唱えれば救われると説いた。
ウ 念仏^{ねんぶつ}を唱えながら踊る、という「踊念仏^{ぶきょう}」をはじめ、全国各地を布教して歩いた。
エ ひたすら座禅をし、自らさとりを開くことを説き、武士に好まれた。

問7 下線部 に関連して、「倉敷」の水島地区は石油化学コンビナートや鉄鋼コンビナートがある

ことで知られています。「コンビナート」について、ふさわしくないものを選び、記号で答えなさい。

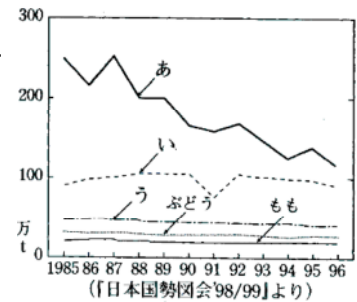
- ア 中心となる工場のまわりに、それと関係の深い工場を集めている。
- イ 工業用地や工業用水が、多く得られるところに建設されている。
- ウ 大型トラックが行き来できる高速道路が走っている。
- エ 工場どうしをつなぎ、原料や製品を輸送するムダをはぶこうとしている。

問8 次にあげたグラフは、下線部の「今治」で多く生産されている製品の、都道府県別の生産高の割合を示したグラフです。この製品として、ふさわしいものを選び、記号で答えなさい。（『データでみる県勢第7版』より/1995年）



- ア うちわ・^{せんす}扇子
- イ ^{てぶくろ}手袋
- ウ タオル
- エ ^{わく}メガネ枠

問9 下線部に関連して、日本における果実の生産量の移りかわりを示した右のグラフは、それぞれどんな果実の生産を表したものです。その組み合わせとして、ふさわしいものを選び記号で答えなさい。



- ア あ=みかん・い=日本なし・う=りんご
- イ あ=みかん・い=りんご・う=日本なし
- ウ あ=りんご・い=みかん・う=日本なし
- エ あ=りんご・い=日本なし・う=みかん

問10 下線部の「以前読んだことのある本」とは、「^{ゆず}親譲りの^{むてっぼう}無鉄砲で子供の時から損ばかりしている。」という書き出しで始まる、松山を舞台にした文学作品である。ふさわしいものを選び、記号で答えなさい。

- ア 『^{わがはい}吾輩は猫である』
- イ 『^{ろぼう}路傍の石』
- ウ 『次郎物語』
- エ 『坊っちゃん』

問11 下線部について、「このあたりで養殖しているもの」の都道府県別の漁獲量としてふさわしいものを選び、記号で答えなさい。

ア	イ	ウ	エ
和歌山 40700	和歌山 6800	愛媛 220400	広島 132278
広島 8060	広島 4960	和歌山 152400	宮崎 50145
愛媛 6830	愛媛 3500	熊本 133100	岡山 12261
徳島 4170	静岡 3250	静岡 131800	岩手 10555
熊本 2630	熊本 3010	佐賀 125800	三重 5675
全国 74300	全国 26100	全国 137800	全国 227319

（『データで見る県勢第七版』より/1995年：単位トン）

問12 下線部の「宮島」は、日本三景のひとつであり、また厳島神社は「世界遺産」にも登録されています。「世界遺産」に関する説明として、ふさわしいものを選び、記号で答えなさい。

- ア 水鳥の生息地として国際的に重要な地域が、指定されている。
- イ ユニセフで結ばれた条約をもとに、世界の文化遺産と自然遺産を保護しようとしたものである。

ウ 歴史的遺産や美しい自然を各種の民間団体が保護活動していくために、環境庁が指定した地域である。

エ 日本では、屋久島や白神山地、原爆ドームなどが指定されている。

問13 下線部の「平家の人たち」についての説明として、ふさわしくないものを選び、記号で答えなさい。

ア 平治の乱に勝利し、源義朝を倒し、その子どもたちを追放した。

イ 大輪田泊（兵庫港）を修築し、明との貿易を行った。

ウ 平清盛は、武士として初めて太政大臣だいじょうだいじんになった。

エ その一族の盛衰せいすいをえがいた『平家物語』は、琵琶法師によって語り継がれた。

問14 瀬戸内海に多い「赤潮」の発生する原因について説明しなさい。

（國學院久我山 一部略）

【解答】

1.

問1 9 問2 広島(市) 問3 イ 問4 オ 問5 赤潮 問6 過疎
問7 砂が移動しないよう防砂林を植えたり、スプリンクラーで水をまいたりしている。

2.

問1 ア香川県 イ徳島県 ウ愛媛県 エ高知県 (都市名)高松市・松山市

問2 オ カ キ ク ケ

問3 コ サ シ

問4 ス5 セ3 ソ2

問5

- 1 養殖漁業はいけすの中で成魚になるまで育てるのに対して、栽培漁業は稚魚を海や川に放流し成魚になってから捕獲する。
- 2 下草刈り、植林、枝打ち、間伐 などをして、育て、伐採する。
- 3 水はけがよく日当たりの良い南斜面の土地で、一年を通して温暖な気候であること。

3.

問1 (本州)尾道～(四国)今治 (本州)倉敷～(四国)坂出、瀬戸大橋

問2 西回り航路 問3 エ 問4 荷物の積みかえが楽だから。

問5 (都市名)広島 (工業)イ (都市名)福山 (工業)エ
(都市名)新居浜 (工業)ウ (都市名)坂出 (工業)ア

問6 赤潮 問7 遠洋漁業 沿岸漁業

問8 カ ア 問9 イ

4.

問1 ア 問2 ア 問3 前方後円墳 問4 略 問5 イ 問6 ウ

問7 ウ 問8 ウ 問9 イ 問10 エ 問11 エ 問12 エ 問13 イ

問14 生活排水や工場排水などにより、海中のプランクトンが大量発生してしまうから。