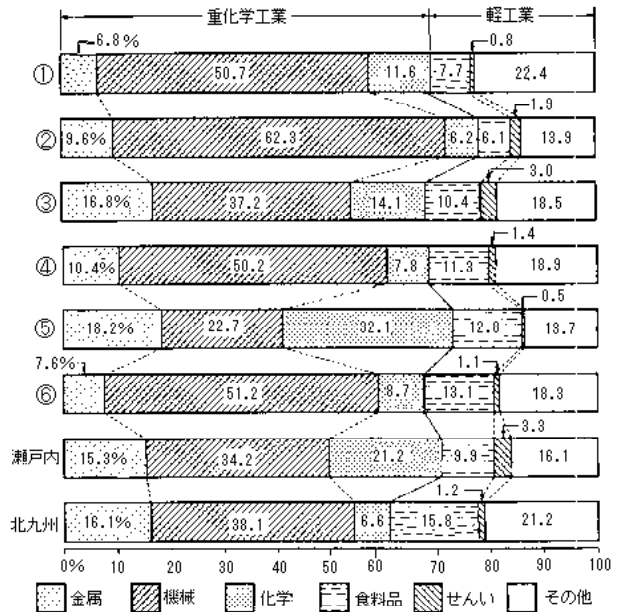




表(2)

(ア)	京 浜	中 京	阪 神	瀬戸内
(イ)	京 浜	阪 神	中 京	東 海
(ウ)	京 浜	阪 神	関東内陸	中 京
(エ)	阪 神	京 浜	中 京	関東内陸
(オ)	京 浜	関東内陸	阪 神	中 京
(カ)	京 浜	中 京	阪 神	関東内陸



(世田谷学園中学校 改題)

2 日本の工業と工業地帯について、次の1～3の問に答えなさい。

1. 右のグラフは、出荷額から見た、わが国の工業構成の変化を示しています。

(あ)にあてはまる言葉を答えなさい。

(い)～(か)は下の語群のいずれかにあてはまります。(い)～(か)にあてはまる言葉を下から選び、答えなさい。

(語群) 食料品 機械 化学  
せんい 金属

2. 右の表は1935年、1960年、2000年の工業生産

における四大工業地帯の割合を示しています。「A年～C年」を年代の古いものから順にならべなさい。また、～にあてはまる工業地帯名を答えなさい。

「日本国勢図会」より作成 単位:%

	工業地帯	工業地帯	工業地帯	工業地帯	その他
A年	20.6	26.3	9.3	8.2	35.6
B年	24.7	20.9	10.8	4.1	39.5
C年	13.3	10.7	14.1	2.4	55.6

3. 次の～の工業都市の中で四大工業地帯に属さないものをすべて番号で答えなさい。

浜松 豊田 倉敷(水島工業地区) 堺 尼崎  
富士 瀬戸 大分

(普連土学園中学校 改題)

3 次の地図は、太平洋ベルトと呼ばれている地域を中心としたものです。これについて、次の問いに答えなさい。

問1 地図の中のア・ウ・ク・コ・セの都府県の名を漢字で書きなさい。

問2 このベルトには、四大工業地帯と3つの新しい工業地域があります。2つの工業地域の名を東から順に書きなさい。



問3 次の表は、上の地図の中の都府県のうち、2000年度の工業製品出荷額（単位は億円）の多い順に4つの都府県を選び、全出荷額と主な産業別の出荷額を示したものです。～は地図の中のどれにあてはまりますか。記号で答えなさい。また、それぞれの都府県の名を書きなさい。

日本国勢図会2003/2004より

都府県	製造品 出荷額	食料品	繊維	パルプ・ 紙製品	化学	よう業・ 土石製品	鉄鋼	非鉄 金属	金属 製品	一般機 械器具	電気機 械器具	輸送用 機械器具	精密機 械器具
①	346041	15138	5063	4043	9848	9447	16844	4296	13187	31896	30371	155334	3220
②	218653	13353	267	2603	23323	3971	5659	4019	8362	28182	48471	41602	2085
③	183690	11106	3128	5050	23258	2802	10766	4555	17793	22979	25420	8738	1719
④	183877	9778	293	2958	7407	2214	1921	1087	6163	12502	47985	15063	5712

問4 2001年10月から2002年9月の一年間の人口増加率が最も高かった都府県を、地図の中の記号で答えなさい。

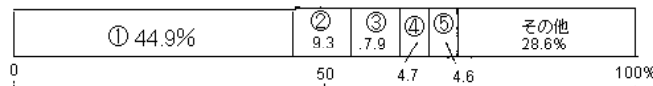
問5 第二次世界大戦後、わが国はこのベルトを中心に、世界的な工業国となりました。同じように第二次世界大戦後、国が東と西に2分されていたのに、工業を中心に立ち直り、現在統一された国があります。現在の正式な国名で答えなさい。また、ある都市で東と西をへだてていた壁が取り除かれました。ある都市とはどこですか。その都市名を書きなさい。

(駒場東邦中学校 改題)

4 日本の工業について、あとの問いに答えなさい。

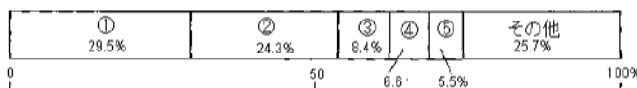
問1 下のグラフは1999年の愛知県における主要工業の出荷額の割合を示したものです。グラフ中のにあてはまる工業を、次のア～オから選び、記号で答えなさい。(グラフは、「2002年版データで見る県勢」より作成 問2も同様)

ア 電気機器 イ 鉄鋼 ウ 一般機械 エ 輸送用機器 オ 食料品



問2 下のグラフは1999年の東京都における主要工業の出荷額の割合を示したものです。グラフ中のにあてはまる工業を、次のア～オから選び、記号で答えなさい。

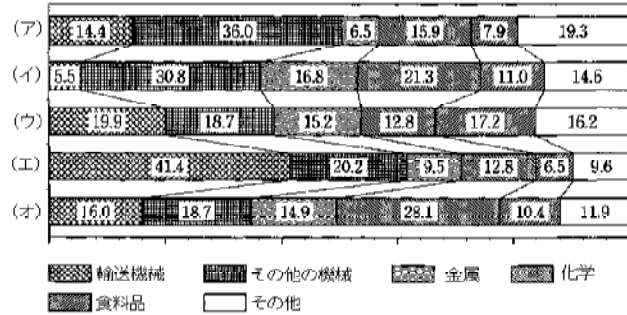
ア 輸送用機器 イ 電気機器 ウ 出版・印刷 エ 食料品 オ 一般機械



問3 九州地方はIC（集積回路）を中心とした電子部品を作る工場が多いことから、何とよばれていますか。カタカナで答えなさい。

（横浜雙葉中学校）

5 右のグラフは、瀬戸内工業地域、京浜工業地帯・中京工業地帯・阪神工業地帯・北九州工業地帯の工業生産のうちわけを示したものです。このうち、瀬戸内工業地域にあてはまるものはどれですか。（ア）～（オ）の中から選び、記号で答えなさい。（グラフの数値は1999年のものです）



（明大中野中学校）

6 次の図は三大工業地帯の製品出荷額と製品割合を示したものです。（1）～（3）にあてはまる工業地帯名と、（4）（5）にあてはまる工業名をそれぞれ語群より選び、記号で答えなさい。

工業地帯

- ア 関東内陸    イ 京浜    ウ 京葉    エ 東海    オ 中京  
カ 阪神    キ 瀬戸内    ク 北九州

工業名

- ア 機械    イ せんい    ウ 窯業<sup>ようぎょう</sup>    エ 紙・パルプ    オ ゴム

（鎌倉学園）

【解答】

1

問1 1 川崎 2 横浜 8 東京

問2 3 機械 4 うめ立て地 5 部品 6 情報 7 印刷(出版)

問3 石油化学コンビナート 問4 (外貿)コンテナ埠頭 問5 (イ),(エ)

問6 (オ) (ケ) (エ)

問7 (カ) 問8 (ウ),(エ) 問9 絹織物業(製糸業)

2

1 あ 軽工業 い 金属工業 う 機械工業 え 化学工業

お 食料品工業 か せんい工業

2 (古いものから) A, B, C

京浜工業地帯

阪神工業地帯

中京工業地帯

北九州工業地帯

3 、 、 、

3

問1 ア 茨城 ウ 埼玉 ク 岐阜 コ 滋賀 セ 兵庫

問2 京葉(工業地域), 東海(工業地域)

問3 キ, 愛知 オ, 神奈川 ス, 大阪 エ, 東京

問4 エ

問5 国名...ドイツ連邦共和国 都市名...ベルリン

4

問1 エ 問2 ウ 問3 シリコンアイランド

5

オ

6

(1) オ (2) イ (3) カ