

記述のある入試問題（１）

1 スウィフトが書いた「ガリバー旅行記」は小人国や大人国に漂着しさまざまな体験をした物語で有名ですが、そのガリバーが日本にもやって来て上陸した部分はあまり知られていません。

「旅行記」によると「1706年8月の第3回目の航海で、ガリバーは船医として乗船し貿易のため東南アジア方面と思われる所に来航した。そこで彼は船長が用意した別の船を任されて商取り引きに出かけ、途中で日本人が船長である海賊船に出会い積み荷全部を奪われてしまった。その後いくつかの国々をへて日本に向う船を見つけ便乗し、1709年5月江戸の近くに上陸した。江戸に出て皇帝に拝謁し帰国のための援助を要請した。こうして皇帝の許しを得て陸路西へ向い無事出航しアムステルダムをへて1710年4月自分の国へ帰ることができた。」とあります。

問1 ガリバーは第3回目の航海で東南アジア方面で日本人の海賊船に出合った事になっています。歴史的にみて実際に多数の日本商船がこの方面に往来し、活躍した時期はいつごろまでと考えられますか。（ ）世紀の（前半・後半）と答えなさい。

問2 ガリバーは日本に上陸し皇帝に会ったとき「^{こくせき}人」商人と書いています。何国人と言ったのですか、またなぜそう言ったのか、30字以内でその理由を書きなさい。

問3 ガリバーは皇帝に会ったとき信仰に関する「ある儀式」を強制されることを大変心配し、^{めんじょ}免除されることを要請しています。その儀式とは大きな一揆のあとに行われるようになったものです。儀式とは何ですか。

問4 皇帝とは正式名称で言うと何ですか。漢字で答えなさい。

（早稲田中学）

2 私は大きな墓をつくっています。土を運んだり、まわりに並べるはにわをつくったりしています。この墓にはいる私の主人はたいへん強い力を持っていますが、遠い都にはもっと力の強い大王（天皇）という人がいて、代々もっともっと大きな墓をつくっているそうです。主人はその大王に仕えるために都に上ったことがあります、それを記念して剣をつくって、その剣に記念の文章をほりつけました。

問 この文に出てくる、大王や豪族の古墳がつくられた目的は、「亡くなった人をほうむる」ということ以外にも考えられますが、それは何ですか。20字以内で答えなさい。

（ラサール中学）

3 ごみを減らすために、いらなくなったものをもう一度役立てたり、資源として活かしたりする活動が、わたしたちの身のまわりで広がっています。このような活動では、何をどのように役立てたり活かしたりしていますか。具体的な例を1つあげて説明しなさい。

（お茶の水女子大付属）

記述のある入試問題（ 1 ）解答用紙

氏名（ ）

1

問 1 （ ）世紀の（ ）半

問 2 （ ）人

<input type="text"/>	<input type="text"/>	<input type="text"/>	<input type="text"/>	<input type="text"/>	<input type="text"/>	<input type="text"/>	<input type="text"/>	<input type="text"/>	<input type="text"/>	<input type="text"/>
<input type="text"/>	<input type="text"/>	<input type="text"/>	<input type="text"/>	<input type="text"/>	<input type="text"/>	<input type="text"/>	<input type="text"/>	<input type="text"/>	<input type="text"/>	<input type="text"/>
<input type="text"/>	<input type="text"/>	<input type="text"/>	<input type="text"/>	<input type="text"/>	<input type="text"/>	<input type="text"/>	<input type="text"/>	<input type="text"/>	<input type="text"/>	<input type="text"/>

問 3 （ ） 問 4 （ ）

2

<input type="text"/>	<input type="text"/>	<input type="text"/>	<input type="text"/>	<input type="text"/>	<input type="text"/>	<input type="text"/>	<input type="text"/>	<input type="text"/>	<input type="text"/>	<input type="text"/>
<input type="text"/>	<input type="text"/>	<input type="text"/>	<input type="text"/>	<input type="text"/>	<input type="text"/>	<input type="text"/>	<input type="text"/>	<input type="text"/>	<input type="text"/>	<input type="text"/>

3

<input type="text"/>	<input type="text"/>	<input type="text"/>	<input type="text"/>	<input type="text"/>	<input type="text"/>	<input type="text"/>	<input type="text"/>	<input type="text"/>	<input type="text"/>	<input type="text"/>	<input type="text"/>	<input type="text"/>	<input type="text"/>	<input type="text"/>	<input type="text"/>	<input type="text"/>	<input type="text"/>	<input type="text"/>	<input type="text"/>
----------------------	----------------------	----------------------	----------------------	----------------------	----------------------	----------------------	----------------------	----------------------	----------------------	----------------------	----------------------	----------------------	----------------------	----------------------	----------------------	----------------------	----------------------	----------------------	----------------------

記述のある入試問題(2)

1 製鉄に関する次の文を読んで、下の問いに答えなさい。

花子さんは、おじさんに製鉄所を案内してもらいました。海に面した広い敷地(しきち)に、大きな工場や材料置き場が広がっていました。「日本の製鉄所はどこも、ことと同じように海に面しているんだよ。」とおじさんは言いました。

まず原料の(1)が、(2)からつくったコークスといっしょに、ベルトコンベヤーで高炉(こうろ)に入れられました。1500度もの熱を出す高炉の中で、(1)はとけて、【 A 】という「熱いドロドロのもろい鉄」になりました。次に製鋼工場にうつされた【 A 】に、酸素をふきつけて炭素などの不純物をとりのぞき、【 B 】を加えて再び熱すると、ねばり強く加工しやすい鋼(はがね)になります。

おじさんの説明では、日本は鉄の生産では世界第三位で、第一位は中国で、二位がアメリカ合衆国です。(1999年)けれど原料は(1)も(2)も【 C 】パーセント以上輸入にたよっています。(1)は、ブラジルやインドからも輸入しますが、(3)からの輸入が一番多いのです。このように、日本は鉄の輸出高で世界一でしたが、近年、鉄の生産量は減ってきました。輸出の順位は、ドイツに次いで第二位です。(1997年)

問1. 文中の(1) ~ (3)に適切なことばを入れなさい。

問2. 文中の【 A 】・【 B 】にあてはまることばを、下から選んで記号で答えなさい。

ア. せん鉄 イ. 鋼鉄 ウ. くず鉄 エ. 砂鉄

問3. 文中の【 C 】にあてはまる数字を、下から選んで記号で答えなさい。

ア. 90 イ. 80 ウ. 65

問4. 日本で最初の近代製鉄所が開業したところを、下から選んで記号で答えなさい。

ア. 室蘭 イ. 鹿島 ウ. 千葉 エ. 川崎 オ. 焼津 カ. 北九州

問5. 問4の「ア」~「カ」のうち、製鉄に関係のないところをひとつ選んで記号で答えなさい。

問6. 下線部 について、その理由を30字程度で説明しなさい。

問7. 下線部 について、その理由を40字程度で説明しなさい。

(神戸女学院中 改題)

記述のある入試問題（2）解答用紙

氏名（ ）

1 問1 (1) () (2) () (3) ()

問2 【A】() 【B】() 問3 【C】()

問4 () 問5 ()

問6


問7

記述のある入試問題(3)

1 わが国ではじめて衆議院議員の選挙がおこなわれてから100年以上になりますが、近代の日本では、自由平等の考え方が衆議院議員の選挙権にどのように反映されて来ましたが。右のグラフをよく見て、また次のきまりに従って、衆議院議員の選挙権の上で平等化が進んで来た経過を、大きく三つの時期に分けて説明しなさい。

<グラフ>

全人口に対する衆議院議員の選挙権を持つ人の割合



新しい選挙法ではじめて選挙が実施された年

新しい選挙法ができた年

<きまり>

字数は120字以内(句読点も1字に、また1986などの数字は2字ぶんに数える)。

次のことばを必ず使用し、使用したことばの下に線(下線)を引いておくこと。ことばの使用順は自由である。

〔尾崎行雄 婦人参政権 国会開設 普通選挙法〕

(芝中学校)

2 平成13(2001)年以来、小泉内閣は高速道路の建設や管理をおこなう組織について、民営化しようという改革を行おうとしている。このようなことが行われることになった理由を、考えて書きなさい。

(学習院女子中等科 改題)

記述のある入試問題（４）

1 太郎君あてに、アフリカのケニアの首都ナイロビで仕事をしている叔父^{おじ}さんから手紙がきました。以下はその手紙の一部です。これを読んで下の問いに答えなさい。

「ケニアやエチオピアをはじめアフリカの多くの国々で食料が不足して飢え^うに苦しむ人々がたくさんいる状態は、日本の新聞やテレビでも報道されていると思います。アフリカの食料事情の悪化には、さまざまな原因がありますが、その一つに、放牧（牛や羊などの放し飼^すい）のし過ぎや、森林の切り過ぎなどで草地や森林が砂漠^{さばく}に変わってしまうという恐ろしい自然環境の破壊もあるようです。

日本は食料のかなりの部分、そのほか必要な資源の大部分を輸入にたよっています。ですからアフリカの食料不足を決して他人^{ひとごと}事だとすましてはいられません。また世界の平和があつてこそ、これらのものも手に入れることができるということも考えてみる必要があります。

現在、物がなんでも豊かにあふれている日本の子どもたちが、食料をはじめとする地球上の資源の大切さを忘れていないかと心配です。太郎君が一生けん命勉強して、『ぼくたちは宇宙船地球号の乗り組み員なんだ』という広いものの見方で、アフリカの食料問題も考えることができる子どもになってくれることを叔父さんは願っています。」

〔問〕 宇宙船地球号ということばは、地球を一つの宇宙船にたとえたものですが、そうだとすれば、その乗り組み員である私たちはどういうことをこころがけなければいけないという意味がこのことばにこめられているのでしょうか。次のきまりに従って答えなさい。

（きまり）

字数は120字以内。句読点も1字に数える。

上の手紙の中にある資源という言葉は必ず使用する。

資源という言葉のほかにも、さらに君が答えを書くためにどうしても必要と思う手紙の中の言葉を三つえらんで必ず使用する。ただしその三つのことばの中に宇宙船および地球号ということばは入らないものとする。

上の と で指示された合わせて四つのことばの下に必ず線（下線）を引いておくこと。（同じことばを2か所以上で使用するとき、最初に使用したところだけに下線をひいておくこと。）

（芝中学校）

2 現在、全国各地で漁をする人たちが山に登って植林をしています。魚や貝をふやしたり、おいしい魚や貝をとるためにしている活動です。「海」と「森」が深いつながりがあるのは「水」がじゅんかんしているためです。...以下略...

問い なぜ植林をしているのですか。森林のはたらきに注意して説明しなさい。

（東京女学館）

記述のある入試問題（４）解答用紙

氏名（ ）

1

2

記述のある入試問題（5）

1 日本では昔から、^お惜しげもなく^{ろうひ}どんどんものを浪費することを「^{ゆみず}湯水のように使う」と言い表します。こういう表現のし方は、サウジアラビアなどの雨の少ない国では生まれて来ないでしょう。ところが近年日本でもようすがちがって来ています。例えばある年の夏、東京では水不足のピンチがあって、さかんに節水が呼びかけられました。水はいくらでもあると思っではいけないのですね。

さてそこで、日本の自然条件（地形や気候など）によってもたらされるわが国の水資源の特色を考えながら、近年東京などの大都市になぜ水不足が起こるのかについて、君が考えることを、次のきまりに従って述べなさい。

（きまり）

字数は140字以内。句読点も1字に数える。数字の63などは1字分に、1988などは2字分に数える。

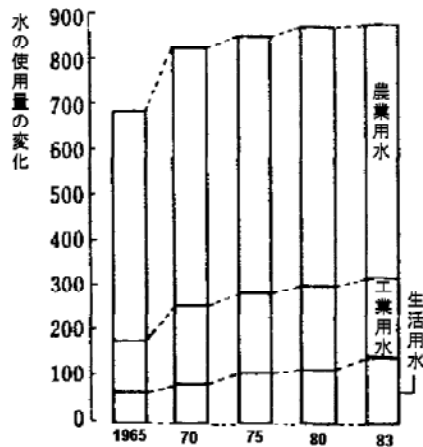
下のABC3つのグラフをすべて参考にする。

次の4つの言葉を必ず使用し、その言葉の下に線（下線）を引いておくこと。

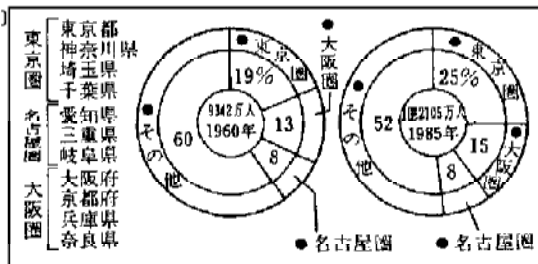
<言葉> 使用量、降水量、大都市圏、約2倍

注：大都市圏……大都市とそのまわりの地域のことで東京圏はその代表

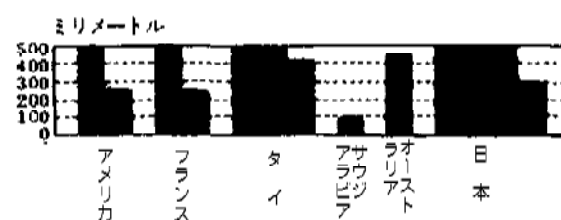
〔A〕 億立方メートル



〔B〕 三大都市圏の人口



〔C〕 外国とわが国の一年間の降水量



（芝中学校）

2 日本人が好きな料理の一つに、コロッケがあります。コロッケは、文明開化のころから広がり、日本人が好んで食べるようになったと思われます。…以下略…

問い なぜコロッケが広まったのが、明治時代になってからだといえるのでしょうか。

（清泉女学院中学校）

記述のある入試問題（ 1 ） 解答

1

問1 17 前

問2 オランダ

日本への来航が許されたのはヨーロッパ人ではオランダだけだったから

問3 踏み絵（絵踏み）

問4 征夷大將軍

[解説]

問1 朱印船貿易のことだから、さかんだった時期は？ 文中に1706年と書かれているからと言って、18世紀とするのはあまりに簡単に引っかかっている間違い。

問2 鎖国中であるから、オランダというのは当然である。

問3 江戸で時の皇帝（この場合は、最高権力者）にあったのだから、それは將軍であったとわかる。単に皇帝ということばかりから考えて、知らない結論づけるようではいけない。

2

【解答例】 大王や豪族の力を人々に見せつけるため。
大王や豪族が自分の権力を示すため。

3

【解答例】 新聞・雑誌・その他の古紙を再生紙として利用することなど

[解説]

他にも、ペットボトルでフリースの衣類を作る、とか考えられる。

近年は、三つのRといわれる。リユース(Reuse)再使用、リデュース(Reduce)ゴミを減らす、リサイクル(Recycle)資源として再生して再度活用する。

記述のある入試問題（２） 解答

1

問1 (1) 鉄鉱石 (2) 原料炭 (3) オーストラリア

問2 A：ア B：ウ

問3 ア

問4 カ

問5 オ

問6 原料の鉄鉱石や石炭、製品である鋼材などを運ぶのに便利だから。

問7 先進諸国との貿易摩擦や新興工業地域による追い上げに円高が加わって輸出が減少した。

[解説]

問1 鉄鋼の原料は、鉄鉱石・石灰石・石炭で、石炭を蒸し焼きにしてコークスをつくり、それを利用する。解答例では、(2)石炭を燃料用と区別するために「原料炭」としたが、ただ「石炭」としても、正解。

問3 主要資源の輸入にたよる割合は、石炭97.9，原油99.7，天然ガス96.9と非常に高い。(2001年 日本国勢図絵2003 / 2004)

問4 八幡製鉄所を思い出そう。日清戦争の賠償金をもとに1901年操業開始。

問5 焼津は静岡県の漁港で、遠洋漁業の根拠地。

問6 輸入と輸出の両方について書かなければいけない。近年はうすれたが、原材料を輸入し、(日本で加工し)製品を輸出する加工工業の代表的製品。

問7 粗鋼の生産では、中国17.6，日本12.2，アメリカ10.7(2001年)の順位。単位は%。中国とアメリカは消費量も多く、輸入国である。

ロシア・ドイツをはさんで、韓国、ウクライナ、インド、ブラジル、などが生産高で続いている。

記述のある入試問題（3） 解答

1

[解答例]

国会開設が実現した1890年には一定以上の税を納める男子にしか選挙権がなかった。1925年に尾崎行雄らの努力で普通選挙法ができて25歳以上のすべての男子が選挙権を得た。第二次世界大戦後、婦人参政権が認められて、20歳以上の男女は選挙権のうえで平等になった。

【解説】

問題をよく読むのはもちろんのこと、解答方法で間違えないように きまり を十分過ぎるくらいに熟読すること。

句読点も一字だと、原稿用紙の使い方と異なることにも注意。

三つの時期をどう分けるかがポイント。第一の時期は、選挙権に制限があった時期。最初に選挙があった1890年の選挙では、直接国税15円以上の納税者で満25歳以上の男子であった。このため選挙権がある人は全人口の約1.1%でしかなかった。第二の時期は、男子にのみ選挙権があたえられた1925年以降の時期。1928年の選挙では、有権者は全人口の19.4%となっている。第三の時期は、戦後婦人参政権が認められた時期。これにより、有権者の割合は全人口の48.7%と急増した。

2

例 道路公団などの負債が巨額になったので、競争原理を取り入れ経営を健全化するため。

【解説】

高速道路や本四架橋など採算を度外視して建設したため、料金が高く利用者が予想より少なく赤字が増加している。

記述のある入試問題（４） 解答

1

[解答例]

地球上の資源は、無限にあるのではないから大切にすること、かけがえのない地球の自然環境の破壊や悪化を防ぐこと、地球上のすべての人々が飢えないように食料の確保を工夫し助け合うこと、環境破壊や食料・資源の不足をもたらす戦争を防ぎ平和を守ることなど

【解説】

これだけのヒントがあるのだから、文章を読んでいけば書くことが思いつくはずだ。（きまり）の手紙の中のことはをどう選ぶかがポイント。自分の思いついた内容に合わせていくしかないが。下では、自然・食料・平和を選んだ。

2

解答例 1 森林が生み出す栄養分を、そこを通過する水が海へと運んでくるから。

解答例 2 森林が、土砂が直接海へ流れこむのをふせぐので、海が汚れるのを防いでいるから。

【解説】

森林のはたらきについては、よく出題されている。また、海岸付近の「^{うお}魚つき林」には水温が一定する、魚が好む日かげがえられる、などの働きがある。

記述のある入試問題（5） 解答

1

[解答例]

日本は主要国の中では降水量にめぐまれている方だが、山地が多い地形などから海へ流れ出る量が多く、工業が発達した現代では水資源が十分とはいえない。特に最近の10数年で生活用水の使用量が約2倍にもなり、そのうえ近年大都市圏に人口が集中する傾向が著しいので、東京などでは水不足が起こってくる。

【解説】

ポイントは、(きまり)の のことばをどう使うか、という点。「降水量」について考えると、グラフの〔C〕から、日本の降水量は他の国々に比べても大変多いことがわかる。そこで、それほど降水量が多いのになぜ水不足になるのかを自然条件から説明する必要がある。次に「使用量」について考えると、グラフ〔A〕から水の使用量は1970年以降あまり変化していないが、生活用水の使用量が増えてきていることがわかる。生活用水の増え方は、1983年が1965年の約2倍になっていることに注意。用語の「約2倍」は、ここで使う。「大都市圏」について考えると、グラフ〔B〕から大都市圏への人口集中が著しいとわかる。大都市圏への人口集中が、生活用水の使用量の増大の原因となっている。

2

[解答例]

コロッケは西洋料理であり、西洋文化は鎖国がなくなった明治時代から広がったから。

【解説】

西洋料理だと気づけば、簡単だろう。仏教の影響で四つ足の動物を食べる習慣がなかったことなども、覚えておこう。単に、「明治になっていろいろなものがはいつてきたから。」では、問いの意味を勘違いしている。なぜ明治期に入ってきたものの中にコロッケがあると言えるのか、と聞いている。