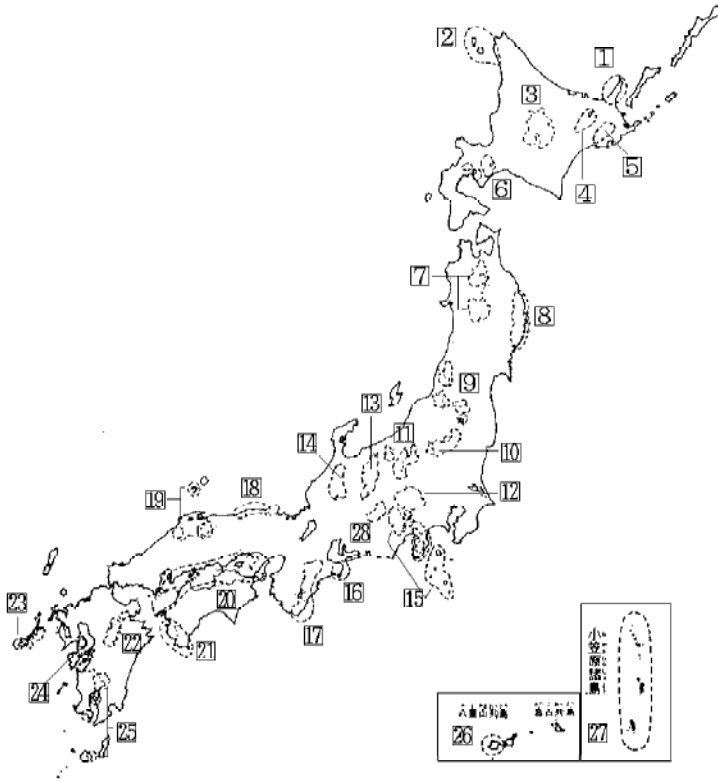


# 社会確認テスト

氏名〔 \_\_\_\_\_ 〕

国立公園



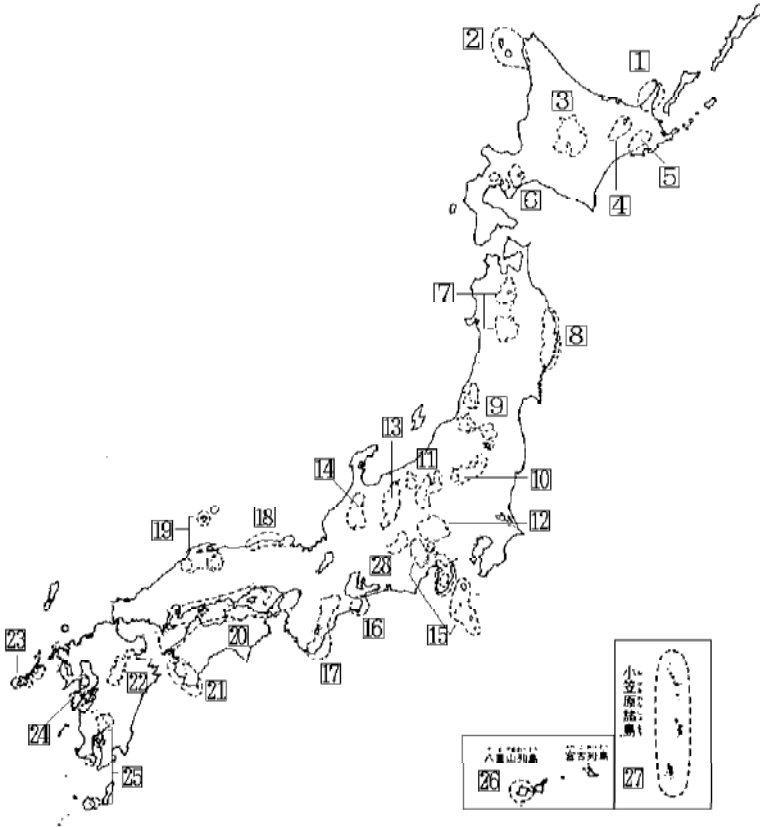
- ・小笠原 (おがさわら)
- ・釧路湿原 (くしろしつげん)
- ・大雪山 (たいせつざん)
- ・十和田八幡平 (とわだはちまんたい)
- ・利尻礼文サロベツ (りしりれぶん)
- ・磐梯朝日 (ばんだいあさひ)
- ・日光 (にっこう)
- ・秩父多摩甲斐 (ちちぶたまかいはい)
- ・足摺宇和海 (あしずりうわかい)
- ・白山 (はくさん)
- ・吉野熊野 (よしのくまの)
- ・大山隠岐 (だいせんおき)
- ・西表 (いりおもて)
- ・阿蘇くじゅう (あそくじゅう)
- ・南アルプス (みなみ)
- ・阿寒 (あかん)
- ・支笏洞爺 (しこつとうや)
- ・陸中海岸 (りくちゅうかいがん)
- ・知床 (しれとこ)
- ・上信越高原 (じょうしんえつこうげん)
- ・中部山岳 (ちゅうぶさんかく)
- ・富士箱根伊豆 (ふじはこねいず)
- ・霧島屋久 (きりしまやく)
- ・伊勢志摩 (いせしま)
- ・山陰海岸 (さんいんかいがん)
- ・瀬戸内海 (せとないかい)
- ・雲仙天草 (うんぜんあまくさ)
- ・西海 (さいかい)

			1	
2		3	4	
5		6	7	
8		9	10	
11		12	13	
14		15	16	
17		18	19	
20		21	22	
23		24	25	
26		27	28	

# 社会確認テスト

氏名〔 〕

## 国立公園



おがさわら 小笠原	
みなみ 南アルプス	
くしろしつげん 釧路湿原	
あかん 阿寒	
たいせつざん 大雪山	
しこつとうや 支笏洞爺	
とわだはちまんたい 十和田八幡平	
りくちゅうかいがん 陸中海岸	

りしりれぶん 利尻礼文サロベツ		ちゅうぶざんがく 中部山岳		はくさん 白山	
しれとこ 知床		ちちぶたまかい 秩父多摩甲斐		いせしま 伊勢志摩	
ぼんだいあさひ 磐梯朝日		ふじはこねいず 富士箱根伊豆		よしのくまの 吉野熊野	
じょうしんえつこうげん 上信越高原		あしずりうわかい 足摺宇和海		さんいんかいがん 山陰海岸	
にっこう 日光		きりしまやく 霧島屋久		だいせんおき 大山隠岐	
せとないかい 瀬戸内海		いりおちて 西表		うんぜんあまくさ 雲仙天草	
あそ 阿蘇くじゅう		さいかい 西海			

〔解答〕

- |               |                |               |
|---------------|----------------|---------------|
| 1 知床国立公園      | 2 利尻礼文サロベツ国立公園 | 3 大雪山国立公園     |
| 4 阿寒国立公園      | 5 釧路湿原国立公園     | 6 支笏洞爺国立公園    |
| 7 十和田八幡平国立公園  | 8 陸中海岸国立公園     | 9 磐梯朝日国立公園    |
| 10 日光国立公園     | 11 上信越高原国立公園   | 12 秩父多摩甲斐国立公園 |
| 13 中部山岳国立公園   | 14 白山国立公園      | 15 富士箱根伊豆国立公園 |
| 16 伊勢志摩国立公園   | 17 吉野熊野国立公園    | 18 山陰海岸国立公園   |
| 19 大山隠岐国立公園   | 20 瀬戸内海国立公園    | 21 足摺宇和海国立公園  |
| 22 阿蘇くじゅう国立公園 | 23 西海国立公園      | 24 雲仙天草国立公園   |
| 25 霧島屋久国立公園   | 26 西表国立公園      | 27 小笠原国立公園    |
| 28 南アルプス国立公園  |                |               |

〔参考〕 国立公園のサイト

<http://www.sizenken.biodic.go.jp/park/np/>

1 次の問に答えなさい。

問1 (1)～(6)の国立公園がある都道府県名ア～ウを、それぞれ1～8の中から選びなさい。順番は問いません。

- (1) 上信越高原国立公園 …………… (ア ・ イ ・ ウ)  
1 群馬県 2 栃木県 3 埼玉県 4 山梨県 5 新潟県  
6 静岡県 7 長野県 8 岐阜県
- (2) 中部山岳国立公園 …………… (ア ・ イ ・ ウ ・ 新潟県)  
1 群馬県 2 栃木県 3 長野県 4 福井県 5 富山県  
6 岐阜県 7 石川県 8 滋賀県
- (3) 十和田八幡平国立公園 …………… (ア ・ イ ・ ウ)  
1 青森県 2 岩手県 3 秋田県 4 山形県 5 宮城県  
6 福島県 7 新潟県 8 栃木県
- (4) 磐梯朝日国立公園 …………… (ア ・ イ ・ ウ)  
1 青森県 2 岩手県 3 秋田県 4 山形県 5 宮城県  
6 福島県 7 新潟県 8 栃木県
- (5) 日光国立公園 …………… (ア ・ イ ・ ウ ・ 新潟県)  
1 山形県 2 宮城県 3 福島県 4 茨城県 5 栃木県  
6 群馬県 7 埼玉県 8 長野県
- (6) 吉野熊野国立公園 …………… (ア ・ イ ・ ウ)  
1 滋賀県 2 三重県 3 京都府 4 福井県 5 大阪府  
6 和歌山県 7 兵庫県 8 奈良県

問2 (1)～(6)の国立公園にあるものを、それぞれ1～5の中から二つずつ選びなさい。順番は問いません。

- (1) 上信越高原国立公園  
1 浅間山 2 乗鞍岳 3 志賀高原 4 那須岳 5 筑波山
- (2) 中部山岳国立公園  
1 男体山 2 立山 3 富士山 4 白馬岳 5 赤石岳
- (3) 十和田八幡平国立公園  
1 支笏湖 2 蔵王山 3 八甲田山 4 安達太良山 5 奥入瀬溪流
- (4) 磐梯朝日国立公園  
1 月山 2 岩手山 3 白神岳 4 谷川岳 5 猪苗代湖
- (5) 日光国立公園  
1 尾瀬沼 2 田沢湖 3 霞ヶ浦 4 中禅寺湖 5 諏訪湖
- (6) 吉野熊野国立公園  
1 石鎚山<sup>いしづちさん</sup> 2 那智滝 3 祖谷溪<sup>い や け い</sup> 4 妙高山 5 吉野山

問3 次の(1)～(5)の都道府県で作られている伝統工芸品を、次の1～9の中から選びなさい。

- (1) 佐賀県 (2) 栃木県 (3) 石川県 (4) 愛媛県 (5) 岩手県  
1 会津塗 2 益子焼 3 砥部焼 4 博多人形 5 美濃紙  
6 備前焼 7 輪島塗 8 南部鉄器 9 有田焼

(慶応中等部)

2 [ 1 ] の表は主要な果物の生産量の順位を示したものです。この表をもとに、次の1～9の問いに答えなさい。

問1 表の中の と にあてはまる果物名を答えなさい。

問2 表の中のA～Gにあてはまる県名を[ 2 ]の地図から選び、記号で答えなさい。

問3 A県には真言宗の本山「高野山」がある。

[ 3 ] の統計表ア～ウの中で、このA県の最南端に位置する岬<sup>みさき</sup>における気温と降水量を示したものはどれか。記号で答えなさい。

問4 次にあげる国立公園のうち、B県に関係するものを2つあげ記号で答えなさい。

- ア 富士箱根伊豆国立公園    イ 白山国立公園    ウ 日光国立公園  
 エ 磐梯朝日国立公園    オ 上信越高原国立公園    カ 十和田八幡平国立公園  
 キ 南アルプス国立公園    ク 瀬戸内海国立公園

問5 C県内で最も大きな河川は、酒田市を河口としている。この河川の名前をあげなさい。

問6 D県のほぼ中央に位置し、天竜川が流れ出ている県内最大の湖の名前をあげなさい。

問7 E県の最高峰は岩木山である。このE県で最も水揚げ高の多い漁港の名前をあげなさい。

問8 F県には、全国で最も大きな面積をもつ市がある。この市の名前をあげなさい。

問9 G県は茶の産地としても有名であるが、この県の中で県庁所在地よりも人口が多く、綿織物・楽器・オートバイ等の生産が盛んな市の名前をあげなさい。

[ 1 ]

	1位	2位	3位	4位	5位
①	愛 媛	A	G	熊 本	佐 賀
ぶ どう	B	D	C	岡 山	福 岡
さくらんぼ	C	B	北海道	E	秋 田
②	E	D	岩手	山形	F
も も	B	F	D	A	岡山

[ 2 ]



注)北海道・沖縄県をのぞく

[ 3 ]

	1月	2月	3月	4月	5月	6月	7月	8月	9月	10月	11月	12月
ア	16 120	16.4 118	18 144	21 168	23.7 249	26.1 293	28.1 193	27.8 260	27.1 166	24.3 186	21.3 142	18.1 117
イ	-3.6 71	-3.2 62	0.4 70	6.4 83	11.4 80	15.1 92	19.3 107	21.2 153	17.2 166	11.3 106	4.9 91	-0.6 78
ウ	7.5 111	8.1 115	10.7 166	15.3 269	18.7 288	21.7 390	25.2 287	26.5 285	23.9 306	19.3 252	14.9 191	10.2 109

上段：月平均気温

下段：月平均降水量mm

( 学習院女子中等科 )

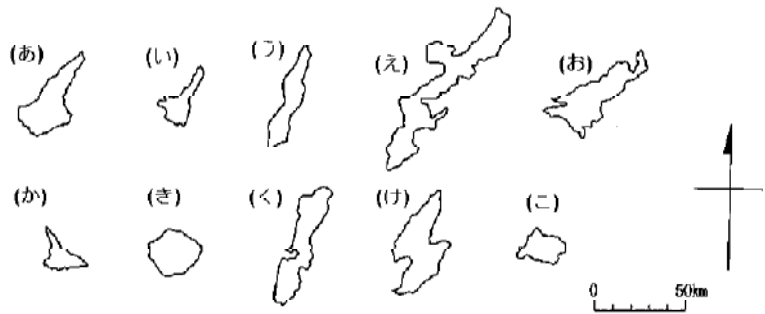
3 日本は四つの大きな島と、たくさんの小島からなる島国です。資料(理科年表)で調べると、面積100km<sup>2</sup>以上の島は合計で29あります。このうちの四大島と、北方領土の島をのぞいた22の島のうち、次の10の島について、あとの各問いに答えなさい。

- 1 沖繩島    2 佐渡島    3 奄美大島    4 対馬    5 淡路島  
6 屋久島    7 種子島    8 西表島    9 石垣島    10 宮古島

問1 下の図中の(あ)～(こ)は、上の1～10の島の形をかいたものです。図中の(あ)(う)(え)(き)(け)にあたる島は何島か。島名を上の1～10のうちから選び、番号で答えなさい。なお、図の島の縮尺はみな同じです。

問2 次の各島がある都道府県名を答えなさい。

- 2 佐渡島    3 奄美大島  
4 対馬    5 淡路島  
8 西表島



問3 次のA～Fで説明する島名を、上の1～10のうちから選び、番号で答えなさい。

- A 日本の西端にあたる島に最も近い位置にあり、全島の90%以上が原生林でおおわれている。第2次世界大戦後になってから島は開発が進められたが、天然記念物に指定された貴重な動物などもみられる。
- B 大隅半島の南約60kmにあり、中央の宮之浦岳は標高が1,935mあり、九州の最高峰となっている。降水量が多く、平地で年間4,000mm、山地では年間8,000～10,000mmとなる。標高1,000～1,500m付近を中心に杉が自生し、樹齢1,000～3,000年のものもあり、1993年に杉林は世界の自然遺産にも指定された。
- C 古くから島流しや遠国行きの罰をうけた人が送られる島として知られ、江戸時代には幕府が鉱山開発に力をいれた。島の中央の平野には水田が広がり、米づくりがさかんである。
- D 朝鮮半島と九州本土の間にある。島の北端と大韓民国のプサンとの間は約40kmほどで、古

くから日本と大陸を結ぶ交通上の重要な地点であった。

E 大隅半島の南約40kmにあり、1610年に南にある奄美大島からさとうきびが、また、1698年には琉球からさつまいもが伝わり、日本で最初にさつまいもが栽培された。

F 古くから大陸や東南アジアとの交流が深く、琉球王国時代の歴史をしのばせる首里城をはじめ、多くの史跡や独自の文化がみられる。農業はさとうきびづくりと、最近では菊やゆりなどの花づくりもさかんである。

(学習院中等科)

4 次の ~ のア~オは、それぞれ、ある河川流域(支流もふくむ)の景観・産業・特色(過去にみられたものもふくむ)などを示しています。ただし ~ のア~オのなかにはひとつずつ関係のないものがふくまれています。次の問いに答えなさい。

- |          |           |           |
|----------|-----------|-----------|
| ア 三急流    | イ 将棋駒     | ウ おうとう    |
| エ シラス台地  | オ 水田単作地帯  |           |
| ア 河跡湖    | イ 屯田兵村    | ウ フォッサマグナ |
| エ 泥炭地    | オ 蛇行      |           |
| ア 石油化学工業 | イ 三方原     | ウ 諏訪湖     |
| エ 佐久間ダム  | オ 河岸段丘    |           |
| ア 四大公害   | イ 明治用水    | ウ 神岡鉱山    |
| エ 消雪パイプ  | オ 北アルプス   |           |
| ア 三大美林   | イ 白川郷     | ウ 花岡鉱山    |
| エ 林産都市   | オ 白神山地    |           |
| ア 四大公害   | イ 油田・ガス田  | ウ 輪中集落    |
| エ 奥只見ダム  | オ 尾瀬沼     |           |
| ア 三急流    | イ 人吉盆地    | ウ い草      |
| エ 製糸工業   | オ 五家荘     |           |
| ア 研究学園都市 | イ 干拓      | ウ 二毛作地帯   |
| エ 久留米がすり | オ 水郷      |           |
| ア 三急流    | イ 伊勢湾     | ウ もも・ぶどう  |
| エ 製紙工業   | オ 中央自動車道  |           |
| ア 四国山地   | イ 大歩危・小歩危 | ウ 香川用水    |
| エ 藍染め    | オ 高冷地野菜   |           |

問1 ~ のア~オのなかから、関係のないものをひとつずつ選び記号で答えなさい。

問2 関係のないものをひとつ除くと、 ~ はどの河川流域の景観・産業・特色などを示していますか。次から選び記号で答えなさい。

- |        |       |       |       |       |
|--------|-------|-------|-------|-------|
| あ 阿賀野川 | い 石狩川 | う 北上川 | え 木曽川 | お 球磨川 |
| か 信濃川  | き 神通川 | く 筑後川 | け 天竜川 | こ 十勝川 |
| さ 富士川  | し 最上川 | す 吉野川 | せ 米代川 |       |

(暁星中学校)

5 次の(A)~(J)の文章は、日本の半島について説明しています。後の問1~3に答えなさい。

- (A) 暖流の( a )の影響を受けて気候は温暖であるが、全体としては山がちな半島である。数多くの温泉地があり、京浜地方にも近いので、多くの人々が訪れる。また国立公園にも指定されている。この半島の南端には、日米和親条約で外国に開かれた港がある。
- (B) ( b )と呼ばれる白っぽい砂のような火山灰・軽石による台地が広がっていることで有名な半島である。この台地は、水もちが悪く、肥料分が乏しいので、さつまいも・たばこ・茶などが栽培されている。しかし最近、この半島の中央部に位置する台地の開発にみられるように、農地の改良・灌漑施設の開発が進められ、野菜・飼料作物の栽培や、稲作なども行われるようになった。また畜産業も盛んである。
- (C) この半島の南部では、山麓を利用したりんごの栽培が行われている。また、この半島先端の龍飛崎と渡島半島の吉岡とを結ぶ海底トンネルが1988年3月に完成し、本州と北海道が鉄道で結ばれた。
- (D) この半島は海岸線が入りくんでいる( c )式海岸に恵まれ、波の静かな多くの湾内では真珠の養殖が行われている。付近一帯は海岸の風景が美しく、伊勢神宮などとともに国立公園に指定されている。
- (E) 台地やなだらかな低い山地の多い半島で、北東部に九十九里平野がひらけ、海岸線の単調な九十九里浜がある。沖合を暖流が流れるため、南部では冬でも温暖な気候を利用して、花や野菜などの栽培が盛んである。半島北西部の( d )湾岸には、京葉工業地域が発達している。
- (F) この半島は、大部分が台地で水が乏しかったが、豊川用水の完成で灌漑用水が得られるようになり、温暖な気候を利用したメロンや電照菊・野菜などの栽培が盛んである。
- (G) 中央部の雲仙岳を中心に形成されている半島で、一帯は雲仙天草国立公園となっている。キリシタンに関する史跡も多く、観光客の人気を集めてきたが、1990年に約200年ぶりに噴火した雲仙・普賢岳の活動により、大きな被害を受けてしまった。
- (H) ならかな低い山地の連なる半島で、海岸は変化に富んでいる。気候が温暖で大都市に近いので、キャベツ・大根などの野菜をつくる( e )地帯となっている。また風景美にも恵まれ、鎌倉・逗子など観光・保養地も多い。この半島の西端に位置する三崎漁港は遠洋漁業の根拠地となっている。
- (I) この半島に抱かれている八郎潟は、かつては琵琶湖につぐ日本で2番目に大きい湖であったが、第二次世界大戦後の食料不足の中で米の増産をはかるために、全体の約5分の4が( f )され、大潟村が建設された。
- (J) 濃霧などの影響により、気候は夏でも冷涼で、樹木も完全には育たない土地である。この半島の先端の納沙布岬からは、北方領土の1つである歯舞諸島がすぐ近くに見える。

問1 (A)~(J)の文章は、右の地図のどの半島について説明していますか。その半島名を下のア~ソより選んで記号で答えなさい。また、地図の中の ~ の番号で答えなさい。

ア 男鹿半島	イ 津軽半島	ウ 島原半島	エ 下北半島
オ 伊豆半島	カ 能登半島	キ 三浦半島	ク 房総半島
ケ 紀伊半島	コ 志摩半島	サ 知多半島	シ 大隅半島



ス <sup>しれとこ</sup> 知床半島    セ <sup>あつみ</sup> 渥美半島    ソ <sup>ねむろ</sup> 根室半島

問2 下線部 ~ について、(1)~(6)の問いに答えなさい。

(1) 下線部 について、この半島に位置する代表的な温泉地を次の中から1つ選んで記号で答えなさい。

ア <sup>べつぷ</sup> 別府    イ <sup>あたま</sup> 熱海    ウ <sup>のぼりべつ</sup> 登別    エ <sup>くさつ</sup> 草津

(2) 下線部 について、この半島の中央部に位置する火山灰におおわれている台地名を次の中から1つ選んで記号で答えなさい。

ア <sup>まき はら</sup> 牧ノ原台地    イ <sup>しもうさ</sup> 下総台地  
ウ <sup>むさしの</sup> 武蔵野台地    エ <sup>かさの はら</sup> 笠野原台地

(3) 下線部 について、この半島で飼育されている主要な家畜としてあてはまらないものを次の中から1つ選んで記号で答えなさい。

ア <sup>ぶた</sup> 豚    イ 肉牛  
ウ プロイラー（食用のにわとり）    エ 乳牛

(4) 下線部 にあてはまる湾名を次の中から1つ選んで記号で答えなさい。

ア <sup>あご</sup> 英虞湾    イ <sup>みかわ</sup> 三河湾    ウ <sup>わかさ</sup> 若狭湾    エ <sup>するが</sup> 駿河湾

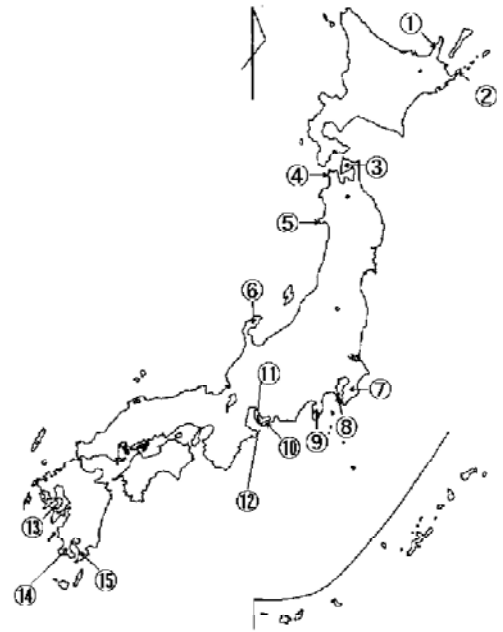
(5) 下線部 において、水揚げされている魚を次の中から1つ選んで記号で答えなさい。

ア すけとうだら    イ にしん    ウ まぐろ    エ はまち

(6) 下線部 を含む北方領土問題は、日本とどこの国の間の領土問題となっていますか。その現在の国名を答えなさい。

問3 (A)・(B)・(D)・(E)・(H)・(I)の文章中( a )~( f )にあてはまる語句を入れなさい。

(女子学院)



1

問1 (1) 1・5・7 (2) 3・5・6 (3) 1・2・3 (4) 4・6・7  
(5) 3・5・6 (6) 2・6・8

問2 (1) 1・3 (2) 2・4 (3) 3・5 (4) 1・5 (5) 1・4 (6) 2・5

問3 (1) 9 (2) 2 (3) 7 (4) 3 (5) 8

2

問1 みかん りんご

問2 A 1 7 B 1 1 C 4 D 1 2 E 1 F 6 G 1 3

問3 ウ 問4 ア、キ 問5 最上川 問6 諏訪湖 問7 八戸

問8 いわき市 問9 浜松

3

問1 あ5 う7 え1 き6 け2

問2 2新潟県 3鹿児島県 4長崎県 5兵庫県 8沖縄県

問3 A 8 B 6 C 2 D 4 E 7 F 1

4

問1 エ ウ ア イ イ ウ エ ア イ オ

問2 し い け き せ あ お く さ す

5

問1 (半島名) Aオ Bシ Cイ Dコ Eク Fセ Gウ Hキ

Iア Jソ (地図) A B C D E F G

H I J

問2 1イ 2エ 3エ 4ア 5ウ 6ロシア連邦

問3 a日本海流(黒潮) bシラス cリアス d東京 e近郊農業  
f干拓