

## 歴史 入試問題演習 第二集

- 1 [1] ~ [10] の と の文章について、次の指示に従って答えなさい。
- 、 とともに正しい場合は、アを書きなさい。
- が正しく、 が誤っている場合は、イを書きなさい。
- が誤りで、 が正しい場合は、ウを書きなさい。
- 、 とともに誤っている場合は、エを書きなさい。
- [1] 縄文時代には、すでに関東地方にまで稲作農業が広まっていました。  
弥生時代には、朝鮮半島から青銅器が伝えられました。しかし、鉄器はまだ伝えられていませんでした。
- [2] 聖徳太子は、中国の進んだ文化をとりいれるため、唐の皇帝のもとに小野妹子を派遣しました。  
中大兄皇子は、645年に中臣鎌足らの協力を得て、蘇我蝦夷・入鹿父子を滅ぼしました。
- [3] 710年に、唐の都長安をまねて大規模な平城京が造られました。  
奈良時代の農民のなかには、重い負担からのがれようと戸籍をいつわったり、土地をすてて逃げだしたりする人がいました。
- [4] 784年、桓武天皇は都を平城京から平安京にうつし、乱れた政治をたてなおそうとしました。  
藤原頼通は10世紀の末に貴族としてはじめて関白となりました。
- [5] 平将門は10世紀の前半に関東地方で反乱をおこしました。この反乱は、地方において武士の力が伸びはじめたことを示しています。  
平安時代の末、東北地方では藤原氏が平泉に中尊寺をつくるなど、繁栄をほこりました。
- [6] 藤原道長は、11世紀の前半、約50年間ほど摂政として国の政治を行いました。  
荘園は有力貴族がその地位を利用して、口分田を不正に手に入れてできあがったものです。
- [7] 源頼朝は国ごとに守護をおいて、国内の農民からさまざまな税をとりたてました。  
北条義時は、1221年、後鳥羽上皇と戦い、これを打ち破りました。
- [8] 北条泰時は、1232年、貞永式目を定めて、すべての人々にこの法律に従うように命じました。  
北条時宗は元との戦いに活躍した御家人達に土地を与えたり、地頭に任命するなど十分な恩賞を与えました。
- [9] 足利義満は明との間に国交を開き貿易を始めました。この貿易で明から銅銭や絹織物などを輸入しました。  
1467年に始まった応仁の乱は約10年間続きましたが、勝敗はつきませんでした。しかし、この結果、将軍の力は衰えていきました。
- [10] 徳川吉宗は幕府の財政をたてなおすため、年貢をふやしました。  
水野忠邦は大坂や江戸の有力な商人に新しく重い税をかけ、幕府の財政をたてなおそうとしました。

(桐蔭学園中学校)

2 次の文を読み、下の問に答えなさい。

- 1 北条時宗は、西日本の武士を集め、二度にわたる敵の侵入をしりぞけました。

- 2 大塩平八郎は、米が値上がりしているのに、役人がとりしまらないことに抗議して、門人たちと打ちこわしをおこしました。
- 3 一向宗を中心に団結した人たちが、大名をほろぼし、100年間も自治をつづけました。
- 4 数多くの戦いをくりひろげた合戦は、ここで終わり、貴族をまねた平氏の天下は、源氏へと移りました。
- 5 景気がよかったものの、労働者の賃金はそれほど上がらず、米などの物価が高くなったので、2カ月におよぶ大きなさわぎが始まりました。
- 6 重い税金と借金とにこまった農民たちが「自由民権の政府をつくろう」と立ち上がり、軍隊と衝突しました。
- 7 織田信長は、交通の便利なこの土地に天守閣をもつ立派な城を築き、天下にその力を示しました。
- 8 平将門がその土地の国司を追いだし、新皇と名のって京都の朝廷にそむきました。
- 9 南朝をはじめた後醍醐天皇に対し、足利尊氏は別の天皇をたてて対立しました。
- 10 重い年貢と、キリスト教のきびしいとりしまりに反対する農民たちが一揆をおこし、4ヶ月城にたてこもって戦いました。

A 上の1から10の文は、わが国のどこかでおこったことについて書いています。下線の部分を中心に考え、その地域を下の都府県名より選び、記号で答えなさい。

- |       |      |      |      |      |
|-------|------|------|------|------|
| ア 京都  | イ 滋賀 | ウ 大阪 | エ 広島 | オ 山口 |
| カ 神奈川 | キ 茨城 | ク 福島 | ケ 富山 | コ 福岡 |
| サ 佐賀  | シ 奈良 | ス 石川 | セ 長崎 | ソ 埼玉 |

B 上の1から10の文のうち、12世紀の終わりから16世紀の終わりまでの事がらが5つあります。それらを選び、古い順にならべかえ、その番号を記入しなさい。

C 5の文にかかわる問題です。景気がよかったのはあることが影響しています。漢字7字で答えなさい。

D 10の文にかかわる問題です。この一揆がおこったのは、鎖国の完成の前ですか、後ですか。前、後で答えなさい。

(早稲田中学校)

3 次の文章は高校生のA君・A君の父・A君の祖父のそれぞれが、自分の生きてきた時代の思い出を語ったものです。よく読んであとの問いに答えなさい。

(祖父の話)

私の父が生まれた時代は、国会を開くことを要求する運動がさかんで、その影響(えいきょう)もあるのか、父の名は民治(たみじ)といます。父が私に思い出話としてよく話してくれたのは、まだ父が小学生のころ(ア)が発表されて、東京中がそのお祝いにわきかえったということです。その後には日清戦争があり、さらにその十年後には(イ)という戦争があったそうです。(イ)には父も兵士として参加したこともよく聞かされました。明治のはじめから(ウ)が終わるまでは、20歳(さい)以上の男子には兵役の義務があったからです。私も(ウ)には兵士として参加しました。私の生まれた年には(イ)の結果として、日本は(エ)を植民地としました。

(父の話)

私は父が満30歳の時に生まれました。その年は日本は(オ)との戦争に入っており、さらに翌年

には(カ)を主な敵とする(ウ)に入りました。私の子供のころの記憶の中で印象的なのは、この戦争の終わりをつげるラジオ放送を、母や近所の人たちが集まって聞いていた情景です。

(A君の話)

ぼくが生まれた年、父は35歳でした。この年にアメリカとベトナムとの戦争が終わったということです。ぼくが小学校に入学する年には神戸で博覧会が開かれ、両親と見学に行きました。また、茨城県の筑波で科学技術万国博覧会が開かれて、学校全体で見学に行った思い出もあります。

問1 文中の(ア)～(カ)にあてはまることばを答えなさい。ただし、(カ)を除いて、すべて正確な漢字で答えなさい。

問2 下線部の「国会を開くことを要求する運動」を何といいますか。「運動」に続くかたちで漢字四字で答えなさい。

問3 祖父、父、A君がみんな1月1日生まれとすると、それぞれ現在満何歳ですか。数字で答えなさい。現在が、西暦2000年だとして計算しなさい。

(聖光学院中学校)

4 次の1～10の文は、わが国の民主主義の発達に関するものです。各文の問に答えなさい。

1 .1922年3月3日、京都市岡崎の公会堂で開かれた大会で、自分達の活動をつうじて差別をなくし、人権を回復していくことを目的として創立された団体名を答えなさい。

2 .政治は国民の幸福と利益のために行われなければならないとし、そのために国民に選挙権をもたせ、国民の意見を議会に反映させる必要があるという民本主義を主張した人物をつぎの(ア)～(エ)の中から選んで記号で答えなさい。

(ア)板垣退助 (イ)犬養毅 (ウ)吉野作造 (エ)福沢諭吉

3 .1918年、衆議院で多数を占めていた立憲政友会総裁の原敬が、内閣総理大臣となり内閣をつくりました。このようにしてつくられた内閣を何と呼びますか。

4 .1925年に成立した普通選挙制度で、衆議院議員の選挙権が与えられたのはどのような人びとですか。

5 .1925年、労働運動や農民運動をおこなう人びと、平和をとる人びとなどをとりしめるためにつくられた法律を何といいますか。

6 .女性であるということで差別されていることに反発して、女性解放をめざす婦人解放運動を中心となっておしすすめた人物を、つぎの(ア)～(ウ)の中から選んで記号で答えなさい。

(ア)平塚雷鳥 (イ)津田梅子 (ウ)与謝野晶子

7 .ドイツの憲法を学び、帰国後日本に内閣制度をつくり、初代の内閣総理大臣になった人物の名前を答えなさい。

8 .「人間はみな、自由、平等である。すべて国民は、政治に参加する権利がある。」という考えのもとに、国会の開設を求めた運動を何といいますか。

9 .1894年、イギリスとの間で、「外国人は日本で罪をおかしても、日本の法律で裁くことができない」というきまりが廃止されました。このようなきまりを何といいますか。

10 .1911年、日本が外国からの輸入品に対して自由に税をかけられる権利をとりもどす交渉に成功した外務大臣は誰ですか。

(芝中学校)

5 下にあげた史料について、それぞれあとの問いに答えなさい。

新しい政治方針

- 一．これまで豪族がもっていた土地と人々は、( )のおさめる公地・公民とする。
- 一．地方は国と郡に分け、国司・郡司をおく。
- 一．戸籍をつくって人々に田を分けあたえる。
- 一．新しい税のとり方を決める。

問1 史料中の( )にあうことばを漢字2文字で答えなさい。

問2 この史料は、あるできごとがおきた次の年に出された政治方針です。あるできごととは何ですか。

問3 このできごとをおこした中心人物の名をひとり、漢字で答えなさい。

問4 この方針にそって、701年につくられた律令をなんといいますか。漢字4文字で答えなさい。

問5 この史料が出されたのはいつですか。下のイ～ニから選びなさい。

イ．603年    ロ．645年    ハ．646年    ニ．672年

ア，一．下田，函館以外，( )・長崎・新潟・兵庫の港を開く。下田はのちに閉港。

イ，一．日本が輸出したり，輸入したりする品物の税金は，アメリカと相談してきめたとおりとする。

ウ，一．アメリカ人が日本人に対して罪をおかしたときは，アメリカ領事が裁判する。

問1 史料中の( )にあう地名を漢字で書きなさい。

問2 この史料は、江戸時代末に日本とアメリカ合衆国との間で結ばれた条約です。なんとこの条約ですか。漢字で答えなさい。

問3 この条約は、日本にとって不利な内容をもつ条約でした。不利な点を史料中の記号(ア～ウ)から選びなさい。

問4 日本にとって不利な点が完全になくなったのはいつですか。下の記号イ～ホから選びなさい。

イ．明治前期    ロ．明治中期    ハ．明治末期    ニ．大正期    ホ．昭和初期

(学習院中等科)

6 次の(1)～(7)の文は、將軍徳川<sup>いえのぶ</sup>家宣・家継<sup>いえつぐ</sup>に仕えた儒学者<sup>じゅがくしや</sup>の著した「読史余論」という歴史書の一部を、やさしく書き改めたものです。これについて、あとの問いに答えなさい。

(1) 56代の清和天皇は幼少だったので、母方の祖父の藤原良房が( 1 )となった。これが母方の祖父が権力をもったはじめである。

(2) 後三条天皇と白河天皇は天皇の親政を行った。その後、堀川<sup>ほりかわ</sup>天皇から安徳天皇までの9代、97年間は、政治は上皇によって行われた。

(3) 織田信長が出て將軍を廃止し、天下に号令をかけようとしたが、成功しないうちにa家臣の( 2 )によって殺された。豊臣秀吉はみずから関白となって、天下の権力を思いのままにしたが、その期間は約15年間であった。

(4) 源頼朝が幕府を開いて、父子3代にわたって天下をおさめ、やがて、執権<sup>しつけん</sup>( 3 )の時にはとb承久<sup>じょうきゅう</sup>の乱があり、北条氏が天下の実権をにぎった。その後、7代、112年間を経て北条高時の時代にc滅亡<sup>めつぼう</sup>した。

- (5) 藤原基経は陽成天皇の妻の父であることを利用し、陽成天皇を退位させて光孝天皇を即位させ、以後天下の権力を藤原氏がにぎった。その後、関白を置いたり置かなかったりしたが、藤原氏の権力は日に日に盛んとなった。
- (6) ( 4 ) 天皇が親政を再開したが、( 5 ) がそむいたので天皇は都からのがれた。( 5 ) は d 光明天皇を立てて北朝の主として幕府を開き、子孫が続いて12代におよんだ。
- (7) その後とうとう徳川の世となった。

問1 文中(1)～(5)に、あてはまる人名と語句を答えなさい。

問2 下線部分のa～dの事実があった年代を、次の中から選んで記号で答えなさい。

- |         |         |         |         |         |
|---------|---------|---------|---------|---------|
| ア 1221年 | イ 1223年 | ウ 1225年 | エ 1331年 | オ 1333年 |
| カ 1334年 | キ 1336年 | ク 1339年 | ケ 1340年 | コ 1341年 |
| サ 1560年 | シ 1580年 | ス 1582年 | セ 1583年 | ソ 1585年 |

問3 (1)～(7)の文を歴史的にみて、古い順から並べかえると次のどの組み合わせになりますか。ア～カの記号で答えなさい。

- ア (1) - (2) - (6) - (5) - (4) - (3) - (7)
- イ (1) - (2) - (5) - (4) - (6) - (3) - (7)
- ウ (1) - (2) - (5) - (6) - (4) - (3) - (7)
- エ (1) - (5) - (4) - (2) - (6) - (3) - (7)
- オ (1) - (5) - (2) - (4) - (6) - (3) - (7)
- カ (1) - (6) - (2) - (5) - (4) - (3) - (7)

問4 問題文の中にある二重線部分の「読史余論」の著者名を漢字で答えなさい。

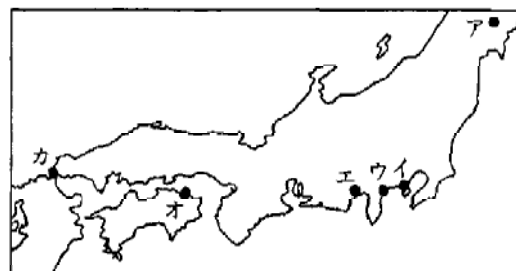
(世田谷学園中学校)

7 日本の歴史について次の(1)～(9)の問いに答えなさい。

(1) 右の地図をみて、次の 　　　 の問いの答えを、地図中のア～カからそれぞれ一つ選び、記号で答えなさい。

源頼朝が兵をあげて最初に戦った主な戦場はどこですか。

平氏が最後に滅んだ戦場はどこですか。



(2) 鎌倉時代について説明した次のア～エの文から、まちがっているものを一つ選び、記号で答えなさい。

ア 将軍源頼朝の家来たちは一族とともに幕府のある鎌倉に住み、戦いなどがおこると「いざ鎌倉」と幕府のために命がけで戦い、手柄をたて恩賞をもらうことを最大の誇りとした。

イ 鎌倉時代の武士たちは、先祖からの領地や新しくあたえられた領地を守るために、命をかけて戦った。これを「一所懸命」という。

ウ 平氏のために伊豆に流されていた頼朝が、平氏を倒して幕府をたてることができたのは、伊豆の豪族の北条氏や関東の武士たちの応援があったからである。

エ 源氏の将軍が三代めで絶えたあと、幕府とこれを倒そうとした朝廷がたとの間に戦いがあった。武士たちは幕府のもとに結集し、朝廷がたの軍をうち破った。

(3) 元寇について説明した次のア～エの文から、まちがっているものを一つ選び、記号で答えなさい。

い。

- ア 幕府は執権北条時宗を中心に、西日本の武士を九州に集め、二度にわたる元寇を戦いぬいた。  
イ 元寇に出陣した武士の多くは、戦後、幕府からご恩として多くの領地を与えられた。  
ウ 元は日本をしたがえようとして、元寇の数年前から使いを送ってきたが、幕府は元の要求をこばみつづけた。  
エ 元軍は集団戦法や火薬兵器などの使用で日本軍を苦しめた。

(4) 次のア～オのうち、鎌倉時代にさかんであったり、作られたりしたものでないものを一つ選び、記号で答えなさい。

- ア 大和絵                      イ 東大寺金剛力士像                      ウ 浄土真宗  
エ 平家物語                      オ 禅宗

(5) 室町時代に農民が大名と戦えるほどに成長してきた理由として次にあげたア～エから、まちがっているものを一つ選び、記号で答えなさい。

- ア 二毛作が広まり収穫がふえたため、農民の力が大きくなった。  
イ 田畑の肥料として野や山でかった草ばかりでなく、なたね油のしぼりかすや、ほしたいわしなどを肥料として買い入れて収穫をふやし、力をつけていった。  
ウ 水車が使われたり、用水の管理を村全体で大切に行なうなどして収穫をふやし、力をつけていった。  
エ 農民は有力者を中心にして寄合を開き、村のおきてなどについて相談し、団結を強めていった。

(6) 16世紀の中ごろから17世紀初めごろ、日本にやってきてさかんに貿易をしていた人々の国として、次にあげたア～エから、まちがっているものを一つ選び、記号で答えなさい。

- ア 中国      イ ポルトガル      ウ スペイン      エ イタリア

(7) 豊臣秀吉の行なった刀狩りや検地について説明した次のア～エの文から、まちがっているものを一つ選び、記号で答えなさい。

- ア 刀狩りと検地の結果、武士と農民の身分は区別され、江戸幕府の行なった身分制度のもとができた。  
イ 検地は全国どこでも同じ長さのものさしを使って耕地の面積をはかり、検地帳に田の面積、収穫高、耕作者の名前を記入した。  
ウ 検地の結果、農民は田畑の耕作をやめて村を離れることができなくなった。  
エ 秀吉の検地は、とてもきびしく、農民はそれまであった田畑を耕す権利を認められなくなった。

(8) 江戸時代の学問とそれに関係あることならについて説明した次のア～エの文から、まちがっているものを一つ選び、記号で答えなさい。

- ア 長崎は蘭学研究の中心地で、幕府や大名から命じられた者、藩をとび出してきた者などが、全国から集まってきて、医学、地理学、天文学などのヨーロッパの学問を学んだ。  
イ 杉田玄白や前野良沢らのほん訳した「解体新書」で、西洋医学のすばらしさを知った八代將軍吉宗は西洋の知識に関心をもち、洋書の輸入を許した。  
ウ 19世紀中ごろ、儒学者で、もと幕府の大坂町奉行所の役人だった大塩平八郎は、多くの人を率いて大阪で反乱をおこし、幕府に大きな打撃をあたえた。  
エ 本居宣長によって完成した国学は、「古事記」などにみられる古くからの日本人の考え方を重んじた。この考え方は、幕末に天皇中心の政治を実現しようとした人々の運動に大きな影響を与えた。

(9) 江戸幕府によってつくられた身分制度について説明した次のア～エの文から、まちがっているものを一つ選び、記号で答えなさい。

ア 幕府は武士による支配のしくみを守るため、士農工商の身分制度をつくり、身分の差別をきびしくした。

イ 明治時代になると、政府は士農工商の身分制度を廃止し、農工商より低い身分とされてきた人々も平民とされ、これらの人々に対する住居、職業などの差別はなくなった。

ウ 幕府が農工商の下にさらに低い身分をつくったのは、農民や町人に自分たちよりもっと低い身分のものがいるという気持ちをもたせ、武士に対する農民や町人の不満をそらせるためであった。

エ 幕府は農工商の下にさらに低い身分をおき、住む所や職業や服装<sup>ふくそう</sup>などをきびしく制限し、差別した。

(東京学芸大学附属竹早中学校)

8 次の(1)～(4)の文章を読んで、それぞれ下の問に答えなさい。

(1) 中国で国際的な唐の文化が栄えていたころ、日本では聖徳太子が理想とした天皇を中心とする統一国家が奈良の都で生まれた。

問1 聖徳太子が摂政<sup>せつしょう</sup>となった時の天皇はだれですか。

問2 わが国が統一国家の実現のためにとり入れた中国の制度とは何ですか。

問3 この時代に兵士として太宰府<sup>たざいふ</sup>や北九州の守りにつかされた農民は何と呼ばれていますか。

(2) 8世紀の末、中国の都づくりにならって平安京がつくられ、やがて10世紀になるとこの都を中心に日本風の文化が栄えた。

問1 平安京の手本となった中国の都はどこですか。

問2 日本風の平安文化は別名で何と呼ばれていますか。

問3 894年のできごとが、日本風の文化の発展のきっかけとなったといわれますが、そのできごととは何ですか。

(3) 応仁の乱後、100年以上も続く戦乱の中から戦国大名があらわれ、織田信長や豊臣秀吉が国を統一し検地や刀狩<sup>ほうけん</sup>をおこなって、新しい封建制度の土台をきずいた。

問1 信長の出身地はどこですか。現在の府県名で答えなさい。

問2 信長は国内産業をさかんにするため、商工業者に自由な営業をみとめましたが、これを何と呼びますか。

問3 秀吉が全国的におこなった検地は何と呼ばれていますか。

(4) 徳川幕府は家康から3代の間にしくみがととのい、大名を統制し、士農工商などの身分をはっきり分け、幕府政治の安定をはかった。

問1 大名をとりしめるためのきまりを何といえますか。

問2 幕府の老中などの要職についたのは、どのような種類の大名ですか。

問3 幕府が全国を統一する必要から、江戸を中心とする東海道などの幹線道路の整備につとめましたが、これらの道路を何と呼びますか。

(慶応中等部)

- 9 次の1～15の各文の中で正しいものには印をつけなさい。また、誤っているときは、その一部分を抜き出し正しいものを書きなさい。訂正するところは、名詞に限ります。
- 4世紀頃から日本では古墳が多く作られ、その形も前方後円墳、上円下方墳、円墳、方墳などいろいろいるなものがみられる。それらの分布している地域は、北は北海道から南は九州にまで及んでいる。
  - 7世紀の中頃から、中大兄皇子や中臣鎌足が中心になって、政治改革を行なった。その改革は中国からの使節を迎える儀式の最中に、蘇我入鹿を倒すことから始まった。
  - 8世紀から10世紀にかけて十数回に及ぶ遣唐使が派遣された。遣唐使一行は普通4隻の船で、人数はおよそ500人であった。
  - 頼通は、宇治にある平等院をつくらせたことで知られている。そして父は道長であり、この人達の祖先は中臣氏から始まっている。
  - 執権として政治を行なった北条時頼は、北条時政の孫であり、13世紀に武士のためのきまりを作らせた人である。
  - 14世紀に後醍醐天皇は吉野に移り、足利尊氏は奈良に別の天皇をたてた。尊氏は北朝の天皇のもとで室町幕府を開いた。
  - 室町幕府の力が最も強かったのは14・5世紀の義満の頃で宋に代わった明と貿易を行なった。また、三階建ての金閣を作らせたのもこの人である。
  - 16世紀に入って日本はヨーロッパの国々と貿易するようになり、時計など多くのものが輸入された。この当時日本に入り日本語化された言葉に、カルタ・カップ・ハッピー・パンなどがある。
  - 武田信玄は甲斐国、織田信長は三河国の出身であり、16世紀に織田信長が破った今川氏は駿河国の大名であった。
  - 18世紀のはじめに将軍になった吉宗は、外国に関心をもち家臣にも蘭学を学ばせた。江戸時代に蘭学を学んで、よく知られている人に前野良沢・司馬江漢・安藤昌益などがあげられる。
  - 富岡製糸場は1870年代にイギリスから機械を買い入れ、フランス人の技師の指導で多くの士族の娘達はその工場で働いた。
  - 自由民権運動は、植木枝盛・板垣退助などを中心とした大きな政治運動となり、主に士族・地主・工場労働者などが加わり各地で事件が起こった。その例として『秩父事件』がある。
  - 米騒動は1918年（大正7年）に富山県で商人の主婦達が米の値下げを求めて米屋に押しかけたのをきっかけとして起こったものである。
  - 1932年には5・15事件があり外務大臣犬養毅が暗殺され、1936年には陸軍の将校たちが2・26事件という反乱を起こしている。
  - 日本は1945年（昭和20年）8月にポツダム宣言を受け入れ降伏したが、それより先1943年にはフランスが、1945年5月にはドイツが降伏していた。

（日本女子大学附属中学校）

10 次の年表について、次の問いに答えなさい。

- 1 年表の の時期のことがらとして正しくないものを、つぎのアからエまでの中から一つ選び、その記号を書きなさい。



ア 歌人の与謝野晶子が、戦場の弟を思って「君死にたまふ(たまう)ことなかれ」という歌をつくった。

イ 日本が台湾を植民地にした。

ウ イギリスとの間で不平等条約が改正され、イギリス人を日本の法律で裁判できるようになった。

エ 日本が、中国から3億円あまりの賠償金を得ることになった。

2 年表の の時期のことがらとして正しくないものを、つぎの力からケまでの中から一つ選び、その記号を書きなさい。

カ 全国水平社や農民組合がつくられ、労働組合の運動も発展した。

キ 北九州に近代的な設備を持つ八幡製鉄所がつくられた。

ク 日本は、中国や太平洋上のドイツの基地を占領した。

ケ 米騒動のあと、原敬が初めて本格的な政党内閣をつくった。

3 年表の の戦争が始まったところを、右の地図のサからセまでの中から一つ選び、その記号を書きなさい。また、この戦争に関する文として正しくないものを、つぎのタからツまでの中から一つ選び、その記号を書きなさい。

タ この戦争は、日本軍が鉄道を爆破して、中国人のしわざとみせかけたことから始まった。

チ この戦争の中で、日本軍が多数の中国の民衆や捕虜の命をうばう事件が、南京でおきた。

ツ この戦争は、中国の人々のねばり強い抵抗で長びいていった。

1889 大日本帝国憲法が公布される

日英同盟が結ばれる

1914 第一次世界大戦が始まる

治安維持法が制定される

国際連盟を脱退する

日中戦争が始まる——

1941 太平洋戦争が始まる



(筑波大附属駒場中学校)

11 次のA～Gの文章は、米が日本の歴史においてどのような役割と影響をもってきたのかを示すものです。よく読んで下記の各問いに答えなさい。

A あ弥生時代のころ、北九州の人たちは、中国や朝鮮からいな作の技術を学びとった。いな作は、気候の温だんな西日本から始まり、弥生時代の中ごろには東北地方の南部にまで広がっていったと考えられていた。登呂のようないな作をおこなった地域では「むら」が発達した。

B 徳川家康は、関東の開発に力をそそいだ。江戸に幕府が開かれると、荒川、渡良瀬川がつけかえられ、利根川は東へ東へと移され、現在の流れのようになった。これによって、これまで水害の多かった関東平野に耕地がふえることになった。また、8代将軍徳川吉宗はねんぐをふやすため、町人にも新田開発をしょうれいしたり、大きな干拓工事にも力を入れた。それで、い18世紀前半の耕地面積は、16世紀末の約( 1 )倍となった。

C 第二次世界大戦後、連合軍司令部は、経済民主化政策の一つとして( 2 )を行った。これに

よって、小作農が自作農となって生産意欲をもつようになり、生産力が高まったため、国民のほとんどが白米を常食とすることができるようになった。その後かんがい施設や排水施設などがつくられたりして、1955年の大豊作以後、米が自給できるようになった。1960年代後半になると国民一人あたりの米の消費量がしだいにへり、やがてえ米の生産過剰が問題になった。

D 天下を統一した豊臣秀吉は、大名の領地の大きさをはつきりさせ、農民からできるだけ多くのねんぐを取りたてるためお田畑の面積をはかり、米の取れ高（石高）を調べた。そして、農民からは田畑を耕す権利をみとめる代わりに、いっていの率のねんぐをおさめさせるようにした。

E 第一次世界大戦によって日本は重化学工業がさかんになり、造船主や工場主などの中には、成金とよばれる人が現われた。しかし、働く人びとの所得は、のびなかった。そのうえ、戦争中に米の消費量がふえたが、生産が追いつかないし、かシベリヤ出兵のとき米商人が米の買いしめを行ったので、米のねだんが急に上がり、生活が苦しくなった。そして、ついに（ 3 ）が富山県で起こると、全国にすぐひろまった。

F 大化の改新のころから、律令の政治がおこなわれた。水田をみると、これをせいぜんとした区かくにわけるとり入れられ、き農民には、口分田という田地が家族の人数に応じてわり当てられた。あわせて、く租・庸・調などの税をおさめることになった。

G け政府は財政を安定させるために、それまでねんぐが米で納められていたのを金銭で納めることにした。このため、田畑の面積や収穫量などを調べ、土地のねだんを決め、土地の持ち主が税を納めることにした。

〔 1 〕 A ~ F の文章中の（ ）の中に適切な語句を入れなさい。

〔 2 〕 下線部あの時代として正しいものを次の中から選び、記号で答えなさい。

- ア．紀元前 8 世紀～紀元前 1 世紀
- イ．紀元前 6 世紀～紀元 2 世紀
- ウ．紀元前 5 世紀～紀元 3 世紀
- エ．紀元前 3 世紀～紀元 3 世紀
- オ．紀元前 3 世紀～紀元 5 世紀

〔 3 〕 下線部あの時代を説明する文として誤っているものを次の中から選び、記号で答えなさい。

- ア．この時代はいな作とともに、金属器（青銅器や鉄器）も大陸から伝わった。
- イ．青銅器には、もとは武器として使われた銅剣や銅矛、祭りのための宝物として用いられた銅鏡や銅鐸がある。
- ウ．鉄器は木製の農具や工具として役割を果たすだけでなく、武器としても用いられた。
- エ．縄文土器よりうすくて、かたく、かざりも少ない弥生土器もつくられるようになった。
- オ．いな作がはじまったころ、木製の農具で田を耕やし、打製石器の石包丁でほをつみ取って収穫した。

〔 4 〕 下線部いによって、農器具の改良がみられたが、右の絵の中から脱穀をしめす場面を選び、その記号と名称を書きなさい。

〔 5 〕 下線部うについて、米の消費量が減少するようになったのは、どのような理由によるものですか。次の文の空らん（10文字以内）を入れて文章を完成させなさい。

食生活の 増えたから。

〔 6 〕 下線部えについて、この対策として政府が行ったことの内容として誤りのあるものを次の中から選び、記号で答えなさい。（注 省の名は、当時のものです。）

ア．政府が農家から米を買い上げる時のねだんを引き下げた。



イ．農林水産省が指導して，国内で必要な量だけしか米を作らずに，あまった水田では麦や大豆など他の作物をつくるようにした。

ウ．労働省が奨励金を出して，米作農家が他の産業に転職することを勧めた。

エ．通商産業省が，補助金を出したり安い利子で農家にお金を貸して，機械化がすすむようにした。

オ．政府の手を通さずに農家が米を農業協同組合や米商人に売り渡すという自主流通米制度を始めた。

〔 7 〕 下線部おの政策名をいいなさい。

〔 8 〕 下線部かともっとも関係のある動きを次の中から選び，記号で答えなさい。

- ア．日韓併合条約    イ．ポーツマス条約    ウ．南京事件    エ．ロシア革命  
オ．ノモンハン事件

〔 9 〕 下線部きの制度名をいいなさい。

〔 10 〕 下線部くはどこにおさめたのですか。次の中から選び，記号で答えなさい。

- ア．平安京    イ．平城京    ウ．地方の役所    エ．飛鳥京

〔 11 〕 下線部けのとった政策を次の中から選び，記号で答えなさい。

- ア．日本国憲法発布    イ．殖産興業    ウ．日米和親条約    エ．学徒動員  
オ．富国強兵    カ．普通選挙実施

〔 12 〕 B ～ G の各文章を年代順にならべかえなさい。

( 明治大学附属明治中学校 )

12 下の文は歴史的できごとを説明していますが，いずれも下線をひいた部分がまちがっています。正しい説明文になるようになおしなさい。解答はなおした部分だけを記しなさい。〔 文をなおすときは，漢字で 〕

- 1．日本の初代の内閣総理大臣は<sup>やまがたありとも</sup>山県有朋です。
- 2．<sup>おおくぼとしみち</sup>大久保利通は日本ではじめて本格的な政党内閣をつくりました。
- 3．足尾鉍毒事件がおきると，衆議院議員<sup>なかえちようみん</sup>中江兆民は，議会で政府の責任をきびしく追及しました。
- 4．<sup>きどたかよし</sup>木戸孝允らは<sup>はんぼつ</sup>藩閥政治を批判して，1874年に民選議院設立建白書を政府にだしました。
- 5．議会開設をめざして，<sup>おおくましげのぶ</sup>大隈重信は，<sup>ていせい</sup>立憲帝政党を結成しました。
- 6．借金でこまって土地を手ばなす農民がふえ，1884年，群馬県で秩父事件が occurred しました。
- 7．日清戦争は，日本軍の勝利に終わり，1895年，ポーツマスで講和条約が結ばれました。
- 8．帝国議会は，衆議院と参議院からなり，およそ100年前の11月29日に初めて開かれました。
- 9．日本国憲法は，1946年11月3日に公布されました。これを記念して，11月3日を憲法記念日としました。

( 学習院中等科 )

13 つぎの各文章の空欄 ( A ) ～ ( O ) にあてはまる人物またはことがらを [ A 群 ] から選び，記号で答えなさい。また，1～15の各文章はいつの時代について書かれたものですか，[ B 群 ] より選び，記号で答えなさい。ただし，[ B 群 ] の語句については，同一語句を3回使用してもかまいません。

ません。

1. 幕府をたおして朝廷に政治の実権をとりもどそうとした( A )は兵をあげましたが、幕府の軍勢は京都にせめのぼってたちまち朝廷軍をうちやぶりました。
2. 唐への留学生の中には、唐の玄宗皇帝につかえた( B )のような人もいました。
3. 日本の各地から年貢米や特産物が集まり、「天下の台所」とよばれた都市は( C )でした。
4. ( D )は、はじめキリスト教を保護する立場をとりましたが、のち、統一のじゃまになると考えてこれを禁止しました。
5. 都で起こった二度の戦乱の結果、貴族の世から武士の世の中へ移っていきました。この戦いの二度目の戦乱を( E )といいます。
6. 60年ちかく続いた南北朝の内乱も、三代将軍( F )のころにはようやく終わりました。
7. ( G )は、天保の改革を行ったが、幕府のおとろえをたてなおすことはできませんでした。
8. 「源氏物語」は藤原氏の全盛時代に紫式部によって書かれましたが、この時代を代表する貴族の住宅を( H )といいます。
9. 天智天皇の死後、皇位をめぐって対立がおこりましたが、この争いを( )といいます。
10. 中国東北部で鉄道爆破事件がおこり、これをきっかけに翌年( J )国がつくられました。
11. 現在の三重県松阪で医者をしていた( K )は、「古事記伝」を書きました。
12. 政府に不満をもつものは、国会を開いて国民が選んだ議員によって政治を行うべきであると主張して( L )がおこりました。
13. 足利義政は、戦乱をさけて京都の東山に別荘をたてました。その中心の建物が銀閣であり、これは今日の和風住宅の様式のもととなった( M )がとりいれてあります。
14. 米騒動のおきた年に( N )内閣が成立しましたが、この内閣は政党を中心としたものでした。
15. 将軍のあとつぎ問題などから、大名たちが2つにわかれて京都を中心に11年間も戦いつづけました。これを( O )といいます。

[ A群 ]

- |        |        |          |         |        |
|--------|--------|----------|---------|--------|
| ア 本居宣長 | イ 原 敬  | ウ 足利義満   | エ 後鳥羽上皇 | オ 水野忠邦 |
| カ 豊臣秀吉 | キ 応仁の乱 | ク 阿倍仲麻呂  | ケ 書院造   | コ 寝殿造  |
| サ 大坂   | シ 平治の乱 | ス 自由民権運動 | セ 満州    | ソ 壬申の乱 |

[ B群 ]

- |           |        |        |        |        |
|-----------|--------|--------|--------|--------|
| あ 飛鳥時代    | い 奈良時代 | う 平安時代 | え 鎌倉時代 | お 室町時代 |
| か 安土・桃山時代 | き 江戸時代 | く 明治時代 | け 大正時代 | こ 昭和時代 |

(本郷中学校)

14 次の(1)～(4)をそれぞれ古い年代順に記号でならべかえなさい。

- |                     |                 |
|---------------------|-----------------|
| (1) ア 平清盛が太政大臣となる   | イ 院政がはじまる       |
| ウ 前九年の役がおこる         | エ 平将門の乱がおこる     |
| (2) ア ペリーが浦賀に来る     | イ 伊能忠敬が蝦夷地を測量する |
| ウ 安政の大獄がおこる         | エ 寛政の改革がはじまる    |
| (3) ア 大日本帝国憲法が發布される | イ 日清戦争がおこる      |
| ウ 日英同盟を結ぶ           | エ 条約改正を達成する     |

- (4) ア ポツダム宣言を受諾する                      イ 日本が国際連合に加盟する  
ウ 日中平和条約が結ばれる                      エ サンフランシスコ平和条約が結ばれる

(慶応中等部)

15 下の年表を見て、設問に答えなさい。

- |                               |
|-------------------------------|
| (イ) ——日米修好通商条約が結ばれる。 .....    |
| (ロ) ——ノルマントン号事件がおこる。 .....    |
| 1894 ——(ハ)との間に条約が改正される。 ..... |
| 1911 ——不平等条約が完全に改められる。 .....  |

設問1 空らん(イ)に入る年代を、次のあ～えの中から選び記号で答えなさい。

あ. 1853    い. 1858    う. 1860    え. 1868

設問2 の条約を結んだ日本の代表者は誰ですか。下の文章のうち、その人物の説明と思われるものを一つ選び記号で答えなさい。

あ. 江戸幕府の八代目の将軍で『享保の改革』を行い、新田開発を進め、『米将軍』と呼ばれた。

い. 初代の総理大臣になった人で、大日本帝国憲法もこの人が中心となって作った。

う. この人は、後に、士族におされて、南九州で反乱をおこしたが、すぐに政府軍に平定されてしまった。

え. 江戸幕府の大老になった人で、吉田松陰などの幕府に反対する人々を死刑にしたが、桜田門外で暗殺された。

設問3 下の文章は の条約の内容を説明したものです。正しいものを二つ選び記号で答えなさい。

あ. この条約は、アメリカ船に食料や燃料を与えるなどの内容があり、日本にとって不利な条約であった。

い. この条約は、外国人が日本で罪をおかしても日本で裁判にかけられないという内答で承り、日本にとって不利な条約であった。

う. この条約で日本は、軍艦を作る量を制限されてしまったので、日本にとって不利な条約であった。

え. この条約で日本は、外国からの輸入品に対して自主的に税をかけられなくなったので、日本にとって不利な条約であった。

設問4 空らん(ロ)に入る適切な年代を西暦で答えなさい。

設問5 下の文章は の事件について説明したものです。正しいものを一つ選び記号で答えなさい。

あ. イギリス船ノルマントン号がちんぼつし、イギリス人の船員が全員死亡し、これが日本の責任とされた事件。

い. イギリス船ノルマントン号がちんぼつし、日本人乗客はすべて死亡したが、イギリス人船長は軽い罪ですんだ事件。

う. アメリカ船ノルマントン号がちんぼつし、アメリカ人船長は『ことばが通じないのでやむをえない』とのべ軽い罪ですんだ事件。

え. アメリカ船ノルマントン号がちんぼつし、日本人乗客が海に投げ出されて全員が水死し船長

の責任が問われた事件。

設問6 空らん(八)に入る国名を答えなさい。

設問7 の年に日本はある国と戦争をしました。その理由として正しいと思われる文章を一つ選び記号で答えなさい。

あ．満州をおさえた日本は、中国本土に勢力をのぼそうとした。

い．大陸へ進出をねらう日本は朝鮮へ勢力をのぼしてきたロシアと対立した。

う．中国を支配するため、朝鮮に協力を求めたが、これを断られ、二度にわたり朝鮮に兵を送った。

え．日本が朝鮮に進出し、朝鮮での清国の勢いとは対立して朝鮮国内の乱をきっかけに、日清両国は戦いをはじめた。

設問8 で条約はどのように改正されましたか。かんたんに答えなさい。

設問9 下の文章は、 と の間におきた出来事について記したものです。関係の深いものを一つ選んで記号で答えなさい。

あ．大日本帝国憲法が発布される。

い．朝鮮を併<sup>へいごう</sup>合する。

う．普通選挙法が公布される。

え．米騒<sup>こめそうどう</sup>動がおきる。

設問10 の翌年に『天は人の上に人をつくらず、人の下に人をつくらず』と有名な言葉ののった本が出版された。この本の作者は誰ですか。正しい人物を下から選び記号で答えなさい。

あ．伊藤博文 い．野口英世 う．板垣退助 え．福沢諭吉

(帝京中学校)

16 A群の ~ の史料の説明として正しい文章をB群(ア)~(ツ)から、正しい説明文のある史料に直接関係する年(出されたり、うたわれたり、まとめられた年)をC群(あ)~(た)から選び、記号で答えなさい。ただし選ぶ数はB群とC群を合わせて10個です。10個以上答えた場合は採点しません。

【A群】

「大名小名、在江戸の交替定むる所なり。毎歳夏四月中参勤致すべし」

「菩薩の大願を發して、慮舎那仏の金銅像一軀を造り奉る」

「此世をば、我世とぞ思ふ望月のかけたることも無しと思へば」

「夫れ往生極樂の教行は、濁世末代の目足なり。道俗・貴賤、誰か帰せざる者あらんや」

「武家の人への御はからひのためはかりに候。これによりて、京都の御沙汰、律令のおきて、聊かもあらたまるへきにあらず候也」

「此頃都二ハヤル物、夜討強盜謀綸旨、召人早馬虚騒動」

「善人なほもて往生をとぐ、いはんや悪人をや。しかるを世のひとつねにいはいはく、悪人なを往生す。いかにいはいはんや善人をやと」

「和を以て貴しと為し、件ふる事無きを、宗となせ」

「汝ヤシル都八野辺ノ夕雀アガルヲ見テモ落ルナミダハ」

「天下ノ百姓ノ刀ヲ悉ク之ヲ取ル、大仏ノ釘ニ之ヲ遣フベシ」

【B群】

- (ア) 豊臣秀吉の出した刀狩令で、「大仏」とは東大寺の大仏のことである。
- (イ) この歌は、応仁の乱によって荒れはてた奈良の都のようすを歌ったものである。
- (ウ) 聖徳太子はこれを出して、豪族たちに政治の心構えを説いたのであった。
- (エ) この史料は、後醍醐天皇の政治がうまくいってないことを風刺したものである。
- (オ) 親鸞は悪人が救われるのであるから、善人が救われないはずがないといっている。
- (カ) 法然は「南無妙法蓮華經」と唱えることで救われると説いた。
- (キ) 法然の弟子親鸞は善人が救われるのであるから、悪人が救われないはずがないといっている。
- (ク) 親鸞の弟子法然は善人が救われるのであるから、悪人が救われないはずがないといっている。
- (カ) 源信は浄土の教えをまとめた『浄土經』をあらわした。
- (コ) 聖武天皇は仏教の力で国家の安定をはかろうとしたのである。
- (サ) 鳳凰堂を造って「御堂関白」とよばれた藤原道長が、摂関家の栄華を誇ってうたった歌である。
- (シ) 娘をつぎつぎに天皇に嫁がせた藤原道長が、摂関家の栄華を誇ってうたった歌である。
- (ス) 大名は原則として、一年おきに江戸に来なければならなくなった。
- (セ) 大名は原則として、毎年江戸に来なければならなくなった。
- (ソ) この法令は、全国すべての人びとを対象として出されたものである。
- (タ) この法令が出されたことで、一揆はまったく起きなくなった。
- (チ) この法令は、武士を救済するため、貴族を対象に出されたものである。
- (ツ) この法令は、幕府の御家人を対象としたもので、貴族には直接は関係なかった。

【C群】

- (あ) 元禄十二年      (い) 元和元年      (う) 天正十六年      (え) 応仁元年
- (お) 正長元年      (か) 建武元年      (き) 永仁五年      (く) 承久元年
- (け) 貞永元年      (こ) 慶応元年      (さ) 延久二年      (し) 延喜元年
- (す) 天平十五年      (せ) 養老七年      (そ) 大化元年      (た) 聖徳元年

( 巢鴨中学校 )

17 下の1～6の絵について、次の問いに答えなさい。

- 問1 この絵は、ペリーの神奈川(横浜)への上陸のようすを表した絵です。これにより、日本は日米和親条約を結びました。その結果、開港した二つの港の名を答えなさい。
- 問2 2の絵は、第1回の衆議院議員の選挙のようすです。この選挙は何年に行われましたか。また、当時の有権者の資格を簡単に答えなさい。
- 問3 3の絵は、名古屋の米騒動のようすを描いたものです。この米騒動によって、時の寺内内閣は総辞職をし、新しくある人物が内閣を組織しました。この人物の名を答えなさい。
- 問4 4の絵は、女性の権利を獲得するために創刊した雑誌「青鞥」の表紙です。この雑誌を発刊した中心人物の名を答えなさい。また、その人物はこの「青鞥」の誌上に次のことを書いています。  
( )の中に適当な言葉を入れなさい。  
元始、女性は実に太陽であった。今、女性は( )である。
- 問5 5の絵は、1883年にできた西洋風の建物における舞踏会のようすです。この建物の名称を漢字で答えなさい。


問6 6の絵は、ある条約を風刺したまん画です。これについて次の(あ)～(え)の問いに対する答えを含めて100字以内で説明しなさい。ただし、句読点も1字として数えます。

(あ) 何の条約のことですか。

(い) 何をしているところですか。

(う) 中央の人物だけ若いのはなぜですか。

(え) 左下の人物が持っているのは栗ですが、これは具体的に何を示すものなのですか。



(世田谷学園中学校)

18 つぎの(A)～(D)は日本人の考え方に大きな影響を与えた人々です。その人にもっとも関係の深い文を、ア～クから一つずつ選び、記号で答えなさい。

(A) 本居宣長 (B) 近松門左衛門 (C) 高野長英 (D) 前野良沢

- ア. 各地を旅して、味わいの深い俳句をつくった。
- イ. 儒学の学校をつくり、身分の別や忠孝の道を説いた。
- ウ. 蘭学を学び、鎖国政策を批判して処罰された。
- エ. 義理と人情を描いた芝居の脚本を書き、人々を感動させた。
- オ. 日本人本来の考え方を大切にし、国学を完成させた。
- カ. すべての人が自分で耕す世を理想とし、封建制を批判した。
- キ. 自由と権利の大切さを説き、国会開設を政府に要求した。
- ク. オランダ語の解剖書を翻訳し、合理的な考え方を広めた。

(桜蔭中学校)

19 次の文を読み、下の問いに答えなさい。

1980年ころ、 (ア. 日中平和友好条約が結ばれて イ. 国際連合への加盟が認められて ウ.



日米安全保障条約の内容が改められて)、(A)独立後の日本に残された問題のひとつにくぎりがつきました。

今からほぼ60年前に、(B)軍部の強かった日本は、(ア・北京郊外で中国軍と衝突したことをきっかけに イ・中国軍が南満州鉄道を爆破したようにみせかけ ウ・ハワイのアメリカ海軍基地を攻撃し)戦争を始めました。

今からおよそ100年前に、政府は(ア・大日本帝国憲法を發布し イ・普通選挙制度を定め ウ・藩を廃して府県を置き)(C)はじめての議会を開きました。

今からおよそ500年前は、(D)幕府の力がおとろえ各地で争いが続いていました。(ア・朝廷が幕府をたおそうとして戦いをおこした イ・山城国の土着の武士が農民と協力して一揆をおこした ウ・織田信長が桶狭間の戦いで今川義元をたおした)のはこのころです。

今からおよそ1000年前は、(ア・北条氏が執権となって イ・平氏が朝廷の重い役を独占して ウ・藤原氏が摂政や関白の地位につき)政治を思いどおりに動かしていました。(E)大宝律令は名ばかりのものとなりました。

今からおよそ2000年前の人々は、(F)すでに鉄や青銅の道具を使っていました。このころの日本は(ア・人々の間に身分の差がなかった イ・邪馬台国がたくさんの小国をしたがえていた ウ・100あまりの小さな国にわかれていた)といわれています。

問1. ~ の( )の中のア・イ・ウ・から正しいものを一つずつ選び、記号で答えなさい。

問2. (A)~(F)の下線部に関するつぎの問いの答えとして正しいものを、ア・イ・ウ・から一つずつ選び、記号で答えなさい。また、ア・イ・ウ・のすべての文が誤りならば、エ・と記しなさい。

(A) 日本が独立した時、このほかにどんな問題が残されていましたが。

- ア・農地改革をおこない自作農の数をふやすこと
- イ・20才以上のすべての男女に選挙権を与えること
- ウ・沖縄や小笠原の日本復帰を実現すること

(B) 軍部の力におされて、このころ政府はどのような政策をとりましたか。

- ア・治安維持法を定め、社会主義の運動をとりました。
- イ・日独伊三国軍事同盟をむすび、連合軍と対立を深めた。
- ウ・八幡製鉄所を建設し、その鉄を使って武器を増産した。

(C) この議会はどんな仕事をしましたか。

- ア・初代の内閣総理大臣として、伊藤博文を指名した。
- イ・国の収入を安定させるため、地租改正に賛成した。
- ウ・欧米諸国と、新たに対等な通商条約を結ぶことを認めた。

(D) この幕府の力が強かったころ、世の中ではどのような変化がおこりましたか。

- ア・有力な守護が力をのばし、国内の土地や武士を支配して大名になった。
- イ・刀狩りにより農民の持つ武器を取り上げたので、武士と農民の区別がはっきりした。
- ウ・将軍の命令が全国にいきわたり、将軍と御家人との結びつきがいちだんと強まった。

(E) 大宝律令が名ばかりになったことは、どのような世の中のようにわかりますか。

- ア・農民の中のある者は都や九州北部の守りを命じられ、生国を遠くはなれて任務についた。
- イ・地方の豪族は私有地を権力者に寄付し、その力をかりて大きな利益を得ようとした。
- ウ・朝廷は地方の反乱にそなえて、国ごとに国司と守護をあわせ置くことを認めた。

(F) このころ鉄や青銅の道具を使用したと考えられる例には、どんなものがありますか。

- ア．豊作などを神に祈る時，鋼たくを用いた。
- イ．ナウマン象などの狩りをする時，鉄の矢じりを用いた。
- ウ．稲の穂をつみとる時，鉄のかまを用いた。

(桜蔭中学校)

20 次の文章を読んで，問題 1～11に答えなさい。

日本人の現在までの歩みを振りかえって考える時，私たちは色々な角度から歴史を考えることができます。

まず，時代の呼び方から考えてみましょう。日本の時代を早い順に並べてみると，縄文時代，弥生時代，古墳時代，飛鳥時代，奈良時代，平安時代，鎌倉時代，室町時代，安土桃山時代，江戸時代，明治時代，大正時代，昭和時代というようになります。この呼び方は当時の代表的な文化の呼び方や政治の中心地や年号をもとにした呼び方で，一般によく使われています。

また，(ア) くにができるまで，(イ) 天皇と貴族の世の中，(ウ) 武士の世の中，(エ) 近代国家をめざして，新しい世の中，というように大きく分けることもできます。このような分け方をするとき，「天皇と貴族の世の中」とか「武士の世の中」という場合は，その時代には，天皇や貴族，また武士による政治が行われたという意味です。そうすると，「新しい世の中」というのは〔オ〕のための政治という意味にとることができるかもしれません。

また，一見歴史とは関係なさそうな事柄でも，見方によっては，歴史を考えるヒントとなる場合があります。例えば，「500年前の今日，誰が何を食べたか」ということは直接には歴史を見ることになりませんが，その時代に最も人口の多い庶民しよみんがどのようなものを普通に食べることができたか，という角度から考えると，そのことは歴史の材料になります。庶民しよみんの食事に関してならば，(カ) 木の実や動物の肉を食べていた時代，米や粟あわ・ひえなどを食べていた時代などと分けることができるかもしれません。また，現在の私たちと同じように(キ) 一日三度の食事をとるようになった時期を，そのようなことができるようになるまでに産業（農業）の発展がなされたという目安に考えることができるかもしれません。しかし，その後も新田開発が進み，農具が発達したにもかかわらず自然災害やききんで多くの人々が飢えうに苦しんだ時期もありました。また明治時代にをると，日本は農業だけでなく工業も発達しました。(ク) しかし，その後の歴史をみると，このような発達をとげた後でも庶民の圧倒的多数が飢えていた時期もありました。

問題 1 下にあげた写真や資料について(1)，(2)，(3)に答えなさい。

(あ)




(い)



(う)

「天地は広いというけれども私にとってはせまくなってしまったのだろうか。太陽や月は明るいというけれど、私のためには照ってくれないのか。人間として生まれてきて人なみに耕しているのに、綿もはいらぬ海草のように破れたぼろ着だけを肩にかけ、ゆがみかたむいた家のなかで、地面の上にじかにワラをしいて、父母は枕の方に妻や子は足元の方にうずくまってなげいている。かまどには煙りが立たず、米をむすこしきにはくもの巣かかっている。それなのにむちをもって役人が税をとりたてるために寝室のそばまできてわめきたてる。この世に生きていくのはこんなにもつらいものか。」

(え)



(1) (あ) ~ (え) の写真や資料は上の文章中の番号 ~ のどの時代に関するものですか。 ~ の番号で答えなさい。

(2) (う) の資料は日本で最初の歌集にのっているものです。その歌集の名称を漢字で答えなさい。

(3) (え) の写真は西洋の進んだ国々においつくため、西洋の進んだ文化を取り入れようとした時期のもので、このような人々の生活や文化の変化を何といいますか。漢字4文字で答えなさい、問題2 文章中の について、古墳時代には中国や朝鮮から伝えられた技術が大きな影響をあたえました。当時、このような技術を伝えた人々を何と呼びますか。漢字で答えなさい。

問題3 文章中の について、江戸時代という呼び方も政治の中心地をもとにした名前ですが、この時代、政治の中心地と商業の中心地がことになっていました。商業の中心地はどこでしたか。地名で答えなさい。

問題4 文章中の下線部(ア)の「くにができるまで」という時代に豪族が生まれ、国がつくられていくきっかけとして最も重要な事柄は何でしょうか。(あ) ~ (え) より一つ選び、記号で答えなさい。

(あ)土器の製法の発見 (い)稲作の伝来 (う)漢字の伝来 (え)仏教の伝来


問題5 文章中の下線部(イ)の時期に登場する人物を下にあげました。これらの人物を登場年代の早い順に並べると、どういう組み合わせになりますか。(あ) ~ (え) より正しい組み合わせを一つ選び、記号で答えなさい。

(イ)菅原道真 (ロ)紫式部 (ハ)鑑真 (ニ)小野妹子

〔組み合わせ〕 (あ) (ニ) (ハ) (イ) (ロ) (い) (ハ) (イ) (ニ) (ロ)

(う) (イ) (ロ) (ハ) (ニ) (え) (ロ) (ニ) (イ) (ハ)

問題6 文章中の下線部(ウ)について、右の図は「武士の世の中」をかためるために重要な事柄(政策)を示しています。(1), (2)に答えなさい。



(1) この図は何をしているところですか。歴史上の呼び方を漢字2文字で答えなさい。

(2) この図に示されていることを全国的な規模で初めて行った人物は、この他にも農民から武器をとりあげるなどの政策も行っています。図の政策もふくめて、この人物が行ったこととして適当でないものを(あ) ~ (え) より一つ選び、記号で答えなさい。

(あ)土地のよしあしを調べて年貢をとりたてる基準をつくらうとした。

- (い) 農民に土地をたがやす権利をあたえるかわりに、勝手に土地から移動することを禁止した。
- (う) もう戦争のない時代になったので、農民から不必要となった武器をとりあげ農業に専念させようとした。
- (え) 武士と農民の区別があいまいだと農民を支配するうえで都合が悪いので、農民と武士の間をはっきりと区別しようとした、

問題7 文章中の下線部(エ)について、この頃の政府は近代化をめざして色々な政策を行いました。その一部を(あ)～(え)に示しました。誤っているものを一つ選び、記号で答えなさい。

- (あ) 誰でも政府の許可なしに国内の好きなところに旅行をすることができるようになった。
- (い) 誰でも自分の好きな服装をすることができ、洋服姿もみられるようになった。
- (う) 農民は誰でも自分の土地をたがやし、税を納めるようになった。
- (え) 誰でも、自分の望む仕事につくことができるようになった。

問題8 文章中の〔オ〕にあてはまる言葉を漢字2文字で答えなさい。

問題9 文章中の下線部(カ)について、米や粟・ひえを食べていた時代は木の実や動物の肉を食べていた時代に比べて、食べ物のかくとくの仕方にどんな進歩がみられましたか。文章で答えなさい。

問題10 文章中の下線部(キ)について、一日三度の食事をするようになった時期と重なるのは下のどの時期ですか。(あ)～(え)より一つ選び、記号で答えなさい。

- (あ) この頃、一週間の初めを日曜日とし、休日とするようになった。
- (い) この頃、京都の文化も地方に広まり、各地の大名たちの城のあった城下町が繁栄した。
- (う) この頃から、ようやく中国の影響を離れて日本的な文化が生まれ始めた。
- (え) この頃、どのような人でも平等に救われると説く浄土真宗が生まれた。

問題11 文章中の下線部(ク)について、この時期はいつ頃ですか。下にあげた(あ)～(え)より一つ選び、記号で答えなさい。

- (あ) 1890～1900年
- (い) 1910～1920年
- (う) 1940～1950年
- (え) 1960～1970年

( 雙葉中学校 )

## 歴史 入試問題演習 第二集 解答

1.

[1]エ [2]ウ [3]ア [4]エ [5]ア [6]エ [7]ウ [8]エ [9]ア [10]イ

2.

A 1 コ 2 ウ 3 ス 4 オ 5 ケ 6 ソ 7 イ 8 キ  
9 シ 10 セ

B 4 - 1 - 9 - 3 - 7

C 第一次世界大戦

D 前

3.

問1 ア 大日本帝国憲法 イ 日露戦争 ウ 太平洋戦争 エ 朝鮮 オ 中国  
カ アメリカ

問2 自由民権

問3 祖父...90歳 父...60歳 A君...25歳

A君が生まれたベトナム戦争は、1973年に集結した。A君の父が生まれたのは、太平洋戦争の前年で、1940年となる。

4.

1. 全国水平社 2. ウ 3. 政党内閣 4. 25歳以上の男子

5. 治安維持法 6. ア 7. 伊藤博文 8. 自由民権運動

9. 治外法権(領事裁判権) 10. 小村寿太郎

5.

問1 天皇 問2 大化の改新 問3 中大兄皇子(中臣鎌足)

問4 大宝律令 問5 八

問1 神奈川 問2 日米修好通商条約 問3 イ、ウ 問4 八

6.

問1 (1) 摂政 (2) 明智光秀 (3) 義時 (4) 後醍醐 (5) 足利尊氏

問2 aス bア cオ dキ

問3 オ 問4 新井白石

7.

- (1) ウ カ (2) ア (3) イ (4) ア (5) イ (6) エ (7) エ  
(8) イ (9) イ

8,

- (1) 問1 推古天皇 問2 律令 問3 防人  
(2) 問1 長安 問2 国風文化 問3 遣唐使の廃止  
(3) 問1 愛知県 問2 楽市楽座 問3 太閤検地  
(4) 問1 武家諸法度 問2 譜代大名 問3 五街道

9,

- 1 北海道 東北(青森) 2 中国 朝鮮(半島) 3 8世紀から10世紀 7世紀から9世紀 4 5 北条時頼 北条泰時 6 奈良 京都  
7 宋 元 8 ハッピー カステラ(テンプラ・ピロード など) 9 三河 尾張  
10 安藤昌益 平賀源内(杉田玄白 など) 11 イギリス フランス  
12 工場労働者 農民 13 商人 漁民 14 外務大臣 総理大臣  
15 フランス イタリア

10,

- 1 ア 2 キ 3 タ

11,

- {1} (1) 2 (2) 農地改革 (3) 米騒動 {2} エ {3} オ  
{4} 記号...ウ 名称...千歯こき {5} 例 変化で他の消費が  
{6} ウ・エ {7} 太閤検地 {8} エ {9} 班田収授法 {10} ウ  
{11} イ, オ {12} F D B G E C

12,

1. 伊藤博文 2. 原敬 3. 田中正造 4. 板垣退助 5. 改進黨  
6. 埼玉 7. 下関 8. 貴族院 9. 文化の日

13,

- A エ B ク C サ D カ E シ F ウ G オ H コ I ソ  
J セ K ア L ス M ケ N イ O キ

- 1 え    2 い    3 き    4 か    5 う    6 お    7 き    8 う    9 あ  
10 こ    11 き    12 く    13 お    14 け    15 お

14,

- (1) エ ウ イ ア    (2) エ イ ア ウ    (3) ア イ ウ エ  
(4) ア エ イ ウ

15,

- 設問1 い    設問2 え    設問3 い、え    設問4 1886    設問5 い  
設問6 イギリス    設問7 え  
設問8 例 外国人が日本で罪を犯したら、日本で裁判にかけられるようになった。  
設問9 い    設問10 え

16,

A群										
B群	ス	コ	シ		ツ	エ	キ	ウ		
C群		す			け	か				

17,

- 問1 下田、函館（箱館）  
問2 1890年、直接国税15円以上納めている満25歳以上の男子。  
問3 原敬    問4 平塚雷鳥、月    問5 鹿鳴館  
問6 例 日英同盟を風刺したまんがで、イギリスが日本にロシアの前にある火の中の栗をとるようにけしかけている。人物の年齢や大きさは、当時の国力を表し、火の中の栗は朝鮮半島を示している。

18,

- (A) オ    (B) エ    (C) ウ    (D) ク

19,

問1 ア ウ ア イ ウ ウ  
問2 A ウ B イ C エ D ア E イ F ア

20,

問題1 (1) (あ) (い) (う) (え)  
(2) 万葉集 (3) 文明開化

問題2 渡来人 問題3 大阪 問題4 い 問題5 あ

問題6 (1) 検地 (2) う 問題7 う 問題8 国民

問題9 移動しながら狩猟・採集によって食物を得ることから、一カ所に定住して作物を栽培し、それを食用とするようになった。また、蓄えることができ安定して食べ物を確保できるようになった。

問題10 い 問題11 う