


歴史 入試問題演習 第一集

1. 次の文章を読み、問いに答えなさい。

1. 1784年、現在の福岡県福岡市東区志賀島で発見された「漢委奴国王」の刻字をもつ右のような金印は、いったい何を物語ってくれたのでしょうか。次の文章から適切でないものを1つ選び、記号で答えなさい。



ア．当時の日本と中国の密接な交流を示している。

イ．『後漢書東夷伝』の記述を裏付けた。

ウ．九州北部には大きな政治集団が存在していたことが読み取れる。

エ．当時の日本の金属加工技術が優れていたことが分かる。

オ．階級の発生を裏付けた。

2. 律令制度が中国から導入され、日本社会は本格的な官僚制度がスタートしました。しかし、地方豪族を祖先とする朝廷官人で大臣になれたのは、あとにもさきにも吉備真備一人でした。


つまり、地方出身者は中央政界ではなかなか出世できない仕組みになっていたのです。ところで、その吉備真備は吉備氏一族の出身ですが、その吉備氏一族の勢力範囲は現在でいえばどのあたりになりますか。該当するものを1つ選び、記号で答えなさい。

ア．島根県から鳥取県西部地域 イ．岡山県から広島県東部地域

ウ．愛知県から三重県東部地域 エ．福岡県から佐賀県北部地域

オ．大阪府南部から和歌山県地域

3. 木片に文字を記した右の図のようなものを木簡といい、7世紀～10世紀にかけて日本各地の役所・寺院で紙のかわりに使用されました。1961年、平城宮跡で40点もの木簡史料が見つかって以来、古代史研究の史料として木簡の本格的な研究が始まりました。ところで、この木簡が多く使用された7世紀～10世紀の時期にあてはまる事柄は次のうちどれですか。1つ選び、記号で答えなさい。



ア．三世一身法発布

イ．平清盛の太政大臣就任

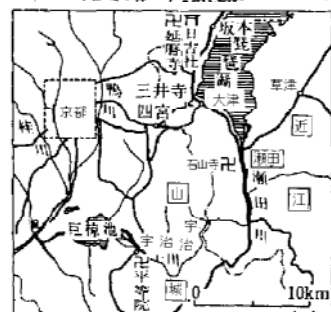
ウ．仏教が伝わった

エ．壇ノ浦の戦い

オ．後白河上皇の院政開始

4. 右の絵図は、いったい何を表したのでしょうか。漢字二字で答えなさい。

5. 1988年7月14日の新聞は、滋賀県大津市を流れる瀬田川の川底から勢多橋の遺構が見つかったと報道しました。このニュースを新聞社が取り上げた理由は、東西日本を結ぶ陸上交通の要であり、また琵琶湖・瀬田川・宇治川・木津川水系を通じて、琵琶湖周辺と都を結ぶ水上交通のかなめでもあったことによります。ところで、次の事柄の中で、日本の歴史上、この勢多橋が重要な争乱の舞台になるなど、直接関係したと考えられるものは、次のうちどれですか。一つ選び、記号で答えなさい。



ア．後三年の役

イ．壬申の乱

ウ．元寇

エ．奥州藤原氏の滅亡

オ．桶狭間の戦い

6. 古代・中世を通じて、民衆衣料の素材とされた植物繊維には、絹やこうぞ・藤など多様なものを

使用していました。しかし、多くは麻の栽培・織布という重労働を伴う作業が衣料生産の中心でした。ところが、14世紀末～15世紀ころに朝鮮から日本に木綿生産が伝わると、あっという間に木綿が麻にとって代わりました。では、木綿が麻に取って代わった最大の理由は何でしょうか。次の中から1つ選び、記号で答えなさい。

- ア．麻よりも木綿の方が布をつくる手間が少なくてすむから
- イ．麻よりも木綿の方が丈夫であるから
- ウ．木綿は麻より染まりにくく、白色がいつも鮮やかであるから
- エ．木綿の方が麻より涼しくてよいから
- オ．木綿が外国から伝わった衣料であるから

7．中世から近世にかけて、戦国時代にふさわしく多くの城郭建築が築造されましたが、今までとは異なり、山の上に設けられていた城が、平野部に築造されはじめました。それにともない、城の構造も変化し、特に堀の幅は広くとられるようになりました。では、なぜ堀の幅を広くしたのでしょうか。堀の幅が広がった理由を1つ選び、記号で答えなさい。

- ア．魚を養殖するため
- イ．忍者が侵入しにくくするため
- ウ．鉄砲の効果を減少するため
- エ．城を造るための土を得るため
- オ．城の姿を立派に見せるため

8．近世の天皇は一部の権限を除いて、政治に関わりを持ちませんでした。しかし、ペリーの来航をきっかけとして天皇の政治的発言権が力を持つようになりましたが、毎日毎日働く民衆にとって天皇の存在はあまりにもかけ離れたものでした。そこで、明治維新の功労者たちは、天皇の存在を民衆にアピールするとともに、天皇の権限や地位をつくりあげるために苦勞をしました。では、天皇の地位や権限を民衆にしらしめるためのものではない事柄は、次の中でどれですか。1つ選び、記号で答えなさい。

- ア．大日本帝国憲法
- イ．軍人勅諭
- ウ．教育勅語
- エ．大逆罪
- オ．人間宣言

9．明治という時代は、産業革命によって日本の経済が資本主義社会に転換していく重要な時期でした。しかし、その実態は多くの名もない人々の苦しい労働の上につくられたものでした。ところで、日本の産業革命の実態を物語るものとしてふさわしい文学作品を次の中から1つ選び、記号で答えなさい。

- ア．『ああ、野稗峠』
- イ．『ああ、野麦峠』
- ウ．『ああ、三国峠』
- エ．『ああ、神坂峠』
- オ．『ああ、和田峠』

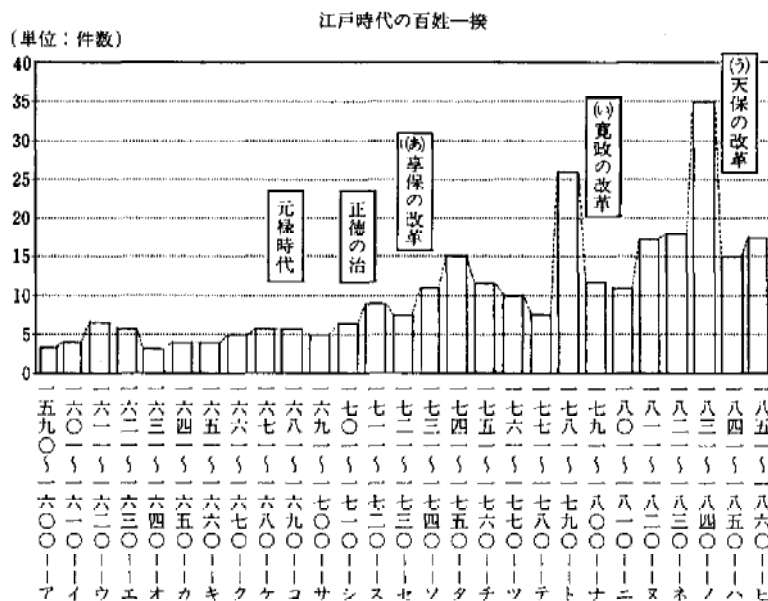

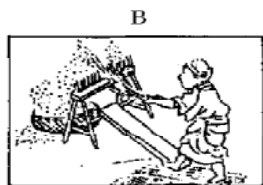

10．「いまからおよそ60年前に、日本は、ひとつの戦争に敗北しました。さて、日本はどの国にまけたのでしょうか」という問いにたいして、多くの日本人はどう答えるでしょう。

1945年7月26日当時に日本と戦争状態にあった国は、29カ国におよびました。それら多くの国ぐにの中で、対日降伏要求の国際的宣言であるポツダム宣言を発した国が、特に対日戦争に関するかぎり「連合国」の主役でした。では、次の語群の中で、ポツダム宣言を発した国でないものを1つ選び、記号で答えなさい。

- ア．中国
- イ．アメリカ
- ウ．イギリス
- エ．ソ連
- オ．オランダ

(本郷中学校)

2. 下のA～Cの絵は江戸時代に使用された農具で、グラフは江戸時代に発生した百姓一揆の件数を示したものです。これについてあとの問いに答えなさい。



問1 A～Cの農具の名前を答えなさい。また、それぞれ何のために使用したのですか。簡単に答えなさい。

問2 グラフのトとノの年代は、他と比べてどうして一揆の発生件数が多いのですか。簡単に説明しなさい。

問3 グラフ中の(あ)～(う)の改革(享保・寛政・天保)について、改革に関係のある人物を次のア～キからそれぞれ一人だけ選び、記号で答えなさい。

- ア．田沼意次 イ．水野忠邦 ウ．徳川家康 エ．徳川吉宗 オ．徳川綱吉
カ．松平定信 キ．新井白石

問4 次のできごとは、グラフのア～ヒの年代の、どの時期におきたものですか。ア～ヒの記号で答えなさい。

- 鎖国令が出て、日本人が海外へ出ることや、帰国することが禁止されました。
- 日米和親条約が結ばれて、日本は、下田と函館の港を開くことを約束しました。
- 徳川家康が征夷大將軍となり、江戸に幕府を開きました。
- 江戸幕府は、農民に対して慶安の御触書をだし、日常生活にも細かい統制をしました。
- もと大阪町奉行の役人であった大塩平八郎は、困った人々を救おうとして反乱をおこしました。
- 徳川氏は、大阪の陣で豊臣氏を滅亡させ、武家諸法度などの法律を制定しました。

(世田谷学園中学校)

3. 次の(1)～(3)の文章を読んで、あとの問いに答えなさい。

(1)(ア)年、朝鮮で農民の大きな反乱がおきました。高い税金に反対し、朝鮮に入ってくる外

国の勢力を追い払おうとしたのです。朝鮮の政府は、この反乱をおさえきれなくなると、中国に助けを求め、清は軍隊を送りました。日本もまた、ただちに軍隊を朝鮮にすすめました。日本は以前から、朝鮮にたいして、不平等な条約を結ばせたりして、勢力を伸ばそうと考えていたのです。こうして日本と清の軍隊が朝鮮でぶつかり、戦いを始めました。これを 日清戦争 といいます。

- (2) 日本は満州から朝鮮へ力をのばそうとするロシアとの戦争にそなえて、(イ)年、イギリスと同盟を結び、軍備を強めていきました。このようななかで、1904年、日本の海軍はロシアの軍艦をしずめ、日露戦争をはじめました。日本軍は旅順にあるロシア軍の陣地を13万人の兵力で攻撃し、6万人の死傷者をだして、ようやくそこを占領しました。奉天でも、日本軍25万人とロシア軍32万人がぶつかる激しい戦いが行われました。日本は、日本海での海戦でも、ロシアの艦隊をやぶりましたが、その後は、兵力や物資をつぎこむことがむずかしくなり、ロシアでも、国内で皇帝の政治にたいする不満から、革命が起こりました。そこで両国は、アメリカ合衆国のなかで 講和条約 を結ぶことになりました。
- (3) 日露戦争後、日本は韓国にたいする支配を強めていきましたが、(ウ)年、韓国の強い反対をおしきってこれを併合し、日本の植民地にしました。この後、日本が行った土地の調査の結果、土地を失った韓国人々も多く、これらの生活にゆきづまった人々は、国をはなれて日本にわたり、鉱山などできびしい労働をしました。韓国の学校では、日本語をつかうことがおしすすめられ、日本の歴史が国史として教えられました。日本の国民となる教育が行われたのです。やがて韓国では、日本から 独立しようとする運動 が起こり、全国に広がっていきました。

問1 (ア) ~ (ウ) にそれぞれの年代を書き入れなさい。

問2 下の下線部分の講和条約を次の(イ) ~ (チ)から選び、それぞれ記号で答えなさい。

- (イ)南京条約 (ロ)北京条約 (ハ)ポーツマス条約 (ニ)パリ条約
(ホ)下関条約 (ヘ)北京議定書 (ト)日米和親条約 (チ)日米修好通商条約

問3 下の下線部分のアメリカ大統領はだれですか。次の(イ) ~ (ヘ)から選び、それぞれ記号で答えなさい。

- (イ)フランクリン＝ルーズベルト (ロ)セオドア＝ルーズベルト
(ハ)ケネディ (ニ)ウィルソン (ホ)ジョンソン (ヘ)カーター

問4 下の下線部分の講和条約の内容として、正しくないものを次の(イ) ~ (ニ)から一つ選び、記号で答えなさい。

- (イ)韓国に対する日本の指導権を認める。
(ロ)北緯50度以南の樺太を日本にゆずる。
(ハ)沿海州とカムチャッカの漁業権を日本に認めた。
(ニ)賠償金として、3億1千万円を日本に支払う。

問5 下の下線部分について、第2次世界大戦後、朝鮮には二つの国が成立しますが、それは何年ですか。また北朝鮮の正式名称を漢字で答えなさい。

(世田谷学園中学校)

4. 次のA～Eの文を読み、(ア)～(オ)に適する人物名を記しなさい。また、下線部分a～eに関する下の問いにも答えなさい。

- A. (ア) 天皇は、国ごとに国分寺を建て、a 東大寺の本堂に金銅の大仏を造った。
- B. (イ) は、唐で学んだ後、帰国してb 高野山にこもり、真言宗をおこした。
- C. (ウ) は、南北朝を一つにまとめるとともに、c 明との貿易を始めた。
- D. d プロシアで君主権の強い憲法を学んだ(エ)は、明治憲法の草案を作成した。
- E. e 米騒動によって寺内正毅内閣は倒れ、立憲政友会の総裁(オ)が組閣して、ここに初めての本格的政党内閣が誕生した。

問1. 下線a, 東大寺にある(ア)天皇の遺品などを納めた倉庫を何というか。

問2. 下線b, (イ)が高野山に建てた寺院の名を答えよ。

問3. 下線c, 輸入された貨幣で、国内でもっとも流通した明銭の名称は何か。

問4. 下線d, プロシア(プロイセン)は現在何という国か。

問5. 下線e, 富山県から全国に広がった米騒動は、西暦何年に起こったか。

(市川中学校)

5. わが国の土地制度に関連する～のでき事について、下の問いに答えなさい。

太閤検地 農地改革 荘園の広まり 班田収授の法 地租改正

問1. 上の～にもっとも関係の深い人物を次の中から選び、記号で答えよ。

- ア 聖徳太子 イ 中大兄皇子 ウ 藤原道長 エ 源頼朝 オ 織田信長
- カ 豊臣秀吉 キ 大久保利通 ク 徳川家康 ケ 吉田茂 コ 加藤高明

問2. 上の～の内容に適するものを、次の中から選び、記号で答えよ。

- a. 6年ごとに作られる戸籍にもとづいて、6歳以上の男女に農地を与えた。
- b. 地主の持っていた田畑を国が買い上げ、小作人に安く売りわたした。
- c. 全国にわたって村ごとに田畑の広さや土地のよしあしを調べ、その収穫高を石高で表した。
- d. 全国の土地を調査して土地の値段(地価)を決め、土地の所有者から税金を納めさせることにした。
- e. 五人組の制度によって年貢を連帯責任で納めさせた。
- f. 多くの土地が不輸の権や不入の権を持つようになった。

問3. ～のでき事を年代の古い順に正しく並べかえ、番号で答えよ。

問4. が進められていたころ、農民の一揆をふせぐ目的で行われた政策は何か。

問5. が進められていたころ、産業界を支配していた巨大な企業の力を分散させる重要な政策がとられたが、この政策を何というか、漢字4字で答えよ。

問6. によって農民に与えられた農地を何というか。

問7. の政策が実施されはじめた時の税金は、地価の何%であったか。

(市川中学校)

6. 下にあげた人物と関係の深いことがらをあとの語群から選び、記号で答えなさい。また、語群から選んだことがらを考えながら、人物を新しい順にならべて、それを番号で答えなさい。

- 11 () () () () () 4 () () () () 3
1. 足利義満あしかがよしみつ 2. 鑑真がんじん 3. 聖徳太子しょうとくたいし 4. 豊臣秀吉とよみひでよし 5. 田中正造たなかしょうぞう
6. 本居宣長もとゐりのりなが 7. 伊藤博文いとうひろぶみ 8. 松尾芭蕉まつお ばしやう 9. 北条時宗ほうじやうときむね 10. 徳川家康とくがわいえやす
11. 吉野作造よしの さくぞう 12. 藤原道長ふじわらのみちなが

〔語群〕

- あ. 元との戦いげん い. ペリー来航かたながり う. 刀狩かたながり え. 鹿苑寺金閣ろくおん じ きんかく お. 『奥の細道』おく ほそみち
- か. 興福寺こうぶくじ き. 民本主義みんほんしゆぎ く. 憲法十七条けんぽう け. 慈照寺銀閣じしやう じ ぎんかく こ. 『東海道中膝栗毛』とうかいどうちゆうひざくりげ
- さ. 摂関政治せつかん し. 『平家物語』せいかく す. 関ヶ原の戦いないかく せ. 内閣制度ないかく そ. 蘭学らんがく
- た. 足尾鉾毒事件あしお こうどく ち. 自由民権運動じゆうみんけんうんどう つ. 唐招提寺とうしやうだいじ て. 延暦寺えんりやくじ と. 国学こくがく

(学習院中等科)

7. 次のA～Fの文章は、日本の農業について、米づくりを中心にして書いたものです。これについて下にある問いに答えなさい。

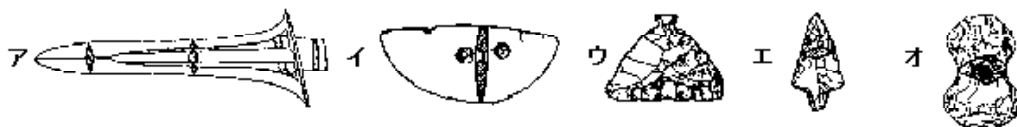
- A 日本に米づくりが伝わってきたのは、今から2000年以上も前のことです。このころの人々は、低い沼地などに水田をつくって、(1)で作られた、すきやくわを使い、収穫する時には 穂だけをつみ取りました。つみ取った稲の穂は(2)式の倉庫にしまっておき、木の臼と杵でもみがらをとって、土器で蒸してたべました。米づくりが始まると、人々の間に富んだものと貧しいものとの差ができてきて、小さな国が生まれてきました。中国の歴史書には、紀元前1世紀ごろ日本には100あまりの小国があって、朝鮮にある中国の役所に使いを送るものがあったこと、その後、紀元後(3)世紀には(4)国という国が中国の皇帝に使いを送り、金印をあたえられたことが書かれています。この金印と思われるものは江戸時代に発見されています。
- B 大化改新によって、私有地私有民が廃止されて公地公民の制が定められました。国民には(5)年ごとに戸籍をつくり、それにもとづいて、6歳以上の男女に 口分田があたえられました。口分田からとれた米には 租という税がかけられましたが、その他に布やいろいろな品物をおさめたり、労役に服したりしなければならず、家も縄文時代とほとんどかわらない(6)住居であり、中には九州の警備にあたる兵士にならなければならない人もあったので、生活は苦しいものでした。
- C 平安時代になると、田植えや稲を根から刈りとることが広くおこなわれるようになりました。平安時代の記録には四人の娘を天皇の后とした(7)の娘が 田植えを見物したということが記されています。鎌倉時代には 水田での二毛作がさかんになり、肥料に草や木の灰が使われるようになりました。室町時代になると、農民たちは自治的な結びつきを強めて、村ごとに寄合を開いて村の掟を定めたりしました。また宇治の(8)などの特産物がつくられるようになり、力をつけた農民たちは 土着の武士と結んで一揆をおこしたりもしました。
- D 江戸時代になると、農民たちは(9)によって、田畑の面積・収穫を調べられ、その結果にもとづいて 年貢をとられることになりました。武士は農民からとりたてた 年貢の米を金にかえて生活していたので農民たちはきびしい統制を受けましたが、生産をあげるために、新しい肥料

を使ったり、新しい農機具を発明したりしました。衣料でも（ 10 ）がひろくもちいられるようになり、赤い色の染料の原料となる（ 11 ）などの商品となる作物が栽培されました。また、幕府や大名も農民と共に 新田開発につとめたので、江戸時代には日本の耕地面積は大幅に増加しました。手工業もさかんになり、開国後最大の輸出品となった（ 12 ）の生産などがさかんになりました。

E 明治維新以後、いろいろな近代化政策の一つとして、地租改正がおこなわれ、今までの年貢にかわって、地主が現金で地租を国家におさめることになりました。また、（ 13 ）戦争後には満州（中国東北地方）から大豆かすが輸入されるようになり、さらに化学肥料など金で買う肥料が使われるようになりました。しかし、地主と小作の関係では金を持った地主が貧しい農民の土地を集めていったために、地主の所有する農地が増加していきました。このような中で1918年の夏には米騒動がおこり、昭和のはじめにおこった恐慌では農村も大きな被害をうけました。

F 第二次世界大戦後、農地改革がおこなわれ、多くの小作農が自作農となり、農業技術の改良もすすんだ結果、米の生産は年々あがって、1967年から1969年には、それまでの最高の収穫量が記録されました。しかし、このことは米の供給が多過ぎるという問題と政府の食糧管理会計の赤字の問題を生じさせました。そこで政府は1969年から政府が直接に米の買い入れと売り渡しをしないで民間だけで取引できる（ 14 ）制度を設けましたが、翌年からは日本の米づくりの歴史の上で、はじめての生産制限である（ 15 ）政策を実施しました。1960年ごろからの経済の高度成長は貿易の黒字と 貿易の自由化の問題を引きおこしました。特に日本との貿易赤字になやむ（ 16 ）は、日本が農産物の輸入制限をしていることを非難して、米の輸入の自由化を強く主張するようになり、日本の米づくりは大きな曲がり角に立つことになってきました。

問1 Aの下線の「穂だけをつみ取る」道具を下から選んで記号で答えなさい。（図の斜線の部分は切断面を示しています）



問2 Aの下線の様子が示されている文様のある遺物はなんですか。

問3 Bの下線の「口分田」は良民の男子には約24アールあたえられました。良民の女子にはどれだけあたえられましたか。

問4 イ Bの下線の「租」のとられる割合は収穫のなん%ぐらいでしたか。下から選んで記号で答えなさい。

ア 3% イ 10% ウ 20% エ 50%

問5 ロ 租としておさめられた米は主にどのようにつかわれましたか。下から選んで記号で答えなさい。

ア 主に都に運ばれて中央政府の財政にあてられました。

イ 地方や都の市場で売られて、役人の給料にあてられました。

ウ 自分の住んでいる国の役所におさめ、主にその国の財政にあてられました。

エ 都に運ばれて、地方から労役に集められた人々の食料にあてられました。

問6 Cの下線の「田植え」の時に豊作をいぬることからおこった、おどりと音楽をなんといいましたか、漢字で答えなさい。

問7 Cの下線の「水田の二毛作」の裏作として主につくられた作物はなんでしたか。漢字で答え

なさい。

問7 Cの下線の「一揆」の先頭に立つことがあった、室町時代の交通業者をなんといいましたか。漢字で答えなさい。

問8 Dの下線の「年貢のとられ方」で収穫の4割を年貢にとられることを、どういいましたか。漢字4字で答えなさい。

問9 Dの下線の「年貢の米を金にかえる」ために東北地方の日本海岸から関門海峡を通過して大阪まで米を運ぶ航路をなんといいましたか。

問10 Dの下線の「新しい肥料」を売る問屋が、このころ千葉県銚子の町に並んでいました。この問屋のあついていた肥料はなんでしたか。

問11 Dの下線の「新しい農機具」で脱穀の手間をはぶくのに役だったのはなんでしょうか。

問12 Dの下線の「新田開発」を町人にも認めさせた將軍はだれでしたか。漢字4字で答えなさい。

問13 Dの下線の「開国後」日本との貿易額が最も大きかった国をあげなさい。

問14 Eの下線の「地租改正」がおこなわれたころ、地租が国の収入にしめる割合はどのくらいでしたか。下から選んで記号で答えなさい。

ア 約20% イ 約30% ウ 約50% エ 約60% オ 約80%

問15 Eの下線の「地主の所有する農地」は1938年ごろが最大になりました。そのころ耕地面積の中に小作地がしめる割合はどのくらいでしたか。下から選んで記号で答えなさい。

ア 約15% イ 約22% ウ 約47% エ 約68% オ 約83%

問16 Eの下線の「米騒動」がおこった原因を、下から選んで記号で答えなさい。

ア 第一次世界大戦がおこったため、外国からの米の輸入ができなくなったため。

イ 第一次世界大戦がおこったため、戦争により食糧が不足した国に米を輸出したため。

ウ 第一次世界大戦がおこったため、兵士に人がとられて農家が人手不足になったため。

エ 第一次世界大戦の好景気で米価が上昇し、賃金も上昇したが米価の上昇に追いつけなかったため。

問17 Fの下線の時期の米の収穫高はどのくらいでしたか。下から選んで記号で答えなさい。

ア 約400万トン イ 約1000万トン ウ 約1400万トン

エ 約1800万トン (トン数は玄米による)

問18 Fの下線の「貿易の自由化」のために結ばれ、日本も1955年に加盟した協定をなんといいますか。カタカナで答えなさい。

問19 文章中の(1)～(16)に適切な語句を記入しなさい。

ただし(3)(5)には数字を記入しなさい。(1)(8)(9)(11)(14)は漢字で書きなさい。

(開成中学校)

8. 次のA・B・Cの文章を読みそれぞれの問に答えなさい。

A 赤城山麓で苦しい生活の中、行商しながら研究を続けた相沢忠洋さんの著書「岩宿の発見」の中に次のような一節があります。「……もう一方のがけ面を注意深く目を光らせながら見て歩いた。山寺山にのぼる細い道の近くまで来て、赤土の断面に目を向けたとき、私はそこに見なれないものがなかば突きささるような状態で見えているのに気がついた。……それを目の前に見たとき、私は

危うく声を出すところだった。実にみごとと言うほかない黒曜石の槍先形をした石器ではないか。われとわが目を疑った。考える余裕さえなくただぼう然とし見つめるばかりであった。『ついに見つけた！ 定形石器，それも槍先形をした石器を。……』その石を手にしておどりがあがった。」

問1 相沢さんは石器を見つけたことでぼう然となり，またおどりがあがるほど喜んでいきます。それは歴史上重要なことを証明する発見でした。何を証明するものだったのですか。10字以内で答えなさい。

問2 この石器の発見地は何県ですか，県名を漢字で答えなさい。

B 「今昔物語集」の中に利仁将軍の話があります。「利仁将軍が若かったころ，関白基経に侍として仕えていた。ある年のこと関白家で大きな宴会があり，終わった後，その残りのごちそうを関白家の侍たちが食べていた。利仁はそのとき大先輩の五位の侍が『腹いっぱい芋粥を食べたいものだ』と言っていたのを聞いた。ある日，利仁はこの侍を都の東のはずれといつわって敦賀の自分の家に連れて行った。途中まで2，30人の馬に乗った家来たちが迎えに来て無事二人は利仁の家についた。五位の侍は，その館や裕福な生活ぶりを見て驚いた。彼が夜寝ようとしたとき『明日の朝6時に切り口3寸長さ5尺の山芋をもって参れ』と大声で叫ぶ男の声を聞いた。翌朝五位の侍が目を覚まし，山のように積まれた芋といくつもの大釜で芋粥が作られているのを見て，彼は驚きのあまり出された芋粥を一杯も食べることができなかった。五位の侍はそこに1カ月あまり滞在し豪華なみやげと馬や牛までもらい都にもどって来た。」

問3 基経は，最初に関白に任ぜられた人物です。上の話は次のイ～二のうち何世紀のことと考えられますか。

イ 8世紀 口 9世紀 八 10世紀 二 11世紀

問4 次のイ～二の短文のうち上の話の時期と同じでないものはどれですか。

イ 利仁のように地方で多くの手下をもつ豪族でも都での身分は低いものであった。

口 基経（藤原氏）は他の有力貴族をおしのけて強い地位を確保した。

八 利仁のような地方豪族はまだ社会を動かす自らの実力を自覚していなかった。

二 利仁のような地方豪族が武士として勢力をもつようになり都に上り朝廷で重い地位についた。

C スウィフトが書いた「ガリバー旅行記」は小人国や大人国に漂着しさまざまな体験をした物語で有名ですが，そのガリバーが日本にもやって来て上陸した部分はあまり知られていません。「旅行記」によると「1706年8月の第3回目の航海で，ガリバーは船医として乗船し貿易のため東南アジア方面と思われる所に来航した。そこで彼は船長が用意した別の船を任されて商取り引きに出かけ，途中で日本人が船長である海賊船に出会い積み荷全部を奪われてしまった。その後いくつかの国々をへて日本に向う船をみつけ便乗し，1709年5月江戸の近くに上陸した。江戸に出て皇帝に拝謁し帰国のための援助を要請した。こうして皇帝の許しを得て陸路西へ向い無事出航しアムステルダムをへて1710年4月自分の国へ帰ることができた。」とあります。

問5 ガリバーは第3回目の航海で東南アジア方面で日本人の海賊船に出合った事になっています。

歴史的にみて実際に多数の日本商船がこの方面に往来し，活躍した時期はいつごろまでと考えられますか。（ ）世紀の（前半・後半）と答えなさい。

問6 ガリバーは日本に上陸し皇帝に会ったとき「〇〇〇〇人」商人といて国籍をいつわっています。何国人と言ったのですか，またなぜそう言ったのか，30字以内でその理由を書きなさい。

問7 ガリバーは皇帝に会ったとき信仰に関する「ある儀式」を強制されることを大変心配し，免除されることを要請しています。その儀式とは大きな一揆のあとに行われるようになったものです。

儀式とは何ですか。

問8 皇帝とは正式名称で言うと何ですか。漢字で答えなさい。

(早稲田中学校)

9.【群】の～のAとBとの対立関係についての説明が【群】の文(ア～ナ)です。これら
を組み合わせたものが【群】に示してあります。この組み合わせのうち、正しいものを10個選び、
その対立関係(事件)がおきた世紀の欄(6～19までの各世紀)に記号(あ～ね)で答えなさい。
11個以上答えた場合は採点しません。

【群】

	A	B		A	B		A	B
①	徳川 秀忠	豊臣 秀頼	⑥	平 将門	藤原 秀郷	⑪	中大兄皇子	蘇我 入鹿
②	足利 尊氏	新田 義貞	⑦	西郷 隆盛	大久保利通	⑫	徳川 家康	石田 三成
③	蘇我 馬子	物部 守屋	⑧	足利 義視	足利 義尚	⑬	源 義経	平 宗盛
④	織田 信長	武田 勝頼	⑨	安倍 頼時	源 頼義	⑭	後鳥羽上皇	北条 義時
⑤	大海人皇子	大友 皇子	⑩	後白河天皇	崇徳 上皇			

【群】

- ア．AとBは討幕行動では対立したが、のち、建武新政権のもとでしだいに協調していった。
 イ．Aは海賊をひきいて乱をおこしたが、朝廷によって派遣されたBによって鎮圧された。
 ウ．Aや中臣鎌足らはBを倒すことによって、天皇中心の強力な国家をつくろうと考えた。
 エ．仏教を崇拜するかどうかをめぐるAとBの対立は、どの皇子を天皇にするかの問題に発展し、
 Bはやぶれた。
 オ．後醍醐天皇の命令をうけたAに鎌倉を、Bに六波羅を攻められ、幕府は滅亡した。
 カ．天智天皇の皇子であるAは、天皇の位をねらう天智の弟のBをやぶった。
 キ．関東で乱をおこし新皇を自称したAであったが、同じ関東の武士Bらにやぶれた。
 ク．Aは、織田信長に支持されて入京したBにより都から追放された。
 ケ．Bから天皇の位を譲られたAは、摂関家をおさえるために院政を開始した。
 コ．将軍Aは父親とともにBを滅亡させることにより、幕府の安定をはかった。
 サ．後三年の役でAをやぶったBは、全国の武士の棟梁の地位を確立した。
 シ．将軍の地位をめぐるAとBの対立は、中世最大の内乱に発展した。
 ス．Aは征韓論でBにやぶれると薩摩にかえり、すぐに乱をおこしたが失敗した。
 セ．蝦夷の長であるAをBがやぶった東北地方の争いを前九年の役という。
 ソ．Aは豊臣氏を滅亡させるためBと戦った。これを天下分け目の戦という。
 タ．平清盛や源義朝の支持で争いに勝ったAはBを四国に島流しにした。
 チ．Aは新兵器を有効に使うことで、Bの強力な騎馬軍隊をやぶった。
 ツ．AがBをやぶったことにより、本格的な武士政権が成立することになった。
 テ．Aは幕府の混乱に乗じてBを追討する行動をおこしたが失敗し、隠岐に流された。
 ト．Aは反乱をおこしたBを大島に島流しにし、院政を復活した。
 ナ．Aは脱刀令や国民皆兵制に不満の土族を結集してBを暗殺した。

【群】

あ. -コ い. -ア う. -オ え. -ウ お. -エ か. -チ
 き. -ツ く. -カ け. -イ こ. -キ さ. -ス し. -ナ
 す. -ク せ. -シ そ. -サ た. -セ ち. -ケ つ. -タ
 て. -ト と. -ウ な. -コ に. -ソ ぬ. -ツ ね. -テ

【解答欄】

6	7	8	9	10	11	12	13	14	15	16	17	18	19

(崇鴨中学校)

10. 江戸時代の将軍に関する次のA～Cの文の□ア～ソに適切な語句を記入し、また下線 ~ に関する後の問いに答えなさい。

A 初代将軍徳川家康は□ア国の小大名の家に生まれましたが、5歳の時から人質として□イ氏や今川氏にあずけられるという苦しい体験をしました。豊臣秀吉が日本を統一した年に関東地方に領地を与えられて、江戸に移りました。秀吉の死後、1600年の□ウの戦いに勝って全国の大名を従え、1603年には朝廷から□エに任命されました。

B 3代将軍徳川家光は生まれながらの将軍として大名にのぞみ、□オの制度を定めました。このため一般の大名は1年おきに江戸で生活するようになり、財政が苦しくなりました。また、家光はキリスト教の禁止を厳しく進めました。1637年には□カカの乱が起き、ますますキリスト教をおそれた幕府は、1639年に□キキ人の来航を禁止して、鎖国きこくにふみきりましたが、キリスト教の布教と関係のない□ク人と、□ケ人には、長崎で貿易を許しました。

C 8代将軍徳川□ココのころは、幕府や大名の財政は苦しくなっていました。彼は家康を手本として幕府政治の改革を行いました。まず倭約令けんやくれいを出して支出をおさえ、収入の増加をはかって□サの割合をふやし、□シとしました。このため苦しくなった農民は団結して各地で□ススを起すようになりました。都市では、米の値上がりで苦しくなった町人が集団で米屋や質屋をおそう□セセがよく起きました。また、大名からは領地の石高一万石につき□ソソ石の割合で米をさし出させる上米あげまいを行って急場をしのぎました。

徳川氏と最も関係のうすい大名を何と呼びましたか。漢字で書きなさい。

鎖国を実施した結果、どのようになりましたか。そのうち1つを書きなさい。

上米のかわりに、幕府は大名にどのようなことをしましたか。

(駒場東邦中学校)

11. つぎのA～Dのあ～うの文を時代の古い順に並べると1～6のどれになるか、番号で答えなさい。また、下線の部分については下の問いに答えなさい。

- A あ 三国干渉しやうにより日本は遼東半島りやうを手ばなした。
 い 樺太(サハリン)の南半分が日本の領土になった。
 う 日本ははじめてイギリスと同盟を結んだ。

- B あ 1 満州を占領した日本はそこに満州国をつくった。
 い 日本は国際連盟を脱退した。
 う ロシアに革命がおこり、日本はシベリア方面に出兵した。
- C あ 日本の義務教育が9年に延長された。
 い 日本はソ連と国交を回復した。
 う 北緯38度線をはさんで朝鮮戦争がおこった。
- D あ 日本は中華人民共和国と国交を開いた。
 い 2 日本が国際連合に加わった。
 う 日本は独立を回復したが、その後もアメリカ軍がとどまることがきまった。

[時代の古い順] 1 あ・い・う 2 あ・う・い 3 い・あ・う 4 い・う・あ
 5 う・あ・い 6 う・い・あ

問1 このころの日本やアジアについてのべた文として正しいものを一つ選び、記号で答えなさい。

- あ 日本は中国政府に、満州に対する日本の権利などを21か条の要求にして出した。
 い アメリカから始まった世界的な不景気の影響で、日本でも工場がつぶれ多くの失業者が出た。
 う 東南アジアの石油やゴムなどの資源を手に入れるため、インドシナ半島へ軍隊を出動させた。

問2 国際連合の機関のなかで世界の平和と安全のために特に重要な役割を果たしている機関を記しなさい。

(桜蔭中学校)

12. つぎの1～6のできごとに関係のある文をA・B群からそれぞれ一つずつ選び、記号で答えなさい。

- 1 応仁の乱 2 平将門の乱 3 西南戦争 4 大化の改新
 5 島原の乱 6 承久の乱

A群

- あ 朝廷が貴族を重く用いたので武士が不満を強め、京へ攻めのぼったが失敗した。
 い 政府の改革に不満をもつ士族が反乱をおこしたが、政府の新しい軍隊にうち破られた。
 う 朝廷が幕府を倒そうとしたので、御家人たちが団結して京へ攻めのぼり、朝廷軍をうち破った。
 え 将軍のあとつぎ問題や守護大名の争いから都で戦いがおこった。
 お 公地公民の方針のもとに天皇を中心とする新しい政治のしくみができた。
 か 元寇ののち少ないほうびや苦しくなった生活に不満をもった武士が、幕府を倒そうとして反乱をおこした。
 き 下総国の北部(茨城県)の豪族が農民をひきいて国司を追い出し、一時、関東地方を支配した。
 く きびしい年貢のとりたてに抵抗して、キリスト教徒や農民が一揆をおこしたが、幕府軍に破れ全滅した。

B群

- あ このころ、自由民権運動が全国にひろがった。
 い このできごとで幕府の力は強まり、武士の法律がつくられた。

- う このころ、地方で武士がおこってきた。
- え このできごとがしずまると、諸国に守護^{しよ}、荘園に地頭が置かれた。
- お このできごとの約50年後に、大宝律令^{りよ}が定められた。
- か このできごとで幕府の力はおとろえ、国内は乱れて戦国時代になった。
- き このできごとをきっかけに、政府は財政を安定させるため、地租改正^そにふみきった。
- く このできごとがしずまると、幕府はキリスト教のとりしまりをいっそうきびしくし、鎖国を完成させた。
- け このできごとをきっかけに、平氏と源氏は全国各地で争うようになった。

(桜蔭中学校)

13, 次のA～Gの各文を読み, 問いに答えなさい。

- A. キリスト教が広まることをおそれた彼は, 日本人が海外に行くことや, 海外にいる日本人が帰国することを禁止した。
- B. 村ごとに団結した農民たちは, (1) とよばれる会合を開いて, 村のおきてを決めたり, 共同作業や用水の使い方などを相談するようになった。
- C. 米騒動で総辞職した内閣にかわって, 岩手県出身の (2) が, 本格的な政党内閣をつくることとなった。
- D. (3) によって武器を取り上げられた農民は, 耕作に専念^{せんねん}することが義務づけられ, 武士や商人になることを禁止された。
- E. 将軍の家来となった武士には, 京都や鎌倉の守りにつき, 将軍の命ずる戦いに参加することが義務づけられた。この義務を (4) という。
- F. 年貢による収入を増やすことで, 幕府の財政をたてなおそうとした彼は, 新田開発をすすめるとともに, これまでその年の収かくで決めていた年貢を, 毎年同じ量で納めさせることにした。
- G. 皇室や豪族がもっていた土地と人民がすべて国家のものとなったことにより, 政府は, (5) とよばれる役人を中央から派遣^{はけん}し, 各国を治めさせることにした。

問1 各文の () にあてはまる言葉を漢字二字で記しなさい。ただし (2) は人名で答えなさい。

問2 Eの武士を何というか, 漢字三字で記しなさい。

問3 A, Fの彼とはだれか, 次の語群のなかから記号で答えなさい。

- | | | | | |
|---------|---------|---------|---------|---------|
| ア. 聖武天皇 | イ. 桓武天皇 | ウ. 藤原道長 | エ. 平清盛 | オ. 源頼朝 |
| カ. 足利尊氏 | キ. 織田信長 | ク. 豊臣秀吉 | ケ. 徳川家康 | コ. 徳川家光 |
| サ. 徳川綱吉 | シ. 徳川吉宗 | ス. 徳川慶喜 | セ. 西郷隆盛 | ソ. 伊藤博文 |
| タ. 板垣退助 | | | | |

問4 次のことからそれぞれ上の各文のどれと最も関係が深い, その記号を記しなさい。

- ア. 稲の種類が増え, 二毛作が関東地方にまで広がった。
- イ. キリスト教に関係のない漢文にほん訳された洋書の輸入が許可された。
- ウ. 年貢の取り立てなどを行うために, 幕府によって地頭が置かれた。
- エ. 大名に対して, 一年交代で江戸と領地に住むことが義務づけられた。

オ．唐の法律を参考にして，大宝律令が定められた。

問5 各文を時代の古い順に並びかえ，その記号を記しなさい。

(立教女学院)

14, Aの1～8の各文の()に，正しいことばを入れ，B, Cの問いに答えなさい。

- A 1 銀閣寺にとりいれられた(1)という建物のつくりや，能，狂言，また(2)，生花など，この時代に生まれた新しい文化には，現在の私たちの生活のなかに，伝わっているものが少なくありません。
- 2 漢字をくふうしたかな文字が発達して，日本語の文章が書きやすくなり，(3)や，「源氏物語」，「枕草子」などのすぐれた文学作品が，さかんに書かれました。
- 3 江戸，大阪，京都などの大都市の町人たちは，(4)や人形しばいを見物したり，この時代のようにすえがいた(5)の版画や，小説・俳句などを楽しみました。
- 4 法隆寺の五重塔や金堂などは，世界最古の(6)といわれ，ここには，彫刻や壁画などの，すぐれた仏教美術がたくさん残されています。
- 5 外国のすぐれた文化をとり入れるために，多くの人々が留学しました。科学の分野でも，ヨーロッパの進んだ学問を学んで帰国し，(7)を研究した北里柴三郎のような世界的な学者が活躍しました。
- 6 日本のもっとも古い歌集である(8)には，天皇や貴族ばかりでなく，農民や九州の守りについた防人の歌なども集められています。
- 7 佐賀県で発見された弥生時代の吉野ヶ里遺跡では，濠にかこまれた村のようすや，一般の人々の墓とは別に，はなれてつくられた大きな墓，大陸との関係を示す(9)製の立派な剣や美しいガラス管玉などが，人々の注目を集めました。
- 8 浄土宗，浄土真宗，日蓮宗などの，だれにもわかりやすい教えが，武士や農民の間に広まり，中国の宋からは，(10)の教えが伝わるなど，新しい仏教の活動がさかんでした。

B Aの1～8の文は，いつごろのことですか。ア～ケから選びなさい。

- ア 1.2世紀 イ 5世紀 ウ 7世紀 エ 8世紀 オ 10.11世紀
カ 13世紀 キ 15世紀 ク 18世紀 ケ 19世紀

C Aの1～8の各時代について，次の問いに答えなさい。

- 1 この時代におこった戦乱のために，田畑をあらされた農民たちが，村に住む武士と力をあわせて，大名の畠山氏の軍を追いだし，自分たちで政治を行いました。このできごとをなんといいますか。
- 2 この時代に，力をつけて政治を動かすようになった藤原氏は，なんという役につきましたか。
- 3 大都市で，このような町人文化がさかんになった理由はなんですか。
- 4 このころ，新しい政治をめざして改革が行われましたが，朝廷の役人の心得を示したものはなんですか。
- 5 日本は，欧米の国々にみならって，近代工業の発達にもつとめました。
a 特に重工業化を進めるために，北九州に近代的な設備をもった工場をつくりました。これをなんといいますか。

- b 重工業化を進めたおもな理由はなんですか。
- 6 a この時代の都をなんといいいますか。
b このころ、都の貴族の生活を支えていた農民たちの間には、どのような動きがあらわれましたか。
- 7 前の時代にくらべて、人々の関係に、どのような変化が occurred しましたか。
- 8 a この時代に、征夷大將軍にかわって、幕府の実権をにぎった一族の名を答えなさい。
b この一族は、なんという役につきましたか。

(フェリス女学院)

15. 次の(1)～(4)の、日本と外国との関係についての短文を読み、あとの問いに答えなさい。

- (1) この国の人によって初めて日本に鉄砲が伝えられました。
- (2) この国の船が鎖国後は長崎の にきて幕府と貿易をおこないました。
- (3) この国の憲法を手本として大日本帝国憲法をつくりました。
- (4) この国と最初に条約を結び、幕府は開国しました。

問1 (1)～(4)のこの国とはどこですか。下から選び、記号で答えなさい。

- ア．イギリス　イ．フランス　ウ．ドイツ(プロシア)　エ．イタリア
オ．アメリカ　カ．ポルトガル　キ．スペイン　ク．オランダ　ケ．ロシア

問2 (1)の文の鉄砲を有効に使った織田、徳川連合軍と武田軍との戦いを何といいますか。下から選び、記号で答えなさい。

- ア．桶狭間の戦い　イ．姉川の戦い　ウ．関ヶ原の戦い　エ．長篠の戦い

問3 (2)の文の に入る場所を漢字2字で答えなさい。

問4 (3)の文の大日本帝国憲法をつくったとき、中心となった人物を下から1名選び、記号で答えなさい。

- ア．西郷隆盛　イ．木戸孝允　ウ．伊藤博文　エ．大久保利通

問5 (4)の条約によって開港された港は下田と、もう1つはどこですか。下から選び、記号で答えなさい。

- ア．横浜　イ．新潟　ウ．神戸　エ．箱館(函館)

(跡見学園)

16. 次の(1)～(4)の史料を読み、あとの問いに答えなさい。

- (1) 1世紀ごろの日本には、100あまりのくにがあったが、いまでは30ほどのくににまとまっている。その中でいちばん大きなくにが邪馬台国で、これらのくにをしたがえ、女王のヒミコがおさめている。
- (2) 「この世をば わが世とぞ思う もち月の かけたることも なしと思えば」
- (3) 大名に対し、国もとと江戸とを交代して住むことを定めておく。毎年4月のうちに江戸に参勤をせよ。
- (4) いま国の政治は一部の役人だけで動かされている。これではいけない。人々の意見を取り入れ

て政治をおこなうことがたいせつである。そのためには国会を開くのがいちばんである。

問1 (1)の史料の邪馬台国についてまちがっているものを下から1つ選び、記号で答えなさい。

- ア．いねや麻を植え、かいこを飼い、織物をつくっていた。
- イ．身分のちがいがあった。
- ウ．むかし男の王が支配していた。
- エ．女王は神のおつげをつけに、常に人前にあらわれた。

問2 (1)の史料は、何世紀の日本のようすが書かれていますか。

問3 (2)の史料の和歌をよんだ人の名前を下から選び、記号で答えなさい。

- ア．菅原道真すがわらのみちざね
- イ．藤原道長
- ウ．小野道風とうふう
- エ．在原業平ありわらのなりひら

問4 (2)の和歌がよまれた時代、『枕草子』を書いた人物はだれですか。下から選び、記号で答えなさい。

- ア．清少納言せいしょうなごん
- イ．紫式部むらさきしきぶ
- ウ．小野小町
- エ．紀貫之きのつらゆき

問5 (3)の史料の大名のうち徳川氏の親戚しんせきの大名を何といいますか。下から選び、記号で答えなさい。

- ア．旗本
- イ．譜代ふだい
- ウ．親藩しんぱん
- エ．外様とさま

問6 (3)の史料は、参勤交代に書かれた武家諸法度です。その目的を20字以内で答えなさい。

問7 (4)の史料の一部の役人の出身藩はんでないものを下から選び、記号で答えなさい。

- ア．会津藩あいづ
- イ．長州藩
- ウ．薩摩藩さつま
- エ．肥前佐賀藩ひぜん

問8 (4)の史料に国会を開くとありますが、わが国で初めて国会(帝国議会)が開かれたのは何年ですか。下から選び、記号で答えなさい。

- ア．1881年
- イ．1890年
- ウ．1894年
- エ．1902年

(跡見学園)

17, 次の(1)~(4)の文は、戦後のわが国の紙幣の肖像しへい しょうぞうとして使われた人たちについて述べたものです。下のア~エのどの人物にあたりますか。記号で答えなさい。



- (1) 私は国際連盟の事務局次長となり、世界平和のためにつくしました。
- (2) 私が松山の中学校で教師をしていた時の経験をもとに書いた小説は、今でも多くの人々に読まれています。
- (3) 「天は人の上に人を造らず人の下に人を造らず」は、私が書いた書物の初めの部分です。
- (4) 私は自由民権運動の中心として働き、後に自由党をつくりました。

(跡見学園)

18, 次の ~ の各文は, 農業についての改革を示したものです。各文について, 地租改正に関するものにはア, 戦後の農地改革に関するものにはイ, どちらでもないものにはウと書きなさい。

連合国軍のさしずによりおこなわれた民主主義改革の1つであった。

地主の農地を国が買い上げ, 小作人たちに安く売り渡したものである。

地主に地価の3パーセントを税金として納めさせることにしたが, 各地でこれに反対する一揆がおこった。

この改革の結果, 政府は豊作, 凶作に関係なく, 国の財政の基礎を固めることができるようになった。

米の豊作が続いたので, 政府は農民に米の作付面積をへらすようにすすめた。

(三輪田学園)

19, 太平洋戦争について次の問に答えなさい。

(1) 真珠湾はどこの国にある湾の名前ですか, 国名を答えなさい。

(2) 次の ~ の年月日は, 日本がおこなった戦争に関係の深い日です。それぞれ何があった日ですか。下のア~カの中から記号で答えなさい。

1945年4月1日 1945年8月6日 1945年8月15日

ア. 長崎に原爆が投下された日。 イ. 広島に原爆が投下された日。

ウ. アメリカ軍が沖縄に上陸した日。 エ. ポツダム宣言の受け入れを発表した日。

オ. ソ連軍が満州に攻め込んできた日。 カ. 東京大空襲があった日。

(3) この戦争について, 次のア~カの中から正しくないものを2つ, 記号で答えなさい。

ア. 真珠湾攻撃がおこなわれた時, ヨーロッパではすでに第二次世界大戦が始まっていた。

イ. 日中戦争が始まった原因は, 日本が満州を占領したことにある。

ウ. 日中戦争では, 日本は中国に味方したアメリカ, イギリス, ドイツとも戦った。

エ. 日中戦争が長びき, 日本は東南アジアの資源をねらって, その地に軍隊をすすめた。

オ. 戦争中, 政府は日本の不足した働き手をおぎなうために, 当時植民地であった朝鮮から多くの人々を無理やり連行し, 工場や鉱山で働かせた。

カ. 戦争中, 戦争に反対する人々は, 民主主義を禁止するための国家総動員法という法律できびしく処罰された。

(三輪田学園)

20, 次の(A)~(G)の文章を読んで, 後の問いに答えなさい。

(A) 日本は宣戦を布告しないまま中国と戦争に入り, 上海や首都(イ)などを占領しました。しかし, 中国もアメリカやイギリスの援助をうけてはげしく応戦しました。そこで日本はソ連と, お互いに戦争をしないことを約束する条約を結び, (ア)東南アジアのインドシナ南部へ軍隊を送りました。こうした日本の行動は, アメリカやイギリスとの対立を深め, これらの国々とも戦争になりました。(イ)国内では政府による国民への統制が強められ, 人々の生活は戦争一色になりました。また, 戦争が長びいて国内の労働力が不足すると, (ウ)多くの朝鮮や中国の人々を日本に連

れてきて、各地の鉱山や工場において、悪い条件のもとで働かせました。

- (B) 日本の各地で、労働運動や農民運動がさかんになってきました。また、議会を中心に国民の意見に基づいた政治が行われるべきだ、と主張する政治学者(1)の意見が多くの人々に支持されました。その結果、(エ)法律が改正され、25歳以上のすべての男子が衆議院議員の選挙権をもつことになりました。一方、選挙権が与えられなかった女性は、(2)らが中心となって選挙権を求める運動を進めていきました。
- (C) (オ)ヨーロッパを主な戦場として戦争が起こりました。日本もドイツに宣戦を布告して戦争に加わり、ドイツ軍と戦いました。また、ヨーロッパの国々が戦争に追われている間、日本はヨーロッパやアジアへの輸出を大きくのばし、今までにない好景気を迎えました。これにより重工業が発展し、工場の動力源も蒸気力から(口)に変わりました。この戦争後、各国は二度と戦争が起きないようにと、(カ)国際的な平和組織をつくりました。
- (D) 日本はロシアと戦争を始めました。しかし、まもなく日本では兵員や物資が不足し、ロシアでも国内で政治的な混乱が起こったため、両国は戦争が続けられなくなりました。そこで、(キ)アメリカのなかだちで講和会議が開かれ条約が結ばれました。この結果、日本は朝鮮への支配をますます強めていきました。これに対して朝鮮では各地で激しい抵抗運動が起き、(ク)日本の朝鮮支配に重要な役割を果たしてきた(3)が、朝鮮の青年によってハルピンで暗殺される事件が起きました。日本はこの事件の翌年、朝鮮を併合し、警察や軍隊を朝鮮のすみずみまで配置して抵抗運動をおさえていきました。
- (E) 日本が戦争に敗れたことで、日本の植民地支配に苦しめられてきた朝鮮の人々はようやく解放されました。しかしその後、朝鮮はふたつに分裂して対立を始めました。中国では、国民政府と(4)の率いる中国共産党が対立し、国民政府は台湾へののがれ、中国共産党が北京で中華人民共和国を成立させました。朝鮮戦争が始まると、(ケ)日本を占領していたアメリカは、講和による日本の独立を急ぎました。その結果、(コ)日本とアメリカなど48カ国との間で平和条約が結ばれ、日本は独立を回復しました。
- (F) 世界は大変な不景気におそわれ、日本も例外ではありませんでした。政治家や軍人の中には、「満州は日本の(八)線だ。」とあって、中国東北部の満州に勢力を伸ばして日本の領土とし、日本の農民を移住させれば不景気からぬけ出せると主張する人が出てきました。(サ)南満州の鉄道を守っていた日本軍は自ら線路を爆破し、これを中国軍のしわざだとして戦争をしかけました。日本軍は満州を占領し、翌年、(シ)満州国の建国を宣言させました。
- (G) 朝鮮国内で農民反乱が起こりました。この反乱をおさえるため、朝鮮政府が中国に援軍を求めると、日本も中国に対抗して軍隊を送りました。反乱は鎮められましたが、まもなく日本軍と中国軍が衝突して戦争になりました。日本は戦争に勝利し、中国から台湾や遼東半島などの領土をゆずりうけ、多額の(ス)賠償金も受け取りました。しかし、(セ)ヨーロッパの国々が、遼東半島を中国に返すよう日本に強くせまりました。日本はやむをえずにこれに従いましたが、国内の不満は大きく、以後、軍備の増強に力を入れていきました。

問1 文章中の空欄(1)～(4)にあてはまる適切な人物を次の(あ)～(し)の中から一人ずつ選び、その記号で答えなさい。

- | | | | |
|---------|-----------|-----------|----------|
| (あ) 犬養毅 | (い) 市川房枝 | (う) 美濃部達吉 | (え) 毛沢東 |
| (お) 蒋介石 | (か) 尾崎行雄 | (き) 津田梅子 | (く) 吉野作造 |
| (け) 孫文 | (こ) 与謝野晶子 | (さ) 伊藤博文 | (し) 原敬 |

問2 文章中の空欄(イ)~(ハ)にあてはまる適切な都市や語を、それぞれ漢字2文字で答えなさい。

問3 文章中の下線部(ア)について――

日本が東南アジアへ軍隊を送った理由は、ゆきづまった中国との戦争状態を切り開き、アメリカやイギリスによる中国への補給路を断つためでしたが、インドシナ南部への進出はその他にある目的がありました。その目的とは何ですか。句読点も含めて10字以上15字以内で答えなさい。

問4 文章中の下線部(イ)について――

当時の人々の生活の様子を表しているものとして、適切ではないものを次の(あ)~(え)の中から一つ選び、その記号で答えなさい。

- (あ)食料品の買い出しが行われるようになった。
- (い)小学生が集団で農村へ疎開するようになった。
- (う)日用品や米などが配給制で配られるようになった。
- (え)中学生や女子学生が工場などで働くようになった。

問5 文章中の下線部(ウ)について――

日本が行ったこの行為を何といいますか。漢字4文字で答えなさい。

問6 文章中の下線部(エ)について――

この法律が制定されるまで、衆議院議員の選挙権は国に直接納める税金の額によって制限されていました。この法律が制定される直前、選挙権を与えられていた人が納める税金の額は何円以上でしたか。適切なものを次の(あ)~(え)の中から一つ選び、その記号で答えなさい。

- (あ)1円
- (い)3円
- (う)5円
- (え)10円

問7 文章中の下線部(オ)について――

日本が戦争に参加した理由として、適切ではないものを次の(あ)~(え)の中から一つ選び、その記号で答えなさい。

- (あ)日本は当時イギリスと同盟を結んでおり、その関係から参戦した。
- (い)日本は戦争に参加することで、国際社会における地位を高めようとした。
- (う)日本は戦争を利用して中国へ進出し、多くの利権を得ようとした。
- (え)日本は戦争に参加しないことを宣言したが、ドイツから空襲を受けて応戦した。

問8 文章中の下線部(カ)について――

この国際組織の事務局次長として、国際平和のためにつくした人物は誰ですか。適切な人物を次の(あ)~(え)の中から一人選び、その記号で答えなさい。

- (あ)福沢諭吉ふくざわ ゆきち
- (い)内村鑑三うちむら かんぞう
- (う)新島襄にいしま じょう
- (え)新渡戸稲造に と べい いなぞう

問9 文章中の下線部(キ)について――

この講和会議に日本の全権として出席した人物は誰ですか。適切な人物を次の(あ)~(え)の中から一人選び、その記号で答えなさい。

- (あ)大隈重信おおくま じげのぶ
- (い)陸奥宗光むつ おねみつ
- (う)板垣退助いたがき たいすけ
- (え)小村寿太郎こむら じゅうたろう

問10 文章中の下線部(ク)について――

文章中の朝鮮の青年とは誰ですか。適切な人物を次の(あ)~(え)の中から一人選び、その記号で答えなさい。

- (あ)李舜臣り しゆんしん
- (い)安重根あんじゅうこん
- (う)李鴻章り こうしょう
- (え)柳寛順りゅうかんじゆん

問11 文章中の下線部(ケ)について――

アメリカが講和による日本の独立を急いだのはなぜですか。当時の国際情勢をふまえて、その理由を句読点を含めて20字以上30字以内で答えなさい。

問12 文章中の下線部(コ)について――

この平和条約の調印に日本の主席全権として出席し、調印を行った人物はだれですか。適切な人物を次の(あ)～(え)の中から一人選び、その記号で答えなさい。

(あ)佐藤栄作 (い)田中角栄 (う)吉田茂 (え)池田勇人

問13 文章中の下線部(サ)について――

この事件をきっかけとした中国との戦争は、その後日本が降伏するまで続きました。何年続けましたか。その年数を答えなさい。

問14 文章中の下線部(シ)について――

満州国の建国を宣言した年に起こった出来事は何ですか。適切なものを次の(あ)～(え)の中から一つ選び、その記号で答えなさい。

(あ)二・二六事件 (い)米騒動 (う)五・一五事件 (え)関東大震災

問15 文章中の下線部(ス)について――

この賠償金の一部を使って日本の重工業発展のさきがけとなった官営工場が建設されました。この官営工場はどこに建設されましたか。適切な地名を次の(あ)～(え)の中から一つ選び、その記号で答えなさい。

(あ)長崎市 (い)釜石市 (う)広島市 (え)北九州市

問16 文章中の下線部(セ)について――

このヨーロッパの国々として、適切ではない国を次の(あ)～(え)の中から一つ選び、その記号で答えなさい。

(あ)イギリス (い)フランス (う)ドイツ (え)ロシア

問17 (A)～(G)の各文章で述べている時期を、時代の早いものから順番にならべた場合、3番目と5番目にあたるのはどの文章ですか。それぞれその文章の記号で答えなさい。

(浅野中学校)

歴史 入試問題演習 第一集 解答

1.

1.エ 2.イ 3.ア 4.荘園 5.イ 6.ア 7.ウ 8.オ 9.イ 10.オ

2.

問1 A 備中ぐわ、田畑を深く耕す B 千歯こき、脱穀をする
C 唐み、米ともみがらをわける

問2 トは天明の大ききん、ノは天保の大ききんがおこったから。

問3 享保...エ、寛政...カ、天保...イ

問4 1.オ 2.ヒ 3.イ 4.カ 5.ノ 6.ウ

3.

問1 ア 1894 イ 1902 ウ 1910

問2 ホ 八

問3 口 問4 二 問5 1948年、朝鮮民主主義人民共和国

4.

ア 聖武天皇 イ 空海 ウ 足利義満 エ 伊藤博文 オ 原敬

問1 正倉院 問2 金剛峰寺 問3 永楽通宝 問4 ドイツ

問5 1918

5.

問1 カ ケ ウ イ キ

問2 c b f a d

問3

問4 刀狩り 問5 財閥解体 問6 口分田 問7 3%

6.

1 え 2 つ 3 く 4 う 5 た 6 と 7 せ 8 お 9 あ 10 す

11 き 12 さ

11 (5) (7) (6) (8) (10) 4 (1) (9) (12) (2) 3

7.

問1 イ 問2 銅鐸 問3 16アール 問4 イ ア ロ ウ

問5 田楽 問6 麦 問7 馬借 問8 四公六民 問9 西回り航路

問10 ほしか 問11 千歯こき 問12 徳川吉宗 問13 イギリス

問14 オ 問15 ウ 問16 エ 問17 ウ

問18 ガット 当時は、関税と貿易に関する一般協定(略称 ^が ^っ ^と G A T T)でした。そ

の後、世界貿易機関（WTO）と組織がかわります。

- 問19 (1) 木 (2) 高床 (3) 1 (4) 奴 (5) 6 (6) 豎穴^{たてあな}
 (7) 藤原道長 (8) 茶 (9) 検地 (10) 木綿^{もめん} (11) 紅花^{べにばな}
 (12) 生糸 (13) 日露 (14) 自主流通米 (15) 減反^{げんたん} (16) アメリカ

8.

- 問1 無土器(旧石器、先土器)時代の存在 問2 群馬
 問3 口 問4 二 問5 17(世紀の)前半
 問6 オランダ人、鎖国中でオランダ人のみが来航できたから。
 問7 踏み絵(絵踏み) 問8 征夷大將軍

9.

6	7	8	9	10	11	12	13	14	15	16	17	18	19
お	と			こ	た	つ、ぬ	ね		せ	か	あ		

10.

- ア 三河 イ 織田 ウ 関ヶ原 エ 征夷大將軍 オ 参勤交代
 カ 島原 キ ポルトガル ク オランダ ケ 中国(清) コ 吉宗
 サ 年貢 シ 五公五民 ス 百姓一揆
 セ 打ちこわし ソ 100
 外様大名 世界の進歩に後れた。
 参勤交代の江戸在府の期間を一年から半年に短くした。

11.

- A 2 B 5 C 2 D 6
 問1 い 問2 安全保障理事会

12.

- (A群・B群の順に) 1 え・か 2 き・う 3 い・あ 4 お・お 5 く・く
 6 う・い

13.

- 問1 1 寄合 2 原敬 3 刀狩 4 奉公 5 国司
 問2 御家人 問3 A コ F シ 問4 ア.B イ.F ウ.E エ.A オ.G
 問5 G E B D A F C

14.

- A 1.書院造り 2.茶道 3.土佐日記 4.歌舞伎 5.浮世絵 6.木造建築
 7.細菌学 8.万葉集 9.青銅 10.禅宗

B 1.キ 2.オ 3.ク 4.ウ 5.ケ 6.エ 7.ア 8.カ

C 1.山城の国一揆 2.摂政、関白 3.商工業の発達で、経済的に豊かになったから。 4.憲法十七条 5.a八幡製鉄所 bロシアとの戦争に備え、軍備を強化するため。 6.a平城京 b自分の口分田を捨て、貴族や寺社の荘園で働くようになった。 7.貧富や身分の差がうまれ、広がった。 8.a北条氏 b執権

15.

問1 (1)カ (2)ク (3)ウ (4)オ 問2 エ
問3 出島 問4 ウ 問5 エ

16.

問1 エ 問2 3(世紀) 問3 イ 問4 ア 問5 ウ
問6 幕府に背くことができないようにするため。 問7 ア 問8 イ

17.

(1)ウ (2)イ (3)エ (4)ア

18.

イ イ ア ア ウ

19.

(1) アメリカ合衆国 (2) ウ イ エ (3) ウ、カ

20.

問1 1く 2い 3さ 4え
問2 イ 南京 口 電力 八 生命
問3 石油などの資源を手に入れる。 問4 あ
問5 強制連行 問6 い 問7 え 問8 え 問9 え
問10 い 問11 東アジアで社会主義の勢力が広がるのを防ぐため。
問12 う 問13 15(年) 問14 う 問15 え
問16 あ 問17 (3番目)C (5番目)F