

入試問題演習 その7

3-19

1 次の文を読んで、問いに答えなさい。

第二次世界大戦後に国際連合が生まれて、世界の平和と安全のために努力していますが、国際紛争はなおつづいています。1988年4月には約8年も内戦があった(あ)の和平協定が調印され、兵を送っていたソ連軍の撤退が決まりました。

このころ、当時のデクエヤル国連事務総長は、第二次世界大戦後に武力紛争で1,700万人が死亡、現在も36ヵ所で紛争がつづいていると述べました。これらの紛争のうち、最大のものはなんといっても、アメリカ軍の大規模な介入をへて1975年までつづいた(い)戦争です。

また1988年7月には、ホメイニ師が指導する(う)と四大古代文明がおこったところの一つである(え)のあいだで約8年つづいた戦争も、1987年の(え)につづき(う)も即時停戦をもとめた国連決議を無条件で受け入れ、ついに停戦が成立しました。国連でとくに世界の平和と安全をあつかう機関は(お)理事会で、日本はその非常任理事国になっています。さらに1988年9月には、いままで世界各地で紛争をおさめた国連平和維持軍にノーベル平和賞がさずけられました。

問1 (あ)～(え)にあてはまる国名(正式名称でなくてもよい)を答えなさい。

問2 (う)と(え)から日本が輸入する商品のなかで、輸入額がいちばん大きいものを答えなさい。

問3 (お)にあてはまることばを、漢字4字で答えなさい。

問4 日本人でノーベル平和賞を受けた唯一の人物が首相だった1965年に、日本と国交を回復した国名(正式名称でなくてもよい)を答えなさい。

問1	あ	い	う	え
問2	問3		問4	

(海城中学 改題)

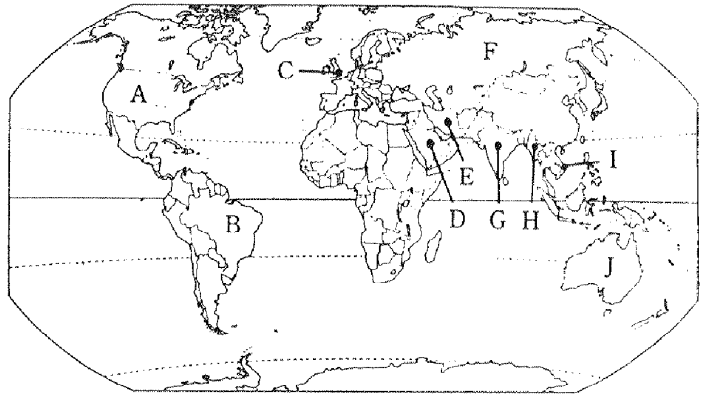
2 次の文を読み、()に適する語句を入れ、下の問いに答えなさい。

日本は、ア天然資源が少ないため、その多くを輸入に頼っている。イ石油は、()教を信仰する西アジアから多く輸入し、1995年の実績では、()が最大の輸入相手国である。また、鉄鉱石は半分近くを()からの輸入に頼っている。一方、自動車や鉄鋼などの工業製品を世界各地に輸出している。ウ貿易量が増えるとともに、外国

との間にいろいろな問題が生じ、とくに、日本の輸出が多すぎるため、もっと輸入を増やすように求められている。(

)では、日本が輸入をまったく認めていない農産物である()の自由化を要求する声が強くなっている。

今日、経済力の強くなった日本は、先進国として多くの役割を担うことが期待されている。たとえば、1975年、インドシナ半島の()戦争が終わると、多くの人々が自分の国を捨てて国外へ逃げ出した。また、アフリカでは環境が破壊され、()が広がり草や木の生えない不毛の地が続いている。そのため餓死者も現われ、()となる人も少なくない。世界中で()は1300万人にも達するといわれ、日本は、彼らに対する援助や保護を求められている。



- 問1 . 下線ア、石油ショック以降、石油にかわるものとして、地球内部の熱エネルギーを利用した発電の方法を何というか。
- 問2 . 下線イのような化石燃料によって生ずる二酸化炭素の増大が、地球の気温を上昇させると考えられているが、これを何とよんでいるか。
- 問3 . 下線ウ、各国がある国に対して貿易を縮小するなかで、日本は1987年度の貿易額で第1位となり、国際的批判をうけたことがある。そのある国とはどこか。また、その「ある国」がおこなっていた人種差別(隔離)政策を何というか。
- 問4 . ()の . . . に当たる国を地図から選び、図中の記号で答えよ。
- 問5 . 図中のF国で、1986年に原発事故が起こったが、その都市名を答えよ。

問1			問2						
問3	国名						政策		
問4							問5		

(市川 改題)

3 次の文章を読んで、()の中に正しい語句を入れなさい。また下線部について答えなさい。

第二次世界大戦が終わっても核兵器の製造・実験は続けられています。1954年に太平洋上で(1)丸という日本のまぐろつり漁船が「死の灰」をあびました。アメリカが(2)島の近くで水爆実験をしたからです。この漁船の船

員が急性放射能症^{しやう}で死亡したことをきっかけに東京の主婦たちが起こした署名運動から、原水爆禁止運動が広がりました。1982年の第二回国連軍縮特別総会で長崎の被爆者^{さきひ}である(3)さんは「ノーモアヒバクシャ」と世界に向かってうたったえました。この総会にあわせて国連本部のある(4)でおこなわれた軍縮と核廃絶^{はい}を求めるデモには、世界中から100万人もの人が参加しました。しかし現在はアメリカや旧ソ連のほかにも核兵器を持つ国がふえています。日本は唯一^{ゆい}の被曝国でもあり、核兵器は「持たない、つくらない、(5)」という非核三原則をきめています。核兵器の製造や実験の禁止をもっと強く主張しなければなりません。

問 核兵器を持つ国にはどんな国がありますか。アメリカ、ロシア(旧ソ連)、インド以外の国をひとつ答えなさい。

1		2		3		4	
5		問					

(神戸女学院)

4 次の文を読んで、空らん ~ に適当なことば又は数字を入れなさい。

第2次世界大戦の終わった()年の10月に、2度と戦争を起こすまいという願いをこめて()がつけられました。しかしアメリカと()はしだいに「冷たいせんそう」とよばれる対立を深め、多くの国々がどちらかの陣営^{じんえい}につき、世界は2つに分れました。そのえいきょうを受けて()や()や、ベトナムではひとつの民族がふたつに分かれて国をつくることにもなりました。この対立を背景に()戦争が始まると、アメリカの指令によって日本には現在の自衛隊のもとである()がつけられました。アメリカは日本との講和^{こうわ}を急ぎ、1951年、アメリカの()で講和会議を開きました。日本はアメリカなど48か国との間に平和条約を結び、独立を回復しました。しかしこの条約に反対の()などは調印をことわりました。また、日本が最も長く戦い、大きなひがいを与えた^{あた}()は、この会議にまねかれませんでした。また、同時に()条約が結ばれ、この条約によってアメリカ軍はひきつづき、日本の基地にとどまることになりました。一方、1955年にアジア・アフリカの国々29か国は()のバンドンに集まり、植民地からの独立や、アメリカにも()にもつかない中立政策をとることを宣言しました。

1		2		3		4	
5		6		7		8	
9		10					

(神戸女学院)

1 次の(1)～(6)の各文は、ある宣言・憲章、それらの前文などの一部をのべたものです。(1)～(6)の各文に最も関係深いことばを、A群・B群から1つずつえらび、記号で答えなさい。

- (1) ・ 世界の平和と安全を守り、国と国との争いを、話し合いによって平和的な方法で解決する。
 ・ すべての独立国が平等な立場でなかよく発展していくことをすすめる。
 ・ 経済・社会・文化などの、いろいろな問題を解決し、人権と自由を尊重していくために、国々が協力しあうようにする。
 ・ これらの共通の目的の達成にあたって、諸国の行動を調和するための中心となる。
- (2) ・ 日本から軍国主義をおいはらうこと。
 ・ 日本の秩序（ちつじょ）ができるまで、連合国軍が占領（せんりょう）すること。
 ・ 日本の国土は、本州・四国・九州・北海道と、その周辺の島々にかぎること。
 ・ 戦争を進めた反罪人を処罰（しょばつ）して、日本に民主主義を押し進めること。
 ・ 日本の再軍備につながるような産業を禁止すること。
- (3) ・ 基本的人権と国際連合の目的を尊重すること。
 ・ 各国の主権と領土を尊重する。
 ・ 他の国の内政に干渉（かんしょう）しない。
 ・ 国際連合の憲章（けんしょう）にもとづく自衛権を尊重する。
 ・ 侵略（しんりゃく）の行動や兵器の使用は禁止する。
 ・ 国と国との争いは平和的に解決する。
 ・ 各国の利益のためにたがいに協力する。
- (4) ・ すべての人は、生まれながらにして自由であって、その尊厳と権利は平等である。
 ・ すべての人は、人種・ひふの色・性別・言語・宗教・政治上その他の意見・出身・財産・地位がどのようなものであっても、この宣言にかかげられているすべての権利と自由をもつ。
 ・ すべての人は、生命・自由および身体の安全についての権利をもつ。
 ・ すべての人は、どれいにされたり、苦役（くえき）をさせられたりすることはない。
 ・ すべての人は、ごうもんとか、むごいとりあつかいや刑罰（けいばつ）を受けることはない。
 ・ すべての人は、法のまえに平等であって、差別なく法の平等な保護を受ける権利をもつ。
 ・ すべての人は、かつてにとらえられることはない。
- (5) ・ 人は、だれでも、よい環境の中で人間らしい生活を送る権利をもつとともに、未来の人たちのために、環境を守り、よりよくしていく責任がある。
 ・ 大気・水・土地・動植物や天然資源は、計画的に管理され、保護されなければならない。
 ・ 環境や生物の未来に有害な物質や熱は、捨ててはならない。
 ・ 発展途上国に対しては、要求に応じて、技術や資金の援助をしなければならない。
 ・ いちじるしい人口の増加のために、環境が悪くなるような地域では、適切な人口政策をとることが必要である。
 ・ 各国は、核兵器その他の大量破壊兵器をなくすために、協力しなければならない。
- (6) ・ 戦争は人の心のなかで生まれるものであるから、人の心のなかに、平和のとりでをきずかなければならない。
 ・ 相互の風習と生活を知らないことが、人類の歴史を通して世界の諸人民の間に疑惑（ぎわく）と不信をおこした共通の原因であり、この疑惑と不信のために、諸人民の不一致があまりにもしばしば戦争となった。
 ・ 文化の広い普及と、正義・自由・平和のための人類の教育とは、人類の尊厳に欠くことのできないものである。

[A群]

- ア 世界人権宣言 イ 平和十原則 ウ ポツダム宣言 エ 人間環境宣言
 オ フランス人権宣言 カ 発展途上国援助宣言 キ ユネスコ憲章 ク 日本国憲法
 ケ 国連憲章 コ 国際連盟規約

[B群]

- ア この宣言には、人類普遍（ふへん）の権利が表現されておりますが、同時に所有権の不可侵（ふかしん）の主張など市民階級中心の傾向が強くうち出されております。
- イ 第二次世界大戦で大きな被害を受けた国々が、戦争をなくしたいという願いのもとに、1945年に51か国参加してつくったものです。
- ウ イタイタイ病や水俣（みなまた）病が発生したので、日本の科学者などが東京に集まり、この宣言を発表しました。
- エ 1948年の国連総会で決められたもので、人間らしさの実現という点でまだ不十分な国々の目標となり、思想となりました。
- オ この国の憲法の特徴は、基本的人権を尊重すること、主権が国民にあること、平和の実現のために努力することなどがあげられます。
- カ インドネシアのバンドンでアジア・アフリカの国々が、世界史上、はじめて自発的に国際会議を開いた時に発表されたもので、植民地主義の否定と話しあいによる平和を強く求めています。
- キ 第二次世界大戦後の日本の進むべき方向がこれにもとづいて、定められました。日本国憲法の成立も、そのあらわれです。
- ク これによって、世界でははじめて、国と国との争いを話しあいで解決しようとする国際的な平和機関が成立しました。
- ケ 教育や科学・文化の力を通して、世界じゅうの国々や人々が、平和でゆたかな生活を実現することをめざしたものです。
- コ 1972年、スウェーデンのストックホルムで会議が開かれた時の112か国による申しあわせ事項として成立したものです。

(1)		(2)		(3)		(4)		(5)		(6)	
-----	--	-----	--	-----	--	-----	--	-----	--	-----	--

(聖光学院中)

2 次の文章を読んであとに問いに答えなさい。

国会は、(a) 二院制のしくみによって成立しています。そのうち A は、内閣の政治の方針に反対したいとき、(b) 内閣にやめてもらいたいという議案を提出することができます。この議案が可決されると、内閣は A を B して総選挙をおこなうか、総辞職するかのいずれか一方をえらんで実施しなければなりません。総選挙がおこなわれた場合、その日から C 日以内に(c) 内閣総理大臣を指名する国会が召集されます。

内閣総理大臣は国務大臣を任命しますが、その D は国会議員でなければならないというきまりがあり、これらの大臣は(d) 1府12省庁などの役所の長として、国の行政に責任をもつこととなります。このように内閣は、国会の信任をもとに成立し、国会に連帯責任を負っています。このような制度を E といいます。

国会や内閣から独立して、法律の番人の役目をするのが裁判所です。公正な裁判をおこなうために、裁判官はほかからさしずされたり、(e)限られた場合以外かってにやめさせられたりすることはなく、身分が保障されています。なお、国民の人権を守る目的で、裁判にはあやまりを防ぎ、公平をはかるための(f)制度が取り入れられています。

国の政治の基盤となる日本国憲法は、前文と11章[F]条から成っており、これに反する法律や政令、(g)地方公共団体が制定するきまりなどを作ることはできません。この憲法では、(h)基本的人権を尊重して国民に多くの権利をあたえていますが、また一方では[G]・勤労・納税という国民がはたさなければならない三大義務も定めています。

1. 文中の[A]~[G]にあてはまることばや数字を答えなさい。

2. 下線部(a)の長所を一つ答えなさい。

3. 下線部(b)を何とといいますか。

4. 下線部(c)は、つぎのどれですか。

- ア 臨時国会 イ 通常国会 ウ 緊急集会 エ 特別国会 オ 中央集会

5. 下線部(d)は、何をさしますか。

6. 下線部(e)は、つぎのどれですか。

- ア 国政調査による場合 イ 法務省の決定による場合
ウ 国民審査による場合 エ 違憲立法審査による場合

7. 下線部(f)(g)をそれぞれ何とといいますか。

8. 下線部(h)の中で、つぎの二つのものをそれぞれ何とといいますか。

- ア 国民の権利を守るために国民が要求する権利
イ 健康で文化的な最低限度の生活をする権利

1	A			B			C	D			E
	F	G									
2											
3				4	5				6		
7	f			g				8	ア	イ	

(白百合学園中学 改題)

3 次の ~ の文は、日本の歴史上で重要な法律の一部を説明しています。各文にあてはまるものを以下の語群から選び、記号で答えなさい。

- 一、新しく城を築くことを固く禁止する。また、修理するときは必ず幕府に報告すること。
- 一、大名は幕府の許可なく結婚してはならない。
- 一、皇族や豪族の土地や人民は、国が所有する。

一、戸籍を作り、人民に田を分け与えて耕作させる。

早起きをし、朝には草を刈り、昼は田畑を耕し、晩には縄をなうなど、仕事を油断無くすること。

酒や茶は飲んでではない。

一、政治は、みんなの意見を取り入れて決める。

一、身分の上下にこだわらず、みんなで心を合わせて行く。

一、世界とつきあい、新しい知識を取り入れる。

朱子学は、将軍家が代々信用して来た学問であるから、油断なく正しい教えの朱子学を学び、研究しなさい。

一、人を殺して盗みをはたらいたものは、引き回したうえで獄門。

一、十両以上盗んだ者は死罪、それより以下のお金を盗んだ者は、入れ墨をしたうえで棒でたたく。

一、放火をした者は、火あぶりの刑。

女性が養子を迎えることは、律令では許されないが、頼朝将軍のときから今日に至るまで、子のいない女性が所領を養子に与えることは武家社会の変わらぬしきたりである。

一、この日本はただ一つの血筋の天皇が、統治する。

一、天皇は神聖でおかしてはならない存在である。

一、議会は、衆議院と貴族院で構成される。

石高一万石につき、米百石の割合で幕府に納めよ。その代わりとして、江戸滞在を半年免除することとする。

一、和を貴び、争いをやめ、さからうことのないようにせよ。

一、あつく三宝を敬え。三宝とは、仏・法・僧である。

問屋たちからこれまで税金を納めさせていたが、問屋の中で不正をしているといううわさがあるので、以後、金を納めなくとも良い。ただし、問屋どうして組合や仲間を作ることも禁止する。

新しく溝や池をつくって開墾した者には、その土地を三代にわたって与え、古くなった溝や池を修理した者には、一代に限ってその土地の所有を認める。

質流れになつたり、売買した所領のことは、御家人以外の武士や庶民が買い取った土地については年数にかかわらず売り主が取り返すことができる。

けんかのことについては、どちらが良い悪いにかかわらず、両方を処罰する。他国から勝手に嫁を取ったり、婿を迎えたりすることは、今後禁止する。

一、いろいろな座の特権、座の雑税などは、すべて免除する。

一、他国からやってきてここに住み着いた商人は、前から住んでいた者とすべて同様であり、誰もさまたげてはならない。

～語群～

- ア 改新みことのりの詔 イ 三世一身さんぜいっしんの法 ウ 武家諸法度ぶけしよはつと エ 慶安おふれがきの御触書 オ 永仁の徳政令
- カ 五か条の御誓文 キ 御成敗ごせいばい式目 ク 分国法 ケ 楽市・楽座令 コ 上米の制
- サ 十七条憲法 シ 大日本帝国憲法 ス 公事方御定書くしかたおさだめがき セ 寛政異学の禁 ソ 株仲間解散令

(鎌倉学園)

4 下の文を読んで、後の問に答えなさい。

国際連合は第2次世界大戦後に世界の平和と安全を守るために、51か国が参加してつくられました。現在(1994年)、世界の国々のうち、ほとんどが加盟しています。

国際連合には世界でおこるいろいろな問題を解決するためのおもな機関がいくつかあります。世界の平和と安全のために中心となる役割を果たしている機関がこの機関で国と国との争いを平和的に解決するよう努力しています。

この機関は国連の機関の一つで、戦争や食料不足による飢えなど、きびしい暮らしをしている地域の子供たちを助ける目的でつくられました。食料や薬品を、飢えや病気で困っている子どもたちに送ったり、世界の子供たちが予防接種を受けられるようにするため、募金活動をおこなったりしています。

日本政府の援助機関で20～39歳の青年を発展途上国に派遣し、現地の人々とともに働き、産業・医療・教育などの分野で、人々の暮らしに役立つ技術や知識を伝え広める活動を行っている組織があります。このような活動は、政府だけではなく、民間の団体や個人も、世界各地でボランティア活動を行って、現地の人々と協力しています。このようにして日本は世界の国々により理解を深め合う努力をしています。

問1 下線の1994年現在世界の国は約何か国ですか。次の中から選び記号で答えなさい。

- ア 170 イ 180 ウ 190 エ 200

問2 下線のほとんどとは1994年現在約何か国ですか。次の中から選び記号で答えなさい。

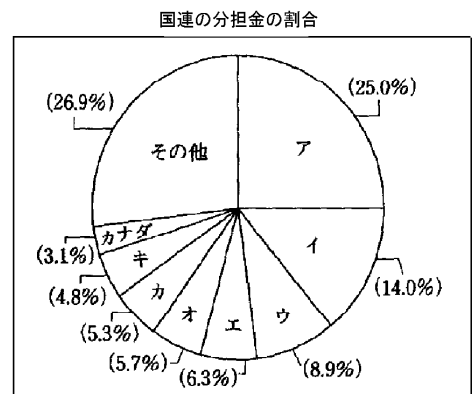
- ア 170 イ 180 ウ 190 エ 200

問3 下線のこの機関の名前は何ですか。

問4 下線のこの機関の名前は何ですか。

問5 下線 この政府の援助機関とは何ですか。

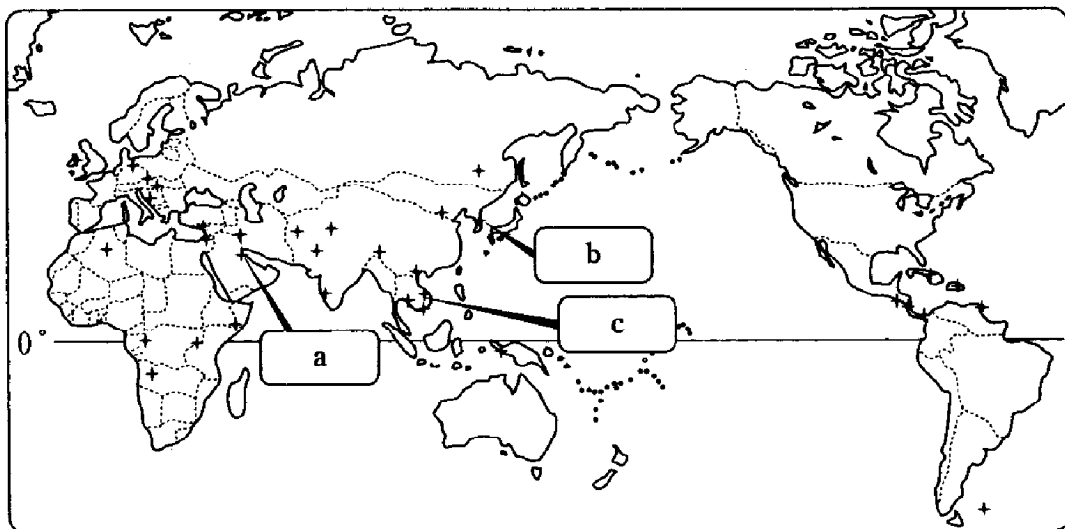
問6 右のグラフは国際連合の分担金の割合をあらわしたものです。グラフの中の日本はどれですか。記号で答えなさい。



(1995年 外務省)

問7 下の地図は第2次世界大戦後の世界でおこったおもな戦争や紛争をあらわしたものです。地図の中のa・b・cにあてはまる戦争や紛争は下のア～カのなかのどれですか。記号で答えなさい。

- ア 朝鮮戦争 イ ソマリアの紛争 ウ 湾岸戦争
 エ ベトナム戦争 オ キューバ紛争
 カ ボスニア・ヘルツェゴビナの紛争



+ ……世界の主な紛争地域

問 1		問 2		問 3		問 4	
問 5		問 6		問 7	a	b	c

(明治学園)

5 次の地図A～Fは、日本の代表的な河川とその流域を示しています。また、説明文は、A～Fの川の河口付近にある都市a～fについて述べています。これらについて、各問いに答えなさい。

(説明文)

A川の河口の都市a：河口につくられた港は遠洋漁業の基地となっており、水揚げ高では日本有数である。しょう油工業や水産加工業もさかんである。

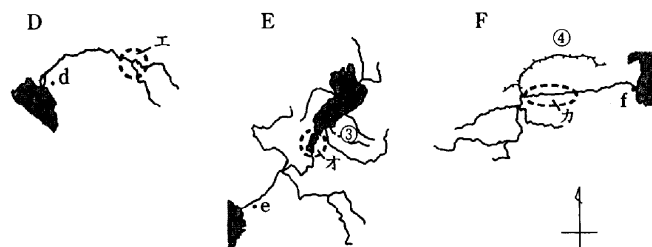
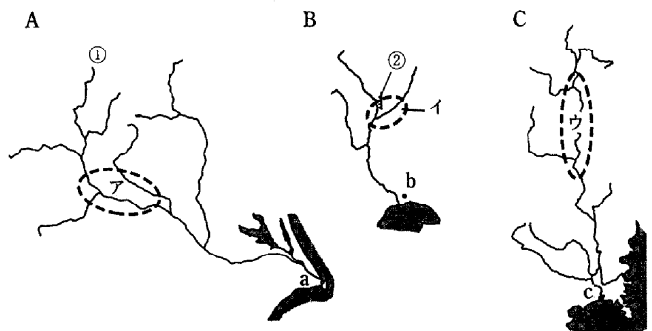
B川の河口の都市b：豊かな地下水と森林に恵まれ、明治時代からパルプ・製紙工業が発達してきたが、製紙工場からの排水によって、海岸でヘドロ公害が起きた。

C川の河口の都市c：江戸時代には米の積み出し港として栄えた。現在は遠洋漁業の基地として有名だが、水産加工業やパルプ工業もさかんである。

D川の河口の都市d：「水郷」とよばれるこの町では、かんがい用水をためておくための堀が網の目のようにはりめぐらされている。今日では、川下りなど観光資源としても利用されている。

E川の河口の都市e：江戸時代には各藩の年貢米の蔵が置かれており、いろいろな商品の取引の中心地であった。堀や運河が多く、商品を運ぶ船の出入りでにぎわっていたので、「水の都」ともよばれていた。

F川の河口の都市f：8月に行われる盆おどりはたいへん有名で、多くの観光客が集まる。周辺では、ホウレンソウやダイコンなど大都市向けの野菜の栽培がさかんである。新しい交通ルートの完成で、ますます消費地への輸送が便利になった。



・縮尺はかならずしも等しくない。

問 1 地図Aについて。

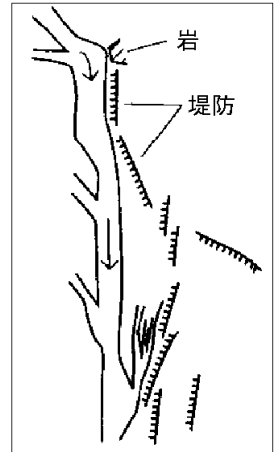
- (1) 都市aの名前を漢字で答えなさい。
- (2) はこの川の源流を示しています。この源流となっている地域をふくむ山脈あるいは山地の名前を答えなさい。

問 2 地図Bについて。

(1) この川の名前を漢字で答えなさい。

(2) 付近には、右の図で示すような堤防があります。この堤防について説明した次のア～エのなかからまちがっているものを1つ選び、記号で答えなさい。

- ア 当時の技術では堤防を切れ目なくつなぐことができず、不完全なものだった。
- イ 洪水の流れの一部を堤防の外側に一時的にためておいた。
- ウ 上流の堤防がこわれて水があふれても、下流の堤防のすきまから水が川にもどった。
- エ 水の勢いを弱めて、この川の左岸にある盆地の中心部が水害にあわないようにした。



問3 地図Cについて、この川の名前を漢字で答えなさい。

問4 地図Dについて、この川の名前を漢字で答えなさい。

問5 地図Eについて。

(1) 都市eの名前を漢字で答えなさい。

(2) 付近には、川底の方がまわりの土地よりも高い位置にある川が多く見られます。

こうした川を何というか、答えなさい。

問6 地図Fの は、この地域に農業用水などをもたらしている用水路です。何という名前ですか、答えなさい。

問7 次の(1)～(3)は、地図に示された川の中流付近に当たる()のいずれかの地域について説明したものです。

それぞれどの地域を説明したものか、ア～カのなかから1つずつ選び、記号で答えなさい。

- (1) 扇状地が多く水にとぼしいため、第二次世界大戦前は桑畑が、現在は果樹園が広がっている。
- (2) 戦前は、絹織物業がさかんだった地域だが、現在では機械や電子機器の工場が増えてきている。
- (3) 地域の水の汚れがひどくなったため、県では大きな原因であったリンをふくむ合成洗剤の使用が禁止された。

問8 川の流域では洪水が起こり、農地や住宅地などが水につかってしまうことがあります。次のア～カのなかから洪水の原因にはならないものを2つ選び、記号で答えなさい。

- ア 上流の山地で森林を伐採すること。
- イ ビルが増え、道路が舗装されること。
- ウ 上流の山地に大雪が降ること。
- エ 台風が近づいて大雨を降らせること。
- オ 水不足に備えて、ダムの水を常にいっぱいにしておくこと。
- カ 曲がった川の流れをまっすぐにかえること。

問9 人間は生きていく中でさまざまな目的に水を利用します。こうした水は、家庭や商店・事務所で使う生活用水、工場でする工業用水、田畑のかんがいなどに使う農業用水の3つに大きく分けられていて、川は重要な水源となっています。

次の表は、地域別の水使用量を示したもので、ア～エは、北海道・東北・関東・近畿のいずれかの地域を示しています。(1)東北、(2)関東を示しているものをそれぞれ選び、記号で答えなさい。

項目 地域	水使用量 (年あたりの億立方メートル)			
	生活用水	工業用水	農業用水	合計
ア	30.8	18.3	45.6	94.7
イ	6.4	12.2	43.4	62.0
ウ	56.6	24.7	87.4	168.7
エ	14.7	16.4	167.9	199.0
北陸	4.3	8.7	32.4	45.4
東海	24.3	32.2	58.0	114.5
中国	9.9	17.8	49.9	77.6
四国	5.7	9.6	23.7	39.0
九州	14.9	14.1	77.2	106.2
沖縄	1.9	0.4	0.8	3.1

(注) (1) 東北には、新潟県含む

(2) 関東には、山梨県含む

(『日本の水資源』(国土交通省のまとめ)より)

(穎明館)

問 1	(1)		(2)		問 2	(1)	川	(2)	
問 3	川		問 4	川		問 5	(1)		(2)
問 6	用水		問 7	(1)		(2)		(3)	
問 8	.		問 9	(1)		(2)			

問題演習 その7 解答

3 - 19

1

問1 あ,アフガニスタン い,ベトナム う,イラン え,イラク

問2 石油

問3 安全保障 問4 韓国

2

イスラム サウジアラビア オーストラリア

アメリカ合衆国 米 ベトナム 砂漠 難民

問1 . 地熱発電 問2 . 温室効果

問3 . 国名・南アフリカ共和国、政策・アパルトヘイト

問4 . - D - J - A - I

問5 . チェルノブイリ

3

1 第五福竜 2 ビキニ 3 山口仙二 4 ニューヨーク 5 持ちこませない

問 イギリス (フランス・中国も可)

4

1 1945年 2 国際連合 3 ソ連 (ソビエト連邦) 4 朝鮮

5 ドイツ 6 警察予備隊 7 サンフランシスコ 8 中国

9 日米安全保障 10 インドネシア

3 - 21

1

(A群・B群の順に)

(1) ケ・イ (2) ウ・キ (3) イ・カ

(4) ア・エ (5) エ・コ (6) キ・ケ

2

1 A 衆議院 B 解散 C 30 D 過半数 E 議院内閣制

F 103 G 教育

2 慎重に審議して、ものごとを決めることができる。

3 内閣不信任の決議 4 エ 5 内閣府 6 ウ

7 (f) 三審制 (g) 条例 8 ア 請求権^{せいきゅうけん} イ 生存権

3

ウ ア エ カ セ ス キ シ コ サ

ソ イ オ ク ケ

4

問1 ウ 問2 イ 問3 安全保障理事会 問4 ユニセフ

問5 青年海外協力隊 問6 イ 問7 aウ bア cエ

国連分担金 外務省サイトより

数字は、それぞれ(分担率、%)(分担金額、百万ドル)の順

	2015年		2016年		2017年	
1 米国	22.000	654.8	米国	22.000 594.0	米国	22.000 610.8
2 日本	10.833	294.0	日本	9.680 237.0	日本	9.680 244.2
3 ドイツ	7.141	193.8	中国	7.921 193.9	中国	7.921 199.8
4 フランス	5.593	151.8	ドイツ	6.389 156.4	ドイツ	6.389 161.1
5 英国	5.179	140.5	フランス	4.859 119.0	フランス	4.859 122.6

5

- 問1 (1)銚子ちょうし (2)越後(山脈) 問2 (1)富士(川) (2)ア
問3 北上(川) 問4 筑後(川) 問5 (1)大阪 (2)天井川てんじょうがわ
問6 香川(用水) 問7 (1)イ (2)ア (3)オ
問8 オ・カ 問9 (1)エ (2)ウ