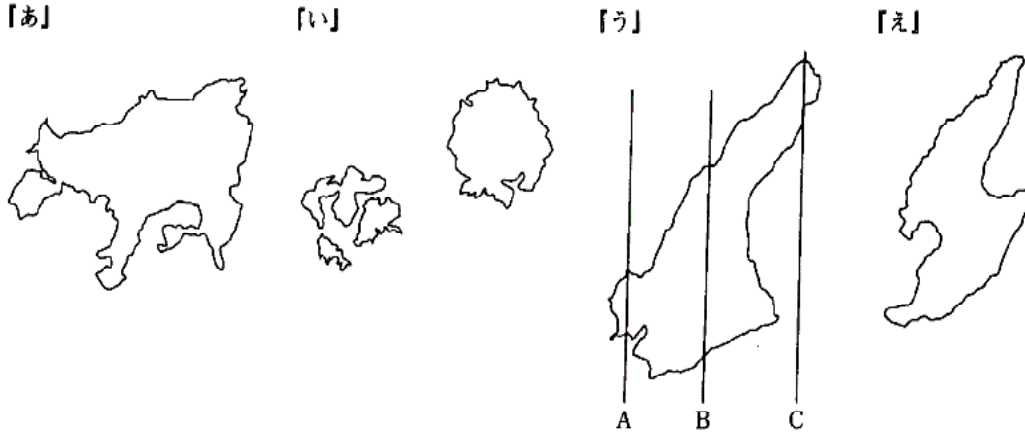


入試問題演習 その3

3 - 7

1 日本のある島（方位は真上が真北，縮尺はそれぞれ違います）を表した次の図を見て，問いに答えなさい。



- 問1 『あ』～『え』のそれぞれの島々が属している都道府県名を答えなさい。
- 問2 『あ』の島では，ヨーロッパの地中海に似て暖かい気候で台風の被害も少ないことから，日本ではめずらしい作物の栽培が行われています。その作物として，正しい記号をア～エから一つ選びなさい。
ア オリーブ イ グレープフルーツ ウ 小麦 エ さとうきび
- 問3 『あ』の島では，江戸時代から大豆を原料にした伝統工業が発達しています。しかし現在，その製造の中心は関東地方に移ってしまいました。その製造品として，正しい記号をア～エから一つ選びなさい。
ア とうふ イ みそ ウ しょうゆ エ 食用油
- 問4 『い』の島々の北西の方角には，現在外国との間で領土問題が起きている島があります。その島として，正しい記号をア～エから一つ選びなさい。
ア 歯舞諸島^{はばまい} イ 竹島 ウ 尖閣諸島^{せんかく} エ 沖ノ島^{おき}
- 問5 『い』の島々は，かつて流刑地として罪人を追放する場所にされていました。この島に追放された人物として，正しい記号をア～エから一つ選びなさい。
ア 後醍醐天皇^{ごだいご} イ 日蓮^{にちれん} ウ 世阿弥^{ぜあみ} エ 順徳天皇^{じゆんとく}
- 問6 『う』の島には，日本の標準時を決めるための経線が通っています。その線の位置として，正しい記号をA～Cから一つ選びなさい。
- 問7 『え』の島では古くから金の採掘が行われていました。金の採掘^{さいくつ}は大変な重労働で，金山で働く^{さいくつ}と3年から5年ぐらいいしか命が持ちませんでした。このような金山で働いていた人々の説明として，正しい文をア～エから一つ選びなさい。
ア 金を自分の国に持ち帰ろうとして密入国したロシア人。
イ 金を掘り当てて，一攫千金^{いっかくせんきん}をねらい全国から集まってきた浪人^{ろうにん}。
ウ 家や仕事をもたないということで捕えられた無宿人^{むしゆく}。
エ この島を治めていた幕府の役人。

問1	あ		い		う		え	
問2		問3		問4		問5		問6
問7								

(多摩大聖ヶ丘)

問2				a		b			

問3								問4	

(清泉女学院)

3 次の文は北海道の歩みについて説明したものです。問いに答えなさい。

今、私たちが使っている北海道という名前は、1869年につけられたもので、それまでは蝦夷ヶ島えぞがしまや蝦夷地えぞち、あるいは蝦夷えぞなどと呼ばれていました。

鎌倉時代ごろになると、本州からやってきた人々がこの地に移り住むようになり、アイヌの人々と本州からの人々との間には関わりも生まれていました。室町時代には 遠く離れた地域との取り引きも活発になり、北の海の産物が京都などにももたらされました。江戸時代にはいと、藩は、アイヌとの交易を独占することが保障されました。藩では米がとれなかったので、家臣は限られた地域でアイヌと交易する権利を分け与えられました。しかし、交易だけで満足できなかった彼らは、次第にアイヌの漁場をおびやかすようになりました。これに対し、シャクシャインはアイヌの人々を率いて立ち上がりましたが、まもなくこの戦いはしずめられていきました。

江戸時代も半ばを過ぎると、外国との関係に緊張が高まり、北方の地域の調査に力が注がれました。また、幕末に結ばれた日米和親条約では、下田しもだとならんでが開港され、にぎわいを見せるようになりました。その後、の五稜郭ごりょうかくにおいて、幕府軍との戦いに勝利した明治政府は、本格的に北海道の開拓を進め、札幌農学校を設立して農業の改良や生産の発展にも努めました。しかし、こうした明治期の近代化は、一方でアイヌの人々の生活を変化させていくことにもつながりました。

問1 文中の・に当てはまる語句を答えなさい。

問2 下線 について、取り引きが活発になるのにもなって、各地で定期的にかかれたものは何ですか。正しいものを下から1つ選び番号で答えなさい。

- 1 五人組 2 高利貸 3 市 4 寺子屋

問3 下線 について、アイヌとの交易でもたらされたものとして誤っているものを下から1つ選び番号で答えなさい。

- 1 こんぶ 2 さつまいも 3 鮭 4 毛皮

問4 下線 について、幕府の命令で海岸線を中心に全国を測量して歩き、たいへん正確な地図をつくった人物はだれですか。あてはまるものを下から1つ選び番号で答えなさい。

- 1 本居宣長 2 高野長英 3 前野良沢 4 伊能忠敬

問5 下線 について、明治政府が行った北海道開拓の内容として誤っているものを下から1つ選び番号で答えなさい。

- 1 貧しい農民らを北海道に送り、原野の開拓に取り組みせました。
 2 特権を失って没落していく士族が開拓に動員されました。
 3 北海道の開発と経営の行政機関として、まず、北海道庁が置かれました。
 4 屯田兵は北海道の開拓とロシアに対する警備にあたりました。

問6 下線 について、この学校に学び、後に国際連盟の事務局次長として国際平和のために活躍した人物はだれですか。あてはまるものを下から1つ選び番号で答えなさい。

- 1 田中正造 2 新渡戸稲造 3 福沢諭吉 4 北里柴三郎

問7 下線 について、当時のアイヌの人々のようすを表す文章として誤っているものを下から1つ選び番号で答えなさい。

- 1 政府はアイヌの人々の狩りや漁業の場所を制限し、土地を取り上げました。

- 2 アイヌの人々の身分は平民とされました。
- 3 様々な差別に苦しんできたアイヌの人々は、全国水平社を起こして差別をなくす運動に取り組みました。
- 4 アイヌの人々は日本語を使うことや日本式の名前を名のることを強制されました。

問 1	A		B		問 2		問 3	
問 4		問 5		問 6		問 7		



(聖ヨゼフ)

3 - 8

1 次のマンガとその説明文を読んで、あとの問いに答えなさい。

[1 の説明文]

1886 (明治19)年10月下旬、イギリスの貨物船であるノルマントン号が、紀伊半島の沖で沈没しました。この船には日本人の乗客約20人が乗



っていましたが、イギリス人の船長や船員は助かったのに、日本人の乗客は助けられず、一人残らず死んでしまいました。このとき、船長の責任が問われましたが、当時イギリスとの間に結ばれていた条約のために、船長は裁判で無罪となりました。この事件をきっかけとして、日本の国民の間には、この不平等な条約を改めよ、という世論が高まりました。

[2 の説明文]

江戸幕府がたおれ、明治の新しい世の中になってから政治をうごかしたのは 一部の上等役人たちでした。そのために、「今の国の政治は一部の役人たちでおこなわれているが、本当は多くの国民によっておこなわれなくてはならない。そのためには国会を開き、国民が選んだ議員によって政治をおこなうようにすべきである。」という 意見書が1874 (明治7) 年に出されました。その後 国会をつくれという声が全国に広がりました。

[3 の説明文]

このマンガは明治時代におこったある戦争を風刺したものです。左側が日本です。右側は日本と戦った国です。おたがいに あるもの = ある国を手に入れようとして争ったのでした。それを釣りであらわしています。また、そのゆくえを中央のある国が見まもっています。

問1 下線部 について、この条約の名前を次から選び、その記号を書きなさい。

- ア 日英和親条約 イ 日英通商修好条約 ウ 日英平和条約 エ 日英修好通商条約
オ 日英修好条約 カ 日英通商航海条約 キ 日英通商航海条約

問2 下線部 について、この条約と同じ内容のものがイギリスのほかに4か国と結ばれました。この5か国と条約を結んだ当時の日本の政治責任者を選び、その記号を書きなさい。

- ア 勝海舟 イ 西郷隆盛 ウ 井伊直弼 エ 徳川慶喜 オ 水野忠邦
カ 坂本龍馬 キ 徳川吉宗

問3 下線部 について、この条約が結ばれてから日本とイギリスとは貿易を開始しましたが、日本の輸出品のなかでいちばん多かったものはなんですか。次から1つ選び、その記号を書きなさい。

- ア 毛織物 イ 綿糸 ウ 生糸 エ 海産物 オ 茶 カ 武器・船舶 キ 絹織物

- 問4 下線部 について、「この条約を改めよ」と世論が高まったのは、この条約がどのような点で不平等だったからですか。その理由を次から2つ選び、その記号を書きなさい。
- ア この条約では、外国人が日本人に対して罪をおかした場合、どんな罪でも無罪になると決められていたため。
 イ この条約では、外国人が日本人に対して罪をおかした場合、日本ではなくその国の領事が裁判する、と決められていたため。
 ウ この条約では、日本が輸出入する品物の税金(関税)はアメリカと相談して決めることになっており、日本がかってに決めることができなかったため。
 エ この条約では、外国人が日本へ来ることはゆるさされていても、日本人が外国へ行くことは禁じられていたため。
 オ この条約では、日本は毎年決められた分だけ外国から輸入をしなければならなかったため。
- 問5 下線部 について、この条約が完全に改められたのはいつですか。次から選び、その記号を書きなさい。
- ア．日清戦争以前 イ．日清戦争以後から日露戦争以前のあいだ
 ウ．日露戦争以後から第一次世界大戦以前のあいだ エ．第一次世界大戦以後
- 問6 下線部 について、明治の新しい政府で政治をうごかした上級役人は、おもにどこの出身の人たちでしたか。次から2つ選び、その記号を書きなさい。
- ア．旧薩摩藩士 イ．旧小田原藩士 ウ．旧会津藩士 エ．朝廷の公家
 オ．旧肥前藩士 カ．旧長州藩士 キ．旧幕府家臣
- 問7 下線部 について、この意見書を出した人はだれですか。次から選び、その記号を書きなさい。
- ア．西郷隆盛 イ．大久保利通 ウ．木戸孝允 エ．植木枝盛 オ．板垣退助
 カ．福沢諭吉 キ．伊藤博文 ク．大隈重信
- 問8 下線部 について、この当時のようすを説明した文として、まちがっているものを1つ選び、その記号を書きなさい。
- ア．国会開設の運動をすすめる団体が全国各地につくられ、演説会を開いたり、新聞を発行するなどして、国会の開設がとなえられました。
 イ．秩父の農民たちは自由民権の政府をつくろうとして、数千人もの人たちがたちあがって役所を占領し、東京へせめのぼろうとしました。
 ウ．これまでの特権をうばわれた士族は、一部の役人たちによる政治をあらためようとして、各地で反乱をおこしました。
 エ．政府はこの国会を開設しようとする運動に積極的で、演説会や新聞の発行をさかんにおこなうようによびかけました。
 オ．国会を開設しようとする運動がさかんになったのは、明治になって外国の学問や知識などがさかんに紹介されたからです。
- 問9 下線部 について、日本に国会がつくられたのはいつですか。次から選び、その記号を書きなさい。
- ア．日清戦争以前 イ．日清戦争以後から日露戦争以前のあいだ
 ウ．日露戦争以後から第一次世界大戦以前のあいだ エ．第一次世界大戦以後
- 問10 下線部 について、この戦争で日本とその相手国はどこの国を手に入れようと争ったのですか。次から選び、その記号を書きなさい。
- ア．ロシア イ．清 ウ．台湾 エ．朝鮮 オ．ドイツ
- 問11 下線部 について、ある国とはどこの国のことですか。次から選び、その記号を書きなさい。
- ア．ロシア イ．清 ウ．台湾 エ．朝鮮 オ．ドイツ
- 問12 下線部 について、この戦争に日本は勝ち、遼東半島を手に入れることができましたが、下線部 の国がドイツ・フランスとともにこれを返すようにせまりました。これをなんといいますか。次から選び、その記号を書きなさい。
- ア．三国批判 イ．三国協力 ウ．三国連盟 エ．三国同盟 オ．三国干渉

問1		問2		問3		問4		問5		問6	
問7		問8		問9		問10		問11		問12	

2 次の文章を読み、問いに答えなさい。

日本は国土の約4分の3が山地のいわゆる「山国」で、また四方を海に囲まれた「島国」でもある。

そのため、日本の川の特徴は大陸と比べて、A「流れが急」で「距離が短い」ことがあげられる。

わが国で最も長い()川も、世界最長のアフリカの()川の約18分の1にすぎない。

四季がはっきりしている日本において、急な斜面しゃめんを流れ下る川は、しばしば洪水を引き起こし、大きな被害をもたらすが、同時に私たちに大きな恵みも与えている。

多くの川の中で、広い平野を貫いて流れる3つの川を特に人々は古くからB「坂東太郎」ばんどう、「筑紫二郎」つくし、「四国三郎」と、親しみをこめて呼んできた。

私たちは日本の川の特徴をうまく利用し、生活のさまざまな分野で役立てている。

たとえば、川をせきとめ()を建設し()発電を行っていることはよく知られている。

この他、農業用水やC飲料水として、さらにD魚介類ぎょかいりいの養しょくにも利用されている。

また、水がきれい景色が良いところは、E観光地として有名になり、地域の発展につながっていることも忘れてはならない。

しかし生活が豊かになった現在、いかにして自然を守り、本来の川の姿を保ってゆくかが21世紀の課題であるといえよう。

問1 文中の空欄にもっともふさわしい語句を答えなさい。(と は漢字で答えること)

問2 下線Aについて、「日本の3急流」といわれている最上川・富士川・球磨川の河口はそれぞれ何県か、漢字で答えなさい。

問3 下線部Bについて、それぞれの川の名称を漢字で答えなさい。

問4 下線Cについて、近畿地方の飲料水として大切な役割を果たしている淀川の水源地となっている湖の名称を漢字で答えなさい。

問5 下線Dについて、次にあげた魚介類の中で淡水で養しょくしているものを2つ選び記号で答えなさい。

ア はまち イ ひめます ウ のり エ かき オ ほたてがい カ あゆ キ あさり

問6 下線Eについて、次の観光地はどの川と関係が深いか、下にあげた川の中から選び記号で答えなさい。

観光地 屈斜路湖くっしゃろ 十和田湖 京都嵐山

河川名 ア 四万十川 イ 天竜川 ウ 奥入瀬川 エ 熊野川 オ 相模川 カ 釧路川
キ 保津川 ク 北上川 ケ 石狩川 コ 黒部川

問1									
問2	最上川			富士川			球磨川		
問3	坂東太郎			筑紫次郎			四国三郎		
問4			湖	問5					
問6	屈斜路湖		十和田湖			京都嵐山			

1 次のA～Gの各問いに答えなさい。

A 加曾利貝づかは、縄文時代のものです。次のアイウの中からその時代の説明として正しい文章を1つ選びなさい。

ア 青銅器、鉄器が伝らいして、生産力は大いに向上した。また、稲作の伝らにより、このころより、有力者も出現した。土器の製法では、ろくろがつかわれ、たくさん作れるようになり、文様も幾何学的なものが多くなった。

イ 円墳や前方後円墳といった巨大な古墳が出現し、地方で力をもった支配者たちが力をほこるようになった。土器は須恵器、土師器が多くつかわれるようになった。

ウ 人々は、共同で生活し、えものは平等に分けあっていた。住居は、たてあなに草ぶきの屋根をかぶせたかんたんなものだった。赤茶色の土器が使用され、また、骨で作られた道具や石器も使われた。

B 源頼朝は鎌倉に幕府を開き、武士による政治のきそをつくりました。その時代のことと、もっとも関係のあるものを次のアイウエのうちから1つ選びなさい。

ア 元寇 イ 山城の国一揆 ウ 応仁の乱 エ 遣唐使

C 石岡市には常陸国府跡がある。大化の改新後の時代において、国府の長官として中央から派遣された役人をなんとよんだのか答えなさい。

D 1945(昭和20)年3月10日未明、東京は大空襲にみまわれ、大きな被害をうけた。死亡者数として今日、公表されているものを下記のアイウエより1つ選びなさい。

ア 約1千人 イ 約5万人 ウ 約10万人 エ 約50万人

E 現在の日光東照宮は、徳川3代将軍家光のときにたてられたものである。江戸時代に、江戸から日光まで五街道の1つがつくられていたが、その街道名をいいなさい。

F 岩宿遺跡の発見によって、日本の歴史の常識が大きくぬりかえられたといわれる。どのように変わったのか、下記のアイ・ウの説明文から正しいものを1つ選びなさい。

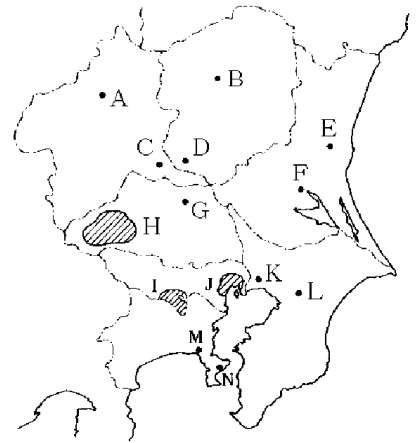
ア この遺跡の発掘によって、大和朝廷の力がこの東国にもおよんでいたことがわかり、きびしい支配をしていたことがはっきりした。

イ 関東ローム層とよばれる赤土の中から発見された黒曜石の石器によって、20万年も前から、日本列島に人々が住んでいたことが明らかになった。

ウ この発見によって、古代のアイヌ文化のようすが明らかになり、当時の社会のしくみも想像できるようになった。

G 1884年、秩父地方でおこったこの秩父事件は、農民達を中心となり、「借金を返すのを延期しろ」、「地方税をへらせ」などと要求して、高利貸や郡役所、警察署をおそったものでした。この事件と密接な関係にある事項を下記のアイ・ウ・エより1つ選びなさい。

ア 米騒動 イ 天明の大ききん ウ 自由民権運動 エ 普通選挙運動



A		B		C		D		E		F		G	
---	--	---	--	---	--	---	--	---	--	---	--	---	--

<質問> C～Gの文章にもっとも関連する地域や都市を上記の地図中から記号で選びなさい。

<質問解答らん>

文の記号	C	D	E	F	G
地図上の記号					

(明大明治)

2 日本と朝鮮との歴史上のかかわりについてのべた文として正しいものを、つぎのイからニまでの中から一つ選び、さらにその正しい文のなかの下線部のところにおこったことがらを、下の から までの中から一つ選び、それぞれ記号と数字で書きなさい。

イ 豊臣秀吉は、宋(中国)を征服しようとして、朝鮮に二度の大軍をおくったが、朝鮮の人びとや宋の援軍の抵抗を受けて、失敗に終わった。

ロ 徳川家康のときに日本と朝鮮との間の国交が回復し、家光のときからは将軍がかわるごとに朝鮮から使節団が来るようになった。

ハ 日清・日露の両戦争ののち、韓国への支配を強めた日本は、三・一運動などの民衆の抵抗を武力でおさえ、韓国を併合して日本の植民地にした。

ニ 1948年、朝鮮半島の南部に大韓民国が、北部に朝鮮民主主義人民共和国が成立し、日本からの独立をはたした。

一向一揆がさかんとした

日本でキリスト教が禁止された

ロシア革命がおこなわれた

中華人民共和国が生まれた

モンゴル人が中国を支配して、国号を元と定めた

日本人が海外に出かけたり、海外にいる日本人の帰国を禁止した

第一次世界大戦が始まった

朝鮮戦争が始まった

記号		数字	
----	--	----	--

(筑波大付属駒場)

3 くらしの移りかわりについて、次の問いに記号で答えなさい。

問1 ア～カの記事と関係のあるものを語群から選びなさい。

ア 領地が見わたせる小高いおかや、交通の便利な土地を選んでやかたを建て、周りには板のへいが立てられ、ほりがめぐらされていて、門の上には物見やぐらがある。

イ 長安のおよそ4分の1くらいの大きさの都には、寺や丹ぬりの丸柱や青いかわらの貴族の邸宅が建ちならび、東大寺の倉には天皇の愛用品や宝物が保存されていた。

ウ 大阪の町には問屋がたちならび、全国の産物が送りこまれ、川岸には領地から船で送られてきた年貢米をおさめておく、白かべの倉庫が軒をならべていた。

エ 都の貴族は美しい庭をとり入れた屋敷に住み、かべが少なく、御簾や壁代で家の中をしきっていた。貴族は歌をよみ、音楽をかなで四季の遊びを楽しんだ。

オ 安倍川の水が自然にたまる低い地方の周りに人びとは住み、米をたくわえる倉庫を建て、玄米をむして食べる道具を使ってくらししていた。

カ 東求堂の内部には明障子がとりつけられ、床の間には水墨画のかけじくをかけ、その絵を楽しんだ。

語群 A. 蔵屋敷 B. 高床の造 C. 書院造 D. 武家造 E. 寝殿造 F. 校倉造

問2 ア～カの記事を時代の古い順にならべるとするとどうなりますか。次の1～4から正しい答えを1つ選びなさい。

1. ア-カ-オ-エ-ウ-イ 2. オ-イ-エ-ア-カ-ウ
3. イ-オ-ウ-エ-ア-カ 4. オ-エ-イ-ア-ウ-カ

問1	ア		イ		ウ		エ		オ		カ
問2											

(立教女学院)

問題演習 その3 解答

3 - 7

1

問1 あ 香川県 い 島根県 う 兵庫県 え 新潟県

問2 ア 問3 ウ 問4 イ 問5 ア 問6 C 問7 ウ

2

問1 D F B A C E A

問2 長安 a A b 鑑真 C 台湾

北条時宗、恩賞が与えられずご家人の不満が高まった。

書院造り 渡辺華山（高野長英）

問3 E B D F

問4（順に）B・F・D・C・E・A

3

問1 A 松前 B 函館 問2 3 問3 2 問4 4 問5 3

問6 2 問7 3

3 - 8

1

問1 エ 問2 ウ 問3 ウ 問4 イ、ウ 問5 ウ 問6 ア、カ

問7 オ 問8 エ 問9 ア 問10 エ 問11 ア 問12 オ

2

問1 信濃 ナイル ダム 水力

問2（最上川）山形県（富士川）静岡県（球磨川）熊本県

問3（板東太郎）利根川（筑紫次郎）筑後川（四国三郎）吉野川

問4 琵琶湖 問5 イ、カ

問6（屈斜路湖）カ（十和田湖）ウ（京都嵐山）キ

3 - 9

1

A,ウ B,ア C,国司(国守) D,ウ E,日光街道

F,イ G,ウ

[質問]

文の記号	C	D	E	F	G
地図上の記号	F	J	B	C	H

2

（記号） □ （数字）

3

問1 ア, D イ, F ウ, A エ, E オ, B カ, C

問2 2