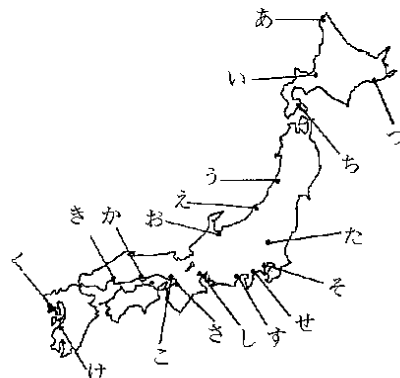


入試問題演習 その1

3 - 1

① 次の1～10にあてはまる地名を下のア～ナから、また、その位置を地図から選んで記号で答えなさい。

1. ロシア、中国などとの貿易が活発になったこの町は、新幹線が開通し、首都圏とも短時間で結ばれるようになった。
2. まずしい漁村であったこの地は、開国後、貿易がはじまると、主に生糸を輸出する貿易港となり、大きな町に発展した。
3. この町は、広大な地方の開拓の拠点として発達してきたが、近年は港町としての役割が減りつつある。
4. 地面に柱をたててつくった住居や高床式の倉庫、水田のあとのほか、多くの木製農具がこの地で発見された。
5. 不知火海に面するこの町は、大きな公害病が発生したところで、現在もなお後遺症になやむ患者がいる。
6. 明との貿易などで栄えたこの町は、大商人が自治をおこない、鉄砲の製法も早い時期に伝わった。
7. この地の銅山から出た鉱毒が渡良瀬川に流れこみ、下流の地域に大きな被害をあたえた。
8. ドイツ人の医者シーボルトがこの地に塾を開き、日本人に医学や自然科学などを教えた。
9. 城下町として発達し、全国的に有名な庭園のあるこの町は、四国へわたる連絡橋の本土側の拠点である。
10. '89年、国立公園に指定された湿原を背後にもつこの町は、漁業の根拠地として水揚げ量も多く、夏に霧が多く発生することで有名である。



- ア. 足尾 イ. 岩宿 ウ. 岡山 エ. 小田原 オ. 帯広 カ. 釧路 キ. 神戸 ク. 堺
 ケ. 札幌 コ. 島原 サ. 下田 シ. 富山 ス. 登呂 セ. 長崎 ソ. 新潟 タ. 函館
 チ. 広島 ツ. 水俣 テ. 横浜 ト. 四日市 ナ. 稚内

	1	2	3	4	5	6	7	8	9	10
地名										
位置										

(慶応普通部)

② 次の各文には、それぞれ1か所ずつ下線部分に誤りがあります。それを番号で指摘し、訂正しなさい。

- A. 登呂遺跡は、日本に先土器文化が存在したことを示す貴重な遺跡の一つで、相沢忠洋氏によって1949年に発見された。
- B. 「魏志」の倭人伝によれば、紀元3世紀頃の日本は、約30の小国家を従えた大和朝廷があり、女王卑弥呼が支配していた。
- C. 中臣鎌足は、中大兄皇子(のちの天武天皇)らと大化の改新を実現し、のちに「大織冠」という一番高い位と「藤原」という姓を与えられた。
- D. 奈良の都平城京は、元明天皇のとき、唐の長安にならってつくられたもので、794年以後7代70年あまり、日本の都となった。
- E. 唐から帰国した空海は、高野山に金剛峯(峰)寺を建てて天台宗を広めた。
- F. 鎌倉幕府のしくみは、中央では御家人の統制を行う侍所と一般政務を行う公文所(のちの政所)、訴訟の受付・裁判を行う町奉行の3つがあった。
- G. 室町幕府3代将軍足利義満は、明との貿易を始めたが、その貿易では糸割符が用いられたので勘合貿易ともよば

れている。

H . 日本にキリスト教がはいつたのは、 1549年のことで、イエズス会の フランシスコ=ザビエルが 種子島に来たことにはじまる。

I . 徳川家康は、豊臣氏をもりたてようとする 石田三成ら諸大名を 関ヶ原の戦いで破り、 1605年、征夷大將軍に任ぜられて江戸幕府を開いた。

J . 徳川綱吉は、 上米の制の実施や 目安箱の設置など享保の改革を行った。

A		B		C		D		E	
F		G		H		I		J	

(市川中学校)

③ 次の文を読んで、下線部の問いに答えなさい。

(1) 平氏をたおした源頼朝は、鎌倉を本拠地とし、地方には守護・(2)地頭をおき、(3)()年には征夷大將軍に任命された。

こうして、武家政治がはじまった。頼朝の死後、幕府の実権は(4)執権の北条氏に移った。幕府は承久の乱で武士の力を強めたが、(5)元寇をきっかけとしておとろえた。

(1) 源頼朝は、弟の義経らと平氏を西に追い、1185年(文治元年)に、ついに平氏一族を滅ぼした。その時の戦いを次の各戦いの名より選び、番号で答えなさい。

- 1 . 富士川の戦い 2 . 一の谷の戦い 3 . 屋島の戦い 4 . 壇の浦の戦い

(2) 『地頭』とは、次の各説明文のうちどれか、番号で答えなさい。

- 1 . 一般の政治の事務をおこなう。
- 2 . 武士の取り締まりや警察の仕事をおこなう。
- 3 . うったえごとや裁判をつかさどる。
- 4 . 年貢のとりたてと土地の管理をする。

(3) 源頼朝が、朝廷より征夷大將軍に任命されたのは何年か、次の各年号より選び、番号で答えなさい。

- 1 . 1159年 2 . 1167年 3 . 1192年 4 . 1221年

(4) 幕府の政治は、執権の位についていた北条氏がおこなったが、『執権』とは次の各説明文のうちどれか、番号で答えなさい。

- 1 . 武士のかしらとして、政権をにぎる者に与えられた名。
- 2 . 上皇の御所である院にて政治の実権をにぎる。
- 3 . 將軍のもとに、若年寄りなどの役職もあいて幕府の政治の実権をにぎる。
- 4 . 將軍を助けるという地位につき、幕府の政治の実権をにぎる。

(5) 13世紀の後半、執権北条時宗の時、元の大軍が2度九州北部にせめよせてきたが、この戦いの内容について、次の各文の中で、あやまりのある文を番号で答えなさい。

- 1 . 武士たちは元軍の集団戦法や火薬兵器に苦しみながらも、よく戦った。
- 2 . 前もって海岸に築いておいた石がきで敵をふせいだり、小船に乗ったりして、よく戦った。
- 3 . 元軍は、2度とも暴風雨にあい、大損害をうけてしりぞいた。
- 4 . 出陣した武士たちは、ほうびとして幕府から新しい領地をもらい、幕府と武士との間の信頼はますます固まった。

(1)	(2)	(3)	(4)	(5)

(日大第一)

4 次の各問いに答えなさい。

- 1 登呂の遺跡^{いせき}にみられるように、弥生時代^{やよい}に米をたくわえた倉庫の建て方を何といいますか。
- 2 唐の僧、鑑真^{がんじん}は弟子たちの反対をおしきって日本にわたり、奈良に寺院を建て、寺院や僧の制度をととのえました。建てた寺院名を何といいますか。
- 3 平清盛は瀬戸内海路の発展をはかり、その守り神としてこの神社を信仰^{しんこう}しました。この神社を何といいますか。
- 4 足利義満は諸国の守護をおさえ、力を思うままにふるいました。京都の北山に建てたこの建物はその勢いを示していますが、この建物を何といいますか。
- 5 織田信長^{そうだい}は壮大な天守閣のついた城を築き、その勢いを天下に示しました。この城を何といいますか。

1	2	3	4	5

(駒場東邦)

3 - 2

1 つぎの [] 内の文章を読んで、あとの1から3までの各問いに答えなさい。

歴史の勉強は、年代や人名あるいは事件名などを丸暗記することではない。大切なことは、日本のこれまでの歩を知ることによって、これからの社会をどう築いていったらいいかを考えることである。過去において「神話」を事実として教えたり、支配者にとって都合のいいように歴史を書いたりしたこともあった。しかし今日の私たちは、過去の事実を明らかにしていきながら、科学的にものごとを見る目を養っていく必要がある。

そのためには、まず歴史の事実、どのようにして明らかになってきたかを考えてみよう。まだ文字のない時代、あるいは書かれたものの少ない時代については、主に遺物^{いぶつ}や遺跡^{いせき}で調べるしかなかった。文字の使用が広まることで、書かれたものを中心に調べられるようになったのである。その場合でもそのまま信ずるのではなく、だれが、なぜ、それを書いたかを考えながら事実を明らかにしていかなければならない。それは今日のできごとにもあてはまる。しかし、古い時代においては、文字を用いるのは多くが支配者の側であって、民衆の側が書物として書き残すことはたいへんまれであるから、民衆の生活や当時の姿を知るには、文字で書かれたものばかりではなく、それ以外のものにも目を配る必要がある。

こうして、いろいろな方法で私たちは過去のことを調べ、そこからさまざまなことを学んでいくのである。

1. 下線部 以外の方法でわかったことがらを、次のイからニまでの中から一つ選び、その記号を書きなさい。
イ 3世紀の日本には邪馬台国^{やまたい}という国があり、小国をしたがえていた。
ロ 今から1800年ほど前、登呂^{とろ}では米づくりがおこなわれていた。
ハ 4世紀、西日本を中心に、前方後円墳^{せんぽうこうえんふん}という大きな墓をつくらせる実力者がたくさんいた。
ニ 今から1万年以上も前から、日本列島には人が住んでいた。
2. 下線部 に関連してのべた次のイからニまでの中から、正しくないものの一つを選び、その記号を書きなさい。
イ 8世紀になると、「古事記」「日本書紀」という日本最古の歴史書がつくられ、今日まで伝わっているが、神話がふくまれており、そのままでは歴史の事実と考えるわけにはいかない。
ロ 平安時代になると、漢字からかなが発明され、まず男性のあいだで使われるようになり、自分の気持ちや考えを自由に書きあらわすことができるようになった。
ハ 漢字は中国でつくられ、5世紀ころ、朝鮮半島から日本列島へ渡ってきた人びとによって日本に伝えられてきた。
ニ 太平洋戦争のとき、新聞は、政府や軍部の発表をそのままのせ、日本軍が負けそうな事実は国民に知らせなかった。
3. 下線部 に関連してのべた次のイからニまでの中から、正しくないものの一つを選び、その記号を書きなさい。

- イ 平城京の跡を発掘して、荷札として使われていた木簡(木の札)が大量に見つかったことにより、奈良時代、人びとが都へ運んだ各地の産物がよくわかるようになった。
- ロ 「風土記」には、天皇や貴族の歌ばかりでなく、農民や故郷をはなれて九州の守りについた防人の歌も集められている。
- ハ 室町時代後半、京都の祇園祭りははじめ各地で祭りや盆おどりがさかんになったようすは、絵巻物によくあらわれている。
- ニ 江戸時代になると、町人や農民のこどもの中にも寺子屋に通い、読み・書き・そろばんなどの勉強をする人がふえ、民衆のなかにも文字を使うことが広まった。

1	2	3
---	---	---

(筑波大付属駒場)

2 次の問いに答えなさい。

- 問1 弥生時代の後半から、北九州や島根・岡山・奈良などに地方豪族が多数出現し、とくに奈良(大和地方)では有力豪族の下に多くの人々が集結しました。その後この豪族たちは各地に進出を始め、5世紀には、豪族を代表する「大王」が、北九州から関東地方におよぶ広大な地域を支配するようになりました。この古墳時代について書かれた次のア～エの文の中で、誤っているものはどれですか。一つ選び、記号で答えなさい。
- ア 古墳時代に政治の中心となった「大王」は、その後「天皇」と呼ばれるようになりました。
- イ 埼玉県の稲荷山古墳から出土した銅剣には、「ワカタケル大王」という文字が刻まれていました。
- ウ 大阪府堺市にある大山古墳や羽曳野市にある誉田山古墳は、日本最大級の前方後円墳です。
- エ 豪族たちは「大王」から姓が与えられ、また国造などに任じられて地方を支配しました。
- 問2 710年、現在の奈良市に、中国の唐の都長安(現在の西安)を手本にして、平城京と呼ばれる都が建設されました。この平城京の中はごぼんの目のように道路が整備され、貴族の屋敷や民衆の家々が立ち並び、人口も時に20万人に達したと言われています。この平城京に朝廷が置かれていた約70年間の時代について書かれた次のア～エの文の中で、正しいものはどれですか。一つ選び、記号で答えなさい
- ア 奈良時代の農民の多くは、まだ、たて穴住居に住んでいました。
- イ 聖武天皇は仏教の力で国を守るため、各地に東大寺を建立しました。
- ウ 東大寺の大仏は、阿倍仲麻呂の指揮の下に完成されました。
- エ 奈良時代には、朝廷の支配が北海道までおよぶようになりました。
- 問3 10世紀になると、地方の豪族たちは開墾した土地を私有にし、それを都の貴族や寺社に寄進して彼らに仕えるようになりました。こうして貴族や寺社は私有地(荘園)を増やす一方、彼らの保護を受けた地方豪族たちは、その荘園の管理を都の貴族から任されることで、その土地を支配するになりました。このような10～11世紀にかけての時代について書かれた次のア～エの文の中で、誤っているものはどれですか。一つ選び、記号で答えなさい。
- ア 10世紀になると、班田収授法はまったくおこなれなくなってしまいました。
- イ 菅原道真は藤原氏によって、右大臣の地位を追われてしまいました。
- ウ 女流文学が盛んになり、紫式部は漢字で「源氏物語」をあらわしました。
- エ 地方では武士団が形成され、藤原純友は瀬戸内地方をあらしました。
- 問4 源頼朝は主従関係を結んだ武士に対して、その領地を認めるとともに、戦いなどに功績をあげた武士には新しい領地を授けました。こうして頼朝のご恩に報いるために命をかけて奉公するようになりました。このように、賜った領地を命がけで守るという「一所懸命」という言葉が生まれることになった12～13世紀の社会について書かれた次のア～エの文の中で、誤っているものはどれですか。一つ選び、記号で答えなさい。
- ア 武士は犬追物や笠懸などを行って、つねに武芸の訓練をしました。

- イ 北条泰時は「御成敗式目」を制定して、町人の習慣をまとめました。
- ウ 経済の発展にともなって、交通の便の良いところに定期市が開かれました。
- エ 藤原定家らにより、「新古今和歌集」が編さんされました。

問5 14世紀の末、足利義満は京都の北山に金閣（鹿苑寺）を建造しました。この時代は義満が文芸を手厚く保護したために、北山文化と呼ばれるようになりました。一方、足利義政も京都の東山に銀閣（慈照寺）を建て、東山文化といわれる時代を作りました。この北山・東山両文化について書かれた次のア～エの文の中で、誤っているものはどれですか。一つ選び、記号で答えなさい。

- ア 北山文化の中心の金閣は、主に寝殿造りの様式で建造されました。
- イ 金閣が建造されたころ、観阿弥・世阿弥親子によって能楽が大成されました。
- ウ 東山文化の中心の銀閣は、主に書院造りの様式で建造されました。
- エ 銀閣が建造されたころ、庶民の生活を描いた「鳥獣戯画」が完成しました。

問6 江戸時代の農民は、五公五民とか四公六民とかの重い年貢がかけられました。また一方で、農民には五軒をまとめてひと組にした五人組の制度が作られ、年貢の納入を監督するとともに、犯罪防止にあたりました。こうして農民は共同でさまざまな責任を負わされました。このような17世紀ころの社会について書かれた次のア～エの文の中で、誤っているものはどれですか。一つ選び、記号で答えなさい。

- ア 「慶安の御触書」が出され、商工業に対する規制が強まりました。
- イ 鎖国が進められ、キリスト教とを取りしめるための「踏み絵」が行われました。
- ウ 東廻り航路や西廻り航路が開拓されて、海上交通が発展しました。
- エ 農具が改良されて、備中くわや千歯こきが発明・改良され生産高が増加しました。

問1	問2	問3	問4	問5	問6

(城北)

3 下の表は農業生産物のとれ高を道県別にあらわしたものです。この表をみて下の問いに答えなさい。

(単位 1000t)

	ア 米	イ 小麦	ウ さつまいも	エ ()	オ きゃべつ	カ みかん	キ ()	ク ぶどう	ケ ()	コ ()
北海道	801.6	348.7	-	2333.0	110.1	-	15.7	9.9	2.3	-
(A)	92.3	0.2	-	9.1	12.7	167.4	-	1.8	1.2	0.9
鳥取	82.0	0.001	-	3.2	11.5	0.0	-	1.8	47.7	0.0
(B)	104.5	36.7	-	19.4	199.1	-	8.2	-	10.3	0.0
(C)	379.5	2.8	-	36.7	27.6	-	442.8	5.7	2.1	-
長野	247.1	3.9	-	33.8	78.4	-	198.0	32.8	27.7	0.0
(D)	31.6	0.1	-	5.9	8.2	-	4.4	65.5	0.0	0.0
和歌山	42.1	-	-	1.4	18.0	162.0	0.0	1.4	0.0	0.0
静岡	105.0	1.9	29.9	20.1	23.1	140.6	0.0	0.0	2.7	41.0
(E)	359.6	2.6	154.1	41.1	127.9	3.1	-	-	42.2	0.0
秋田	606.5	0.2	-	17.7	16.0	-	37.8	4.6	3.7	0.0
(F)	671.6	-	-	23.8	21.2	-	0.0	4.4	14.0	0.0
香川	87.1	1.9	-	3.5	13.1	24.5	0.0	3.16	0.0	0.0

(1997年)

- (1) 表中エ、キ、ケ、コは何ですか。作物名を書きなさい。
- (2) A～Fに適した県名を下から選び番号で、またその判断のもとになった作物名の記号を表中ア～コから1つ選びなさい。

い。

- 1 群馬 2 埼玉 3 三重 4 愛媛 5 千葉 6 富山 7 徳島
 8 愛知 9 新潟 10 青森 11 岩手 12 山梨 13 山形

工	キ	ケ	コ

A	B	C	D	E	F

(日本女子大付属)

3 - 3

1 下の文を読み、あとの問いに答えなさい。

アメリカ合衆国の()が四世きの黒船をひきい()に来たのは()年でした。は、アメリカ合衆国の大統領の手紙をもってきており、その手紙には日本に開国を求めることが書かれていました。は、回答をもらうため、ふたたび日本におとずれることを予告して日本を去りました。

は予告通り、つぎの年に来航しました。幕府は、はっきりした方針が決まらないうちに が来てしまったため、(A)という条約を結び、()の時代に完成した鎖国はくずれ、開国の第一歩をふみだしました。

(A)の条約にもとづいて、駐日アメリカ総領事として日本へ来た()は、貿易をもちこんだ新しい条約を結ぶため熱心に活動しました。()年、(B)という条約が結ばれ、本格的な開国となりました。しかし、この条約は、(1)日本にとって不利な点^がもりこまれ、その後、大きな困難をもたらしました。この条約を結んだときの日本側責任者は、大老()でした。は、反対派をおさえてこの条約を結びました。この時、おこなったのが()とよばれるものです。あまりにもきびしかったため、反対派は1860年、 を暗殺してしまいました。

問1 文中の() ~ に適することは・数字を、下のそれぞれア~エから一つずつ選び、記号で答えなさい。

- | | | | |
|--------------------------|------------------------------|---------------------------|-----------------------------|
| ア．ハリス | イ．ペリー | ウ．アダムス | エ．ザビエル |
| ア．根室 | イ．浦賀 | ウ．長崎 | エ．箱館(函館) |
| ア．1792 | イ．1838 | ウ．1853 | エ．1858 |
| ア．徳川家康 | イ．徳川家光 | ウ．徳川綱吉 | エ．徳川吉宗 |
| ア．ハリス | イ．ペリー | ウ．アダムス | エ．ザビエル |
| ア．1792 | イ．1854 | ウ．1858 | エ．1860 |
| ア．阿部正弘 ^{まさひろ} | イ．井伊直弼 ^{いいなおすけ} | ウ．水野忠邦 ^{みずのただくに} | エ．松平定信 ^{まつだいらさだのぶ} |
| ア．蛮社の獄 ^{ばんしゃごく} | イ．安政の大獄 ^{あんせい たいごく} | ウ．西南戦争 ^{せいなん} | エ．戊辰戦争 ^{ぼしん} |

問2 文中の() A・Bに適することはを漢字で書きなさい。

問3 文中の(A)の条約で開かれなかった港はどこですか。下のア~ウから一つ選び、記号で答えなさい。

- ア 兵庫 イ 下田 ウ 箱館(函館)

問4 文中の下線(1)にある日本にとって不利な点がなくなったのはいつですか。下のア~オから適する時期を一つ選び、記号で答えなさい。

- ア．1880年代 イ．1890年代 ウ．1900年代 エ．1910年代 オ．1920年代

問1								
問2	A		B		問3		問4	

(学習院男子)

2 下の() 1～10の各文を読み、あとの問いに答えなさい。

- (1) 710年、清の都を手本とした平城京がつけられました。
- (2) 聖徳太子は、法隆寺を建てました。
- (3) 源義経は、1192年、征夷大將軍となり、鎌倉幕府を開きました。
- (4) 法然は、浄土真宗を開きました。
- (5) 征夷大將軍北条泰時は、御成敗式目(貞永式目)をつくりました。
- (6) 10世紀の中ごろ、瀬戸内海を中心に平将門が乱をおこしました。
- (7) 紫式部は、「枕草子」という随筆を書きました。
- (8) 640年、中大兄皇子と中臣鎌足(藤原鎌足)らは、大化の改新を行いました。
- (9) 今から一万年ぐらい前から人々は土器を使うようになりました。この土器を縄文式土器といいます。
- (10) 12世紀の末、源氏と平氏が戦いました。このときのようすは「源氏物語」に書かれています。

問1 上の各文について、下線をひいた部分が正しいか、まちがっているか答えなさい。正しい場合は印、まちがっている場合は×印を書きなさい。

問2 上の(1)・(2)・(3)・(5)・(6)・(8)の各文を、歴史の新しい順にならべなさい。

問1	(1)	(2)	(3)	(4)	(5)	(6)	(7)	(8)	(9)
	(10)	問2							

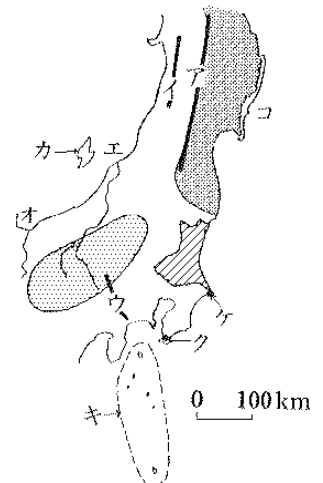
(学習院男子)



3 右の略地図をみて、後の問いに答えなさい。

- 問1 地図中のア～ウの山脈・山地の名前を漢字で答えなさい。
- 問2 エの川の流域面積は、全国第何位ですか。
- 問3 オの川の下流で発生した、カドミウムによる公害病を何といいますか。
- 問4 地図中の////で示した県について、次の各問いに答えなさい。
- この県の県庁は何市にありますか。漢字で答えなさい。
- この県の沿岸部の東海村にある発電所は、下のア～エのうちのどれですか。記号で答えなさい。
- ア 火力発電所 イ 水力発電所 ウ 原子力発電所 エ ^{じねつ}地熱発電所
- この県の面積は、北海道の面積のおよそ何分の1ですか。下のア～オから選び記号で答えなさい。ただし、北海道の面積には、^{はばまい}歯舞諸島・^{しこたん}色丹島・^{くなしり}国後島・^{えとろふ}択捉島の面積を含みます。
- ア 4分の1 イ 7分の1 ウ 14分の1 エ 24分の1 オ 34分の1
- また、鹿児島県の面積とくらべるとどうですか。下のア～オから選び、記号で答えなさい。
- この県は、

ア	鹿児島県の2倍以上	イ	鹿児島県の約1.5倍
ウ	鹿児島県と同じくらい	エ	鹿児島県の約3分の2
オ	鹿児島県の約2分の1		

の面積をもつ。



- 問5 地図中のカ島とキの諸島は、それぞれどこの都道府県に属しますか。ひらがなで答えなさい。
- 問6 地図中のク都市とほぼ同じ緯度の都市と、ケ都市とほぼ同じ経度の都市を、下の1～10からひとつずつ選び、それぞれ記号で答えなさい。
- 1 福岡 2 札幌さっぽろ 3 京都 4 広島 5 那覇なは
6 鹿児島 7 函館はこだて 8 釧路くしろ 9 旭川 10 根室ねむろ
- 問7 で示した地域の気候の特色を説明した文を、下のア～ウから選び、記号で答えなさい。
- ア 冬に、北西の季節風が吹き、大雪となる。
イ 夏に、南東の季節風が吹き、雨がたくさんふる。
ウ 昼と夜、夏と冬の気温の差が大きい。
- 問8 地図中のコのような、いりくんだ海岸のことを何といいますか。また、このような海岸で、地震じしんにともなって起きやすい災害を、下のア～ウから選び、記号で答えなさい。
- ア 洪水こうずい イ 津波つなみ ウ 高潮たかしお
- 問9 地図中ので示した地域では、春から夏にかけて気温が上がらず、農作物に被害ひがでることがあります。このような災害を何といいますか。漢字2文字で答えなさい。
- また、その原因となる、初夏にこの地域に吹く、冷たい北東風のことを何といいますか。ひらがな3文字で答えなさい。

問1	ア	イ	ウ	問2	第	位
問3		問4	市			
問5	カ	キ	問6	ク	ケ	問7
問8		災害	問9	災害	北東風	

(東邦大付属東邦)

問題演習 その1 解答

3 - 1

1

	1	2	3	4	5	6	7	8	9	10
地名	ソ	テ	タ	ス	ツ	ク	ア	セ	ウ	カ
位置	え	そ	ち	す	け	さ	た	く	か	つ

2

A 岩宿 B 邪馬台国 C 天智天皇 D 710
 E 真言宗 F 問注所 G 勘合符 H 鹿児島
 I 1603 J 徳川吉宗

3

(1) 4 (2) 4 (3) 3 (4) 4 (5) 4

4

1 高床 2 唐招提寺 3 厳島神社 4 金閣 5 安土城

3 - 2

1

1 イ 2 口 3 口

2

問1 イ 問2 ア 問3 ウ 問4 イ 問5 エ 問6 ア

3

(1) エ じゃがいも キ りんご ケ 日本なし コ 茶

(2) A 4、カ B 1、イ(オ) C 10、キ
 D 12、ク E 5、ウ(ケ) F 9、ア

3 - 3

1

問1

イ イ ウ イ ア ウ イ イ

問 2

A 日米和親条約 B 日米修好通商条約

問 3 ア

問 4 工

2

問 1

(1) × (2) (3) × (4) × (5) × (6) × (7) × (8) × (9) (10) ×

問 2 (5) (3) (6) (1) (8) (2)

3

問 1 ア 奥羽山脈 イ 出羽山地 ウ 関東山地

問 2 第 3 位

問 3 イタイイタイ病

問 4 水戸市 ウ ウ 工

問 5 カ にいがた キ とうきょう 問 6 ク 3 ケ 7 問 7 ウ

問 8 リアス式海岸 災害.....イ

問 9 災害.....冷害 北東風.....やませ