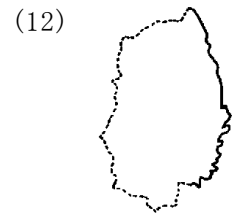
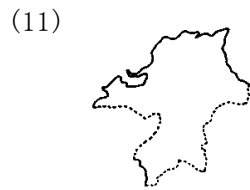
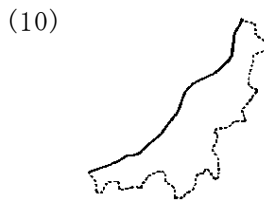
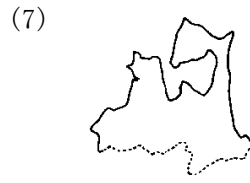
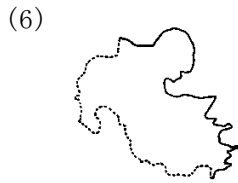

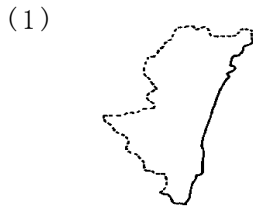
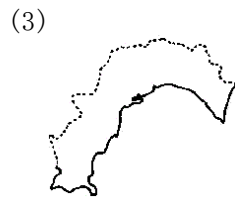


1 次の県の名前を書きなさい。地図の縮尺しゆくしゃくは同一ではありません。

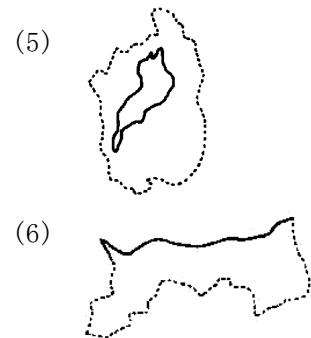


(1)	県	(2)	県	(3)	県
(4)	県	(5)	県	(6)	県
(7)	県	(8)	県	(9)	県
(10)	県	(11)	県	(12)	県

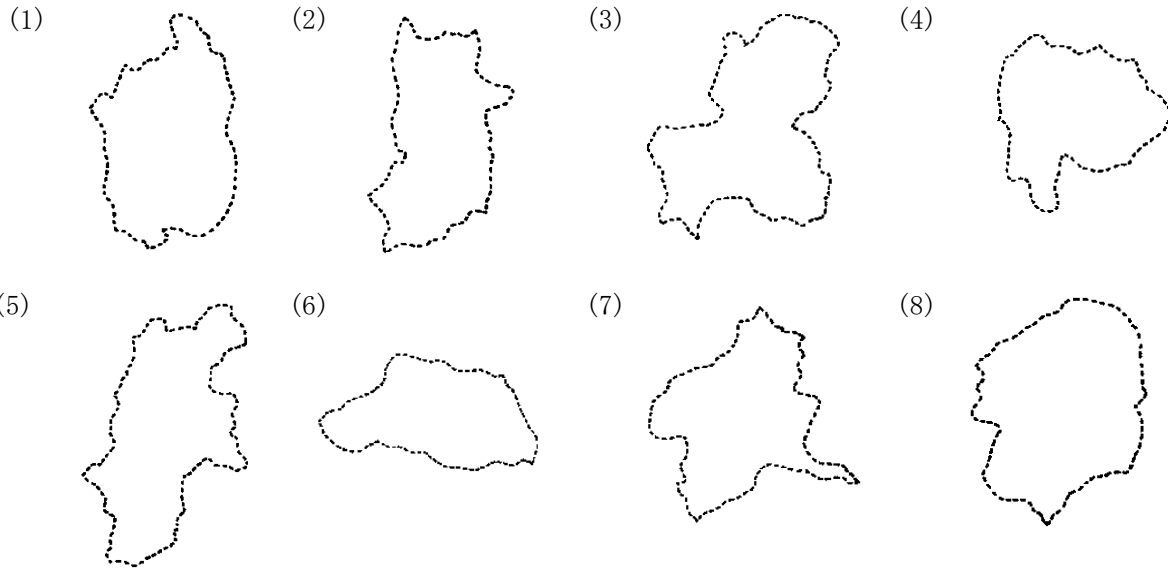
2 次の都道府県の名前を書きなさい。地図の縮尺しゆくしゃくは同一ではありません。



(1)		(2)	
(3)		(4)	
(5)		(6)	

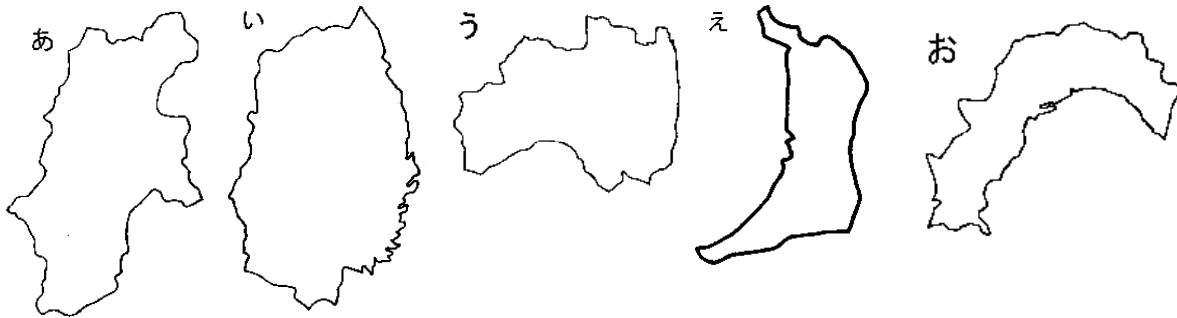


3 次の都道府県の名前を書きなさい。地図の縮尺しゆくしゃくは同一ではありません。



(1)	県	(2)	県	(3)	県
(4)	県	(5)	県	(6)	県
(7)	県	(8)	県		

4 次の都道府県の図を見て下の問いに答えなさい。地図の縮尺しゆくしゃくは同一ではありません。



(1) 都道府県の名前を下から選び記号で答えなさい。

- ア 福島県 イ 高知県 ウ 沖縄県 エ 神奈川県 オ 京都府 カ 大阪府
 キ 島根県 ク 岩手県 ケ 長野県 コ 岐阜県 サ 宮城県 シ 鳥取県

あ		い		う		え		お	
---	--	---	--	---	--	---	--	---	--

- (2) 上のあ～おの中から、海に面していない都道府県を一つ選びなさい。
 (3) 上のあ～おの中から、近畿きんき地方にある都道府県を、一つ選びなさい。
 (4) 上のあ～おの中から、一番面積めんせきの狭い都道府県を選びなさい。

【解答】

1.

- (1) 宮崎 (2) 鹿児島 (3) 福井 (4) 長崎 (5) 鳥取 (6) 大分 (7) 青森
(8) 神奈川 (9) 静岡 (10) 新潟 (11) 福岡 (12) 岩手

2.

- (1) 徳島 (2) 香川 (3) 高知 (4) 愛媛 (5) 滋賀 (6) 鳥取

3.

- (1) 滋賀 (2) 奈良 (3) 岐阜 (4) 山梨 (5) 長野 (6) 埼玉 (7) 群馬
(8) 栃木

4.

- (1) あ ケ い ク う ア え カ お イ
(2) あ (3) え (4) え