

氏名 [ ]

問 1 日本の会社が海外で生産を行うことを何といいますか。

[ ]

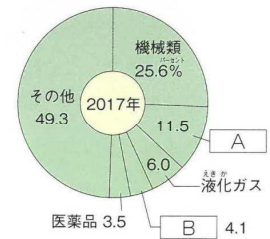
問 2 海外に多くの工場が移ったために国内の工業がおとろえることを何といいますか。

[ ]

問 3 外国から原材料を輸入し、工業製品をつくって輸出する貿易を何といいますか。

[ ]

問 4 右のグラフは、日本のおもな輸入品を示しています。 [ A ] ・ [ B ]  
にあてはまるものをそれぞれ答えなさい。



A [ ] , B [ ]

問 5 海外にある日本の会社の工場から、日本に製品を輸入することを何といいますか。

[ ]

問 6 次の 1 ~ 3 の資源の輸入金額が第 1 位(2017年)の相手先の名をそれぞれ答えなさい。

- 1 鉄鉱石                      2 石炭                      3 原油

[                      ] [                      ] [                      ]

問 7 次の 1 ~ 4 の食料の輸入金額が第 1 位(2017年)の相手先の名をそれぞれ答えなさい。

- 1 大豆                      2 魚介類                      3 とうもろこし                      4 野菜

[                      ] [                      ] [                      ] [                      ]

問 8 日本が自動車を最も多く輸入している相手先の名を答えなさい。また、最も多く輸出している相手先の名を答えなさい。

輸入 [                      ] , 輸出 [                      ]

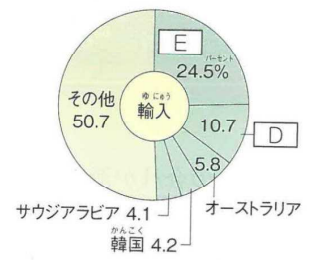

問 9 輸出額が輸入額より多い状態のことを、貿易 [ C ] といいます。 [ C ] にあてはまることを答えなさい。

[                      ]

問10 日本のおもな貿易相手先を示した右のグラフを見て、・にあてはまる国の名をそれぞれ答えなさい。

D [  ]

E [  ]



(2017年)

問11 日本で貿易額が最も多い貿易港の名を答えなさい。

[  ]

問12 自動車と自動車部品が、輸出額の1・2位(2017年)の品目になっている港の名を2つ答えなさい。また、これらの港の位置をそれぞれ右の地図から選んで、番号で答えなさい。

[  ] 港・[  ]

[  ] 港・[  ]



問13 輸入品目の上位5位以内に衣類がふくまれる貿易港としてあてはまらないものを次から選んで、記号で答えなさい。また、選んだ貿易港の位置を右の地図から選んで、番号で答えなさい。

ア 東京港      イ 神戸港      ウ 大阪港

エ 関西国際空港

貿易港 [  ]・位置 [  ]

問14 1ドル=100円だった交換比率が、1ドル=80円になることを、円高といいますが、それとも円安といいますが。

[  ]

問15 円高がすすむと、日本は、原材料や外国の製品を輸入しやすくなりますか、それとも輸入しにくくなりますか。

輸入 [  ] なる。

問16 工業製品の輸送に多く使われる、幅と高さ・長さが一定の箱形の容器を何といいますが。

[  ]