

5 年上 要点チェック 第 1 回

氏名〔 〕

問 1 魚を原料としてつくられる「かまぼこ」や「ちくわ」などの食品を、まとめて何とい
いますか。

〔 練り製品 〕

問 2 三陸沖は、潮目（潮境）ができるために、よい漁場となっています。この潮目をつ
くる海流の名を二つ答えなさい。

〔 千島海流（親潮） 〕,〔 日本海流（黒潮） 〕

問 3 大陸や島の沿岸から続く、かたむきがゆるやかな海底を何とといいますか。

〔 大陸棚 〕

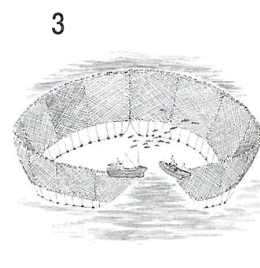

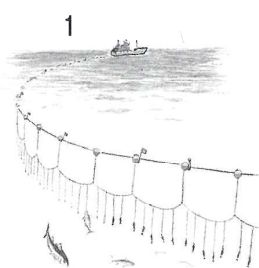
問 4 次の 1～3 の文が述べている漁港の名をそれぞれ答えなさい。

1 利根川の河口付近にある、千葉県の漁港です。〔 銚子 〕港

2 日本海側の漁港としては水揚げ量で 1・2 を争う、鳥取県の漁港です。
〔 境 〕港

3 かつおやまぐろなどの遠洋漁業の基地として知られる、静岡県の漁港です。
〔 焼津 〕港

問 5 次の 1～3 の図が示している漁法の名をそれぞれ答えなさい。

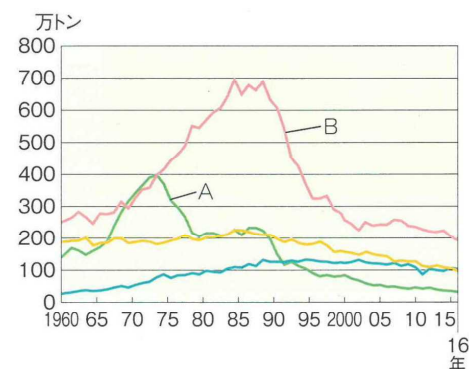


1〔 はえなわ 〕 2〔 一本ぶり 〕 3〔 まきあみ 〕

問 6 右のグラフは、漁業の種類別の漁獲量を示してい
ます。A、B が示している漁業の種類の名をそれぞれ
答えなさい。

A〔 遠洋 〕漁業

B〔 沖合 〕漁業



問 7 海がよごれたことが原因で、プランクトンが大量に
発生して、海水が赤く染まったようになる現象を何と
いいますか。

〔 赤潮 〕

問 8 1973年、中東の国々が石油の輸出を制限したこ
とによって石油の価格が上がり、日本の遠洋漁業も
大きな影響を受けました。このできごとを何と
いいますか。

〔 石油危機 〕

問9 えんがん 沿岸から12カイリまでの海を何といいますか。

{ 領海 }

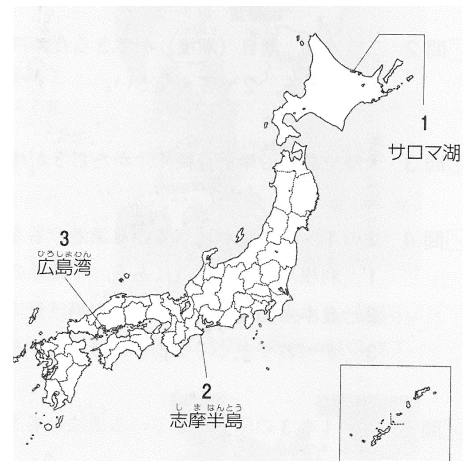
問10 えんがんこく 沿岸国には、水産資源などを自分の国のものとする水域が認められています。この水域を何といいますか。また、その水域は沿岸から何カイリまでと定められていますか。

{ 排他的経済 (経済) } 水域 ・ { 200 } カイリ

問11 右の地図の1～3の地域でさかんに養殖されている水産物をそれぞれ次から選んで、記号で答えなさい。

ア かき イ うなぎ ウ ほたて貝
エ のり オ 真珠 カ きんぎょ

1 [ウ] 2 [オ] 3 [ア]



問12 ちぎょ 稚魚を放流して、自然の中で成長させ、育った魚をとる漁業を何といいますか。

{ 栽培 } 漁業

問13 うおいちば 魚市場などでは、買いたい人たちに値段をつけさせ、最も高い値段をつけた人に売る売り方が行われています。この方法を何といいますか。

{ せり }

問14 2016年時点で、ぎょかくりょう 漁獲量が世界一である国の名を答えなさい。

{ 中国 }

問15 日本が輸入している水産物のうち、特に輸入額の大きいものを2つ答えなさい。

{ えび } ・ { さけ・ます }

問16 すいざん しげん へ 水産資源を減らさないための工夫として正しくないものを次から選んで、記号で答えなさい。

ア 魚が卵を産む時期には漁をしません。
イ 稚魚がかからないように、魚をとるあみの目を小さくします。
ウ 海岸に、多くの魚が集まる魚付林をつくります。

[イ]

問17 魚のかくれ場や産卵の場として重要な、海底につき出た岩山のようなところを何といいますか。

{ 魚礁 }

氏名 []

問 1 次の 1 ~ 4 の資源について、日本にとって最大の輸入相手先（2014年）はどこですか。

- 1 石炭 2 原油 3 鉄鉱石 4 液化天然ガス

1 [**オーストラリア**] , 2 [**サウジアラビア**]

3 [**オーストラリア**] , 4 [**オーストラリア**]

問 2 日本の地下資源は産出量が少ないため、国内の産出でまかなえるのは、セメントの原料になる **A** ぐらいです。 **A** にあてはまる資源の名を答えなさい。

[**石灰石**]

問 3 石炭のおもな使いみちを、2 つ答えなさい。

[**鉄鋼の生産**] [**火力発電**]

問 4 1960年代に、エネルギーの中心が石炭から石油に代わったことを何といいますか。

[**エネルギー革命**]

問 5 右の写真のような、原油を輸送するための専用の船を何といいますか。

[**タンカー**]



問 6 原油は、さまざまな燃料や原料に加工されて使われます。そのうち、化学工業の原料となるものを何といいますか。

[**ナフサ**]

問 7 燃やしても、石油や石炭ほど有害な物質を出さないため、火力発電や都市ガスのほか、自動車の燃料としても使われるようになってきた資源の名を答えなさい。

[**天然ガス**]

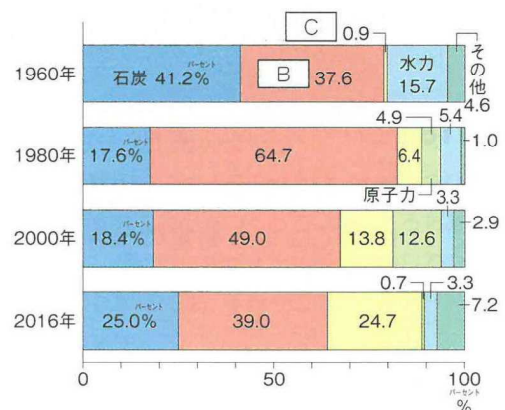
問 8 問 7 の資源は、日本には、冷やして液体の状態にして輸入されます。これを何といいますか。アルファベットで答えなさい。

[**LNG**]

問 9 右のグラフは、日本のエネルギー供給の割合の変化です。 **B** ・ **C** にあてはまる資源の名をそれぞれ答えなさい。

B [**石油**]

C [**天然ガス**]



問10 石油や石炭を大量に燃やすと、大気中に二酸化炭素が増えて、地球全体があたたまってしまうことが心配されています。この現象を何といいますか。

[地球の温暖化]

問11 原子力発電の燃料として使われる資源の名を答えなさい。

[ウラン]

問12 1963年、日本で初めての原子力発電が行われた、茨城県の村の名を答えなさい。

[東海村]

問13 地中に埋もれた大昔の植物や動物の死がいなどが長い年月をかけて変化し、石油や石炭などになりました。このようにしてできた燃料を何といいますか。

[化石燃料]

問14 水力発電を行うなどの目的で、内陸の山間部につくられる大規模な施設を何といいますか。

[ダム]

問15 火山の地中から取り出した蒸気や熱水を利用して行われる発電を何といいますか。

[地熱発電]

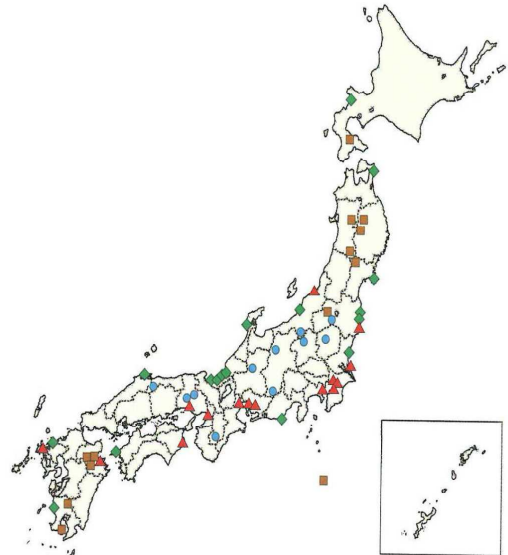
問16 出力が1000 kW以上ある、大規模な太陽光発電を行う施設を何といいますか。

[メガソーラー]

問17 右の地図の ●・▲・■ が示している発電所は何ですか。

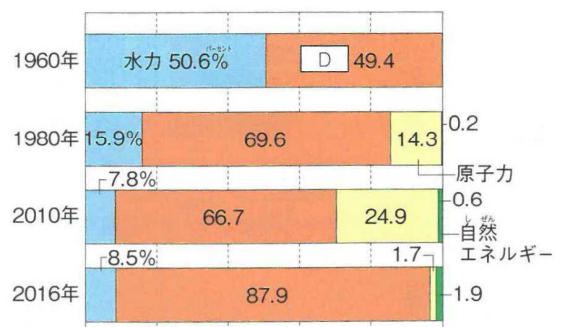
- ア 水力発電
- イ 火力発電
- ウ 原子力発電
- エ 地熱発電

● [ア], ▲ [イ], ■ [エ]



問18 右のグラフは、発電のエネルギー源の変化を示しています。Dにあてはまる発電の種類の名を答えなさい。

[火力]



5 年上 要点チェック 第 3 回

氏名 []

問 1 金属工業・機械工業・化学工業をあわせて、何といいますか。

[重化学] 工業

問 2 問 1 の工業は、日本の工業生産額のうち、どのくらいの割合をしめていますか。

[4 分の 3]

問 3 問 1 以外の工業をまとめて、何と言いますか。

[軽工業]

問 4 鉄鋼をつくるのに必要な資源の名を 3 つ答えなさい。

[鉄鉱石] ・ [石炭] ・ [石灰石]

問 5 問 4 で答えた資源のうち、日本で必要とする量を 100% 国内でまかなえる資源は何ですか。

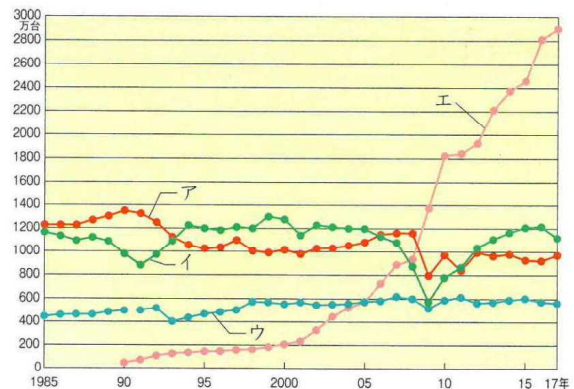
[石灰石]

問 6 機械工業のうちで、最も生産額の大きい製品は何ですか。

[自動車工業]

問 7 右のグラフは、おもな国の自動車生産台数です。日本を示しているものをグラフから選んで、記号で答えなさい。

[ア]



問 8 自動車をつくるときの作業の順として正しいものを次から選んで、記号で答えなさい。

- ア 溶接する プレスする 組み立てる 塗装する
- イ 組み立てる 溶接する 塗装する プレスする
- ウ プレスする 溶接する 塗装する 組み立てる

[ウ]

問 9 自動車の組立工場が必要とするときに必要とする数だけ、関連工場が自動車の部品を運ぶ方法を、何といいますか。

[ジャストインタイム方式]

問 10 コンピューターの電子部品などに使われている、電気を通したり通さなかったりする物質を何といいますか。

[半導体]

問11 問10の物質を使ってつくられる、複雑な電気回路をごく小さくまとめたものを何といいますか。

[集積回路]

問12 工場で、危険な作業や、働く人の負担が大きい作業を、人にかわって行う機械を何といいますか。

[産業用ロボット]

問13 化学工業の製品にあてはまらないものを次から選んで、記号で答えなさい。

ア 肥料 イ プラスチック ウ ガラス エ 薬品
[ウ]

問14 石油に関係するさまざまな工場がパイプで結ばれているしくみの名を答えなさい。

[石油化学コンビナート]

問15 石油精製工場で、原油から取り出される燃料油にあてはまらないものを次から選んで、記号で答えなさい。

ア ウラン イ 重油 ウ 灯油 エ ガソリン [ア]

問16 石油精製工場で、原油から取り出され、化学工業製品の原料となるものを何といいますか。

[ナフサ]

問17 原料の輸入などに便利なことから、臨海部に工場がつくられている工業としてあてはまらないものを次から選んで、記号で答えなさい。

ア 石油化学工業 イ 鉄鋼業 ウ 自動車工業 [ウ]

問18 米や麦などを発酵させて、酒・みそ・しょうゆなどをつくる工業を、特に何といいますか。

[醸造業]

問19 土や石を焼いたりとかしたりして製品をつくる工業の名を答えなさい。

[よう業]

問20 木材を細かくくだいたチップを薬品でとかし、せんいを取り出したものは、紙の原料となります。これを何といいますか。

[パルプ]

問21 次の1・2のせんいは、それぞれ何からつくられますか。

1 綿糸 [綿花] 2 生糸 [まゆ]

問22 次の1・2の文が説明しているエコカーを、それぞれ何といいますか。

1 蓄電池にためたエネルギーだけを使って走ります。 [電気自動車]

2 水素と酸素を利用して走ります。 [燃料電池車]

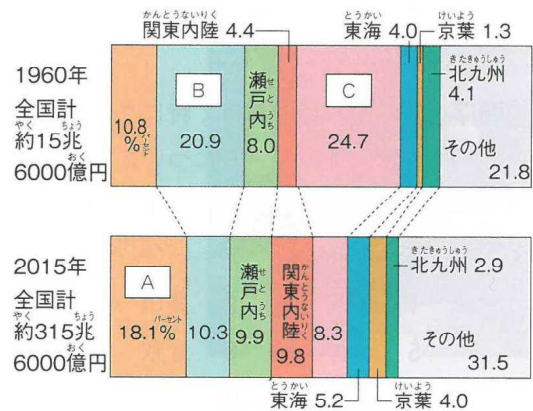
5 年上 要点チェック 第 4 回

氏名 []

問 1 右のグラフは、工業地帯・工業地域の生産額の割合を示しています。グラフの [A]・[B] にあてはまる工業地帯・工業地域の組み合わせとして正しいものを次から選んで、ア～エの記号で答えなさい。

- ア [A] = 中京 ・ [B] = 阪神
 イ [A] = 阪神 ・ [B] = 中京
 ウ [A] = 中京 ・ [B] = 京浜
 エ [A] = 京浜 ・ [B] = 阪神

[ア]



問 2 次の 1～3 が説明している工業地帯の名をそれぞれ答えなさい。

1 工業生産額が日本一で、特に自動車工業が発達しています。

[中京] 工業地帯

2 東京都と神奈川県にまたがる工業地帯で、かつては日本一の工業地帯でした。

[京浜] 工業地帯

3 大阪湾の沿岸と内陸部に広がる工業地帯です。中小工場がわりあいに多いという特色があります。

[阪神] 工業地帯

問 3 次の 1～4 の文が説明している工業地域の名をそれぞれ答えなさい。

1 東京湾の東側に位置しています。埋め立て地に大きな製鉄所や石油化学コンビナートがつくられています。

[京葉] 工業地域

2 軍用地や塩田のあと地を利用して、瀬戸内海に面した埋め立て地に重化学工業の大規模な工場がつくられています。

[瀬戸内] 工業地域

3 埼玉県・栃木県・群馬県に広がる工業地域です。特に自動車や電気機器を製造する工業が発達しました。

[関東内陸] 工業地域

4 静岡県に発達した工業地域です。二つの工業地帯の間に位置していて、交通の便がよいことなどが、工業が発達した理由の一つです。

[東海] 工業地域

問 4 関東地方から九州北部にかけての海沿いの地域は、多くの人口が集中するなどして、日本の工業の中心となってきました。この地域を何といいますか。

[太平洋ベルト]

問5 ^{とよた}豊田市や^{みなまた}水俣市は、一つの大きな会社を中心に発展した都市です。このような都市や町をまとめて何といいますか。

[^{きぎょうじょうかまち}企業城下町]

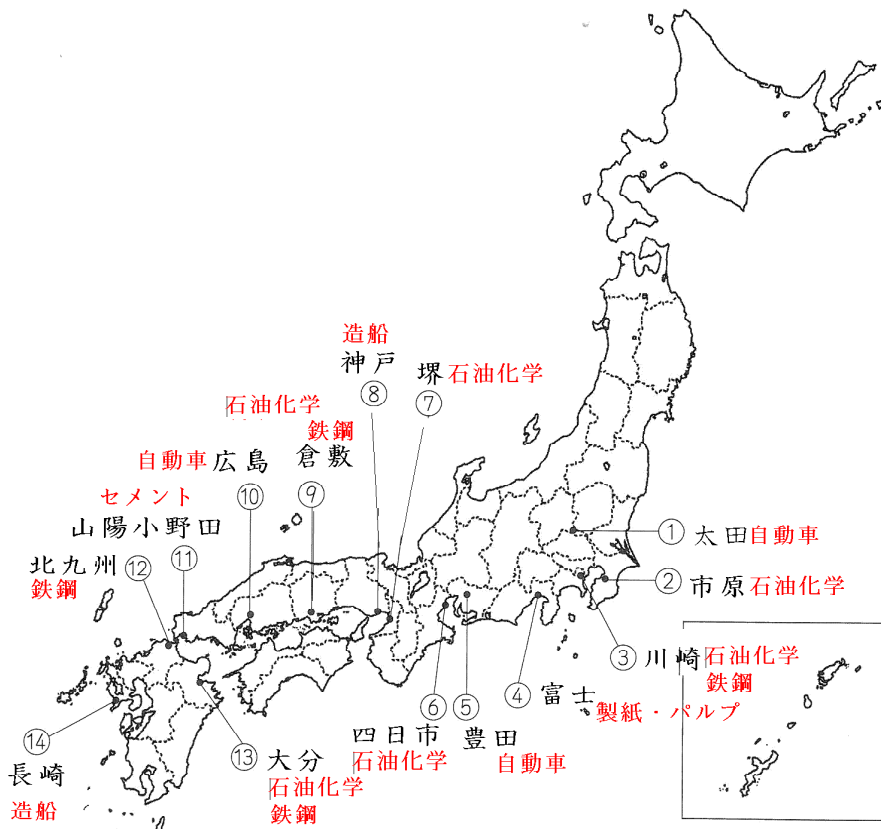
問6 愛知県が日本一の生産額をあげている工業にあてはまらないものを次から選んで、記号で答えなさい。

ア ^{せんい}せんい工業 イ ^{てっこうぎょう}鉄鋼業 ウ ^{いんさつぎょう}印刷業 エ ^{ようぎょう}よう業
[**ウ**]

問7 次の1～10の都市で特にさかんな工業をそれぞれ下から選んで、記号で答えなさい。ただし、1・5・6については、それぞれ2つずつ答えなさい。同じ記号を何回使ってもかまいません。また、1～10の工業都市の位置をそれぞれ下の地図から選んで、番号で答えなさい。

- | | | | | |
|----------------------|---------------------|----------------------------|----------------------|-----------------------|
| 1 ^{かわさき} 川崎 | 2 ^{とよた} 豊田 | 3 ^{よっかいち} 四日市 | 4 ^{さかい} 堺 | 5 ^{おおいた} 大分 |
| 6 ^{くらしき} 倉敷 | 7 ^{ふじ} 富士 | 8 ^{さんようおのだ} 山陽小野田 | 9 ^{ながさき} 長崎 | 10 ^{いちばら} 市原 |

ア 鉄鋼業 イ 石油化学工業 ウ ^{せんい}せんい工業 エ 自動車工業
オ 造船業 カ 製紙・パルプ工業 キ 食料品工業 ク セメント工業



1 [**ア** ・ **イ**] [] 2 [**エ**] [] 3 [**イ**] []

4 [**イ**] [] 5 [**ア** ・ **イ**] [] 6 [**ア** ・ **イ**] []

7 [**カ**] [] 8 [**ク**] [] 9 [**オ**] []

10 [**イ**] []

問 1 重化学工業が、現在の工業全体の生産額にしめる割合は、どのくらいですか。

[4 分の 3]

問 2 重化学工業の中で、特に生産額の多い工業は何ですか。

[機械工業]

問 3 かつてはせんいなどの軽工業が中心であった日本の工業は、1955～1973のころに、重化学工業中心になりました。この時期を、特に何といいますか。

[高度経済成長期]

問 4 重化学工業が太平洋に面した地域で特に発達したのは、燃料・原料の輸入と、製品の輸出に便利であったからです。太平洋に面したこの地域のことを何といいますか。

[太平洋ベルト]

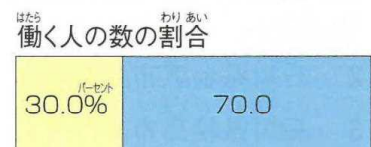

問 5 工場が海外に多く移転したために、国内の工業がおとろえることを何といいますか。

[産業の空洞化]

問 6 大工場との結びつきが強く、おもに部品を生産している工場を何といいますか。

[関連工場(協力工場)]

問 7 働く人が300人に満たない工場を何といいますか。また、このような工場を示しているのは、右のグラフのア・イのどちらですか。



(2014年)

[中小工場]・[イ]

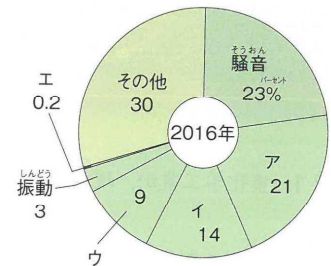
問 8 次の 1～3 の文が述べている公害病の名をそれぞれ答えなさい。

- 1 熊本県で発生しました。工場の排水にふくまれていた有機水銀によって、魚などが汚染され、それを食べた人の神経がおかされました。
- 2 三重県で発生しました。石油化学コンビナートの煙にふくまれる二酸化硫黄によって、呼吸が困難になるなどの症状が出ました。
- 3 富山県を流れる神通川の流域で発生しました。上流の神岡鉱山から流れ出たカドミウムにより、人の骨がもろくなってしまふなどの被害が生じました。

1 [水俣病] 2 [四日市ぜんそく] 3 [イタイイタイ病]

問9 工場からの煙や自動車の排気ガスなどが原因で、空気がよごれることを何といいますか。また、この公害にあてはまるものを、右のグラフのア～エから選んで、記号で答えなさい。

[大気汚染]・[ア]



問10 海や湖などがよごれたために、プランクトンが異常に発生して、海が赤く染まったようになる現象を何といいますか。

[赤潮]

問11 1885年ごろ、鉱山から排出された有毒な物質によって、栃木県の渡良瀬川流域で深刻な公害が発生しました。この鉱山の名を答えなさい。

[足尾銅山]

問12 公害をとりしまり、環境を守るための仕事を行っている国の役所の名を答えなさい。

[環境省]

問13 伝統的工芸品の指定に関する仕事などを行っている国の役所の名を答えなさい。

[経済産業省]

問14 次の1～5の伝統的工芸品の名をそれぞれ答えなさい。

- | | |
|-----------------------|------------|
| 1 岩手県盛岡市などでつくられている鉄製品 | 1 [南部鉄器] |
| 2 石川県金沢市などでつくられている焼き物 | 2 [九谷焼] |
| 3 石川県輪島市などでつくられている漆器 | 3 [輪島塗] |
| 4 高知県の町などでつくられている和紙 | 4 [土佐和紙] |
| 5 佐賀県有田町などでつくられている焼き物 | 5 [有田焼] |

問15 次の1～5の伝統的工芸品が作られている都道府県を、それぞれ地図から選んで、記号で答えなさい。

- | | |
|----------|-------|
| 1 津軽塗 | [ア] |
| 2 天童将棋駒 | [イ] |
| 3 信楽焼 | [オ] |
| 4 博多人形 | [ク] |
| 5 琉球びんがた | [ケ] |



氏名〔 〕

問1 日本の会社が海外で生産を行うことを何といいますか。

〔 現地生産（海外生産） 〕

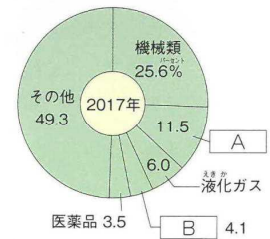
問2 海外に多くの工場が移ったために国内の工業がおとろえることを何といいますか。

〔 産業の空洞化 〕

問3 外国から原材料を輸入し、工業製品をつくって輸出する貿易を何といいますか。

〔 加工貿易 〕

問4 右のグラフは、日本のおもな輸入品を示しています。〔 A 〕・〔 B 〕
にあてはまるものをそれぞれ答えなさい。



A [石油] , B [衣類]

問5 海外にある日本の会社の工場から、日本に製品を輸入することを何といいますか。

〔 逆輸入 〕

問6 次の1～3の資源の輸入金額が第1位(2017年)の相手先の名をそれぞれ答えなさい。

1 鉄鉱石 2 石炭 3 原油
〔 オーストラリア 〕〔 オーストラリア 〕〔 サウジアラビア 〕

問7 次の1～4の食料の輸入金額が第1位(2017年)の相手先の名をそれぞれ答えなさい。

1 大豆 2 魚介類 3 とうもろこし 4 野菜
〔 アメリカ 〕〔 中国 〕〔 アメリカ 〕〔 中国 〕

問8 日本が自動車を最も多く輸入している相手先の名を答えなさい。また、最も多く輸出している相手先の名を答えなさい。

輸入 [ドイツ] , 輸出 [アメリカ]

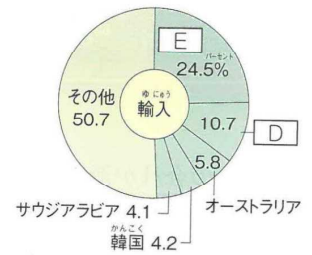

問9 輸出額が輸入額より多い状態のことを、貿易〔 C 〕といいますが、〔 C 〕にあてはまることを答えなさい。

〔 黒字 〕

問10 日本のおもな貿易相手先を示した右のグラフを見て、**D**・**E**にあてはまる国の名をそれぞれ答えなさい。

D [**アメリカ**]

E [**中国**]



(2017年)

問11 日本で貿易額が最も多い貿易港の名を答えなさい。

[**成田国際空港**]

問12 自動車と自動車部品が、輸出額の1・2位(2017年)の品目になっている港の名を2つ答えなさい。また、これらの港の位置をそれぞれ右の地図から選んで、番号で答えなさい。

[**名古屋**] 港・[]

[**横浜**] 港・[]



問13 輸入品目の上位5位以内に衣類がふくまれる貿易港としてあてはまらないものを次から選んで、記号で答えなさい。また、選んだ貿易港の位置を右の地図から選んで、番号で答えなさい。

ア 東京港 イ 神戸港 ウ 大阪港

エ 関西国際空港

貿易港 [**エ**]・位置 []

問14 1ドル = 100円だった交換比率が、1ドル = 80円になることを、円高といいですか、それとも円安といいですか。

[**円高**]

問15 円高がすすむと、日本は、原材料や外国の製品を輸入しやすくなりますか、それとも輸入しにくくなりますか。

輸入 [**しやすく**] なる。

問16 工業製品の輸送に多く使われる、幅と高さ・長さが一定の箱形の容器を何といいですか。

[**コンテナ**]

氏名 []

問 1 トラックを使って、全国各地に比較的小さい荷物を届けるしくみを何といいますか。

[宅配便]

問 2 国内の輸送について、次の問いに答えなさい。

1 現在、貨物・旅客とも、最も輸送量の多い輸送機関の名を答えなさい。

[自動車]

2 ここ40～50年の間、貨物輸送にしめる割合が小さくはなく、特に原料や燃料の輸送で大きな役割を果たしている輸送機関の名を答えなさい。

[船]

問 3 環境をできるだけそこなわないことを目的に、トラックと鉄道・船を組み合わせる輸送方法の名を、カタカナで答えなさい。

[モーダルシフト]

問 4 右の地図が示している新幹線の名を答えなさい。

[東北] 新幹線

[山形] 新幹線

[上越] 新幹線

[九州] 新幹線



問 5 次の1・2の高速道路の名をそれぞれ答えなさい。

1 東京と青森県を結ぶ高速道路 [東北自動車道]

2 東京と新潟県を結ぶ高速道路 [関越自動車道]

問 6 東名高速道路が通る都県を東から順に並べたものとして正しいものを次から選んで、記号で答えなさい。

- ア 東京都 神奈川県 山梨県 愛知県
- イ 東京都 埼玉県 神奈川県 静岡県
- ウ 東京都 神奈川県 静岡県 愛知県

[ウ]

問7 国内の航空輸送について、次の問いに答えなさい。

- 1 旅客輸送のうち、最も輸送量が多い路線は、東京とどこを結ぶ路線ですか。
[札幌(新千歳空港)]
- 2 国内の航空輸送の中心になってきた、東京都にある空港の名を答えなさい。
[東京国際空港(羽田空港)]
- 3 輸出額・輸入額がともに日本一である空港の名を答えなさい。
[成田国際空港(成田空港)]

問8 多くの航空路線が集中し、乗りつぎにも便利な空港を、そのようすが車輪の中心部に似ていることから、何といいますか。

[ハブ空港]

問9 通信手段の発達について、次の問いに答えなさい。

- 1 江戸時代に、人が走って手紙を運ぶしくみがつくられました。このしくみや、手紙を運ぶ人のことを何といいますか。
[飛脚]
- 2 明治時代に、前島密らの努力によって、手紙を全国に送り届けることができるしくみが作られました。このしくみの名を答えなさい。
[郵便制度]
- 3 世界中のコンピューターを網の目のように結んだネットワークを何といいますか。
[インターネット]
- 4 現在、国内で加入件数が1億件をこえている、持ち運びの簡単な電話を何といいますか。
[携帯電話]

問10 店で買い物の支払いを、紙幣や硬貨を使わずに、電子データを使ってすませることのできるしくみを何といいますか。

[電子マネー]

問11 情報が正しいかどうかを見きわめて、必要な情報を選んで利用する力のことを何といいますか。
[メディアリテラシー]

問12 インターネットを通じてほかのコンピューターなどに侵入し、その中にあるデータなどをこわしたり、情報を勝手に発信したりするプログラムを、何といいますか。

[コンピューターウイルス]

問13 次のア～エのうち、個人を特定できる個人情報にふくまれないものはどれですか。次から選んで、記号で答えなさい。

ア 住所 イ 電話番号 ウ 性別 エ 生年月日 [ウ]

問14 他人に知られたくない情報を勝手に公開されない権利を、の権利といいます。にあてはまることばをカタカナで答えなさい。

[プライバシー]

5 年上 要点チェック 第 9 回

氏名〔 〕

問 1 日本は、北東から南西に向かって、およそ〔 A 〕km にわたって連なっている島国です。〔 A 〕
にあてはまる数を答えなさい。

[3 0 0 0] km

問 2 日本の東西南北の端に位置している島の名をそれぞれ答えなさい。ただし、北方領土をふくめるものとします。

東...〔 南島 〕島、西...〔 与那国 〕島

南...〔 沖ノ島 〕島、北...〔 択捉 〕島

問 3 日本標準時子午線は、東経何度の経線ですか。また、この経線が通っている明石市は、どの県に位置していますか。

東経〔 1 3 5 〕度、〔 兵庫 〕県

問 4 海岸線から 200 カイリまでの海で、水産資源や地下資源が沿岸国のものと認められる水域を何と
いいますか。

〔 排他的経済 〕水域

問 5 問 4 の水域よりも外側の海のことを何といいますか。

〔 公海 〕

問 6 0 度の経線を何といいますか。また、この経線は、旧グリニッジ天文台を通過しています。この
天文台がある国の名を答えなさい。

〔 本初子午線 〕、〔 イギリス 〕

問 7 北方領土をふくめた場合、日本の国土面積は約何万 km²ですか。

日本の国土面積...約〔 3 8 〕万 km²

問 8 日本のおよそ 45 倍の国土面積をもつ、世界一広い国の名を答えなさい。

〔 ロシア(ロシア連邦) 〕

問 9 日本よりも国土面積の小さい国を次から選んで、記号で答えなさい。

ア ドイツ イ ブラジル ウ オーストラリア [ア]

問 10 北方領土をめぐって、日本と意見が対立している国の名を答えなさい。

〔 ロシア(ロシア連邦) 〕

問 11 竹島について、次の問いに答えなさい。

1 竹島が属している県の名を答えなさい。 [島根] 県

2 竹島が自分の国の領土であると主張し、日本との間で意見がまとまっていない国の名を答えなさい。 [韓国(大韓民国)]

問12 沖縄県の石垣島の北北西に位置する、魚釣島などからなる島々を何といいますか。
[尖閣諸島]

問13 2017年時点の日本の人口は、どのくらいですか。
約 [1億2700] 万人

問14 日本とほぼ同じ緯度にある国で、人口が世界一多い国の名を答えなさい。
[中国(中華人民共和国)]

問15 2017年時点の世界の人口は、どのくらいですか。
約 [76] 億人

問16 1 km²あたりの人口のことを何といいますか。 [人口密度]

問17 1950年代半ばから1970年代初めにかけて、日本の経済が大きく発展し、多くの人々が農村などから都市に移り住みました。この時期のことを何といいますか。
[高度経済成長期]

問18 過密化(都市に人口や産業があまりに集中してしまうこと)によって引き起こされる都市問題の例を一つあげなさい。
[住宅不足・大気汚染・交通渋滞・騒音・振動・ごみ処理問題]

問19 農村などで人口が減ると、特に若い働き手が減って田畑や山が荒れ、学校が閉鎖されるなど、くらしが成り立ちにくくなります。このような状態のことを何といいますか。
[過疎(過疎化)]

問20 商業・サービス業・運輸業などは、第一次産業・第二次産業・第三次産業のどれにあてはまりますか。
[第三次産業]

問21 65歳以上の高齢者が全人口の21%以上をしめていて、その割合が今後とも増えると考えられる社会を何といいますか。
[超高齢社会]

問22 第二次世界大戦後の1947～1949年に、多くの子どもたちが生まれました。この時期のことを何といいますか。
[ベビーブーム(第一次ベビーブーム)]

問23 国が、その国に住む人の年齢・性別・職業などについて、5年に一度、10月に行う全国的な調査の名を答えなさい。
[国勢調査]

5 年上 要点チェック 第11回

氏名〔 〕

問1 広大なカルデラをもつ、熊本県に位置する火山の名を答えなさい。

[**阿蘇山**]

問2 九州南部に広がる、火山灰が積もった台地を何といいますか。

[**シラス**]台地

問3 筑紫平野と八代平野を流れている川の名をそれぞれ答えなさい。

筑紫平野... [**筑後**]川 八代平野... [**球磨**]川

問4 1月でも月平均気温が17 ほどある、沖縄県の県庁所在地の名を答えなさい。

[**那覇**]市

問5 有明海に面している県の名を四つ答えなさい。

[**長崎**]県 [**佐賀**]県 [**福岡**]県 [**熊本**]県

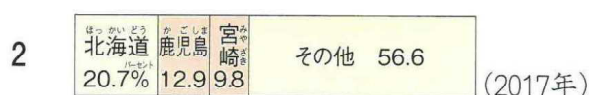
問6 かつて、筑紫平野で多く見られた、網の目のような水路を何といいますか。

[**クリーク**]

問7 促成栽培がさかんで、日本で有数のピーマンの生産量をあげている、九州地方にある県の名を答えなさい。

[**宮崎**]県

問8 次の1・2のグラフは、農産物の生産割合と家畜の飼育数の割合を示したものです。あてはまる農産物の名と家畜の名をそれぞれ答えなさい。



1 [**さつまいも(甘藷)**]

2 [**肉牛**]

問9 東シナ海などには、陸地が続く、かたむきのゆるやかな海底が広がっています。このような海底を何といいますか。

[**大陸棚**]

問10 有明海で特に養殖がさかんな水産物の名を答えなさい。

[**のり**]

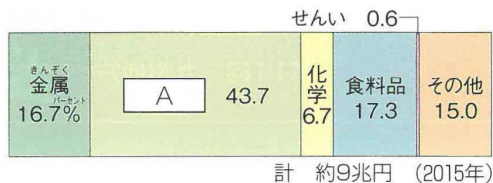
問11 真珠の養殖で知られる、長崎県にある湾の名を答えなさい。

[**大村**]湾

問12 1901年に八幡製鉄所が鉄鋼の生産を始めたことをきっかけに発展した、工業地帯（工業地域）の名を答えなさい。

[**北九州工業地帯(工業地域)**]

問13 右のグラフは、問12の工業地帯（工業地域）の生産額の割合を示しています。Aにあてはまる工業の名を答えなさい。



[**機械**]

問14 製鉄所と石油化学コンビナートがともにある、九州地方の都市の名を答えなさい。

[**大分**]市

問15 長崎と佐世保でともに発達している工業の名を答えなさい。

[**造船業**]

問16 九州と本州をへだてている海峡の名を答えなさい。

[**関門**]海峡

問17 福岡県には、東海道・山陽新幹線の下りの終着駅であり、九州新幹線の下りの始発駅でもある駅があります。この駅の名を答えなさい。

[**博多**]駅

問18 九州新幹線の下りの終着駅の名を答えなさい。

[**鹿児島中央**]駅

問19 九州地方の特色ある島について、次の1～3が説明している島の名をそれぞれ答えなさい。また、その島の位置をそれぞれ右の地図から選んで、記号で答えなさい。

1 すぎの原生林など豊かな自然が見られ、世界自然遺産に登録されています。

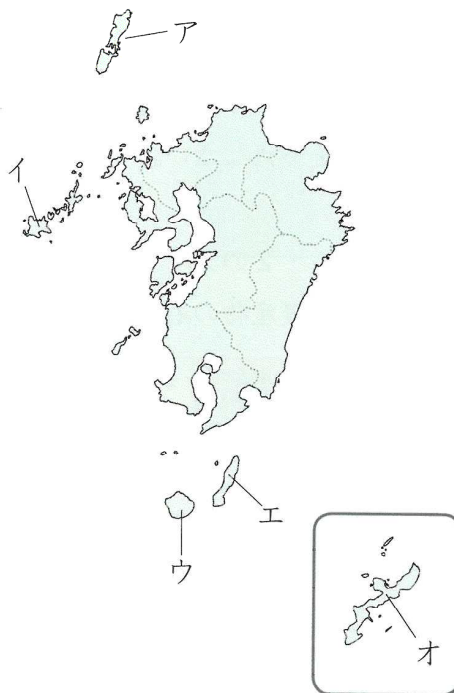
[**屋久島**] [**ウ**]

2 古くから朝鮮半島との交流の窓口となってきました。

[**対馬**] [**ア**]

3 宇宙ロケットの発射基地があります。

[**種子島**] [**エ**]



問20 近年、沖縄県で多く栽培され、3月や12月に特に多く出荷される花の名を答えなさい。

[**きく**]

問21 九州地方にある百万都市の名を答えなさい。

[**福岡**]市

問1 秋吉台あきよしだいに代表される、石灰岩せっかいがんのできた土地が、長い間に雨によってとかされてできた地形を何といいますか。

〔 カルスト地形(カルスト台地) 〕

問2 中国地方の日本海側の地域ちいきは、何とよばれますか。また、瀬戸内海側の地域せとないかいは、何とよばれますか。

日本海側... 〔 山陰さんいん 〕, 瀬戸内海側... 〔 山陽さんよう 〕

問3 中国地方の日本海側にある、日本最大級の砂丘さきゅうの名を答えなさい。

〔 鳥取 〕砂丘

問4 香川用水すいげんの水源となっている川の名を答えなさい。また、香川用水は、何という平野に水を引いていますか。

〔 吉野 〕川, 〔 讃岐さぬき 〕平野

問5 中国・四国地方で、みかんの栽培さいばいと真珠しんじゆの養殖ようしょくがともにさかんな県の名を答えなさい。

〔 愛媛えひめ 〕県

問6 高知平野では、なすやピーマンなどの早づくりがさかんに行われています。このような、ビニールハウスなどを用いて行われる早づくりを何といいますか。

〔 促成栽培そくせいさいばい 〕

問7 日本海側で最も水揚げ量の多い、鳥取県にある漁港の名を答えなさい。

〔 境港さかいこう 〕

問8 島根県にある湖は、しじみがとれることで有名です。この湖の名を答えなさい。

〔 宍道湖しんじこ 〕

問9 海水のよごれなどが原因でプランクトンが多く発生し、海が赤く染まったようになる現象げんしょうを何といいますか。

〔 赤潮あかしお 〕

問10 四国の沖合おきあいは、かつおやまぐろがとれる漁場ぎょじょうとなっています。ここを流れる暖流だんりゅうの名を答えなさい。

〔 日本海流(黒潮)くろしお 〕

問11 オリーブやしょうゆの生産で知られている小豆島しょうどしまは、何という県にありますか。

〔 香川かがわ 〕県

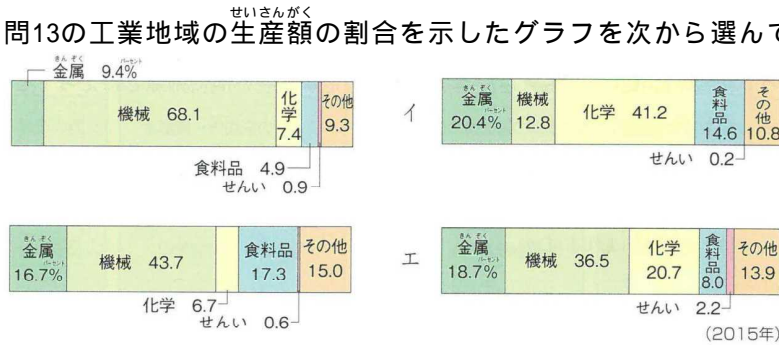
問12 400年以上前から干拓かんたくが行われてきた、岡山県にある湾わんの名を答えなさい。

〔 児島こじま 〕湾

問13 岡山県・広島県・山口県・香川県・愛媛県に広がる工業地域いぎの名を答えなさい。

[**瀬戸内**] 工業地域

問14 問13の工業地域の生産額の割合を示したグラフを次から選んで，記号で答えなさい。



[**エ**]

問15 問13の工業地域について，次の問いに答えなさい。

1 石油化学工業がさかんな都市の名を2つ答えなさい。

[**倉敷市**] [**周南市**]

2 鉄鋼業がさかんな都市の名を3つ答えなさい。

[**倉敷市**] [**福山市**] [**呉市**]

3 セメント工業がさかんな都市の名を2つ答えなさい。

[**宇部市**] [**山陽小野田市**]

4 愛媛県今治市での生産が全国的に知られている工業製品の名を答えなさい。

[**タオル**]

問16 高知県でつくられている伝統的工芸品の和紙には，高知県の昔の国名がつけられています。この和紙を何といいますか。

[**土佐和紙**]

問17 本州四国連絡橋のうち，岡山県と香川県を結んでいる橋の名を答えなさい。

[**瀬戸大橋**]

問18 瀬戸内しまなみ海道によって結ばれている都市の名を二つ答えなさい。

[**尾道市**] [**今治市**]

問19 中国地方の中心都市である広島は，三角州の上に発達した都市です。この三角州は，何という川がつくり出したものですか。

[**太田**] 川

問20 広島に原子爆弾が落とされた年月日を答えなさい。

[**1945**] 年，[**8**] 月，[**6**] 日

問21 広島県にある世界文化遺産の名を2つ答えなさい。

[**原爆ドーム**] [**厳島神社**]

問22 世界文化遺産になっている石見銀山遺跡がある県の名を答えなさい。

[**島根**] 県

5 年上 要点チェック 第13回

氏名〔 〕

問1 丹後半島のつけ根には、日本三景の一つがあります。この日本三景の名を答えなさい。

[**天橋立**]

問2 滋賀県の面積の約6分の1をしめる、日本最大の湖の名を答えなさい。

[**琵琶**]湖

問3 淀川は、名前を変えながら三つの府県を流れて、海に注ぎます。これらの府県の名を上流から順に答えなさい。

[**滋賀県**], [**京都府**], [**大阪府**]

問4 瀬戸内海にある島のうちでは面積が最大で、たまねぎや花の栽培がさかんな島の名を答えなさい。また、この島が属している府県の名を答えなさい。

[**淡路島**], [**兵庫県**]

問5 京都府でつくられている、高級な茶として有名な茶の名を答えなさい。

[**宇治茶**]

問6 みかんとかき、うめの生産量がともに日本一である府県の名を答えなさい。

[**和歌山県**]

問7 吉野すぎなどは、切り出されたあと、かつてはいかだ流しによって河口の都市まで運ばれました。河口の和歌山に木を運ぶのに使われた川の名を答えなさい。

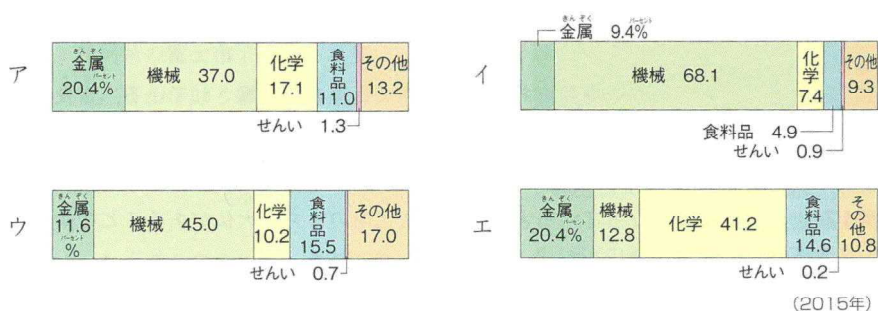
[**紀ノ**]川

問8 真珠の養殖がさかんな英虞湾のある半島の名を答えなさい。

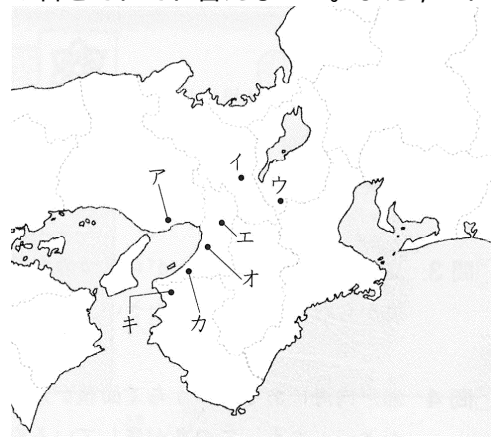
[**志摩**]半島

問9 大阪府と兵庫県を中心とする工業地帯の名を答えなさい。また、この工業地帯の生産額の割合を示したグラフを次から選んで、記号で答えなさい。

[**阪神**]工業地帯, [**ア**]



問10 問9の工業地帯について、次の1～4の文が述べている都市の名をそれぞれ答えなさい。また、これらの都市の位置をそれぞれ右の地図から選んで、記号で答えなさい。



1 大阪湾沿いの埋め立て地で、石油化学工業が発達しました。

[**堺**]市,[**オ**]

2 この工業地帯の南部に位置し、鉄鋼業がさかんです。

[**和歌山**]市,[**キ**]

3 日本有数の貿易港があり、造船業が発達しています。

[**神戸**]市,[**ア**]

4 淀川沿いの内陸の地域で、おもに電気機器の生産が発達しました。

[**門真**]市,[**エ**]

問11 京都などで生産されている絹織物で、伝統的工芸品に指定されているものの名を答えなさい。

[**西陣織**]

問12 たぬきの置き物などで知られる、滋賀県で生産されている伝統的工芸品の名を答えなさい。

[**信楽焼**]

問13 神戸と淡路島を結ぶ、世界で最も長いつり橋の名を答えなさい。

[**明石海峡大橋**]

問14 神戸の沖合いにつくられた人工島の名を二つ答えなさい。

[**ポートアイランド**], [**六甲アイランド**]

問15 大阪湾の南部を埋め立ててつくられた海上空港の名を答えなさい。

[**関西国際**]空港

問16 世界で最も古い木造建築があって、世界文化遺産に登録されている、奈良県にある寺の名を答えなさい。

[**法隆寺**]

問17 世界文化遺産になっている古都奈良の文化財のうち、大仏があることで知られている寺の名を答えなさい。

[**東大寺**]

問18 400年ほど前につくられ、その美しさから白鷺城ともよばれる城の名を答えなさい。

[**姫路城**]

5 年上 要点チェック 第14回

氏名〔 〕

問1 木曾川や長良川の下流に広がっている平野の名を答えなさい。

[**濃尾**]平野

問2 周囲を山に囲まれた甲府盆地には、山から平地に川が流れ出るところに土砂が積もってでき地形が多く見られます。この地形を何といいますか。

[**扇状地**]

問3 日本で最も長い川は、長野県から新潟県を流れて、日本海に注いでいます。この川の名を答えなさい。

[**信濃**]川

問4 中部地方の太平洋側の地域は、何とよばれますか。また、日本海側の地域は、何とよばれますか。

太平洋側... [**東海地方**], 日本海側... [**北陸地方**]

問5 茶の栽培が特にさかんな、静岡県にある台地の名を答えなさい。また、この台地の北東側を流れている川の名を答えなさい。

台地... [**牧ノ原**]台地, [**大井**]川

問6 豊川用水が引かれ、電照菊の栽培などで知られている半島の名を答えなさい。

[**渥美**]半島

問7 八ヶ岳山ろくの野辺山原などで栽培されているレタスやキャベツなどの野菜を、特に何といいますか。

[**高原**]野菜

問8 山梨県では、くだものづくりがさかんです。この県が日本一の生産量をあげているくだもの名を二つ答えなさい。

[**ぶどう**]・[**もも**]

問9 全国でも有数の水揚げ量をほこり、まぐろやかつおをとる遠洋漁業の基地として知られる、静岡県の漁港の名を答えなさい。

[**焼津**]港

問10 浜名湖は、ある水産物の養殖で全国に知られています。この水産物の名を答えなさい。

[**うなぎ**]

問11 愛知県を中心とする工業地帯は、工業生産額が日本一の工業地帯です。この工業地帯の名を答えなさい。

[**中京**]工業地帯

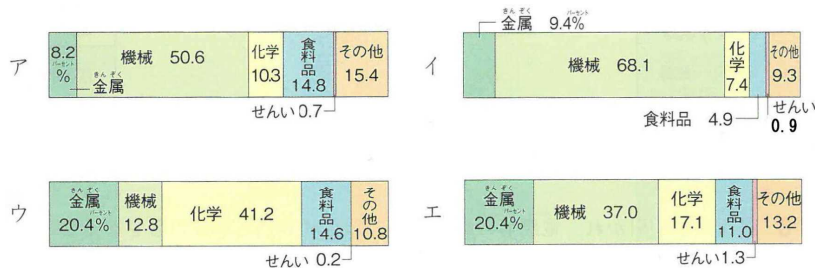
問12 問11の工業地帯にふくまれる都市について、次の1～4の文が述べている都市の名をそれぞれ答えなさい。

- 1 日本の自動車工業の中心となっている企業城下町です。 [**豊田**] 市
- 2 この都市で生産された鉄鋼が、自動車の材料などに使われています。 [**東海**] 市
- 3 石油化学コンビナートがある都市です。かつて、工場から排出された煙が原因で、四大公害の一つが発生しました。 [**四日市**] 市
- 4 とんりの県の多治見市とともに、陶磁器の生産で知られています。 [**瀬戸**] 市

問13 静岡県に広がる工業地域を何といいますか。また、この工業地域にふくまれる富士市で特に発達した工業の名を答えなさい。

[**東海**] 工業地域, [**製紙・パルプ工業**]

問14 問11・問13の工業地帯・工業地域の生産額の割合を示したグラフをそれぞれ次から選んで、記号で答えなさい。



問11 [**イ**]

問13 [**ア**]

問15 長野県のほぼ中央にある湖の周辺では、電子工業が発達しました。この湖の名を答えなさい。

[**諏訪**] 湖

問16 石川県で生産されている伝統的工芸品を次から2つ選んで、記号で答えなさい。

- ア **西陣織** イ **南部鉄器** ウ **加賀友禅**
 エ **小千谷ちぢみ** オ **輪島塗**

[**ウ・オ**]

問17 リアス海岸が続いていることで知られる福井県にある湾の沿岸には、原子力発電所が多くつくられました。この湾の名を答えなさい。

[**若狭**] 湾

問18 東京と新潟を結んでいる新幹線の名と、高速道路の名をそれぞれ答えなさい。

新幹線 [**上越**] 新幹線, 高速道路 [**関越自動車道**]

問19 長野県が県境を接している中部地方の県の名を、山梨県から時計回りに、すべて答えなさい。

山梨県 [**静岡**] 県 [**愛知**] 県 [**岐阜**] 県
 [**富山**] 県 [**新潟**] 県 (群馬県 埼玉県)

5 年上 要点チェック 第16回

氏名 []

問1 関東地方と中部地方の境に位置する山地・山脈の名を二つ答えなさい。

[関東] 山地・[越後] 山脈

問2 流域面積が日本一の川で、坂東太郎ともよばれる川の名を答えなさい。

[利根] 川

問3 千葉県の東部に広がる、海岸線の単調な海岸の名を答えなさい。

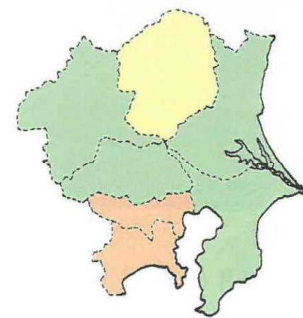
[九十九里浜]

問4 富士山や箱根山などの火山灰が変化してできた赤土を何といいますか。


[関東ローム]

問5 関東地方では、大消費地に出荷するための野菜や花などの栽培がさかんです。大都市の周辺で行われる、このような農業を何といいますか。

[近郊] 農業



野菜の生産額



問6 すずしい高原の気候をいかしたキャベツなどの生産で全国的に有名な、群馬県にある村の名を答えなさい。

[嬬恋村]

問7 右の地図を見て、関東地方の都県のうち、野菜の生産額が500億円以上の都県の名をすべて答えなさい。

[茨城県・千葉県・埼玉県・群馬県・栃木県]

問8 群馬県の下仁田町で多く栽培されている工芸作物の名を答えなさい。

[こんにゃく芋]

問9 全国でも有数の水揚げ量をほこっている、千葉県の漁港の名を答えなさい。

[銚子] 港

問10 次の1～4の文が説明している工業地帯・地域の名を答えなさい。

1 1998年まで、日本一の工業地帯でした。機械工業や印刷業がさかんです。

[京浜工業地帯]

2 埼玉県・栃木県・群馬県に広がっています。自動車や電気機器の生産がさかんです。

[関東内陸工業地域]

3 千葉県の東京湾沿岸に広がっています。鉄鋼業と石油化学工業がさかんです。

[**京葉工業地域**]

4 沿岸部につくられた掘り込み港の周囲に発達しました。重化学工業がさかんです。

[**鹿島臨海工業地域**]

問11 次の1～4の文が説明している工業都市の名を答えなさい。

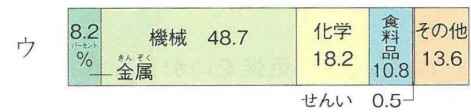
1 東京都に接している都市です。海沿いの埋め立て地に、製鉄所や石油化学コンビナートがつくられています。 [**川崎市**]

2 埼玉県にある、セメントの生産で有名な都市です。 [**秩父市**]

3 鹿島臨海工業地域にふくまれる、製鉄業が発達した都市です。 [**鹿嶋市**]

4 千葉県にある工業都市で、千葉市とともに大きな製鉄所があります。 [**君津市**]

問12 右の三つのグラフのうち、京葉工業地域の工業生産の割合を示したグラフはどれですか。記号で答えなさい。



(2015年)

[**イ**]

問13 東京駅を出発した東北新幹線と上越新幹線は、ある駅で分かれて目的地に向かいます。埼玉県にある、この駅の名を答えなさい。

[**大宮**] 駅

問14 次の1～3の都県を順に通る新幹線の名をそれぞれ答えなさい。

1 東京都 埼玉県 茨城県 栃木県 [**東北**] 新幹線

2 東京都 神奈川県 [**東海道(東海道・山陽)**] 新幹線

3 東京都 埼玉県 群馬県 長野県 新潟県 富山県 石川県 [**北陸**] 新幹線

問15 関越自動車道は、東京と何という県を結ぶ高速道路ですか。

[**新潟**] 県

問16 かつて、都心部の環境が悪くなったり、地価が上がったりしたために都心部の人口が減り、その周辺や郊外の人口が増える現象が見られました。この現象を何といいますか。

[**ドーナツ化現象**]

問17 東京タワーに代わる電波塔として、東京都墨田区に建設された塔の名を答えなさい。

[**東京スカイツリー**]

5 年上 要点チェック 第17回

氏名 []

問1 オランダの技術を取り入れて^{かんたく}干拓された秋田県の湖の名を答えなさい。また、この干拓の結果、1964年に誕生した村の名を答えなさい。

湖... [^{はちろうがた}八郎潟] , 村の名... [^{おおがた}大潟] 村

問2 東北地方を太平洋側と日本海側に分けている、日本一長い山脈の名を答えなさい。

[^{おうう}奥羽] 山脈

問3 岩手県から宮城県を流れ、太平洋に注ぐ、東北地方で最も長い川の名を答えなさい。

[^{きたかみ}北上] 川

問4 三大急流の一つである最上川の河口に広がる平野の名を答えなさい。

[^{しょうない}庄内] 平野

問5 秋田県にある、日本で最も深い湖の名を答えなさい。

[^{たざわ}田沢] 湖

問6 全国のりんごのおよそ半分を生産している県の名を答えなさい。また、この県で特にりんごの栽培がさかんな平野の名を答えなさい。

[^{あおもり}青森] 県 , [^{つがる}津軽] 平野

問7 山形県が全国の生産量の70%以上(2016年)を生産しているくだもの名を答えなさい。

[^{おうとう(さくらんぼ)}]

問8 右のグラフは、あるくだもの都道府県別の生産量割合を示しています。このくだもの名を答えなさい。

[^{もも}]

^{やまなし} 山梨 31.3%	^{ふくしま} 福島 23.0	^{ながの} 長野 12.6	その他 33.1
--------------------------	-------------------------	------------------------	----------

(2016年)

問9 三大美林のうち、東北地方にあるものの名を、北から順に二つ答えなさい。

[^{つがる}津軽ひば(青森ひば)] , [^{あきた}秋田すぎ]

問10 東北三大祭りの一つで、秋田市で毎年8月に行われる祭りの名を答えなさい。

[^{かんとろう}竿燈]

問11 三陸海岸の沖は、暖流と寒流が出合う潮目ができるため、よい漁場となっています。この潮目をつくる海流の名を2つ答えなさい。

暖流... [^{くろしお}黒潮(日本海流)] , 寒流... [^{おやしお}親潮(千島海流)]

問12 青森県は、ほたて貝の養殖ようしょくがさかんです。この県で特にほたて貝が多く養殖されている湾わんの名を答えなさい。

[**陸奥**] 湾

問13 東北地方には、空港や高速道路の整備せいびにともなって、どのような工業が進出しましたか。

[**電子工業**]

問14 次の1～3の伝統的工芸品がつくられている県の名をそれぞれ答えなさい。

1 南部鉄器なんぶてつき 2 会津塗あいづぬり 3 天童将棋駒てんどうしょうぎこま

[**岩手**] 県, [**福島**] 県, [**山形**] 県

問15 東京と新青森を結んでいる新幹線しんかんせんの名を答えなさい。 [**東北**] 新幹線

問16 東京駅を出発した下りの山形新幹線は、ある駅で東北新幹線と分かれます。この駅の名を答えなさい。また、山形新幹線の下りの終着駅の名を答えなさい。

[**福島**] 駅, 終着駅... [**新庄**] 駅

問17 新青森と新函館北斗はこだてほくとを結ぶ北海道新幹線が通る海底トンネルの名を答えなさい。

[**青函トンネル**]

問18 東京と青森県を結ぶ、日本で最も長い高速道路の名を答えなさい。

[**東北自動車道**]

問19 右の地図は、東北地方のおもな発電所を示しています。Aが示している発電所の種類を答えなさい。

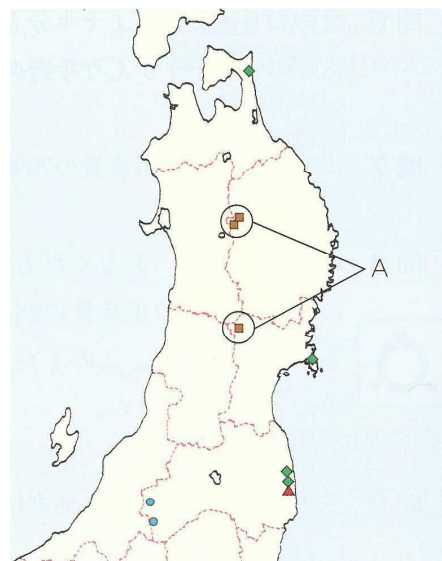
[**地熱発電**]

問20 古くから城下町じょうかまちとして栄え、今では人口100万人以上をかかえる、東北地方の中心都市の名を答えなさい。

[**仙台**] 市

問21 青森県と秋田県あきたの境さかいに位置する、世界自然遺産になっている山地の名を答えなさい。

[**白神**] 山地



問22 世界文化遺産ひらいずみになっている平泉がある県の名を答えなさい。 [**岩手**] 県

問23 初夏、東北地方の太平洋側に、おもに北東からふく冷たい風は、冷害の原因になることがあります。この風を何といいますか。

[**やませ**]

問1 北海道のほぼ中央に位置し、大雪山などの山がある山地の名を答えなさい。

〔 石狩 〕山地

問2 問1の山地から流れ出ている川の流域には、稲作がさかんな盆地があります。この盆地の名を答えなさい。

〔 上川 〕盆地

問3 北海道の太平洋側で、春から夏にかけて、黒潮の上のあたたかいしめった空気が親潮の上の冷たい空気によって冷やされて発生するものを何といいますか。

〔 濃霧（海霧） 〕

問4 ジャガイモ・てんさい・小麦などの輪作が行われている、北海道の畑作の中心となっている平野の名を答えなさい。

〔 十勝 〕平野

問5 特に酪農がさかんな、北海道東部の台地の名を答えなさい。

〔 根釧 〕台地

問6 かつては日本一の水揚げ量をほこっていましたが、1990年代に水揚げ量が大きく減った北海道東部の漁港の名を答えなさい。

〔 釧路 〕港

問7 サロマ湖などで多く養殖されている水産物の名を答えなさい。

〔 ホタテ貝 〕

問8 北海道を代表する重工業都市で、鉄鋼業がさかんな都市の名を答えなさい。

〔 室蘭 〕市

問9 北海道南部に位置し、製紙・パルプ工業のほかに石油精製が行われている都市の名を答えなさい。

〔 苫小牧 〕市

問10 たんちょうが生息していることで知られる国立公園の名を答えなさい。

〔 釧路湿原 〕国立公園

問11 北海道がかつて蝦夷地とよばれていたころから、北海道に住んでいた先住民族を何といいますか。

〔 アイヌ 〕民族

問12 北海道の道庁所在地は、北海道の政治・経済・文化の中心地です。この都市の名を答えなさい。

〔 札幌 〕市

問13 北海道にある世界自然遺産の名を答えなさい。〔 知床 〕

問14 水鳥の生息地として重要な湿地と、そこにすむ生物を保護するために結ばれた条約を何といいますか。

[ラムサール] 条約

問15 北海道の空の玄関ともいわれる空港の名を答えなさい。 [新千歳] 空港

問16 次の1～11の文が述べている都市の名をそれぞれ答えなさい。また、それぞれの都市の位置をそれぞれ下の地図から選んで、記号で答えなさい。

1 日本の首都です。多くの人や情報が集まり、新聞社や出版社、大学などが多いことから、特に印刷業が発達しました。

[東京], [エ]

2 商業が栄え、全国の産物が集まってきたことから、かつて「天下の台所」とよばれました。

[大阪市], [コ]

3 中京工業地帯で製造された自動車が、この都市にある港から多く輸出されています。

[名古屋市], [ケ]

4 ポートアイランドなどの人工島がつくられました。灘の清酒などの特産品も有名です。

[神戸市], [ス]

5 約1100年の間、日本の都がおかれていました。清水焼などの伝統的工芸品が多くつくられています。

[京都市], [シ]

6 京浜工業地帯の工業都市で、埋め立て地に製鉄所や石油化学コンビナートがつくられています。

[川崎市], [カ]

7 杜の都とよばれ、8月には、東北三大祭りの一つである七夕が行われます。

[仙台市], [イ]

8 昔から商人の町として栄えてきた、大阪府第二の都市です。

[堺市], [サ]

9 信濃川の河口に位置する本州の日本海側でただ一つの政令指定都市です。

[新潟市], [ウ]

10 静岡県で最も人口の多い都市で、うなぎの養殖で有名な浜名湖があります。

[浜松市], [ク]

11 広島とともに、中国地方に位置する政令指定都市です。日本三名園の一つ、後楽園があります。

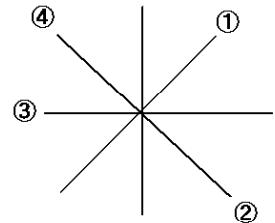
[岡山市], [セ]



問1 地図は、ふつう、どちらの方位ほういを上にしてつくられていますか。 [北]

問2 右の図の ~ が示している方位ほういを、それぞれ答えなさい。

- [北東] [南東]
[西] [北西]



問3 [A] からの高さが等しい地点を結んだ線を、等高線とといいます。等高線と等高線の間がせまいほど、土地のかたむきは [B] になります。 [A] ・ [B] にあてはまることばをそれぞれ答えなさい。

- A ... [海面], B ... [急]

問4 縮尺 25000分の1の地形図の上で4 cmの長さは、実際の距離じっさい きょりは何mになりますか。

- [1000] m









問5 縮尺 25000分の1の地形図では、等高線は何mおきに引かれていますか。

- [10] m

問6 次の1～12の地図記号が示しているものを、それぞれ答えなさい。

- | | | | |
|---|--|--|--|
| 1  | 2  | 3  | 4  |
| [老人ホーム] | [郵便局] | [風車(風力発電の風車)] | [寺院] |
| 5  | 6  | 7  | 8  |
| [図書館] | [消防署] | [発電所] | [神社] |
| 9  | 10  | 11  | 12  |
| [市役所(東京23区の区役所)] | [病院] | [警察署] | [高等学校] |

問7 次の1～8の地図記号ちず きごうが示しているものを、それぞれ答えなさい。

- | | | | |
|---|---|---|---|
| 1  | 2  | 3  | 4  |
| [果樹園(くだもの畑)] | [茶畑] | [針葉樹林] | [広葉樹林] |
| 5  | 6  | 7  | 8  |
| [田] | [荒地] | [畑] | [小畑] |

