

問9 ^{えんがん}沿岸から12カイリまでの海を何といいますか。

{ }

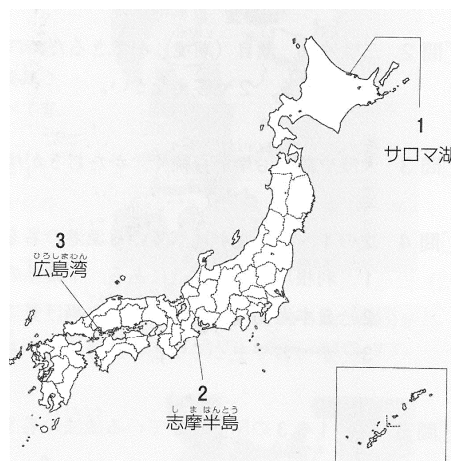
問10 ^{えんがんこく}沿岸国には、^{しげん}水産資源などを自分の国のものとする^{すいいき}水域が認められています。この水域を何といいますか。また、その水域は沿岸から何カイリまでと定められていますか。

{ } 水域 ・ { } カイリ

問11 右の地図の1～3の地域でさかんに^{ようしよく}養殖されている水産物をそれぞれ次から選んで、記号で答えなさい。

- ア かき イ うなぎ ウ ほたて貝
エ のり オ 真珠 カ きんぎょ

1 [] 2 [] 3 []



問12 ^{ちぎょ}稚魚を放流して、自然の中で成長させ、育った魚をとる漁業を何といいますか。

{ } 漁業

問13 ^{うおいちば}魚市場などでは、買いたい人たちに^{ねだん}値段をつけさせ、最も高い値段をつけた人に売る売り方が行われています。この方法を何といいますか。

{ }

問14 2016年時点で、^{ぎょかくりょう}漁獲量が世界一である国の名を答えなさい。

{ }

問15 日本が輸入している水産物のうち、特に輸入額の大きいものを2つ答えなさい。

{ } ・ { }

問16 ^{すいさん しげん}水産資源を減らさないための工夫として正しくないものを次から選んで、記号で答えなさい。

- ア 魚が^{たまご}卵を産む時期には^{りょう}漁をしません。
イ ^{ちぎょ}稚魚がかからないように、魚をとるあみの目を小さくします。
ウ 海岸に、多くの魚が集まる^{うおつきりん}魚付林をつくります。

[]

問17 魚のかくれ場や^{さんらん}産卵の場として^{じゅうよう}重要な、^{かいてい}海底につき出た岩山のようなところを何といいますか。

{ }

問10 石油や石炭を大量に燃やすと、大気中に二酸化炭素が増えて、地球全体があたたまってしまうことが心配されています。この現象を何といいますか。

[]

問11 原子力発電の燃料として使われる資源の名を答えなさい。

[]

問12 1963年、日本で初めての原子力発電が行われた、茨城県の村の名を答えなさい。

[]

問13 地中に埋もれた大昔の植物や動物の死がいなどが長い年月をかけて変化し、石油や石炭などになりました。このようにしてできた燃料を何といいますか。

[]

問14 水力発電を行うなどの目的で、内陸の山間部につくられる大規模な施設を何といいますか。

[]

問15 火山の地中から取り出した蒸気や熱水を利用して行われる発電を何といいますか。

[]

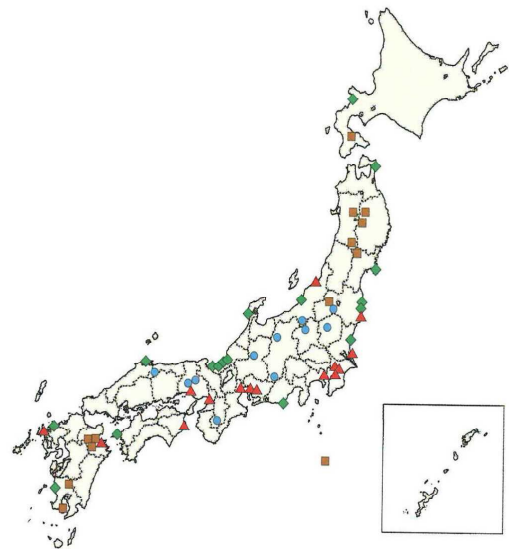
問16 出力が1000 kW以上ある、大規模な太陽光発電を行う施設を何といいますか。

[]

問17 右の地図の ●・▲・■ が示している発電所は何ですか。

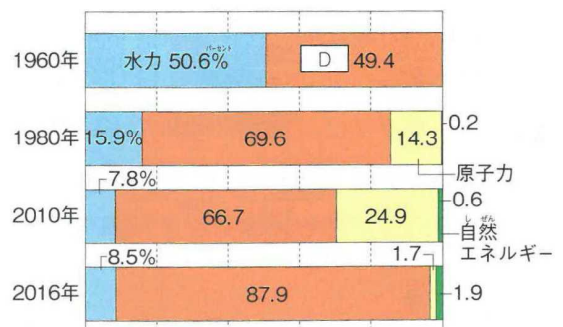
- ア 水力発電
- イ 火力発電
- ウ 原子力発電
- エ 地熱発電

● [], ▲ [], ■ []



問18 右のグラフは、発電のエネルギー源の変化を示しています。Dにあてはまる発電の種類の名を答えなさい。

[]



氏名 []

問 1 ^{きんぞく} 金属工業・^{ひつよう} 機械工業・^{けいがく} 化学工業をあわせて、何とイイますか。

[] 工業

問 2 問 1 の工業は、日本の^{こうぎょうせいさんがく} 工業生産額のうち、どのくらいの割合をしめてイイますか。

[]

問 3 問 1 以外の工業をまとめて、何とイイますか。

[]

問 4 ^{てっこう} 鉄鋼をつくるのに^{ひつよう} 必要な^{しげん} 資源の名を 3 つ答えなさい。

[] ・ [] ・ []

問 5 問 4 で答えた^{しげん} 資源のうち、日本で^{ひつよう} 必要とする量を 100% 国内でまかなえる資源は何ですか。

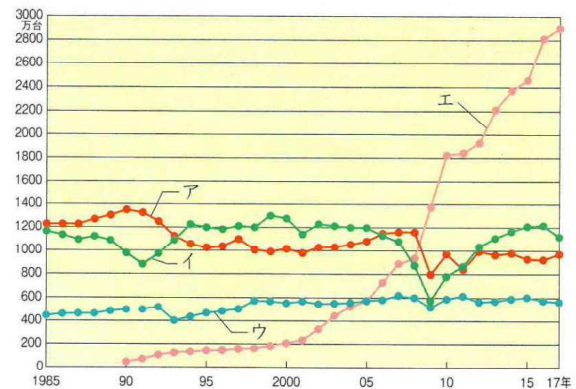
[]

問 6 ^{せいさんがく} 機械工業のうちで、最も生産額の大きい^{せいひん} 製品は何ですか。

[]

問 7 右のグラフは、おもな国の自動車生産台数です。日本を示しているものをグラフから選んで、記号で答えなさい。

[]



問 8 自動車をつくるときの作業の順として正しいものを次から選んで、記号で答えなさい。

- ア 溶接する プレスする 組み立てる 塗装する
- イ 組み立てる 溶接する 塗装する プレスする
- ウ プレスする 溶接する 塗装する 組み立てる

[]

問 9 自動車の組立工場が必要とするときに必要とする数だけ、関連工場が自動車の部品を運ぶ方法を、何とイイますか。

[]

問 10 コンピューターの^{でんし ぶひん} 電子部品などに使われている、電気を通したり通さなかったりする^{ぶっしつ} 物質を何とイイますか。

[]

問11 問10の物質を使ってつくられる、複雑な電気回路をごく小さくまとめたものを何といいますか。

[]

問12 工場で、危険な作業や、働く人の負担が大きい作業を、人にかわって行う機械を何といいますか。

[]

問13 化学工業の製品にあてはまらないものを次から選んで、記号で答えなさい。

ア 肥料 イ プラスチック ウ ガラス エ 薬品
[]

問14 石油に関係するさまざまな工場がパイプで結ばれているしくみの名を答えなさい。

[]

問15 石油精製工場で、原油から取り出される燃料油にあてはまらないものを次から選んで、記号で答えなさい。

ア ウラン イ 重油 ウ 灯油 エ ガソリン []

問16 石油精製工場で、原油から取り出され、化学工業製品の原料となるものを何といいますか。

[]

問17 原料の輸入などに便利なことから、臨海部に工場がつけられている工業としてあてはまらないものを次から選んで、記号で答えなさい。

ア 石油化学工業 イ 鉄鋼業 ウ 自動車工業 []

問18 米や麦などを発酵させて、酒・みそ・しょうゆなどをつくる工業を、特に何といいますか。

[]

問19 土や石を焼いたりとかしたりして製品をつくる工業の名を答えなさい。

[]

問20 木材を細かくくだいたチップを薬品でとかし、せんいを取り出したものは、紙の原料となります。これを何といいますか。

[]

問21 次の1・2のせんいは、それぞれ何からつくられますか。

1 綿糸 [] 2 生糸 []

問22 次の1・2の文が説明しているエコカーを、それぞれ何といいますか。

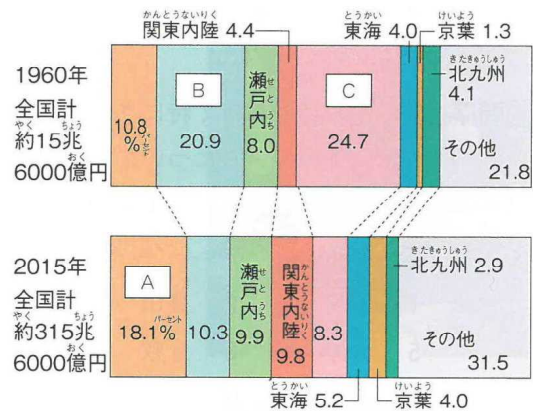
1 蓄電池にためたエネルギーだけを使って走ります。 []

2 水素と酸素を利用して走ります。 []

氏名 []

問 1 右のグラフは、工業地帯・工業地域の生産額の割合を示しています。グラフの [A]・[B] にあてはまる工業地帯・工業地域の組み合わせとして正しいものを次から選んで、ア～エの記号で答えなさい。

ア [A] = 中京 ・ [B] = 阪神
 イ [A] = 阪神 ・ [B] = 中京
 ウ [A] = 中京 ・ [B] = 京浜
 エ [A] = 京浜 ・ [B] = 阪神



問 2 次の 1～3 が説明している工業地帯の名をそれぞれ答えなさい。

1 工業生産額が日本一で、特に自動車工業が発達しています。

[] 工業地帯

2 東京都と神奈川県にまたがる工業地帯で、かつては日本一の工業地帯でした。

[] 工業地帯

3 大阪湾の沿岸と内陸部に広がる工業地帯です。中小工場がわりあい多いという特色があります。

[] 工業地帯

問 3 次の 1～4 の文が説明している工業地域の名をそれぞれ答えなさい。

1 東京湾の東側に位置しています。埋め立て地に大きな製鉄所や石油化学コンビナートがつくられています。

[] 工業地域

2 軍用地や塩田のあと地を利用して、瀬戸内海に面した埋め立て地に重化学工業の大規模な工場がつくられています。

[] 工業地域

3 埼玉県・栃木県・群馬県に広がる工業地域です。特に自動車や電気機器を製造する工業が発達しました。

[] 工業地域

4 静岡県に発達した工業地域です。二つの工業地帯の間に位置していて、交通の便がよいことなどが、工業が発達した理由の一つです。

[] 工業地域

問 4 関東地方から九州北部にかけての海沿いの地域は、多くの人口が集中するなどして、日本の工業の中心となってきました。この地域を何といいますか。

[]

氏名〔 〕

問 1 重化学工業が、現在の工業全体の生産額にしめる割合は、どのくらいですか。

〔 〕

問 2 重化学工業の中で、特に生産額の多い工業は何ですか。

〔 〕

問 3 かつてはせんいなどの軽工業が中心であった日本の工業は、1955～1973のころに、重化学工業中心になりました。この時期を、特に何といいますか。

〔 〕

問 4 重化学工業が太平洋に面した地域で特に発達したのは、燃料・原料の輸入と、製品の輸出に便利であったからです。太平洋に面したこの地域のことを何といいますか。

〔 〕

問 5 工場が海外に多く移転したために、国内の工業がおとろえることを何といいますか。

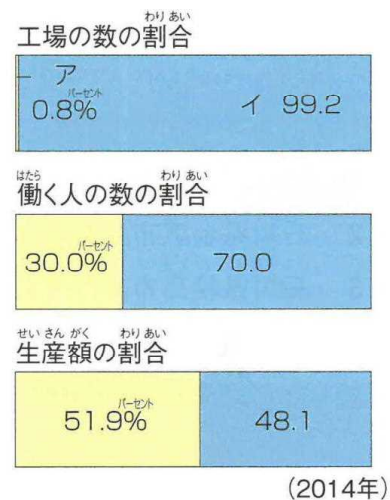
〔 〕

問 6 大工場との結びつきが強く、おもに部品を生産している工場を何といいますか。

〔 〕

問 7 働く人が300人に満たない工場を何といいますか。また、このような工場を示しているのは、右のグラフのア・イのどちらですか。

〔 〕・〔 〕



問 8 次の 1～3 の文が述べている公害病の名をそれぞれ答えなさい。

- 1 熊本県で発生しました。工場の排水にふくまれていた有機水銀によって、魚などが汚染され、それを食べた人の神経がおかされました。
- 2 三重県で発生しました。石油化学コンビナートの煙にふくまれる二酸化硫黄によって、呼吸が困難になるなどの症状が出ました。
- 3 富山県を流れる神通川の流域で発生しました。上流の神岡鉱山から流れ出たカドミウムにより、人の骨がもろくなってしまふなどの被害が生じました。

1 〔 〕 2 〔 〕 3 〔 〕

氏名 []

問1 日本の会社が海外で生産を行うことを何といいますか。

[]

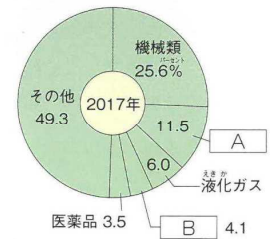
問2 海外に多くの工場が移ったために国内の工業がおとろえることを何といいますか。

[]

問3 外国から原材料を輸入し、工業製品をつくって輸出する貿易を何といいますか。

[]

問4 右のグラフは、日本のおもな輸入品を示しています。 [A] ・ [B]
にあてはまるものをそれぞれ答えなさい。



A [] , B []

問5 海外にある日本の会社の工場から、日本に製品を輸入することを何といいますか。

[]

問6 次の1～3の資源の輸入金額が第1位(2017年)の相手先の名をそれぞれ答えなさい。

- 1 鉄鉱石 2 石炭 3 原油

[] [] []

問7 次の1～4の食料の輸入金額が第1位(2017年)の相手先の名をそれぞれ答えなさい。

- 1 大豆 2 魚介類 3 とうもろこし 4 野菜

[] [] [] []

問8 日本が自動車を最も多く輸入している相手先の名を答えなさい。また、最も多く輸出している相手先の名を答えなさい。

輸入 [] , 輸出 []

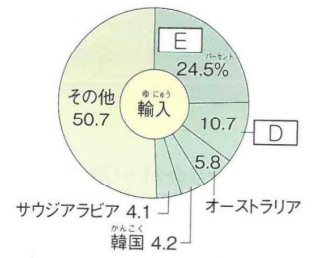

問9 輸出額が輸入額より多い状態のことを、貿易 [C] といいます。 [C] にあてはまることを答えなさい。

[]

問10 日本のおもな貿易相手先を示した右のグラフを見て、・にあてはまる国の名をそれぞれ答えなさい。

D []

E []



(2017年)

問11 日本で貿易額が最も多い貿易港の名を答えなさい。

[]

問12 自動車と自動車部品が、輸出額の1・2位(2017年)の品目になっている港の名を2つ答えなさい。また、これらの港の位置をそれぞれ右の地図から選んで、番号で答えなさい。

[] 港・[]

[] 港・[]



問13 輸入品目の上位5位以内に衣類がふくまれる貿易港としてあてはまらないものを次から選んで、記号で答えなさい。また、選んだ貿易港の位置を右の地図から選んで、番号で答えなさい。

ア 東京港 イ 神戸港 ウ 大阪港

エ 関西国際空港

貿易港 []・位置 []

問14 1ドル = 100円だった交換比率が、1ドル = 80円になることを、円高といいますが、それとも円安といいますが。

[]

問15 円高がすすむと、日本は、原材料や外国の製品を輸入しやすくなりますか、それとも輸入しにくくなりますか。

輸入 [] なる。

問16 工業製品の輸送に多く使われる、幅と高さ・長さが一定の箱形の容器を何といいますが。

[]

氏名 []

問 1 トラックを使って、全国各地に比較的小さい荷物を届けるしくみを何といいますか。

[]

問 2 国内の輸送について、次の問いに答えなさい。

1 現在、貨物・旅客とも、最も輸送量の多い輸送機関の名を答えなさい。

[]

2 ここ40～50年の間、貨物輸送にしめる割合が小さくはなく、特に原料や燃料の輸送で大きな役割を果たしている輸送機関の名を答えなさい。

[]

問 3 環境をできるだけそこなわないことを目的に、トラックと鉄道・船を組み合わせる輸送方法の名を、カタカナで答えなさい。

[]

問 4 右の地図が示している新幹線の名を答えなさい。

[] 新幹線

[] 新幹線

[] 新幹線

[] 新幹線



問 5 次の 1・2 の高速道路の名をそれぞれ答えなさい。

1 東京と青森県を結ぶ高速道路 []

2 東京と新潟県を結ぶ高速道路 []

問 6 東名高速道路が通る都県を東から順に並べたものとして正しいものを次から選んで、記号で答えなさい。

ア 東京都 神奈川県 山梨県 愛知県

イ 東京都 埼玉県 神奈川県 静岡県

ウ 東京都 神奈川県 静岡県 愛知県

[]

問 7 国内の航空輸送について、次の問いに答えなさい。

- 1 旅客^{りょかく}輸送^{ゆそう}のうち、最も輸送量が多い路線は、東京とどこを結ぶ路線ですか。
[]
- 2 国内の航空輸送の中心になってきた、東京都にある空港の名を答えなさい。
[]
- 3 輸出額・輸入額がともに日本一である空港の名を答えなさい。
[]

問8 多くの航空路線が集中し、乗りつぎにも便利な空港を、そのようすが車輪の中心部に似ていることから、何といいますか。
[]

- 問9 通信手段^{しゅつだん}の発達について、次の問いに答えなさい。
- 1 江戸時代に、人が走って手紙を運ぶしくみがつくられました。このしくみや、手紙を運ぶ人のことを何といいますか。
[]
- 2 明治時代に、前島密^{まえじまひそか}らの努力によって、手紙を全国に送り届けることができるしくみが作られました。このしくみの名を答えなさい。
[]
- 3 世界中のコンピューターを網^{あみ}の目のように結んだネットワークを何といいますか。
[]
- 4 現在、国内で加入件数が1億件をこえている、持ち運びの簡単な電話を何といいますか。
[]

問10 店で買い物の支払い^{しはら}いを、紙幣^{しへい}や硬貨^{こうか}を使わずに、電子データを使ってすませることのできるしくみを何といいますか。
[]

問11 情報^{じょうほう}が正しいかどうかを見きわめて、必要な情報を選んで利用する力のことを何といいますか。
[]

問12 インターネットを通じてほかのコンピューターなどに侵入^{しんにゅう}し、その中にあるデータなどをこわしたり、情報^{じょうほう}を勝手に発信したりするプログラムを、何といいますか。
[]

問13 次のア～エのうち、個人を特定できる個人情報にふくまれないものはどれですか。次から選んで、記号で答えなさい。
ア 住所 イ 電話番号 ウ 性別 エ 生年月日 []

問14 他人に知られたくない情報を勝手に公開されない権利^{けんり}を、の権利といいます。にあてはまることばをカタカナで答えなさい。
[]

5 年上 要点チェック 第 9 回

氏名〔 〕

問 1 日本は、北東から南西に向かって、およそ〔 A 〕km にわたって連なっている島国です。〔 A 〕
にあてはまる数を答えなさい。

〔 〕 km

問 2 日本の東西南北の端に位置している島の名をそれぞれ答えなさい。ただし、北方領土をふくめるものとします。

東...〔 〕島、西...〔 〕島

南...〔 〕島、北...〔 〕島

問 3 日本標準時子午線は、東経何度の経線ですか。また、この経線が通っている明石市は、どの県に位置していますか。

東経〔 〕度、〔 〕県

問 4 海岸線から 200 カイリまでの海で、水産資源や地下資源が沿岸国のものと認められる水域を何と
いいますか。

〔 〕水域

問 5 問 4 の水域よりも外側の海のことを何といいますか。

〔 〕

問 6 0 度の経線を何といいますか。また、この経線は、旧グリニッジ天文台を通過しています。この
天文台がある国の名を答えなさい。

〔 〕、〔 〕

問 7 北方領土をふくめた場合、日本の国土面積は約何万 km²ですか。

日本の国土面積...約〔 〕万 km²

問 8 日本のおよそ 45 倍の国土面積をもつ、世界一広い国の名を答えなさい。

〔 〕

問 9 日本よりも国土面積の小さい国を次から選んで、記号で答えなさい。

ア ドイツ イ ブラジル ウ オーストラリア []

問 10 北方領土をめぐって、日本と意見が対立している国の名を答えなさい。

〔 〕

問 11 竹島について、次の問いに答えなさい。

1 竹島が属している県の名を答えなさい。 [] 県

2 竹島が自分の国の領土であると主張し、日本との間で意見がまとまっていない国の名を答えなさい。 []

問12 沖縄県の石垣島の北北西に位置する、魚釣島などからなる島々を何といいますか。
[]

問13 2017年時点の日本の人口は、どのくらいですか。
約 [] 万人

問14 日本とほぼ同じ緯度にある国で、人口が世界一多い国の名を答えなさい。
[]

問15 2017年時点の世界の人口は、どのくらいですか。
約 [] 億人

問16 1 km²あたりの人口のことを何といいますか。 []

問17 1950年代半ばから1970年代初めにかけて、日本の経済が大きく発展し、多くの人々が農村などから都市に移り住みました。この時期のことを何といいますか。
[]

問18 過密化（都市に人口や産業があまりに集中してしまうこと）によって引き起こされる都市問題の例を一つあげなさい。
[]

問19 農村などで人口が減ると、特に若い働き手が減って田畑や山が荒れ、学校が閉鎖されるなど、くらしが成り立ちにくくなります。このような状態のことを何といいますか。
[]

問20 商業・サービス業・運輸業などは、第一次産業・第二次産業・第三次産業のどれにあてはまりますか。
[]

問21 65歳以上の高齢者が全人口の21%以上をしめていて、その割合が今後とも増えると考えられる社会を何といいますか。
[]

問22 第二次世界大戦後の1947～1949年に、多くの子どもたちが生まれました。この時期のことを何といいますか。
[]

問23 国が、その国に住む人の年齢・性別・職業などについて、5年に一度、10月に行う全国的な調査の名を答えなさい。
[]

5 年上 要点チェック 第11回

氏名 []

問1 広大なカルデラをもつ、熊本県に位置する火山の名を答えなさい。

[]

問2 九州南部に広がる、火山灰が積もった台地を何といいますか。

[]台地

問3 筑紫平野と八代平野を流れている川の名をそれぞれ答えなさい。

筑紫平野... []川 八代平野... []川

問4 1月でも月平均気温が17 ほどある、沖縄県の県庁所在地の名を答えなさい。

[]市

問5 有明海に面している県の名を四つ答えなさい。

[]県 []県 []県 []県

問6 かつて、筑紫平野で多く見られた、網の目のような水路を何といいますか。

[]

問7 促成栽培がさかんで、日本で有数のピーマンの生産量をあげている、九州地方にある県の名を答えなさい。

[]県

問8 次の1・2のグラフは、農産物の生産割合と家畜の飼育数の割合を示したものです。あてはまる農産物の名と家畜の名をそれぞれ答えなさい。



1 []

2 []

問9 東シナ海などには、陸地が続く、かたむきのゆるやかな海底が広がっています。このような海底を何といいますか。

[]

問10 有明海で特に養殖がさかんな水産物の名を答えなさい。

[]

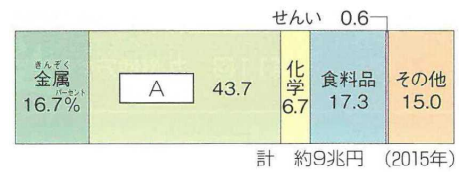
問11 真珠の養殖で知られる、長崎県にある湾の名を答えなさい。

[]湾

問12 1901年に八幡製鉄所が鉄鋼の生産を始めたことをきっかけに発展した、工業地帯（工業地域）の名を答えなさい。

[]

問13 右のグラフは、問12の工業地帯（工業地域）の生産額の割合を示しています。Aにあてはまる工業の名を答えなさい。



[]

問14 製鉄所と石油化学コンビナ - トがともにある，九州地方の都市の名を答えなさい。

[]市

問15 長崎と佐世保でともに発達している工業の名を答えなさい。

[]

問16 九州と本州をへだてている海峡の名を答えなさい。

[]海峡

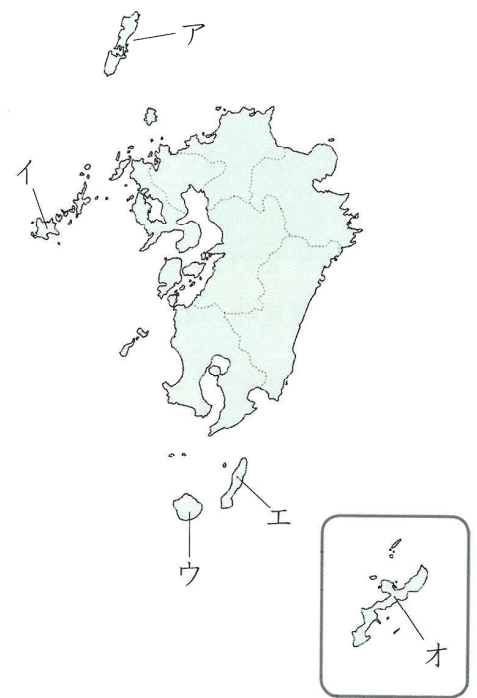
問17 福岡県には、東海道・山陽新幹線の下りの終着駅であり、九州新幹線の下りの始発駅でもある駅があります。この駅の名を答えなさい。

[]駅

問18 九州新幹線の下りの終着駅の名を答えなさい。

[]駅

問19 九州地方の特色ある島について、次の1～3が説明している島の名をそれぞれ答えなさい。また、その島の位置をそれぞれ右の地図から選んで、記号で答えなさい。



1 すぎの原生林など豊かな自然が見られ、世界自然遺産に登録されています。

[] []

2 古くから朝鮮半島との交流の窓口となってきました。

[] []

3 宇宙ロケットの発射基地があります。

[] []

問20 近年、沖縄県で多く栽培され、3月や12月に特に多く出荷される花の名を答えなさい。

[]

問21 九州地方にある百万都市の名を答えなさい。

[]市

問1 秋吉台あきよしだいに代表される、石灰岩せっかいがんのできた土地が、長い間に雨によってとかされてできた地形を何とといいますか。

[]

問2 中国地方の日本海側の地域ちいきは、何とよばれますか。また、瀬戸内海側の地域せとないかいは、何とよばれますか。

日本海側... [], 瀬戸内海側... []

問3 中国地方の日本海側にある、日本最大級の砂丘さきゅうの名を答えなさい。

[] 砂丘

問4 香川用水すいげんの水源となっている川の名を答えなさい。また、香川用水は、何という平野に水を引いていますか。

[] 川, [] 平野

問5 中国・四国地方で、みかんの栽培さいばいと真珠しんじゆの養殖ようじよくがともにさかんな県の名を答えなさい。

[] 県

問6 高知平野では、なすやピーマンなどの早づくりがさかんに行われています。このような、ビニールハウスなどを用いて行われる早づくりを何とといいますか。

[]

問7 日本海側で最も水揚げ量みずあの多い、鳥取県にある漁港の名を答えなさい。

[]

問8 島根県にある湖は、しじみがとれることで有名です。この湖の名を答えなさい。

[]

問9 海水のよごれなどが原因げんいんでプランクトンが多く発生し、海が赤く染まったようになる現象げんじょうを何とといいますか。

[]

問10 四国の沖合おきあいは、かつおやまぐろがとれる漁場ぎょじょうとなっています。ここを流れる暖流だんりゅうの名を答えなさい。

[]

問11 オリーブやしょうゆの生産で知られている小豆島しょうどしまは、何という県にありますか。

[] 県


問12 400年以上前から干拓かんたくが行われてきた、岡山県にある湾わんの名を答えなさい。

[] 湾

問13 岡山県・広島県・山口県・香川県・愛媛県に広がる工業地域いぎの名を答えなさい。

[] 工業地域いぎ

問14 問13の工業地域の生産額の割合を示したグラフを次から選んで、記号で答えなさい。



問15 問13の工業地域について、次の問いに答えなさい。

1 石油化学工業がさかんな都市の名を2つ答えなさい。

[] []

2 鉄鋼業がさかんな都市の名を3つ答えなさい。

[] [] []

3 セメント工業がさかんな都市の名を2つ答えなさい。

[] []

4 愛媛県今治市での生産が全国的に知られている工業製品の名を答えなさい。

[]

問16 高知県でつくられている伝統的工芸品の和紙には、高知県の昔の国名がつけられています。この和紙を何といいますか。

[]

問17 本州四国連絡橋のうち、岡山県と香川県を結んでいる橋の名を答えなさい。

[]

問18 瀬戸内しまなみ海道によって結ばれている都市の名を二つ答えなさい。

[] []

問19 中国地方の中心都市である広島は、三角州の上に発達した都市です。この三角州は、何という川がつくり出したものですか。

[] 川

問20 広島に原子爆弾が落とされた年月日を答えなさい。

[] 年, [] 月, [] 日

問21 広島県にある世界文化遺産の名を2つ答えなさい。

[] []

問22 世界文化遺産になっている石見銀山遺跡がある県の名を答えなさい。

[] 県

氏名 []

問1 丹後半島のつけ根には、日本三景の一つがあります。この日本三景の名を答えなさい。

[]

問2 滋賀県の面積の約6分の1をしめる、日本最大の湖の名を答えなさい。

[]湖

問3 淀川は、名前を変えながら三つの府県を流れて、海に注ぎます。これらの府県の名を上流から順に答えなさい。

[], [], []

問4 瀬戸内海にある島のうちでは面積が最大で、たまねぎや花の栽培がさかんな島の名を答えなさい。また、この島が属している府県の名を答えなさい。

[], []

問5 京都府でつくられている、高級な茶として有名な茶の名を答えなさい。

[]

問6 みかんとかき、うめの生産量がともに日本一である府県の名を答えなさい。

[]

問7 吉野すぎなどは、切り出されたあと、かつてはいかだ流しによって河口の都市まで運ばれました。河口の和歌山に木を運ぶのに使われた川の名を答えなさい。


[]川

問8 真珠の養殖がさかんな英虞湾のある半島の名を答えなさい。

[]半島

問9 大阪府と兵庫県を中心とする工業地帯の名を答えなさい。また、この工業地帯の生産額の割合を示したグラフを次から選んで、記号で答えなさい。

[]工業地帯, []



問10 問9の工業地帯について、次の1～4の文が述べている都市の名をそれぞれ答えなさい。また、これらの都市の位置をそれぞれ右の地図から選んで、記号で答えなさい。

1 大阪湾沿いの埋め立て地で、石油化学工業が発達しました。

[]市,[]

2 この工業地帯の南部に位置し、鉄鋼業がさかんです。

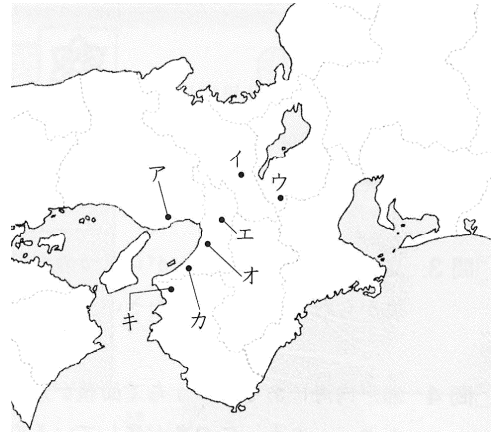
[]市,[]

3 日本有数の貿易港があり、造船業が発達しています。

[]市,[]

4 淀川沿いの内陸の地域で、おもに電気機器の生産が発達しました。

[]市,[]



問11 京都などで生産されている絹織物で、伝統的工芸品に指定されているものの名を答えなさい。

[]

問12 たぬきの置き物などで知られる、滋賀県で生産されている伝統的工芸品の名を答えなさい。

[]

問13 神戸と淡路島を結ぶ、世界で最も長いつり橋の名を答えなさい。

[]

問14 神戸の沖合いにつくられた人工島の名を二つ答えなさい。

[], []

問15 大阪湾の南部を埋め立ててつくられた海上空港の名を答えなさい。

[]空港

問16 世界で最も古い木造建築があって、世界文化遺産に登録されている、奈良県にある寺の名を答えなさい。

[]

問17 世界文化遺産になっている古都奈良の文化財のうち、大仏があることで知られている寺の名を答えなさい。

[]

問18 400年ほど前につくられ、その美しさから白鷺城ともよばれる城の名を答えなさい。

[]

問1 木曾川や長良川の下流に広がっている平野の名を答えなさい。

[]平野

問2 周囲を山に囲まれた甲府盆地には、山から平地に川が流れ出るところに土砂が積もってでき地形が多く見られます。この地形を何といいますか。

[]

問3 日本で最も長い川は、長野県から新潟県を流れて、日本海に注いでいます。この川の名を答えなさい。

[]川

問4 中部地方の太平洋側の地域は、何とよばれますか。また、日本海側の地域は、何とよばれますか。

太平洋側... [], 日本海側... []

問5 茶の栽培が特にさかんな、静岡県にある台地の名を答えなさい。また、この台地の北東側を流れている川の名を答えなさい。

台地... []台地, []川

問6 豊川用水が引かれ、電照菊の栽培などで知られている半島の名を答えなさい。

[]半島

問7 八ヶ岳山ろくの野辺山原などで栽培されているレタスやキャベツなどの野菜を、特に何といいますか。

[]野菜

問8 山梨県では、くだものづくりがさかんです。この県が日本一の生産量をあげているくだもの名を二つ答えなさい。

[]・[]

問9 全国でも有数の水揚げ量をほこり、まぐろやかつおをとる遠洋漁業の基地として知られる、静岡県の漁港の名を答えなさい。

[]港

問10 浜名湖は、ある水産物の養殖で全国に知られています。この水産物の名を答えなさい。

[]

問11 愛知県を中心とする工業地帯は、工業生産額が日本一の工業地帯です。この工業地帯の名を答えなさい。

[]工業地帯

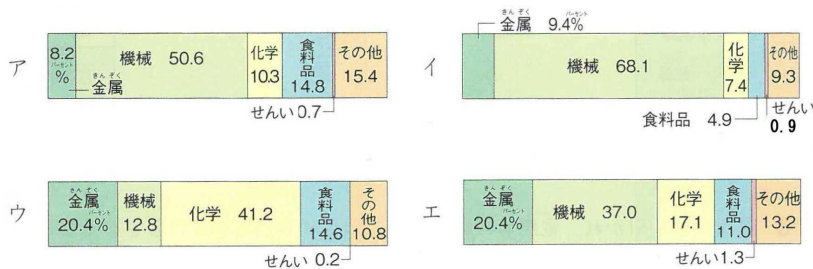
問12 問11の工業地帯にふくまれる都市について、次の1～4の文が述べている都市の名をそれぞれ答えなさい。

- 1 日本の自動車工業の中心となっている企業城下町です。 []市
- 2 この都市で生産された鉄鋼が、自動車の材料などに使われています。 []市
- 3 石油化学コンビナートがある都市です。かつて、工場から排出された煙が原因で、四大公害の一つが発生しました。 []市
- 4 と隣の県の多治見市とともに、陶磁器の生産で知られています。 []市

問13 静岡県に広がる工業地域を何といいますか。また、この工業地域にふくまれる富士市で特に発達した工業の名を答えなさい。

[]工業地域, []

問14 問11・問13の工業地帯・工業地域の生産額の割合を示したグラフをそれぞれ次から選んで、記号で答えなさい。



問11 []

問13 []

問15 長野県のほぼ中央にある湖の周辺では、電子工業が発達しました。この湖の名を答えなさい。

[]湖

問16 石川県で生産されている伝統的工芸品を次から2つ選んで、記号で答えなさい。

- ア 西陣織 イ 南部鉄器 ウ 加賀友禅
 エ 小千谷ちぢみ オ 輪島塗

[·]

問17 リアス海岸が続いていることで知られる福井県にある湾の沿岸には、原子力発電所が多くつくられてきました。この湾の名を答えなさい。

[]湾

問18 東京と新潟を結んでいる新幹線の名と、高速道路の名をそれぞれ答えなさい。

新幹線 []新幹線, 高速道路 []

問19 長野県が県境を接している中部地方の県の名を, 山梨県から時計回りに, すべて答えなさい。

山梨県 []県 []県 []県

[]県 []県 (群馬県 埼玉県)

氏名〔 〕

問1 関東地方と中部地方の境^{さかい}に位置する山地・山脈^{さんみやく}の名を二つ答えなさい。

[]山地・[]山脈

問2 流域面積^{りゅういきめんせき}が日本一の川で、坂東太郎^{ばんどうたろう}ともよばれる川の名を答えなさい。

[]川

問3 千葉県の東部に広がる、海岸線の単調な海岸の名を答えなさい。

[]

問4 富士山^{はこねやま}や箱根山^{ばい}などの火山灰が変化してできた赤土^{あかつち}を何とといいますか。

[]

問5 関東地方では、大消費地^{しゅつか}に出荷^{しゅつか}するための野菜や花などの栽培^{さいばい}がさかんです。大都市の周辺で行われる、このような農業を何とといいますか。

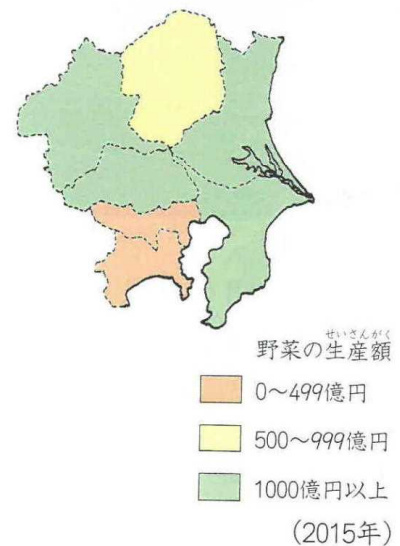
[]農業

問6 すずしい高原の気候をいかしたキャベツなどの生産で全国的に有名な、群馬県にある村の名を答えなさい。

[]

問7 右の地図を見て、関東地方の都県のうち、野菜の生産額が500億円以上の都県の名をすべて答えなさい。

[]



問8 群馬県の下仁田町^{しもにたまち}で多く栽培されている工芸作物^{こうげい}の名を答えなさい。

[]

問9 全国でも有数の水揚げ量^{みずあ}をほこっている、千葉県の漁港の名を答えなさい。

[]港

問10 次の1～4の文が説明している工業地帯・地域^{ちいき}の名を答えなさい。

1 1998年まで、日本一の工業地帯でした。機械工業^{きがいぎやう}や印刷業^{いんさつ}がさかんです。

[]

2 埼玉県・栃木県・群馬県に広がっています。自動車や電気機器の生産がさかんです。

[]

3 千葉県の東京湾沿岸に広がっています。鉄鋼業と石油化学工業がさかんです。

[]

4 沿岸部につくられた掘り込み港の周囲に発達しました。重化学工業がさかんです。

[]

問11 次の1～4の文が説明している工業都市の名を答えなさい。

1 東京都に接している都市です。海沿いの埋め立て地に、製鉄所や石油化学コンビナートがつけられています。 []

2 埼玉県にある、セメントの生産で有名な都市です。 []

3 鹿島臨海工業地域にふくまれる、製鉄業が発達した都市です。 []

4 千葉県にある工業都市で、千葉市とともに大きな製鉄所があります。 []

問12 右の三つのグラフのうち、京葉工業地域の工業生産の割合を示したグラフはどれですか。記号で答えなさい。

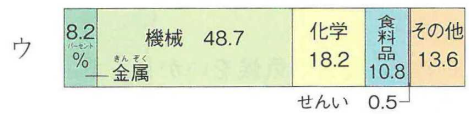


[]



問13 東京駅を出発した東北新幹線と上越新幹線は、ある駅で分かれて目的地に向かいます。埼玉県にある、この駅の名を答えなさい。

[] 駅



(2015年)

問14 次の1～3の都県を順に通る新幹線の名をそれぞれ答えなさい。

1 東京都 埼玉県 茨城県 栃木県 [] 新幹線

2 東京都 神奈川県 [] 新幹線

3 東京都 埼玉県 群馬県 長野県 新潟県 富山県 石川県 [] 新幹線

問15 関越自動車道は、東京と何という県を結ぶ高速道路ですか。

[] 県

問16 かつて、都心部の環境が悪くなったり、地価が上がったりしたために都心部の人口が減り、その周辺や郊外の人口が増える現象が見られました。この現象を何といいますか。

[]

問17 東京タワーに代わる電波塔として、東京都墨田区に建設された塔の名を答えなさい。

[]

5 年上 要点チェック 第17回

氏名 []

問1 オランダの技術を取り入れて干拓^{かんたく}された秋田県の湖の名を答えなさい。また、この干拓^{けっか}の結果、1964年に誕生^{たんじょう}した村の名を答えなさい。

湖... [], 村の名... [] 村

問2 東北地方を太平洋側と日本海側に分けている、日本一長い山脈^{さんみやく}の名を答えなさい。

[] 山脈

問3 岩手県から宮城県を流れ、太平洋に注ぐ、東北地方で最も長い川の名を答えなさい。

[] 川

問4 三大急流の一つである最上川^{もがみ かこう}の河口に広がる平野の名を答えなさい。

[] 平野

問5 秋田県にある、日本で最も深い湖の名を答えなさい。

[] 湖

問6 全国のりんごのおよそ半分を生産している県の名を答えなさい。また、この県で特にりんごの栽培がさかんな平野の名を答えなさい。

[] 県, [] 平野

問7 山形県が全国の生産量の70%以上(2013年)を生産しているくだもの名を答えなさい。

[]

問8 右のグラフは、あるくだもの都道府県別の生産量割合を示しています。このくだもの名を答えなさい。

やまなし 山梨 31.3%	ふくしま 福島 23.0	ながの 長野 12.6	その他 33.1
------------------	-----------------	----------------	----------

(2016年)

[]

問9 三大美林^{びりん}のうち、東北地方にあるもの^{じゆん}の名を、北から順に二つ答えなさい。

[], []

問10 東北三大祭りの一つで、秋田市で毎年8月に行われる祭りの名を答えなさい。

[]

問11 三陸海岸の沖は、暖流^{だんりゅう}と寒流^{かんりゅう}が出合う潮目^{しおめ}ができるため、よい漁場^{ぎょじょう}となっています。この潮目をつくる海流の名を2つ答えなさい。

暖流... [], 寒流... []

問12 青森県は、ほたて貝の養殖ようしょくがさかんです。この県で特にほたて貝が多く養殖されている湾わんの名を答えなさい。

[] 湾

問13 東北地方には、空港や高速道路の整備せいびにともなって、どのような工業が進出しましたか。

[]

問14 次の1～3の伝統的工芸品てんどうしゆぎがつくられている県の名をそれぞれ答えなさい。

- 1 南部鉄器なんぶてつき 2 会津塗あいづぬり 3 天童将棋駒てんどうしやうぎこま

[] 県, [] 県, [] 県

問15 東京と新青森むすを結んでいる新幹線しんかんせんの名を答えなさい。 [] 新幹線

問16 東京駅を出発した下りの山形新幹線は、ある駅で東北新幹線と分かります。この駅の名を答えなさい。また、山形新幹線の下りの終着駅の名を答えなさい。

[] 駅, 終着駅... [] 駅

問17 新青森はこだてほくとと新函館北斗を結ぶ北海道新幹線が通る海底トンネルの名を答えなさい。

[]

問18 東京と青森県を結ぶ、日本で最も長い高速道路の名を答えなさい。

[]

問19 右の地図は、東北地方のおもな発電所を示しています。Aが示している発電所の種類を答えなさい。

[]

問20 古くから城下町じやうかまちとして栄え、今では人口100万人以上をかかえる、東北地方の中心都市の名を答えなさい。

[] 市

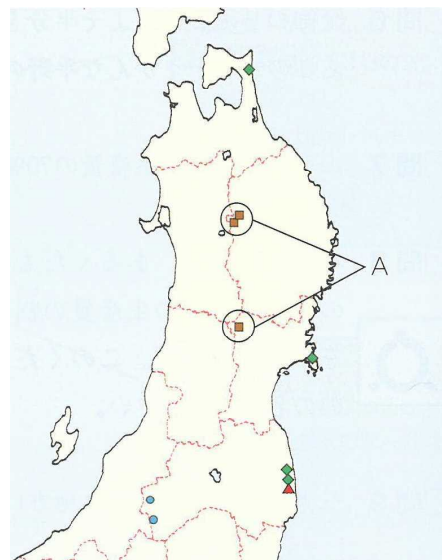
問21 青森県と秋田県の境に位置する、世界自然遺産になっている山地の名を答えなさい。

[] 山地

問22 世界文化遺産になっている平泉ひらいずみがある県の名を答えなさい。 [] 県

問23 初夏、東北地方の太平洋側に、おもに北東からふく冷たい風は、冷害の原因になることがあります。この風を何といいますか。

[]



問1 北海道のほぼ中央に位置し、大雪山^{だいせつざん}などの山がある山地の名を答えなさい。

〔 〕山地

問2 問1の山地から流れ出ている川の流域^{りゅういき}には、稲作^{いなさく}がさかんな盆地^{ぼんち}があります。この盆地の名を答えなさい。

〔 〕盆地

問3 北海道の太平洋側で、春から夏にかけて、黒潮^{くろしお}の上のあたたかいしめった空気が親潮^{おやしお}の上の冷たい空気によって冷やされて発生するものを何といいますか。

〔 〕

問4 ジャガイモ・てんさい・小麦などの輪作^{りんさく}が行われている、北海道の畑作の中心となっている平野の名を答えなさい。

〔 〕平野

問5 特に酪農^{らくのう}がさかんな、北海道東部の台地の名を答えなさい。

〔 〕台地

問6 かつては日本一の水揚げ量^{みずあ}をほこっていましたが、1990年代に水揚げ量が大きく減^へった北海道東部の漁港の名を答えなさい。

〔 〕港

問7 サロマ湖などで多く養殖^{ようしょく}されている水産物の名を答えなさい。

〔 〕

問8 北海道を代表する重工業都市で、鉄鋼業がさかんな都市の名を答えなさい。

〔 〕市

問9 北海道南部に位置し、製紙・パルプ工業のほかに石油精製^{せいせい}が行われている都市の名を答えなさい。

〔 〕市

問10 たんちょうが生息^{せいそく}していることで知られる国立公園の名を答えなさい。

〔 〕国立公園

問11 北海道がかつて蝦夷地^{えぞち}とよばれていたころから、北海道に住んでいた先住民族を何といいますか。

〔 〕

問12 北海道の道庁所在地^{どうちようしよざいち}は、北海道の政治・経済・文化の中心地^{けいざい}です。この都市の名を答えなさい。

〔 〕市

問13 北海道にある世界自然遺産の名を答えなさい。〔 〕

問14 水鳥の生息地として重要な湿地と、そこにすむ生物を保護するために結ばれた条約を何といますか。

{ } 条約

問15 北海道の空の玄関ともいわれる空港の名を答えなさい。 { } 空港

問16 次の1～11の文が述べている都市の名をそれぞれ答えなさい。また、それぞれの都市の位置をそれぞれ下の地図から選んで、記号で答えなさい。

1 日本の首都です。多くの人や情報が集まり、新聞社や出版社、大学などが多いことから、特に印刷業が発達しました。

{ }, { }

2 商業が栄え、全国の産物が集まってきたことから、かつて「天下の台所」とよばれました。

{ }, { }

3 中京工業地帯で製造された自動車が、この都市にある港から多く輸出されています。

{ }, { }

4 ポートアイランドなどの人工島がつくられました。灘の清酒などの特産品も有名です。

{ }, { }

5 約1100年の間、日本の都がおかれていました。清水焼などの伝統的工芸品が多くつくられています。

{ }, { }

6 京浜工業地帯の工業都市で、埋め立て地に製鉄所や石油化学コンビナートがつくられています。

{ }, { }

7 杜の都とよばれ、8月には、東北三大祭りの一つである七夕が行われます。

{ }, { }

8 昔から商人の町として栄えてきた、大阪府第二の都市です。

{ }

{ }

9 信濃川の河口に位置する本州の日本海側でただ一つの政令指定都市です。

{ }, { }

10 静岡県で最も人口の多い都市で、うなぎの養殖で有名な浜名湖があります。

{ }, { }

11 広島とともに、中国地方に位置する政令指定都市です。日本三名園の一つ、後楽園があります。

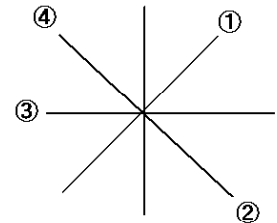
{ }, { }



問1 地図は、ふつう、どちらの方位を上にしてつくられていますか。 []

問2 右の図の ~ が示している方位を、それぞれ答えなさい。

[] []
[] []



問3 [A] からの高さが等しい地点を結んだ線を、等高線といいます。等高線と等高線の間がせまいほど、土地のかたむきは [B] になります。 [A] ・ [B] にあてはまることばをそれぞれ答えなさい。

A ... [], B ... []

問4 縮尺 25000分の1の地形図の上で 4 cmの長さは、実際の距離は何mになりますか。

[] m

問5 縮尺 25000分の1の地形図では、等高線は何mおきに引かれていますか。

[] m

問6 次の1～12の地図記号が示しているものを、それぞれ答えなさい。

1 2 3 4 [] [] [] []

5 6 7 8 [] [] [] []

9 10 11 12 [] [] [] []

問7 次の1～8の地図記号が示しているものを、それぞれ答えなさい。

1 2 3 4 [] [] [] []

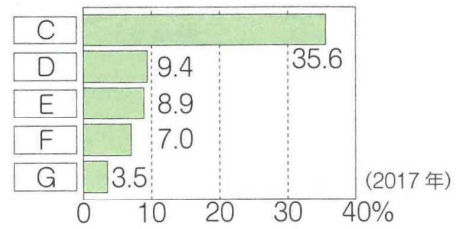
5 6 7 8 [] [] [] []

問8 右のグラフの **C** にあてはまることばを右下から選んで、記号で答えなさい。

- ア 米 イ 北海道
ウ コシヒカリ エ 東北地方

[]

稲の品種別の作付面積の割合



問9 次のア～ウの表は、1970年・1990年・2013年のいずれかを示しています。古い順にならべかえて、記号で答えなさい。

ア

	発電量
水力発電	801
火力発電	2748
原子力発電	46
合計	3595

イ

	発電量
水力発電	849
火力発電	9876
原子力発電	93
合計	10907

ウ

	発電量
水力発電	958
火力発電	5574
原子力発電	2023
合計	8573

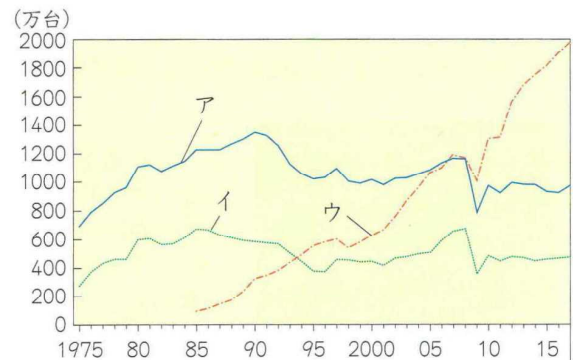
(単位：億 kWh，合計は水力・火力・原子力以外もふくむ全発電量)

[] [] []

問10 右下のグラフのア～ウは、日本の自動車の国内生産台数・輸出台数・海外生産台数のいずれかを示しています。国内生産台数を示しているのはどれですか。次の文を参考にして、記号で答えなさい。

- ・国内生産台数と輸出台数では、国内生産台数の方が多い。
- ・海外生産が本格的に行われるようになったのは、1980年代後半に円高が進んだ時期である。

[]



問11 右下のグラフは、国内の貨物^{かもつ}輸送^{ゆうそう}を示しています。よく見て、次の問いに答えなさい。

1 鉄道による貨物の輸送量は、1965年から2009年の間に、
増えましたか、それとも減りましたか。

[]

2 船による貨物の輸送量は、1965年から2009年の間に、
増えましたか、それとも減りましたか。

[]

