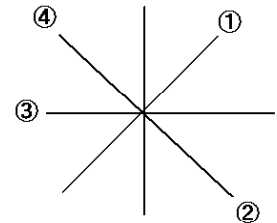


問1 地図は、ふつう、どちらの方位ほういを上にしてつくられていますか。 [ 北 ]

問2 右の図の ~ が示している方位ほういを、それぞれ答えなさい。

- [ 北東 ] [ 南東 ]  
[ 西 ] [ 北西 ]



問3 [ A ] からの高さが等しい地点を結んだ線を、等高線とといいます。等高線と等高線の間がせまいほど、土地のかたむきは [ B ] になります。 [ A ] ・ [ B ] にあてはまることばをそれぞれ答えなさい。

- A ... [ 海面 ], B ... [ 急 ]

問4 縮尺 25000分の1の地形図の上で4 cmの長さは、実際の距離じっさい きょりは何mになりますか。

- [ 1000 ] m









問5 縮尺 25000分の1の地形図では、等高線は何mおきに引かれていますか。

- [ 10 ] m

問6 次の1～12の地図記号が示しているものを、それぞれ答えなさい。

- |   |  |  |  |
|---|--|--|--|
| 1  | 2   | 3   | 4   |
| [ 老人ホーム ]   | [ 郵便局 ]  | [ 風車(風力発電の風車) ]  | [ 寺院 ]   |
| 5  | 6   | 7   | 8   |
| [ 図書館 ]   | [ 消防署 ]  | [ 発電所 ]  | [ 神社 ]   |
| 9  | 10  | 11  | 12  |
| [ 市役所(東京23区の区役所) ]  | [ 病院 ]   | [ 警察署 ]  | [ 高等学校 ]   |

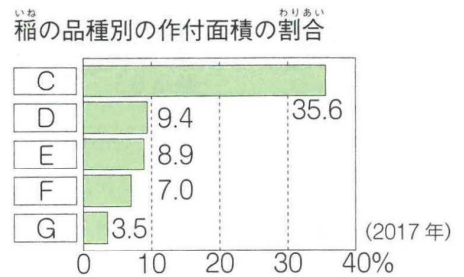
問7 次の1～8の地図記号ちず きごうが示しているものを、それぞれ答えなさい。

- |   |   |   |   |
|---|---|---|---|
| 1  | 2  | 3  | 4  |
| [ 果樹園(くだもの畑) ]  | [ 茶畑 ]  | [ 針葉樹林 ]  | [ 広葉樹林 ]  |
| 5  | 6  | 7  | 8  |
| [ 田 ]   | [ 荒地 ]  | [ 畑 ]   | [ かわ畑 ]   |

問8 右のグラフの **C** にあてはまることばを右下から選んで、記号で答えなさい。

- ア 米
- イ 北海道
- ウ コシヒカリ
- エ 東北地方

[ **ウ** ]



問9 次のア～ウの表は、1970年・1990年・2016年のいずれかを示しています。古い順にならべかえて、記号で答えなさい。

ア	
	発電量
水力発電	801
火力発電	2749
原子力発電	46
合計	3595

イ	
	発電量
水力発電	846
火力発電	8769
原子力発電	173
合計	9978

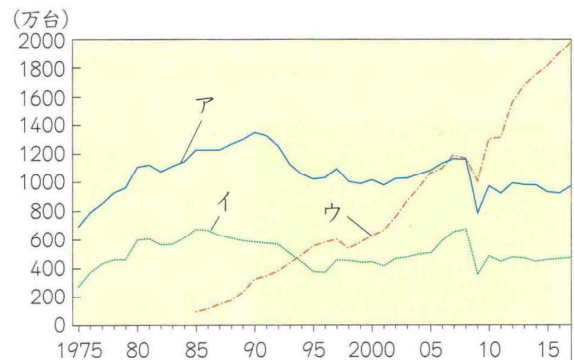
ウ	
	発電量
水力発電	958
火力発電	5574
原子力発電	2023
合計	8573

(単位：億 kWh，合計は水力・火力・原子力以外もふくむ全発電量)

[ **ア** ] [ **ウ** ] [ **イ** ]

問10 右下のグラフのア～ウは、日本の自動車の国内生産台数・輸出台数・海外生産台数のいずれかを示しています。国内生産台数を示しているのはどれですか。次の文を参考にして、記号で答えなさい。

- ・国内生産台数と輸出台数では、国内生産台数の方が多い。
- ・海外生産が本格的に行われるようになったのは、1980年代後半に円高が進んだ時期である。



[ **ア** ]

問11 右下のグラフは、国内の貨物輸送を示しています。よく見て、次の問いに答えなさい。

1 鉄道による貨物の輸送量は、1965年から2009年の間に、増えましたか、それとも減りましたか。

[ **減った** ]

2 船による貨物の輸送量は、1965年から2009年の間に、増えましたか、それとも減りましたか。

[ **増えた** ]

