

5 年上 要点チェック 第16回

氏名 [ ]

問1 関東地方と中部地方の境に位置する山地・山脈の名を二つ答えなさい。

[ 関東 ] 山地・[ 越後 ] 山脈

問2 流域面積が日本一の川で、坂東太郎ともよばれる川の名を答えなさい。

[ 利根 ] 川

問3 千葉県の東部に広がる、海岸線の単調な海岸の名を答えなさい。

[ 九十九里浜 ]

問4 富士山や箱根山などの火山灰が変化してできた赤土を何といいますか。

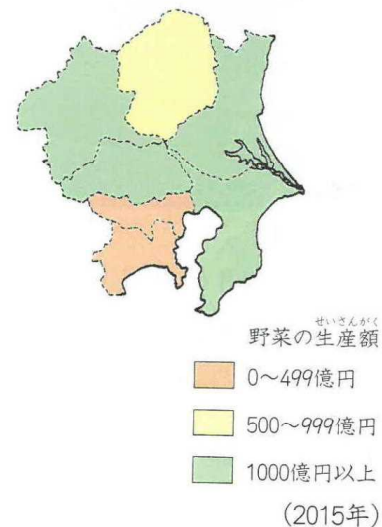
[ 関東ローム ]

問5 関東地方では、大消費地に出荷するための野菜や花などの栽培がさかんです。大都市の周辺で行われる、このような農業を何といいますか。

[ 近郊 ] 農業

問6 すずしい高原の気候をいかしたキャベツなどの生産で全国的に有名な、群馬県にある村の名を答えなさい。

[ 嬬恋村 ]



問7 右の地図を見て、関東地方の都県のうち、野菜の生産額が500億円以上の都県の名をすべて答えなさい。

[ 茨城県・千葉県・埼玉県・群馬県・栃木県 ]

問8 群馬県の下仁田町で多く栽培されている工芸作物の名を答えなさい。

[ こんにゃく芋 ]

問9 全国でも有数の水揚げ量をほこっている、千葉県の漁港の名を答えなさい。

[ 銚子 ] 港

問10 次の1～4の文が説明している工業地帯・地域の名を答えなさい。

1 1998年まで、日本一の工業地帯でした。機械工業や印刷業がさかんです。

[ 京浜工業地帯 ]

2 埼玉県・栃木県・群馬県に広がっています。自動車や電気機器の生産がさかんです。

[ 関東内陸工業地域 ]

3 千葉県の東京湾沿岸に広がっています。鉄鋼業と石油化学工業がさかんです。

[ **京葉工業地域** ]

4 沿岸部につくられた掘り込み港の周囲に発達しました。重化学工業がさかんです。

[ **鹿島臨海工業地域** ]

問11 次の1～4の文が説明している工業都市の名を答えなさい。

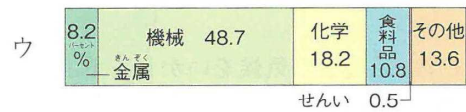
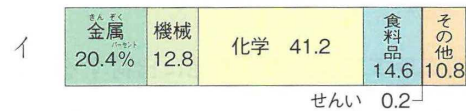
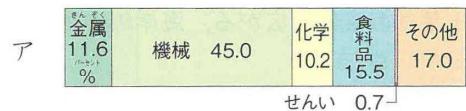
1 東京都に接している都市です。海沿いの埋め立て地に、製鉄所や石油化学コンビナートがつくられています。 [ **川崎市** ]

2 埼玉県にある、セメントの生産で有名な都市です。 [ **秩父市** ]

3 鹿島臨海工業地域にふくまれる、製鉄業が発達した都市です。 [ **鹿嶋市** ]

4 千葉県にある工業都市で、千葉市とともに大きな製鉄所があります。 [ **君津市** ]

問12 右の三つのグラフのうち、京葉工業地域の工業生産の割合を示したグラフはどれですか。記号で答えなさい。



(2015年)

[ **イ** ]

問13 東京駅を出発した東北新幹線と上越新幹線は、ある駅で分かれて目的地に向かいます。埼玉県にある、この駅の名を答えなさい。

[ **大宮** ] 駅

問14 次の1～3の都県を順に通る新幹線の名をそれぞれ答えなさい。

1 東京都 埼玉県 茨城県 栃木県 [ **東北** ] 新幹線

2 東京都 神奈川県 [ **東海道(東海道・山陽)** ] 新幹線

3 東京都 埼玉県 群馬県 長野県 新潟県 富山県 石川県 [ **北陸** ] 新幹線

問15 関越自動車道は、東京と何という県を結ぶ高速道路ですか。

[ **新潟** ] 県

問16 かつて、都心部の環境が悪くなったり、地価が上がったりしたために都心部の人口が減り、その周辺や郊外の人口が増える現象が見られました。この現象を何といいますか。

[ **ドーナツ化現象** ]

問17 東京タワーに代わる電波塔として、東京都墨田区に建設された塔の名を答えなさい。

[ **東京スカイツリー** ]