

5 年上 要点チェック 第11回

氏名〔 〕

問1 広大なカルデラをもつ、熊本県に位置する火山の名を答えなさい。

[**阿蘇山**]

問2 九州南部に広がる、火山灰が積もった台地を何といいますか。

[**シラス**]台地

問3 筑紫平野と八代平野を流れている川の名をそれぞれ答えなさい。

筑紫平野... [**筑後**]川 八代平野... [**球磨**]川

問4 1月でも月平均気温が17 ほどある、沖縄県の県庁所在地の名を答えなさい。

[**那覇**]市

問5 有明海に面している県の名を四つ答えなさい。

[**長崎**]県 [**佐賀**]県 [**福岡**]県 [**熊本**]県


問6 かつて、筑紫平野で多く見られた、網の目のような水路を何といいますか。

[**クリーク**]

問7 促成栽培がさかんで、日本で有数のピーマンの生産量をあげている、九州地方にある県の名を答えなさい。

[**宮崎**]県

問8 次の1・2のグラフは、農産物の生産割合と家畜の飼育数の割合を示したものです。あてはまる農産物の名と家畜の名をそれぞれ答えなさい。



1 [**さつまいも(甘藷)**]

2 [**肉牛**]

問9 東シナ海などには、陸地が続く、かたむきのゆるやかな海底が広がっています。このような海底を何といいますか。

[**大陸棚**]

問10 有明海で特に養殖がさかんな水産物の名を答えなさい。

[**のり**]

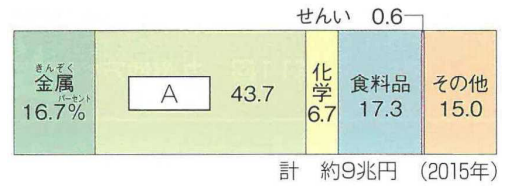
問11 真珠の養殖で知られる、長崎県にある湾の名を答えなさい。

[**大村**]湾

問12 1901年に八幡製鉄所が鉄鋼の生産を始めたことをきっかけに発展した、工業地帯（工業地域）の名を答えなさい。

[**北九州工業地帯(工業地域)**]

問13 右のグラフは、問12の工業地帯（工業地域）の生産額の割合を示しています。Aにあてはまる工業の名を答えなさい。



[**機械**]

問14 製鉄所と石油化学コンビナートがともにある、九州地方の都市の名を答えなさい。

[**大分**]市

問15 長崎と佐世保でともに発達している工業の名を答えなさい。

[**造船業**]

問16 九州と本州をへだてている海峡の名を答えなさい。

[**関門**]海峡

問17 福岡県には、東海道・山陽新幹線の下りの終着駅であり、九州新幹線の下りの始発駅でもある駅があります。この駅の名を答えなさい。

[**博多**]駅

問18 九州新幹線の下りの終着駅の名を答えなさい。

[**鹿児島中央**]駅

問19 九州地方の特色ある島について、次の1～3が説明している島の名をそれぞれ答えなさい。また、その島の位置をそれぞれ右の地図から選んで、記号で答えなさい。

1 すぎの原生林など豊かな自然が見られ、世界自然遺産に登録されています。

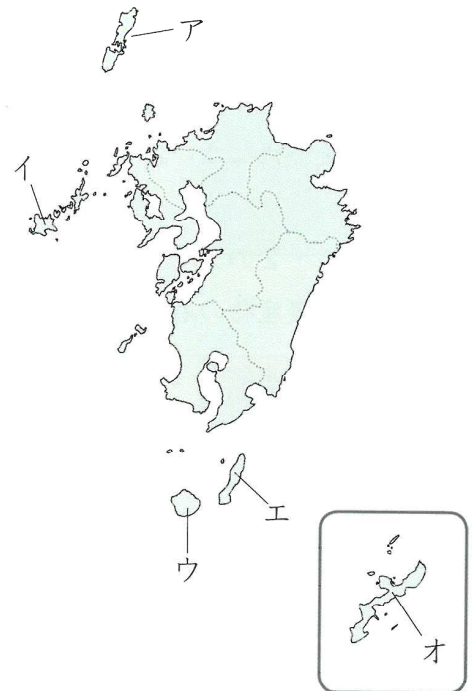
[**屋久島**] [**ウ**]

2 古くから朝鮮半島との交流の窓口となってきました。

[**対馬**] [**ア**]

3 宇宙ロケットの発射基地があります。

[**種子島**] [**エ**]



問20 近年、沖縄県で多く栽培され、3月や12月に特に多く出荷される花の名を答えなさい。

[**きく**]

問21 九州地方にある百万都市の名を答えなさい。

[**福岡**]市