

5 年上 要点チェック 第 1 回

氏名〔 〕

問 1 魚を原料としてつくられる「かまぼこ」や「ちくわ」などの食品を、まとめて何とい  
いますか。

〔 〕

問 2 三陸沖は、潮目（潮境）ができるために、よい漁場となっています。この潮目をつ  
くる海流の名を二つ答えなさい。

〔 〕,〔 〕

問 3 大陸や島の沿岸から続く、かたむきがゆるやかな海底を何といいますか。

〔 〕

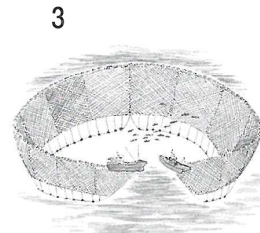

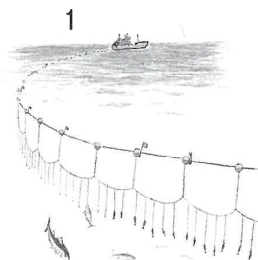
問 4 次の 1～3 の文が述べている漁港の名をそれぞれ答えなさい。

1 利根川の河口付近にある、千葉県の漁港です。〔 〕港

2 日本海側の漁港としては水揚げ量で 1・2 を争う、鳥取県の漁港です。  
〔 〕港

3 かつおやまぐろなどの遠洋漁業の基地として知られる、静岡県の漁港です。  
〔 〕港

問 5 次の 1～3 の図が示している漁法の名をそれぞれ答えなさい。

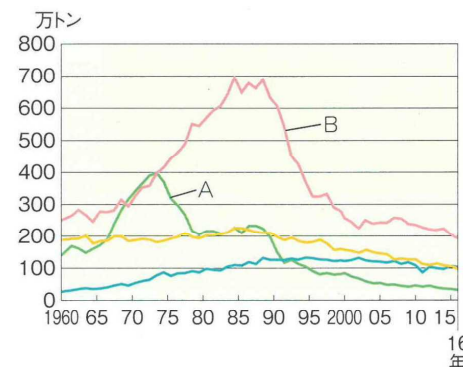


1 〔 〕 2 〔 〕 3 〔 〕

問 6 右のグラフは、漁業の種類別の漁獲量を示してい  
ます。A, B が示している漁業の種類の名をそれぞれ  
答えなさい。

A 〔 〕漁業

B 〔 〕漁業



問 7 海がよごれたことが原因で、プランクトンが大量に  
発生して、海水が赤く染まったようになる現象を何といいますか。

〔 〕

問 8 1973年、中東の国々が石油の輸出を制限したことによって石油の価格が上がり、日  
本の遠洋漁業も大きな影響を受けました。このできごとを何といいますか。

〔 〕

問9 <sup>えんがん</sup>沿岸から12カイリまでの海を何といいますか。

{ }

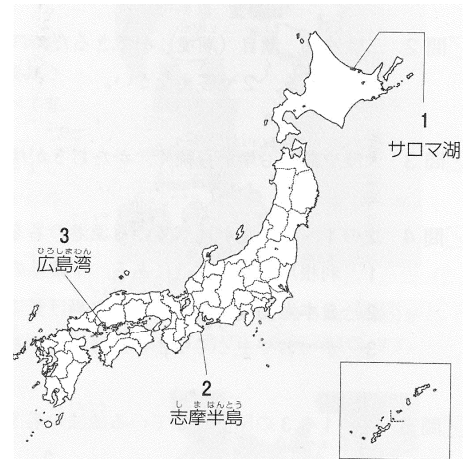
問10 <sup>えんがんこく</sup>沿岸国には、<sup>しげん</sup>水産資源などを自分の国のものとする<sup>すいいき</sup>水域が認められています。この水域を何といいますか。また、その水域は沿岸から何カイリまでと定められていますか。

{ } 水域 ・ { } カイリ

問11 右の地図の1～3の地域でさかんに<sup>ようしよく</sup>養殖されている水産物をそれぞれ次から選んで、記号で答えなさい。

ア かき            イ うなぎ            ウ ほたて貝  
エ のり            オ 真珠                カ きんぎょ

1 [     ]    2 [     ]    3 [     ]



問12 <sup>ちぎょ</sup>稚魚を放流して、自然の中で成長させ、育った魚をとる漁業を何といいますか。

{ } 漁業

問13 <sup>うおいちば</sup>魚市場などでは、買いたい人たちに<sup>ねだん</sup>値段をつけさせ、最も高い値段をつけた人に売る売り方が行われています。この方法を何といいますか。

{ }

問14 2016年時点で、<sup>ぎょかくりょう</sup>漁獲量が世界一である国の名を答えなさい。

{ }

問15 日本が輸入している水産物のうち、特に輸入額の大きいものを2つ答えなさい。

{ } ・ { }

問16 <sup>すいさん しげん</sup>水産資源を減らさないための工夫として正しくないものを次から選んで、記号で答えなさい。

ア 魚が<sup>たまご</sup>卵を産む時期には<sup>りょう</sup>漁をしません。  
イ <sup>ちぎょ</sup>稚魚がかからないように、魚をとるあみの目を小さくします。  
ウ 海岸に、多くの魚が集まる<sup>うおつきりん</sup>魚付林をつくります。

[     ]

問17 魚のかくれ場や<sup>さんらん</sup>産卵の場として<sup>じゅうよう</sup>重要な、<sup>かいてい</sup>海底につき出た岩山のようなところを何といいますか。

{ }