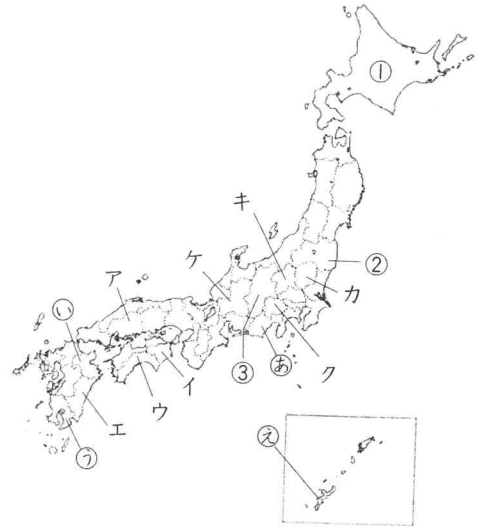


組分けテスト

※ 問題用紙は(その1)から(その3)までありますから、注意してください。  
※ 答えは、別紙の解答らんに入力してください。

1  
30

次の地図を見て、後の問いに答えなさい。



問1 ①が生産量1位の農作物として正しくないものを次から選んで、記号で答えなさい。

ア 大豆 イ たまねぎ ウ キャベツ エ 小麦

問2 野菜の栽培について、次の問いに答えなさい。

1 夏野菜の早づくりがさかんで、なすの生産量が最も多い県の名を漢字で答えなさい。また、その県の位置を地図のA～Eから選んで、記号で答えなさい。

2 夏のすずしい気候を利用して野菜の生産がさかんな、浅間山のふもとに広がる地域を次から選んで、記号で答えなさい。また、その地域がある県を地図のK～ケから選んで、記号で答えなさい。

ア 嬬恋村 イ 牧ノ原 ウ 五箇山 エ 野辺山原

3 ビニールハウスなどの施設を使わずに、ふつうの畑で野菜などを栽培する方法を何といいますか。

4 大都市に近い地域で、大都市向けの野菜や花などをつくる農業を何といいますか。

問3 作物と、その作物の生産量が日本一の都道府県の位置(地図の㊸～㊼)の組み合わせとして正しくないものを次のA～Eから選んで、記号で答えなさい。

ア 茶—㊸ イ いぐさ—㊼ ウ さつまいも—㊹ エ さとうきび—㊽

問4 工芸作物について述べた文として正しいものを次からすべて選んで、記号で答えなさい。

ア こうぞは、こんにやくをつくるときのおもな原料です。

イ 紅花は布などを染めるときに使われたり、油に加工されたりします。

ウ うるしの木からとった液を、お盆やおわんにぬって仕上げることによって漆器がつくられます。

エ てんさいは、和紙をつくるときにその皮が利用されます。

問5 くだもの生産について、次の問いに答えなさい。

1 右のグラフは、くだもの都道府県別生産割合を示しています。I・IIにあてはまる都道府県の名をそれぞれ答えなさい。また、にあてはまるくだものを次から選んで、記号で答えなさい。なお、グラフの①～③は、地図の①～③を示しています。

ア りんご イ みかん ウ ぶどう エ 日本なし

2 日本が最も多く輸入しているくだものは、どの国からの輸入量が最も多いですか。次から選んで、記号で答えなさい。

ア 中国 イ アメリカ ウ フィリピン エ タイ

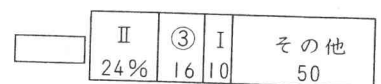
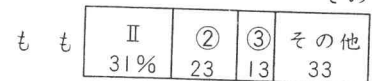

問6 農産物の輸入について述べた文として正しくないものを次から選んで、記号で答えなさい。

ア 温度を一定に保って輸送する技術が進歩したことで、輸入が増えました。

イ 農産物を輸入するよう、外国から求められたことがあります。

ウ ふつうは外国産の農産物の方が価格が安いいため、輸入が増えています。

エ 外国にしかないめずらしい種類の農産物だけが輸入されています。



(2016年)

2  
40


次の会話文を読んで、後の問いに答えなさい。

お母さん：今夜のおかずはハンバーグよ。まずご飯を炊かないと。手伝ってね。  
 た く や：じゃあ、ぼくが①お米をとぐね。  
 り な：わたしは、お母さんがきざんだ②たまねぎと、③お肉をませるわ。  
 お母さん：ありがたう。お母さんは、いっしょに盛りつける④とうもろこしやにんじんをゆでるわ。あと⑤じゃがいもでフライドポテトもつくりましょうね。

問1 下線①について、次の問いに答えなさい。

- 稲刈りまでに行われる稲作の作業の順として正しいものを次から選んで、記号で答えなさい。  
 ア 田起こし → 代かき → 田植え → 中干し      イ 田起こし → 田植え → 中干し → 代かき  
 ウ 代かき → 田植え → 中干し → 田起こし      エ 代かき → 田起こし → 田植え → 中干し
- 全国の米の約4分の1を生産している東北地方などでは、一つの耕地で、一年に米だけを栽培する米のA地帯が多くなっています。Aにあてはまることばを答えなさい。
- 米づくりは、広い平野や大きな川のあるところでさかんです。米づくりのさかんな平野とそこを流れる川の組み合わせとして正しくないものを次から選んで、記号で答えなさい。  
 ア 越後平野—信濃川      イ 仙台平野—北上川  
 ウ 庄内平野—最上川      エ 石狩平野—十勝川
- 少しでも多くの米を生産するため、山の斜面に階段のようにつくられた水田を特に何といいますか。また、水田のはたらきとして正しくないものを次から選んで、記号で答えなさい。  
 ア 水をたくわえて洪水を防ぎます。      イ さまざまな生き物のすみかになります。  
 ウ 地震の発生を防ぎます。      エ 地下水の量を安定させきれいな水をつくり出します。
- 米の生産などについて述べた文として正しいものを次から選んで、記号で答えなさい。  
 ア 日本が米を最も多く輸入しているのは、中国からです。  
 イ 農業生産額では、米は畜産に次いで多くなっています。  
 ウ トラクターやコンバインなどが使われるようになり、農作業にかかる時間は短くなりました。  
 エ 稲の作付面積は、あきたこまちという品種が最も多くなっています。

問2 下線②について、このたまねぎの袋には右のようなマークがついていました。Bにあてはまることばを答えなさい。また、このマークについて述べた文として正しいものを次から選んで、記号で答えなさい。



- 遺伝子組み換え作物ではないことを示すマークです。
- 質や生産方法が、国が定めた基準をみたしている農産物などにつけられています。
- 農薬を使わず、化学肥料だけを使ってつくられた農産物につけられています。

問3 下線③について、次の問いに答えなさい。

- 家畜を飼って肉や牛乳などを生産する農業を畜産といいます。畜産について述べた文として正しくないものを次から選んで、記号で答えなさい。  
 ア 乳牛の飼育数1位は北海道です。      イ 畜産農家1戸あたりの飼育数は増えています。  
 ウ 畜産農家の数は減っています。      エ 肉の中では牛肉の出荷量が最も多くなっています。
- 品質のよさを特に強調した高級な牛肉をC牛といいます。Cにあてはまることばをカタカナで答えなさい。また、神戸牛がつくられている都道府県の名を答えなさい。

問4 下線④について、とうもろこしやさとうきびなどを原料に、環境をあまりそこなわない燃料がつくられています。Dにあてはまることばをカタカナ3字で答えなさい。

- 問5 下線⑤について、いも類について述べた文として正しいものを次から選んで、記号で答えなさい。
- 国内の生産でまかなえる割合が高い作物です。      イ じゃがいもは甘いので甘藷といわれます。
  - 養分の少ない土地では育ちにくい作物です。      エ いも類からみそや納豆がつくられます。

3  
30

次の①～⑤の文は、中国地方・四国地方・九州地方のいくつかの県について説明したものです。これらを読んで、後の問いに答えなさい。

- ① 有田焼という焼き物が有名です。となりの県にまたがって筑紫平野が広がっています。
- ② 淡路島とAで結ばれています。8月には阿波おどりという盆踊りが行われています。
- ③ Bにある広大なカルデラの中には市や村があり、鉄道も通っています。
- ④ 大山のすそ野などでは日本なしが、砂丘の周辺ではすいかなどが栽培されています。
- ⑤ Cには縄文すぎが見られ、九州地方で最も高い山である宮之浦岳があります。
- ⑥ 日本一面積の小さい県で、DでE県と結ばれています。
- ⑦ 県庁所在地は百万都市です。瀬戸内海に面した湾ではかきの養殖がさかんです。

問1 A・Dにあてはまるものをそれぞれ次から選んで、記号で答えなさい。また、Eにあてはまる県の名を答えなさい。

- ア 瀬戸大橋                      イ 明石海峡大橋                      ウ 大鳴門橋

問2 Bにあてはまる火山を次のア～エから選んで、記号で答えなさい。また、火山について述べた文として正しくないものを次のオ～クから選んで、記号で答えなさい。

- ア 阿蘇山                      イ 有珠山                      ウ ハケ岳                      エ 雲仙・普賢岳

- オ 地中の蒸気を使って電気をつくる地熱発電を行うことができます。
- カ 火山が噴火すると火砕流や泥流によって液状化現象がおこり、大きな被害が出てしまいます。
- キ 桜島はかつては島でしたが、噴火によって大隅半島とつながりました。
- ク 火山が美しい景色をつくり出すこともあり、国立公園となっているところがあります。

問3 Cにあてはまる島の名を答えなさい。また、⑥の県の名を答えなさい。

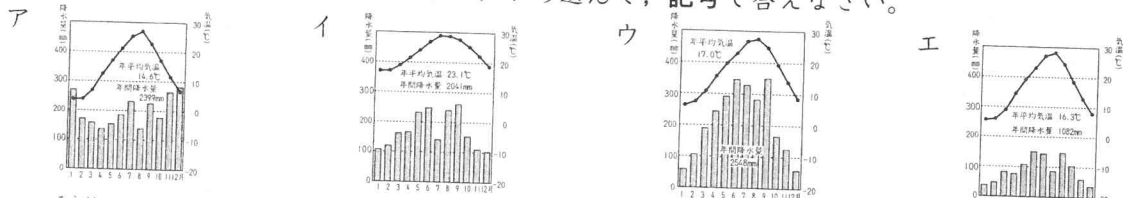
問4 下線①について、筑紫平野を流れる川を次のア～エから選んで、記号で答えなさい。また、筑紫平野の一部は海を干し上げてつくられました。この海を次のオ～クから選んで、記号で答えなさい。

- ア 球磨川                      イ 太田川                      ウ 筑後川                      エ 揖斐川  
オ 有明海                      カ 大村湾                      キ 若狭湾                      ク 宇和海

問5 下線②について、この県庁所在地は、川が運んできた土砂が河口の近くに積もってできた平らな土地に発達した都市です。このような地形を何といいますか。

- 問6 ④の県について述べた文として正しいものを次から選んで、記号で答えなさい。
- ア 日本三名園の一つ、後楽園があります。
  - イ 秋吉台には多くの観光客が訪れます。
  - ウ 日本一人口の少ない県です。
  - エ しじみがとれる宍道湖があります。

問7 ⑤の県の県庁所在地の気候グラフを次のア～エから選んで、記号で答えなさい。また、この県が被害を受けやすい自然災害を次のオ～クから選んで、記号で答えなさい。



- オ 霜害                      カ 雪害                      キ 冷害                      ク 干害

問8 ⑦の県にはFとGの2つの世界遺産があり、Fは日本三景の一つHにあります。F・Gにあてはまる世界遺産をそれぞれ次から選んで、記号で答えなさい。また、Hにあてはまる日本三景の名を漢字で答えなさい。

- ア 出雲大社                      イ 姫路城                      ウ 原爆ドーム                      エ 石見銀山                      オ 知床                      カ 厳島神社

問9 中国地方・四国地方・九州地方で、県の名と県庁所在地の名がちがう県はいくつありますか。数字で答えなさい。また、それらのうち最も北にある県庁所在地の名を答えなさい。