

題 目	総 合
-----	-----

- ※ 問題用紙は、(その1)から(その3)までありますから、注意してください。
 ※ 答えは、別紙の解答らんりに書き入れなさい。

1
18

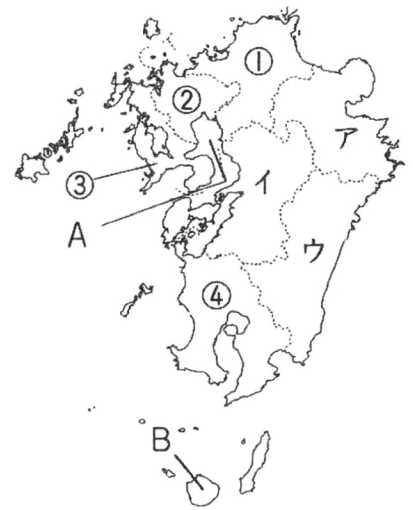
九州地方の一部を示した右の地図を見て、後の問いに答えなさい。

問1 Aの海を次から選んで、記号で答えなさい。

- ア 若狭湾 イ 宇和海 ウ 有明海

問2 Bの島は世界遺産に登録されています。この島を次のア～ウから選んで、記号で答えなさい。また、この島で見られるものを次のエ～カから選んで、記号で答えなさい。

- ア 種子島 イ 淡路島 ウ 屋久島
 エ 平和祈念像
 オ 縄文すざ
 カ 宇宙ロケットの発射基地



問3 ①の県について、次の問いに答えなさい。

- 1 県庁所在地にある、東海道・山陽新幹線と九州新幹線の駅の名を答えなさい。
 2 ①の県について述べた文として正しいものを次から選んで、記号で答えなさい。
 ア 県庁所在地では、造船業が発達しています。
 イ 別府温泉が有名な観光地となっています。
 ウ 三大急流の一つである球磨川が流れています。
 エ 北九州市は、橋や海底トンネルで山口県と結ばれています。

問4 ②の佐賀県でつくられているものを次から選んで、記号で答えなさい。

- ア 清水焼 イ 越前和紙 ウ 有田焼 エ 南部鉄器

問5 ③は、島が多いことや、複雑な海岸線が見られることから、日本の中で海岸線が特に長い県です。この県の名を答えなさい。

問6 ④の鹿児島県の生産量が日本一である農作物を次から選んで、記号で答えなさい。

- ア さつまいも イ ピーマン ウ さとうきび エ 大豆

問7 次の文が説明している県を地図のア～ウから選んで、記号で答えなさい。

阿蘇山にある広大なカルデラの中には、市や町・村があります。たたみ表の原料になるいぐさは、ほとんどがこの県でつくられています。

問8 九州地方には、上の地図に示されていない県がもう一つあります。この県の県庁所在地の名を答えなさい。

2
16

次の表は、中国・四国地方の県についてまとめたものです。これを見て、後の問いに答えなさい。

県の名	県の特 色
広島県	① 県庁所在地は中国地方の中心都市となっています。
岡山県	② 瀬戸大橋で対岸の県と結ばれています。
香川県	③ 水不足に備えて、ため池や香川用水がつくられています。
徳島県	④ 巨大なうず潮や阿波おどりを見るために、多くの観光客が訪れます。
愛媛県	⑤ 県西部のリアス海岸では、 <input type="text" value="A"/> の養殖がさかんです。
高知県	⑥ 南部の平野では、③ 夏野菜が冬を中心にさかんに栽培されています。
鳥取県	⑦ 日本で最も④ 人口の少ない県です。
島根県	⑧ 世界遺産や出雲大社が観光地となっています。
山口県	<input type="text" value="B"/>

問1 にあてはまることばを次から選んで、記号で答えなさい。

- ア かき イ 真珠 ウ のり エ しじみ

問2 にあてはまる文として正しいものを次から選んで、記号で答えなさい。

- ア カルスト地形の秋吉台には、多くの観光客が訪れます。
 イ 大山のすそ野などでは、日本なしの栽培がさかんです。
 ウ 伝統的工芸品の土佐和紙がつくられています。
 エ 倉敷市の水島地区には、鉄をつくる工場や石油を加工する工場があります。

問3 下線①について述べた文として正しくないものを次から選んで、記号で答えなさい。

- ア 人口が百万人をこえる百万都市です。
 イ 1945年8月6日に原子爆弾が投下されました。
 ウ 太田川河口の三角州の上に発達した都市です。
 エ 日本三名園の後楽園があります。

問4 下線②について、瀬戸大橋で岡山県と結ばれている県を上の方の波線③～⑥から選んで、記号で答えなさい。

問5 下線③について、このような早づくりの方法を何といいますか。解答らんには合うように答えなさい。

問6 下線④について、人口が減って、人々のくらしが成り立たなくなることを何といいますか。2字で答えなさい。

問7 下線⑤について、島根県にある世界遺産を次から選んで、記号で答えなさい。

- ア 厳島神社 イ 姫路城 ウ 石見銀山

問8 上の表の⑦～⑧の県のうち、県庁所在地の名が県の名と異なる県を選んで、記号で答えなさい。

また、選んだ県の県庁所在地を次から選んで、記号で答えなさい。

- ア 高松 イ 松山 ウ 松江

3
16

日本の気候と地形について述べた次の2つの文を読んで、後の問いに答えなさい。

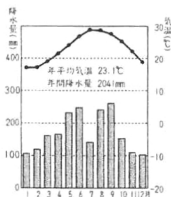
日本の気候

日本はほとんどが 帯に位置し、また、世界の中でも降水量がわりあいが多い国の一つです。山地や山脈、季節風などさまざまな条件が影響して、①地域によって気候が異なります。たとえば、日本海側では、冬に②暖流の上を吹く季節風などによって多くの雪が降ります。南西諸島などでは、夏から秋にかけて③台風の影響を受けやすく、降水量が多くなっています。


問1 帯は、四季がはっきりしている気候です。 にあてはまる漢字1字を答えなさい。

問2 下線①について、北海道の気候である札幌市の気候グラフを次から選んで、記号で答えなさい。

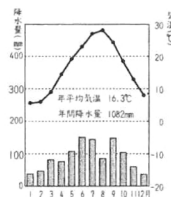
ア



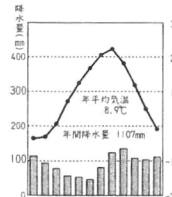
イ



ウ



エ



問3 下線②について、日本海を流れる暖流を次から選んで、記号で答えなさい。

ア 千島海流

イ 対馬海流

ウ 日本海流

問4 下線③について、台風が通過するときなどに、海岸近くの海面が異常に高くなる現象を次から選んで、記号で答えなさい。

ア 津波

イ 高潮

ウ 濃霧

日本の地形

日本の国土の約4分の3は山地です。特に中部地方には山地が多く、④日本の屋根とよばれる地域があります。⑤山地から流れ出る川は、下流の平野に水をもたらし、さまざまな⑥地形をつくりだしています。また、日本には多くの火山があり、わたしたちはさまざまなかたちで、⑦火山のめぐみをうけています。しかし、その一方で⑧火山の噴火などによる被害を受けることもあります。

問5 下線④について述べた文として正しいものを次から選んで、記号で答えなさい。

ア 日本アルプスとよばれる、飛騨山脈・木曾山脈・奥羽山脈があります。

イ 雲仙・普賢岳や浅間山など、常に休みなく観測が続けられている火山があります。

ウ 標高の高い山々が連なり、中央高地とよばれています。

問6 下線⑤について、川と川が流れる平野の組み合わせとして正しくないものを次から選んで、記号で答えなさい。

ア 最上川—仙台平野

イ 信濃川—越後平野

ウ 利根川—関東平野

問7 下線⑥について、川が山地から平地に流れ出るところに砂や小石が積もってできた、ゆるやかに傾斜した土地を何といいますか。

問8 下線⑦・⑧について述べた文として正しくないものを次から選んで、記号で答えなさい。

ア 火山が噴火すると火砕流や泥流によって液状化現象がおり、建物に被害が出てしまいます。

イ 火山は美しい風景をつくり出し、国立公園になっているところもあります。

ウ 噴火のときに火山がふき出す火山灰によって、農業や人々の生活に被害が出ることがあります。

エ 地中の蒸気を使って電気をつくる地熱発電を行うことができます。