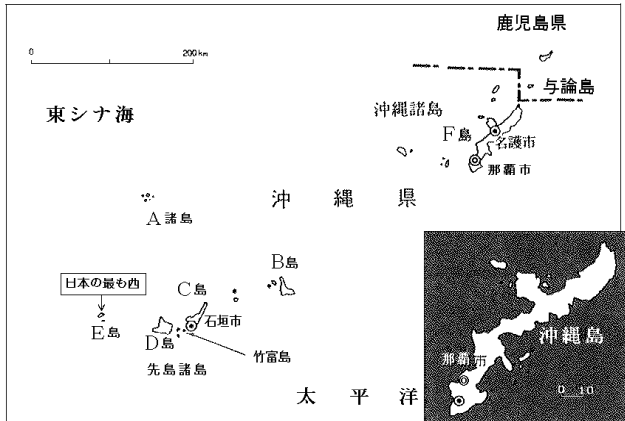


4年上 第9回 練習問題

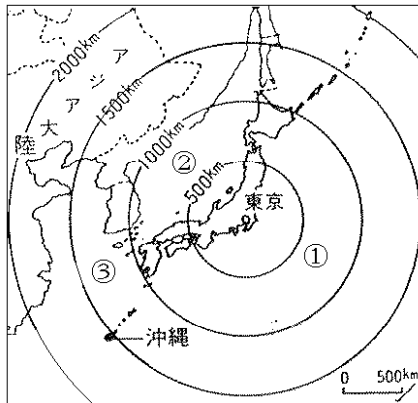
〈まとめ〉

1 位置

- ・沖縄県おきなわけんは日本のもっとも（ 1 ）にある県である。
- ・沖縄県は（ 2 ）島や（ 3 ）島など、たくさんの島からなっていて、その中心は（ 4 ）島である。
- ・沖縄島は、東京からおよそ（ 5 ）キロメートルはなれている。
- ・下の地図のA～Fの島の名を答えなさい。（『考える社会科地図』を見ましょう。）



- ・下の地図の①～③の海の名を答えなさい。



2 暮らし

- ・気候は、1年中（ 6 ）かく、降水量も1年をとおして（ 7 ）い。
- ・しかし、大きな川や森林がないこと、島全体が水をとおしやすい岩でできていることなどから、日照りが続くと（ 8 ）になる。
- ・沖縄の重要な産物は（ 9 ）と（ 10 ）であった。
- ・最近（ 11 ）や（ 12 ）をつくる農家が増えてきて、（ 13 ）や（ 14 ）を利用して出荷している。
- ・沖縄の家のまわりは、（ 15 ）や（ 16 ）で囲まれています。屋根がわらは（ 17 ）でとめてある。これらは、（ 18 ）にそなえるためである。
- ・第二次世界大戦の終わりに近いころ、アメリカ軍が上陸し、激しい戦場となった。戦後もアメリカ軍に治められていたが、（ 19 ）年に日本へ返された。現在もアメリカ軍の軍用地がたくさん残されている。

③ 自然

- ・自然のなかで美しいのは、(20) にかこまれた^{かいがん}海岸の風景である。
- ・県の花は、真^まっ赤^かな(21)の花・(22)の木、草むらにひそむ(23)、(24)の^{なみき}並木道、西^{いりおもて}表^{じま}島の^{なかも}仲間川には(25)の林がしげっている。

[語群]

マングローブ がじゅまる ヤンバルクイナ
 デイゴ やし さんごしょう

練習 1. 四谷君は^{さくねん}昨年^{おきなわけん}の夏休みに沖縄県に行きました。次の文は、そのときのことを書いた日記です。よく読んで、後の問いに答えなさい。

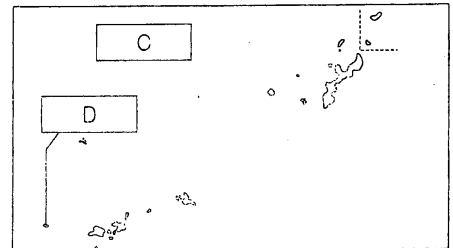
8月20日

①沖縄に が近づいていることから、飛行機で行けるか不安でしたが、よい天気になり、無事に②空港につきました。そこからモノレールに乗って、 を見に行きました。 は、沖縄が琉球王国といわれていたころの国王の城^{しろ}だそうです。その後、海に向かいましたが、途中には、広い③畑が見られました。海岸では海水浴を楽しみました。④沖縄では10月ごろまで海水浴ができるそうです。

[問 1] 沖縄には、この時期に多くの がやってきて、はげしい雨や風による被害をもたらすことがあります。 にあてはまることばを漢字 2 字で答えなさい。

[問 2] にあてはまる城の名を答えなさい。

[問 3] 下線①について、右の地図は沖縄島の周辺の様子です。これについて、次の問いに答えなさい。



1 にあてはまる海の名を答えなさい。

2 は日本で最も西のはしに位置している島です。 にあてはまる島を次から選んで、記号で答えなさい。

- | | |
|------------------------|------------------------|
| ア ^{いしがき} 石垣島 | イ ^{みやこ} 宮古島 |
| ウ ^{いりおもて} 西表島 | エ ^{よなぐに} 与那国島 |

[問 4] 下線②について、この空港は沖縄県の県庁所在地にあります。沖縄県の県庁所在地の名を答えなさい。

[問 5] 下線③について沖縄県ではさまざまな作物が栽培されています。これについて、次の問いに答えなさい。

1 I の写真は、沖縄の気候に適し、高さが 2 m 以上になるものも多い作物の取り入れの様子です。この作物を次から選んで、記号で答えなさい。

- ア さとうきび イ パイナップル

I



II



答えなさい。

〔問5〕下線①について、沖縄県は多くの島からなりたっています。日本の最も西のはしに位置する島を次から選んで、記号で答えなさい。

ア 西表島 イ 石垣島 ウ 与那国島 エ 宮古島

〔問6〕下線②について、台風にそなえて建てられた、沖縄の昔の家の特色として正しくないものを次から選んで、記号で答えなさい。

- ア 石垣や林で家を囲んでいます。
イ 家全体を低く建てています。
ウ 屋根がわらをしっくいでもめています。
エ 天井やかべに断熱材を使っています。

〔問7〕下線③について、沖縄県の降水量は日本の中でも多い方ですが、水不足になることがあります。その理由を述べた文として正しいものを次から選んで、記号で答えなさい。

- ア 島全体が水を通しやすい岩でできているから。
イ 森林がたくさんあり、水をすいこんでしまうから。
ウ 長い川が多いので、雨水がすぐに海に流れこんでしまうから。
エ ダムがつくられていないから。

〔問8〕沖縄県の農業について、次の問いに答えなさい。

- 1 沖縄県でさかんにつくられている、砂糖の原料となる作物の名を答えなさい。
- 2 沖縄県の農業について述べた文として正しくないものを次から選んで、記号で答えなさい。

- ア ほかの地域ではとれない時期に栽培された、さやいんげんなどを飛行機などで出荷しています。
イ 昔からつくられていたマンゴーにかわって、パイナップルがさかんに栽培されるようになっていきます。
ウ お正月や春のお彼岸に出荷するために、夜、電灯をつけてきくを育てています。

〔問9〕沖縄県には、毎年多くの観光客が訪れます。観光客が訪れる場所の一つに、昔、沖縄にあった琉球王国の国王の城である があります。 にあてはまることばを答えなさい。

【まとめ 解答】

- 1, 南 2, 西表^{いりおもて}(島) 3, 石垣^{いしがき}(島) 4, 沖縄^{おきなわ}(島) 5, 1500
 A, 尖閣^{せんかく}(諸島^{しよとう}) B, 宮古^{みやこ}(島^{じま}) C, 石垣^{いしがき}(島^{じま}) D, 西表^{いりおもて}(島^{じま})
 E, 与那国^{よなぐに}(島^{じま}) F, 沖縄^{おきなわ}(島^{じま})
 ①太平洋^{たいへいよう} ②日本海 ③東シナ海
 6, あたた 7, 多 8, 水不足^{みずぶそく} 9, さとうきび 10, パイナップル
 11, 花 12, 野菜^{やさい} 13, 船 14, 飛行機 15, 石垣 16, 防風林^{ぼうふうりん}
 17, しっくい 18, 台風 19, 1972 20, さんごしょう
 21, デイゴ 22, がじゅまる 23, ヤンバルクイナ 24, やし
 25, マングローブ



がじゅまる



沖縄の県花 デイゴ



ヤンバルクイナ



マングローブ

【練習問題 解答】

練習 1.

- 問 1 ^{たいふう} 台風 問 2 ^{しゅり} 首里 問 3 1 東シナ海 2 エ
 問 4 ^な 那覇 問 5 1 ア 2 きく 問 6 1 つゆ 2 ウ 3 イ

〈解説〉

〔問 2〕沖縄には、首里城のほかにも、さんごしょうの海など、多くの観光地があります。

〔問 3〕1 東シナ海は、中国の東側に広がっている海です。日本は、東シナ海・日本海・太平洋・オホーツク海に囲まれています。(→『考える社会科地図』p. 1)

2 与那国島は台湾に近く、晴れた日には、島から台湾が見えるほどです。

〔問 4〕60年ほど前の戦争で破壊されて以来、沖縄には鉄道がありませんでしたが、2003年、那覇空港駅と首里駅を結ぶモノレールが開通しました。

〔問 5〕2 きくは、太陽の出ている時間が短くなってくると、花をつける習性があります。その習性を利用して、電灯でてらすことによって、さく時期を調節^{ちようせつ}しています。沖縄のきくは、お正月用として12月に、また、お彼岸^{ひがん}用として3月に出荷^{しゅつか}されることになっています。

〔問 6〕1 沖縄では、本州より1か月ほど早く、5月につゆに入ります。

2 折れ線グラフは気温を表し、右側のめもりを利用します。棒^{ぼう}グラフは降水量

を表し、左側のめもりを利用します。ウ：グラフをみると沖縄の1月の降水量が約100mmなのに対して、東京の9月の降水量は200mm以上であることがわかります。

- 3 沖縄では、水不足を防ぐために、地下にダムがつくられているところもあります。アとウは、台風にそなえた、沖縄の家のつくりを説明したものです。

練習 2.

- 問1 イ 問2 県庁所在地の名 那覇 記号 ウ (くんで) 問3 8
問4 つゆ 問5 ウ 問6 エ 問7 ア
問8 1 さとうきび 2 イ 問9 首里

〈解説〉

〔問3〕那覇市の気候グラフを見ると、4月から11月までの8か月間、平均気温が20度をこえていることがわかります。

〔問4〕沖縄では、本州より1か月ほど早く5月に梅雨入りし、6月中に梅雨明けすることが多くなっています。気候グラフから、梅雨の5～6月や、台風がやってくる8～9月の降水量が多いことがわかります。

〔問5〕日本の最も西のはしに位置する与那国島からは、晴れた日には台湾が見えることもあります。

〔問6〕エ：天井やかべに断熱材だんねつざいを使うのは、寒さのきびしい地方の家のくふうです。

〔問7〕沖縄では、島全体が水を通しやすい岩でできているうえ、川が短く、降った雨はすぐに海に流れ出てしまいます。そのため、水不足になることも多くなっています。

〔問8〕2 イ：日照りに強いパイナップルは、さとうきびと同じく沖縄を代表する作物でした。しかし、外国産の安いものが輸入ゆにゅうされるようになり、栽培面積は減へってきています。かわって、マンゴーがさかんに栽培されるようになりました。