

〈まとめ〉

1 日本の海岸線

- ・アメリカは面積では日本の25倍ありますが、海岸線は日本の方が(1)くなっています。
- ・日本は(2)で囲まれているうえ、約7000の(3)があります。また、(4)の複雑な海岸が多いため海岸線が長くなっています。

2 海岸の種類

- ・人の手が加えられていない(5)海岸…日本の海岸のおよそ半分
 - ・おもに砂でできた(6)海岸
 - ・岩や石が多い(7)海岸
- ・コンクリートで固めるなどしてつくられた(8)海岸…港や工場が近くに作られている。
- ・都道府県別の長さでは、(9)や(10)県が長くなっています。(10)県は1000近い(3)があります。

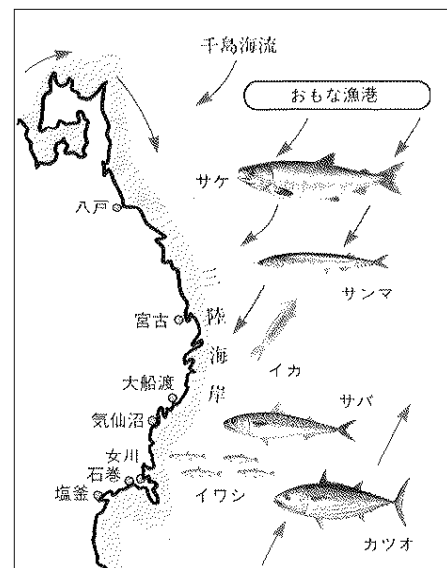
3 砂浜海岸のくらし

- ・千葉県のパシフィック側に、約60kmにわたって弓形の砂浜海岸である(11)が続いています。
- ・砂浜海岸は遠浅で(海や湖が陸地に入りこんだ)(12)が少なく、漁港をつくるには、砂浜を掘らなければならぬからです。
- ・(11)では、昔は(13)漁がさかんでした。今では、観光用に(14)漁が行われています。

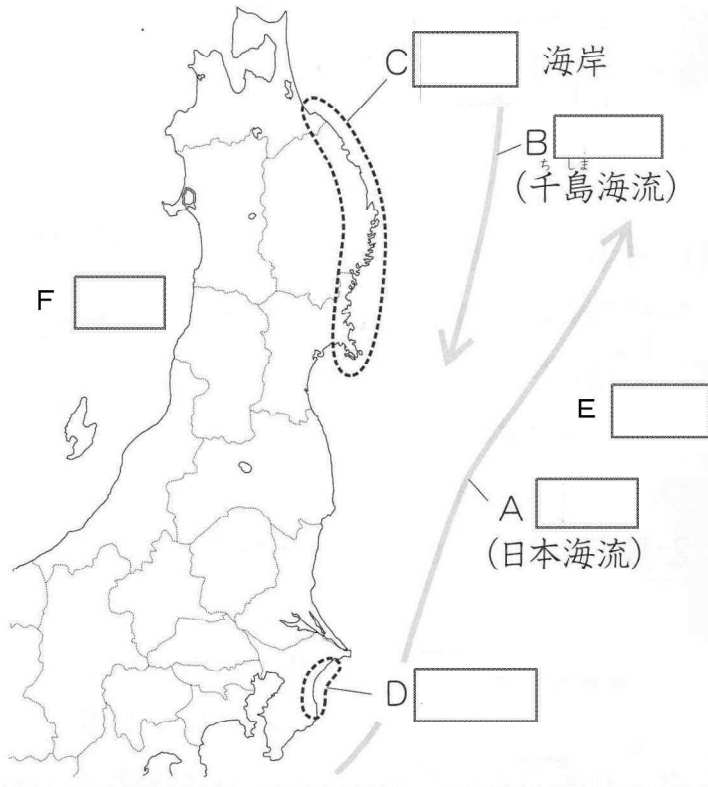


4 岩石海岸のくらし

- ・青森県、岩手県、(15)県、これら三県の太平洋側にある(16)海岸は、大昔、あたたくなって海面が上がったときに、それまでの(17)に海水が入りこんでできました。
- ・このような出入りの多い海岸を(18)海岸といいます。
- ・山が海にせまっているので、農業には向きません。水産業がさかんで、魚や貝などを区切られた場所で育てる(19)にも力を入れています。



5 (『考える社会科地図』を見ましょう。)



練習 1. 日本の海岸について、次の問いに答えなさい。

〔問 1〕人の手が加えられていない、岩石海岸や砂浜海岸などの海岸を何といいますか。

〔問 2〕代表的な岩石海岸である三陸海岸について、次の問いに答えなさい。

- 1 三陸海岸にみられるような、大昔に海面が上がったとき、それまで谷だったところに海水が入りこんでできた海岸を何といいますか。
- 2 次の文の A ・ B にあてはまることばの組み合わせとして正しいものを下から選んで、記号で答えなさい。

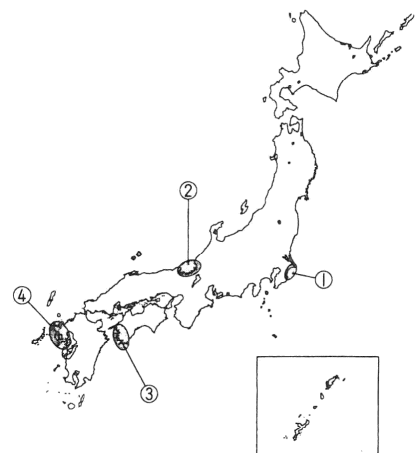
三陸海岸の沖は、暖流の A と寒流の B がぶつかる潮目があり、よい漁場となっています。

- ア A = 親潮 ・ B = 黒潮
 イ A = 親潮 ・ B = 対馬海流
 ウ A = 黒潮 ・ B = 対馬海流
 エ A = 黒潮 ・ B = 親潮

〔問 3〕日本有数の砂浜海岸である九十九里浜を右の地図から選んで、番号で答えなさい。

〔問 4〕日本の海岸について述べた文として正しくないものを次から選んで、記号で答えなさい。

ア アメリカと日本では、面積の大きいアメリカの方

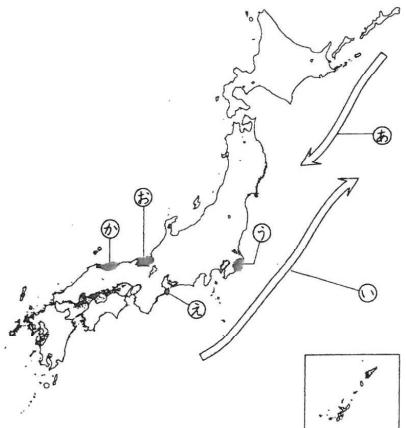


- が海岸線が長くなっています。
- イ 地震によっておこる津波に備えて、防潮堤や防潮林をつくっている海岸もあります。
- ウ 都道府県ごとにみると、長崎県や北海道の海岸線が特に長くなっています。

練習 2. 次の文を読んで、後の問いに答えなさい。

日本は、まわりを海に囲まれています。約 7000 も島があることや、複雑な海岸線が多く見られることなどから、①海岸線の長さは、アメリカよりも長くなっています。出入りの多い海岸としては、青森県から **A** 県・宮城県へと続く、②三陸海岸があげられます。この海岸では、③区切られた場所で魚や貝などを育てる漁業がさかんに行われています。また、三陸海岸の沖合いは、④寒流と暖流のぶつかる⑤潮目ができるため、よい漁場になっています。

一方、砂浜海岸が続くところもあります。その代表は、⑥九十九里浜や鳥取砂丘といえるでしょう。



問 1 **A** にあてはまる県の名を、次の文を参考にして漢字で答えなさい。

A 県の大部分は、昔、陸中国とよばれていました。現在の **A** 県には、宮古港や大船渡港などの漁港があります。

問 2 下線①について、日本の中でも特に長い海岸線をもつ道県として正しくないものを次から選んで、記号で答えなさい。

- ア 長崎県 イ 北海道 ウ 岐阜県

問 3 下線②について、次の問いに答えなさい。

- 三陸海岸は、昔、海面があがったことで、それまでの谷に海水が入り込んでできた、出入りのはげしい海岸です。このような海岸を **B** 海岸といいます。 **B** にあてはまることばをカタカナで答えなさい。
- 三陸海岸では、海底地震の発生などが原因で、 **C** がおしよせて被害が出るがありました。2010年にも、日本から約 1 万 7000km もはなれたチリという国の沖で地震がおきたとき、 **C** が三陸海岸にもおしよせました。 **C** にあてはまることばを答えなさい。

問 4 下線③のような漁業を何といいますか。

問 5 下線④について、上の地図で寒流を示しているものを⑦・⑧から選んで、記号で答えなさい。また、その海流を次から選んで、記号で答えなさい。

- ア 日本海流 イ 千島海流 ウ 対馬海流

問6 下線⑤について、潮目がよい漁場となる理由として正しいものを次から選んで、記号で答えなさい。

ア 魚のえさとなるプランクトンが多くいるから。

イ 地引きあみが使えるから。

ウ 魚を食べる人が多く住んでいるから。

問7 下線⑥について、九十九里浜と鳥取砂丘をそれぞれ地図の㉓～㉗から選んで、記号で答えなさい。

【まとめ 解答】

1. 長 2. 海 3. 島々 4. 出入り 5. 自然 6. 砂浜すなはま
7. 岩石 8. 人工じんこう 9. 北海道 10. 長崎 11. 九十九里浜くじゅうくりはま
12. 入り江いりえ 13. いわし 14. 地引きあみじびきあみ 15. 宮城 16. 三陸さんりく
17. 谷たに 18. リアス 19. 養殖ようしょく
A 黒潮くろしお B 親潮おやしお C 三陸海岸さんりくかいがん D 九十九里浜くじゅうくりはま E 太平洋たいへいよう
F 日本海にほんかい

【練習問題 解答】

練習 1

- [問 1] 自然海岸
[問 2] 1 - リアス海岸 2 - エ
[問 3] ①
[問 4] ア

練習 2

- 問 1 岩手
問 2 ウ
問 3 1 - リアス 2 - 津波
問 4 養殖ようしょく
問 5 ㊸, イ
問 6 ア
問 7 九十九里浜…㊸ 鳥取砂丘…㊹