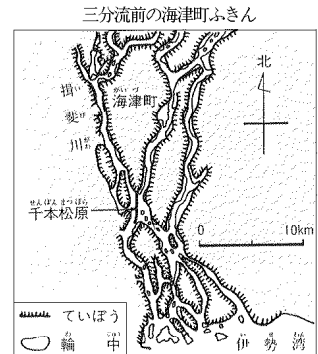


まとめ

1 地形など

- ・海津市は、(1)とよばれる、木曾川・(2)川・揖斐川ぞいに位置しています。
- ・土地が低いため、しばしば洪水になやまされてきました。水害から家屋や田畑をまもるため、まわりに(3)を築きました。
- ・このようにまわりを(3)で、囲まれた土地を(4)といいます。
- ・(5)平野の「濃」は、美濃国(岐阜県南部)を、「尾」は尾張国(愛知県西部)という旧国名からきています。
- ・(5)平野には、(1)によってつくられた、大きな(6)が広がっています。

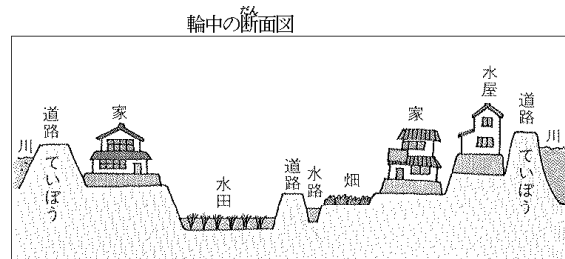


2 洪水とのたたかい


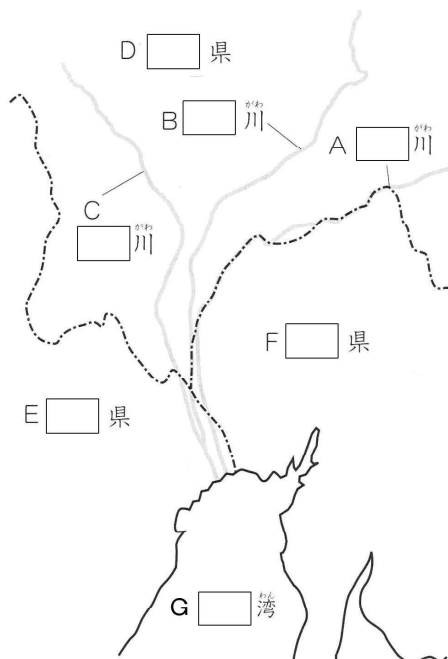
- ・今から約260年前、3つの川の流れを分ける工事が当時の(7)藩(現在の鹿児島県)に命じられました。
- ・明治時代には、(8)から技師が招かれ、25年の歳月をかけて工事が完成しました。

3 洪水にそなえて

- ・洪水にそなえて盛り土をしたり、(9)をくんだりして、家全体を高く造るようにしています。
- ・さらに一段高いところに、(10)とよばれる避難用の建物を造ったりしています。
- ・移動や避難の際には、(11)とよばれる舟が使われました。



4 (『考える社会科地図』を見ましょう。)



練習 1 . 次の文を読んで、後の問いに答えなさい。

〔 A 〕 川・〔 B 〕 川・揖斐川の〔 A 〕 三川とよばれる三つの川が、〔 C 〕 湾に注ぐあたりには、ていぼうで囲まれた低い土地が広がっています。むかしは、ていぼうがつくられる前はもちろん、ていぼうがつくられたあとでも、洪水はなくなりませんでした。このため、江戸時代には幕府が大名に命じて、また、明治時代になってからは、政府の手でしょうぶなていぼうがつくられたり、三つの川を分ける工事がすすめられたため、水害の心配もなくなりました。そして、この地域に住む人々は、水害から生活を守るために、いろいろな工夫や努力を続けてきました。

〔問 1〕 〔 A 〕 ~ 〔 C 〕 にあてはまる川や湾の名をそれぞれ答えなさい。

〔問 2〕 下線 にあてはまるものを次から選び、記号で答えなさい。

ア 水郷 イ 干拓地 ウ 輪中 エ 三角州

〔問 3〕 下線 の理由を述べたものとして次の 1 ~ 3 文が正しいければ、まちがっていれば × でそれぞれ答えなさい。

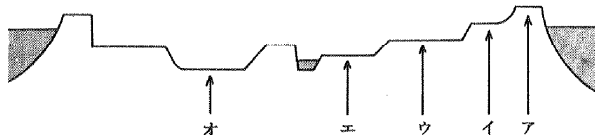
- 1 大雨でていぼうがこわれると、かえって水の流がさがまたげられるから。
- 2 川底に土砂がつもって、川底が高くなってしまふから。
- 3 ていぼうのため、かえって水の流がが悪くなってしまったから。

〔問 4〕 下線 に関係の深い藩を次から選んで、記号で答えなさい。

ア 加賀藩 イ 仙台藩 ウ 薩摩藩 エ 水戸藩


〔問 5〕 下線 について、次の問いに答えなさい。

- 1 右図のような家を何といいますか。またこのような家が建てられている場所を次から選んで記号で答えなさい。



- 2 右図の D の使いみちとして正しいものを次から選んで、記号で答えなさい。

ア 通勤用 イ ひなん用 ウ 観光用 エ 漁業用



練習2 . 海津市について、次の問いに答えなさい。

〔問1〕 海津市がある県の名を答えなさい。

〔問2〕 海津市がある平野の名を答えなさい。

〔問3〕 海津市がある平野には木曾三川が流れています。

川の名と地図中の位置の組み合わせとして正しいものを次から選び、記号で答えなさい。

ア 揖斐川 = あ ・ 長良川 = い ・ 木曾川 = う

イ 揖斐川 = う ・ 長良川 = あ ・ 木曾川 = い

ウ 揖斐川 = う ・ 長良川 = い ・ 木曾川 = あ

〔問4〕 海津市とその周辺は土地が低いので、水害から家や田畑を守るために土地のまわりを堤防で囲んできました。このような堤防で囲まれた土地をなんといいますか。

〔問5〕 右の絵のは、かつて水害の時の避難用に家よりも一段高いところにつくられた建物です。この建物の名を漢字2字で答えなさい。

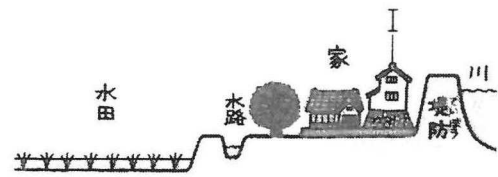
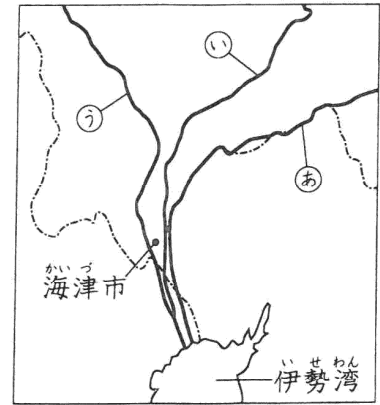
〔問6〕 海津市の現在のようすについて述べた文

として正しくないものを次から選んで、記号で答えなさい。

ア 暗きよ排水によって、耕地を水田と畑のどちらにも使えるようになりました。

イ 毎年のように洪水が発生するので、水防訓練を欠かすことはできません。

ウ 木曾三川に橋がかかり、名古屋などへ自動車通勤する人もいます。



【まとめ 解答】

- 1 . 木曾^{きそ}三川^{さんせん} 2 . 長良^{ながら} 3 . 堤防^{ていぼう} 4 . 輪中^{わじゅう} 5 . 濃尾^{のうび} 6 . 三角州^{さんかくす}
7 . 薩摩^{さつま} 8 . オランダ 9 . 石垣^{いしがき} 10 . 水屋^{みずや} 11 . 田舟^{たふね}
A 木曾 B 長良^{ながら} C 揖斐^{いび} D 岐阜 E 三重 F 愛知
C 伊勢^{いせ}

【練習問題 解答】

練習 1 .

問 1 A 木曾(川) B 長良(川) C 伊勢(湾)

問 2 ウ

問 3 1 × 2 3 ×

問 4 ウ

問 5 1 水屋・イ(くんで) 2 イ

練習 2 .

問 1 岐阜県

問 2 濃尾平野

問 3 ウ

問 4 輪中

問 5 水屋

問 6 イ