

〈まとめ〉

1 地形

- ・まわりを山にかこ囲まれた(1)では、日当たりの良い斜面しやめんがおおく、まわりの山が(2)を防ぐため、くだもの実が(2)で落とされることもありません。
- ・雨が少なく(3)はけが良い土地は、くだものせいいく生育てきに適しています。
- ・川が山地から平地へ流れ出るところには、運ばれた土砂どしやがたまりゆるやかな(4)地が形成されます。
- ・山梨県を流れる川が(5)盆地ぼんちの南で合流し、流れの速いことで知られる(6)川かわとなります。
- ・日本の川の特徴は、流れが(7)で(8)いことです。

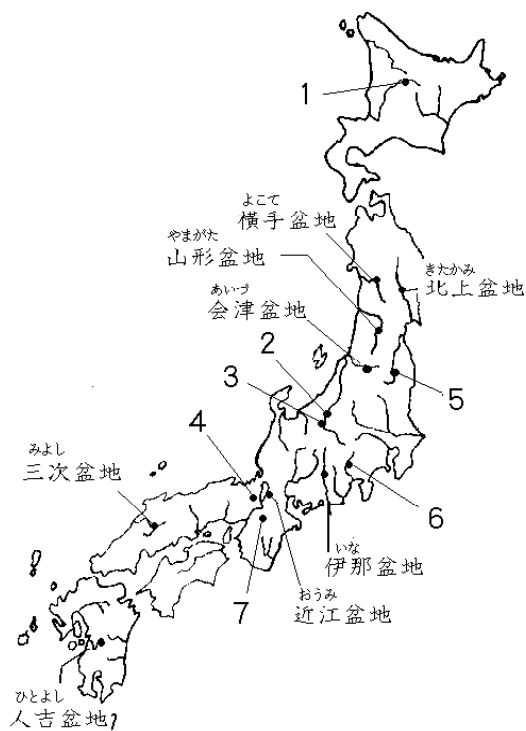
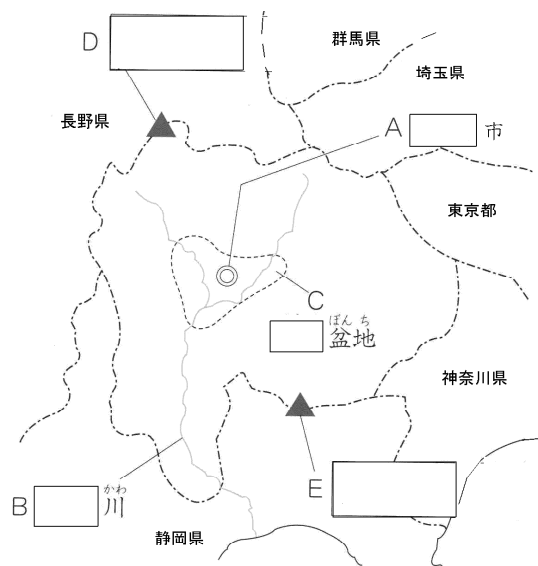
2 気候

- ・盆地では(9)や雲がまわりの山々にさえぎられるため、降水量が(10)い。
- ・海に面していないため、海に面している平野とくらべると気温の差が(11)い。

3 農業

- ・雨が少なく、水はけのよい扇状地せんじょうちは(12)の栽培さいばいに適しています。
- ・(12)の葉は、かいこのえさとなるので、昔から(13)がさかんでした。
- ・石油からつくられる(14)せんいが広まったため、生糸きいとが売れなくなり(13)はおとろえました。
- ・(13)とは、かいこを飼って、(15)を生産する産業です。(15)からは絹織物の原料である生糸がとれます。
- ・くだものづくりでは、山梨県は(16)や(17)の生産で日本一となっています。

4 (『考える社会科地図』を見ましょう。右の図は盆地ぼんちです。)



練習 1. 次の文を読んで、後の問いに答えなさい。

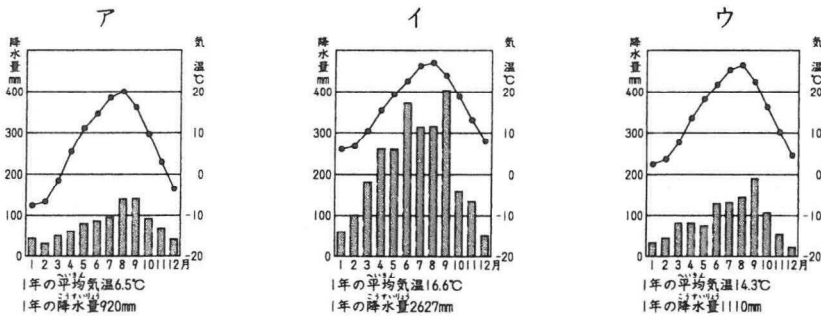
地形 … まわりを山で囲まれている。
 ①おうぎのような形をした、ゆるやかに傾斜した土地がみられる。

②気候 … 夏と冬の気温の差、昼と夜の気温の差がおおきい。

農業 … かつては③養蚕がさかんだった。
 現在は④くだものづくりがさかん。

〔問 1〕 下線①のような地形を何といいますか。

〔問 2〕 下線②について、甲府盆地の気候グラフを次から選んで、記号で答えなさい。



〔問 3〕 下線③について、養蚕に関係が深い地図記号を次から選んで、記号で答えなさい。

ア ●●● イ ヽ ウ △ エ || 〃 〃

〔問 4〕 下線④について、次の問いに答えなさい。

1 右のグラフは、あるくだもの県別生産割合を示しています。グラフが示すくだもの名を答えなさい。

やまなし 山梨	ふくしま 福島	長野	その他
32%	22	13	33

2 甲府盆地がある県について述べた文として正しいものを次から選んで、記号で答えなさい。

- ア 三大急流の一つ、信濃川が流れています。
- イ 海に面していない県です。
- ウ 静岡県とは接していません。

(2015年)

練習 2. 山梨県各地からのレポートを読んで、後の問いに答えなさい。

三大急流からのレポート

わたしは、①三大急流に数えられる川に来ています。この川は、②多くの川が途中で合流して、ここまで流れてきています。ここからさらに静岡県に向かって、山と山の間を流れ下っていきます。上流では、③山地から平地に出るところに、土砂が積もってできたゆるやかな傾斜地が見られます。

問 1 下線①について、この川の名を答えなさい。また、三大急流にふくまれない川を次

から選んで、記号で答えなさい。

ア 最上川 イ 木曾川 ウ 球磨川

問2 下線②について、山梨県の中央部にある盆地の南のはし付近で、2つの川が合流します。この盆地の名を答えなさい。

問3 下線③について、このような傾斜地を何といいますか。次から選んで、記号で答えなさい。

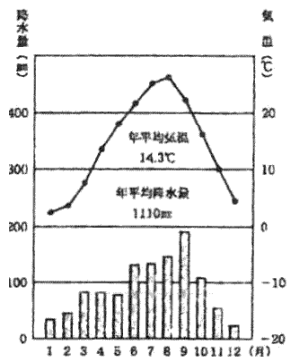
ア 扇状地 イ 輪中 ウ 三角州

気象台からのレポート

わたしたちは、山梨県にある気象台に来ています。盆地に位置する県庁所在地の気候グラフを見ながら、その気候の特色を教えてくださいました。気温は、一年を通じて東京より少し低い程度ですが、夏と冬の気温の差、昼と夜の気温の差が大きいという特色があるそうです。また、降水量は東京よりも少ないそうです。

問4 気候グラフから読みとれることとして正しくないものを次から選んで、記号で答えなさい。

ア 8月の降水量が最も多く、1月が最も少なくなっています。
イ 11月の月平均気温はおよそ10℃です。
ウ 平均気温が、0℃を下回る月や、30℃を上回る月はありません。



問5 盆地で降水量が少なくなる理由として正しいものを次から選んで、記号で答えなさい。

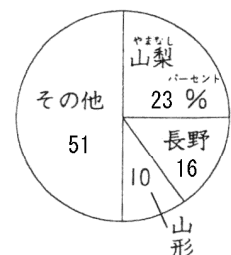
ア 梅雨がないから。 イ 冬に南東の季節風がふくから。
ウ まわりを山に囲まれているから、

くだもの畑からのレポート

わたしは、くだもの畑に来ています。④山梨県はくだもの栽培がとてさかんで、日本一の生産量をほこっているものもあります。昔は、⑤養蚕業を行っていましたが、化学せんいが広まったことで、くだものづくりにきりかえた農家が多いそうです。

問6 下線④について、右のグラフはあるくだもの県別生産量の割合を示したものです。(2015年)このくだものは何ですか。

問7 下線⑤について、養蚕業とは、蚕を飼って、生糸の原料となる□を生産する産業です。□にあてはまることばをひらがな2字で答えなさい。また、蚕は何をえさにして育ちますか。次から選び、記号で答えなさい。



ア ビートの葉 イ くわの葉 ウ いちごの葉 エ すぎの葉

【まとめ 解答】

1. 盆地^{ぼんち} 2. 風(季節風)^{せんじょうふう} 3. 水 4. 扇状^{せんじょう}地 5. 甲府^{こうふ} 6. 富士^{ふじ}
7. 急^{きゅう} 8. 短^{みじか} 9. 季節風 10. 少な 11. 大き 12. くわ
13. 養蚕^{ようさん} 14. 化学 15. まゆ 16. 17. ぶどう・もも
A 甲府^{こうふ} B 富士 C 甲府 D 八ヶ岳^{やつがたけ} E 富士山^{ふじさん}
1 上川^{かみかわ}盆地 2 長野^{ながの}盆地 3 松本^{まつもと}盆地 4 京都^{きょうと}盆地 5 郡山^{こおりやま}盆地
6 甲府^{こうふ}盆地 7 奈良^{なら}盆地

【練習問題 解答】

練習 1.

- [問 1] 扇状^{せんじょうち}地
[問 2] ウ
[問 3] イ
[問 4] 1…もも 2…イ

練習 2.

- [問 1] 富士川 記号…イ
[問 2] 甲府盆地
[問 3] ア
[問 4] ア
[問 5] ウ
[問 6] ぶどう
[問 7] まゆ, イ