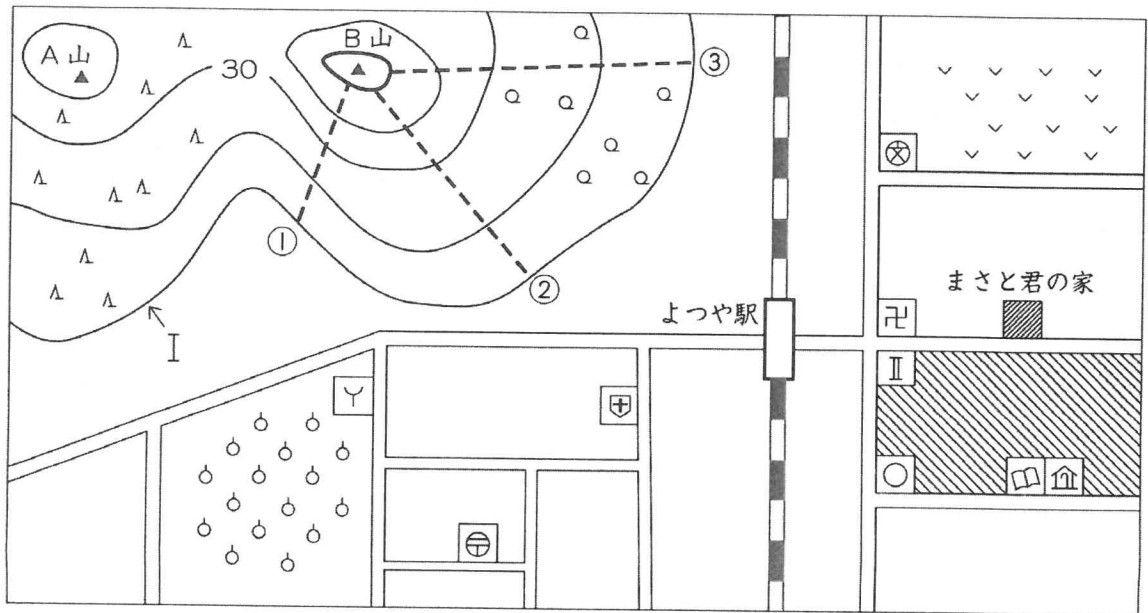


題目	総	合
----	---	---

- ※ 問題用紙は、(その1)から(その3)までありますから、注意してください。
- ※ 答えは、別紙の解答らん^{べつし かいどう}に書き入れなさい。

1
16

次の地図は、縮尺^{しゆくしゃく} 25000分の1の地図です。これを見て、後の問いに答えなさい。



- 問1 地図はふつう、上が あ になっています。 あ にあてはまる^{よんほうい} 四方位を漢字1字で答えなさい。
- 問2 Iのように海から同じ高さのところを結んだ線を何といいますか。
- 問3 IIには警察署^{けいさつしよ}があります。警察署の地図記号を次から選んで、記号で答えなさい。
- ア ⊗ イ ⊙ ウ ☀ エ ✕
- 問4 A山とB山について、次の問いに答えなさい。
- 1 A山の斜面^{しゃめん}に広がっているものを次から選んで、記号で答えなさい。
- ア 茶畑 イ 針葉樹林^{しんようじゆりん} ウ 田 エ 広葉樹林
- 2 B山の①~③のうち、かたむき^{もつと}が最も急なところを選んで、番号で答えなさい。
- 問5 まさと君の家からよつや駅まで地図上で4 c m あります。実際の距離^{じつさい きょり}を次から選んで、記号で答えなさい。
- ア 100 m^{メートル} イ 500m ウ 1000m エ 5000m
- 問6 病院の前から郵便局^{ゆうびんきょく}に行くのに最も近い道を通ると、道の角を ㉑ 回曲がります。 ㉑ にあてはまる数字^{すうじ}を答えなさい。
- 問7 この地図から読みとれることとして正しいものを次から選んで、記号で答えなさい。
- ア よつや駅からまさと君の家にまっすぐのびる道の途中^{とちゆう}に、神社があります。
- イ 小学校はありますが、高等学校はありません。
- ウ 図書館^{はくぶつかん}と博物館^たはとなりあって建っています。
- エ 消防署の近くにはくだもの畑^{しょうぼうし}が広がっています。

2

次の文を読んで、後の問いに答えなさい。

沖縄県は、日本列島の南西のはし近くに位置し、県庁所在地の **A** 市がある沖縄島をはじめ、① 160あまりの島々からなっています。② 1年を通して気温が高く、1月にはさくらが咲き始めるところもあります。また、夏から秋にかけては③ 台風が近づくことが多く、④ 雨が多く降るといふ特色もあります。

沖縄県では、昔から砂糖の原料になる **B** の栽培がさかんでした。しかし、取り入れが大変なことや、外国から入ってくる安い砂糖とのきびしい競争などのため、長い間に生産量は減ってきました。現在は、冬でもあたたかい気候を利用して、⑤ ほかのところではとれない時期に野菜や花をつくり、東京などへ飛行機などを使って出荷しています。

また、沖縄県にはさんごしょうの海や、⑥ 昔、沖縄にあった王国の国王の城を復元した文化遺産などがあり、多くの観光客が訪れています。

問1 **A** にあてはまる都市の名を答えなさい。

問2 **B** にあてはまる作物の名を答えなさい。

問3 下線①について、沖縄県で最も西に位置する島は、日本で最も西にある島でもあります。この島を次から選んで、記号で答えなさい。

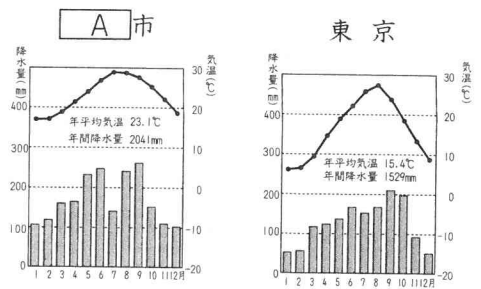
- ア 石垣島 イ 宮古島 ウ 西表島 エ 与那国島

問4 下線②について、右のグラフは **A** 市と東京の気候を示したものです。この2つのグラフから読みとれることとして正しいものを次から選んで、記号で答えなさい。

ア **A** 市の1月の平均気温と、東京の7月の平均気温はほぼ同じです。

イ **A** 市の平均気温が20℃以上になる月は8か月あります。

ウ 5月の降水量は、東京の方が多くなっています。



問5 下線③について、沖縄県の家には、昔も今も台風に備えたさまざまな工夫が見られます。台風に備えた工夫として正しくないものを次から選んで、記号で答えなさい。

- ア 屋根の上に給水タンクを取りつけています。 イ 石垣や林で家を囲んでいます。
 ウ 屋根がわらがしっくいできられています。 エ 家全体が低く建てられています。

問6 下線④について、沖縄県では雨が多く降りますが、少し日照りが続くと水不足になることがあります。その理由について述べた文として正しいものを次から選んで、記号で答えなさい。

- ア 川が短く、降った雨水がすぐに海に流れ出てしまうため。
 イ ダムがつくられていないため。
 ウ 島全体が水を通しにくい岩できているため。

問7 下線⑤について、おもにお正月用やお彼岸用として出荷するため、電灯を照らしながら時期をずらして栽培しているものを次から選んで、記号で答えなさい。

- ア パイナップル イ さやいんげん ウ きく

問8 下線⑥の城の名を答えなさい。

3

18

まり子さんは、「わたしたちのくらしと水やごみ」について作文を書きました。これを読んで、後の問いに答えなさい。

学校で手を洗ったり、家でふろに入ったりするときなどには水道水を使います。その水道水をつくるところが **A** 場です。 **A** 場では、①川などから取り入れた水をきれいに処理し、安全に使うことができる水をつくっています。わたしたちが毎日の生活をとおして使った生活排水は、下水道を通り②下水処理場に集められます。そこでよごれが取りのぞかれ、川や海などに流される水もあれば、再生処理施設に送られ、もう一度使える③再生水につくりかえられる水もあります。水は、わたしたちが生活するうえで必要な資源なので、④日ごろから大切に使うように心がけたいと思います。

また、生活をしていると必ず出てしまうのがごみです。⑤家庭などのごみは、種類ごとにわけて出すようになっています。ごみだったものが、工場で新しい製品に生まれかわり再利用されることもあります。これを **B** というそうです。限りある資源を有効に使うことも大切ですが、生活の中で⑥ごみをできるだけ少なくする工夫をすることはもっと大切だと思います。

問1 **A** にあてはまることばを答えなさい。

問2 **B** にあてはまることばをカタカナで答えなさい。

問3 下線①について、次のア～ウは、川の水から水道水をつくるまでの作業を示しています。このうち、2番目に行われる作業を選んで、記号で答えなさい。

ア 水をろ過します。 イ 水を消毒します。 ウ 水の中のごみや砂を沈めます。

問4 下線②について、下水処理で出たどろは、うめたてられるか **C** などに加工されます。 **C** にあてはまるものを次から選んで、記号で答えなさい。

ア カーペット イ ペットボトル ウ れんが

問5 下線③の使い道として正しくないものを次から選んで、記号で答えなさい。

ア 公園の噴水 イ 水洗トイレの水 ウ 災害のときの飲み水

問6 下線④について、水を大切にするためにできることとして正しくないものを次から選んで、記号で答えなさい。

ア 車を洗うときは、バケツに水をためて使います。
イ 歯をみがくときは、みがき終わるまで水を出したままにしておきます。
ウ トイレでは大小のレバーを使い分けます。

問7 下線⑤について、次の問いに答えなさい。

1 燃やせるごみは、ごみ収集車が回収し、 **D** 工場に運ばれて燃やされます。 **D** にあてはまることばを答えなさい。

2 ふつう資源ごみとして出すものを次から選んで、記号で答えなさい。

ア ゴムの長ぐつ イ 新聞紙 ウ 調理をしたときの生ごみ

問8 下線⑥について述べた文として正しいものを次から選んで、記号で答えなさい。

ア 買い物したものを持って帰るための袋を、店で毎回もらうようにします。
イ 値段が安いときには、食べきれないとわかっていても多めに買っておきます。
ウ シャンプーや洗剤は、中身をつめかえて使うようにします。
エ こわれたものは修理せずに、新しいものをすぐ買うようにします。

題目	総	合
----	---	---

※ 問題用紙は、(その1)から(その3)までありますから、注意してください。

※ 答えは、別紙の解答らん(べつし かいとう らん)に書き入れなさい。

1

次の文を読んで、後の問いに答えなさい。

①沖縄県では、昔から砂糖の原料となる **A** が栽培されてきました。**A** は、一年中あたたかくて雨の多い沖縄の気候に適した作物といえます。また、②台風(たいふう)のときに吹く強い風にも強い作物です。しかし、後をつぐ人の不足や外国から入ってくる安い砂糖が増えたことなどから、栽培面積や生産量は減ってきています。近年は、わりあい高い値段で売れるくだものや、野菜、③花の栽培がさかんになってきました。

昔、沖縄にあった **B** 王国の時代の建物やさんごしょうの海などには、多くの観光客がやって来ます。そのため、観光に関する仕事についている人が多くなっています。

問1 **A** にあてはまる作物の名を答えなさい。

問2 **B** 王国は、約600年前~約140年前に沖縄にあった王国です。**B** にあてはまることばを答えなさい。

問3 下線①について、次の問いに答えなさい。

1 沖縄県の県庁所在地の名を答えなさい。

2 右のグラフは、1の都市の気候グラフです。このグラフから読みとれることとして正しいものを次から選んで、記号で答えなさい。

ア 8月と9月は、梅雨の影響で特に降水量が多くなっています。

イ 平均気温が20℃以上の月は、8か月あります。

ウ 最も降水量が少ない月は7月です。

3 沖縄県は多くの島々から成り立っていて、日本の最も西に位置する島も沖縄県に属しています。この島を次から選んで、記号で答えなさい。

ア 西表島

イ 石垣島

ウ 宮古島

エ 与那国島

4 沖縄県は、かつて **C** 軍が沖縄島に上陸して激しい戦いが行われたところで、現在も **C** 軍の基地が多く残されています。**C** にあてはまる国を次から選んで、記号で答えなさい。

ア アメリカ

イ フランス

ウ イギリス

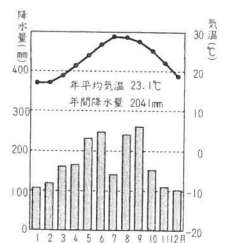
問4 下線②について、沖縄県の昔の家に見られる台風(たいふう)に備えた工夫として正しいものを次から選んで、記号で答えなさい。

ア 強い風に備えて石垣や林で家を囲んでいます。

イ 屋根がとばされないように、屋根がわらがシーサーでとめられています。

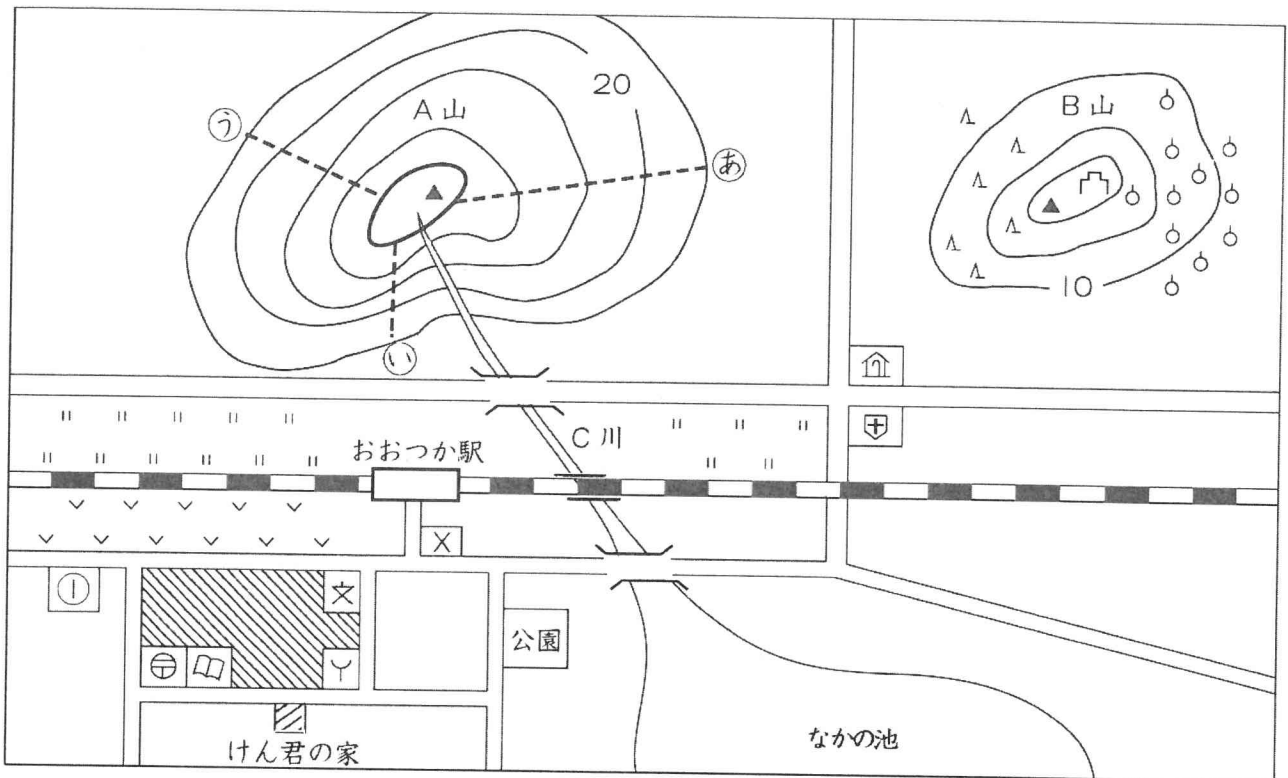
ウ 降った雨水をためておく給水タンクを屋根の上に取りつけています。

問5 下線③について、沖縄県で栽培されている **D** は、おもに12月や3月に出荷するために、電灯をつけて開花の時期をずらしています。**D** にあてはまる花の名をひらがな2字で答えなさい。



2
16

次の地図は、縮尺 25000分の1の地図です。これを見て、後の問いに答えなさい。



問1 A山とB山について、次の問いに答えなさい。

- A山の㉒～㉓のうち、かたむきが最もゆるやかなところを選んで、記号で答えなさい。
- B山に見られるものとして正しくないものを次から選んで、記号で答えなさい。
ア 城あと イ 針葉樹林 ウ 広葉樹林
- A山とB山の高さの差に最も近いものを次から選んで、記号で答えなさい。
ア 5 m イ 20m ウ 45m エ 60m

問2 おおつか駅から見て、公園はどの方位にありますか。八方位で答えなさい。

問3 ①には神社があります。これについて、次の問いに答えなさい。

1 神社を表す地図記号を次から選んで、記号で答えなさい。

- ア イ ウ エ

2 けん君の家から①の神社までは地図上ではかると直線で4 c m あります。実際の距離を次から選んで、記号で答えなさい。

- ア 50m イ 100m ウ 500m エ 1000m

問4 けん君が家を出て小学校に行くとき、最も近い道を通ると必ず前を通る建物は何ですか。次から選んで、記号で答えなさい。

- ア 消防署 イ 図書館 ウ 病院 エ 保健所

問5 この地図から読みとれることとして正しいものを次から選んで、記号で答えなさい。

- ア 郵便局と博物館はとなりあって建っています。
イ C川には、橋が1つだけかかっています。
ウ 線路の北側には、田が広がっているところがあります。
エ おおつか駅の前には警察署があります。

3

次の文を読んで、後の問いに答えなさい。

わたしたちは、毎日の生活の中でたくさんの水を使っています。①森林に降った雨や雪などは川へ流れ出し、**A**場に取り入れられます。そこで②安全に使うことができるように処理され、きれいな水道水としてわたしたちのところに運ばれてくるのです。③家庭などへ送られた水道水は、日常生活の中で使われ、使い終わった生活排水は、下水処理場ではごれを取りのぞいてから川や海へ流されます。再生処理施設で④再生水につくりかえられ、わたしたちのくらしでもう一度使われる水もあります。わたしたちの生活に欠かせない水は、限りある貴重な資源です。日ごろから⑤水を大切に使うよう、一人ひとりが心がけていかななくてはなりません。

また、わたしたちの生活ときりはなせないものに⑥ごみがあります。家庭などからごみを出すときは、種類ごとに分けて出します。出されたごみのうち、燃やせるごみは**B**工場へ運ばれます。⑦資源として使えるごみは、工場ではほかのものにつくりかえられ、再利用されています。わたしたちは、毎日、あたりまえのようにごみを出してはいますが、少しでも⑧ごみの量を減らすために何ができるのかを考えていく必要があります。

問1 **A**・**B**にあてはまることばをそれぞれ答えなさい。

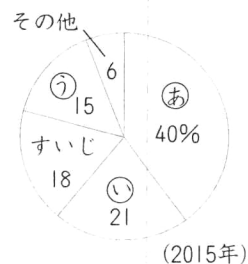
問2 下線①について、森林は、降った雨や雪をたくわえ、水をきれいにすることはたつきがあるため、「緑の**C**」とよばれています。**C**にあてはまることばをカタカナ2字で答えなさい。

問3 下線②について、川の水から水道水をつくる作業を示した次のア～ウのうち、最初に行われる作業を選んで、記号で答えなさい。

ア 水を消毒します。 イ 水をろ過します。 ウ 水の中のごみや砂を沈めます。

問4 下線③について、右のグラフは東京都の家庭で使われる水の割合です。①～⑦には次のいずれかがあてはまります。①にあてはまるものを次から選んで、記号で答えなさい。

ア ふろ イ 洗濯 ウ トイレ



問5 下線④について、再生水の使い道として正しくないものを次から選んで、記号で答えなさい。

ア 水洗トイレの水 イ 公園の噴水 ウ 食事のしたくをするときの水

問6 下線⑤・⑧のためにできることとして正しくないものを次から選んで、記号で答えなさい。

ア 洗濯には、ふろの残り湯を使います。
 イ 歯をみがくときは、水をだしばなしにしないでコップに水をくんで使います。
 ウ 買い物に行くときは、袋をもらわなくてもいいように自分のかごや袋を持って行きます。
 エ 洗剤やシャンプーの容器は、中身を使い終わったら捨てて、新しいものを買うようにします。

問7 下線⑥のなかで、ふつう、粗大ごみとして出すものを次から選んで、記号で答えなさい。

ア 新聞紙 イ たんす ウ 茶わん エ 魚のほね

問8 下線⑦のことを何といいますか。カタカナで答えなさい。また、ペットボトルは、工場では何につくりかえられ再利用されますか。次から選んで、記号で答えなさい。

ア タイル イ トイレットペーパー ウ カーペット エ アルミかん